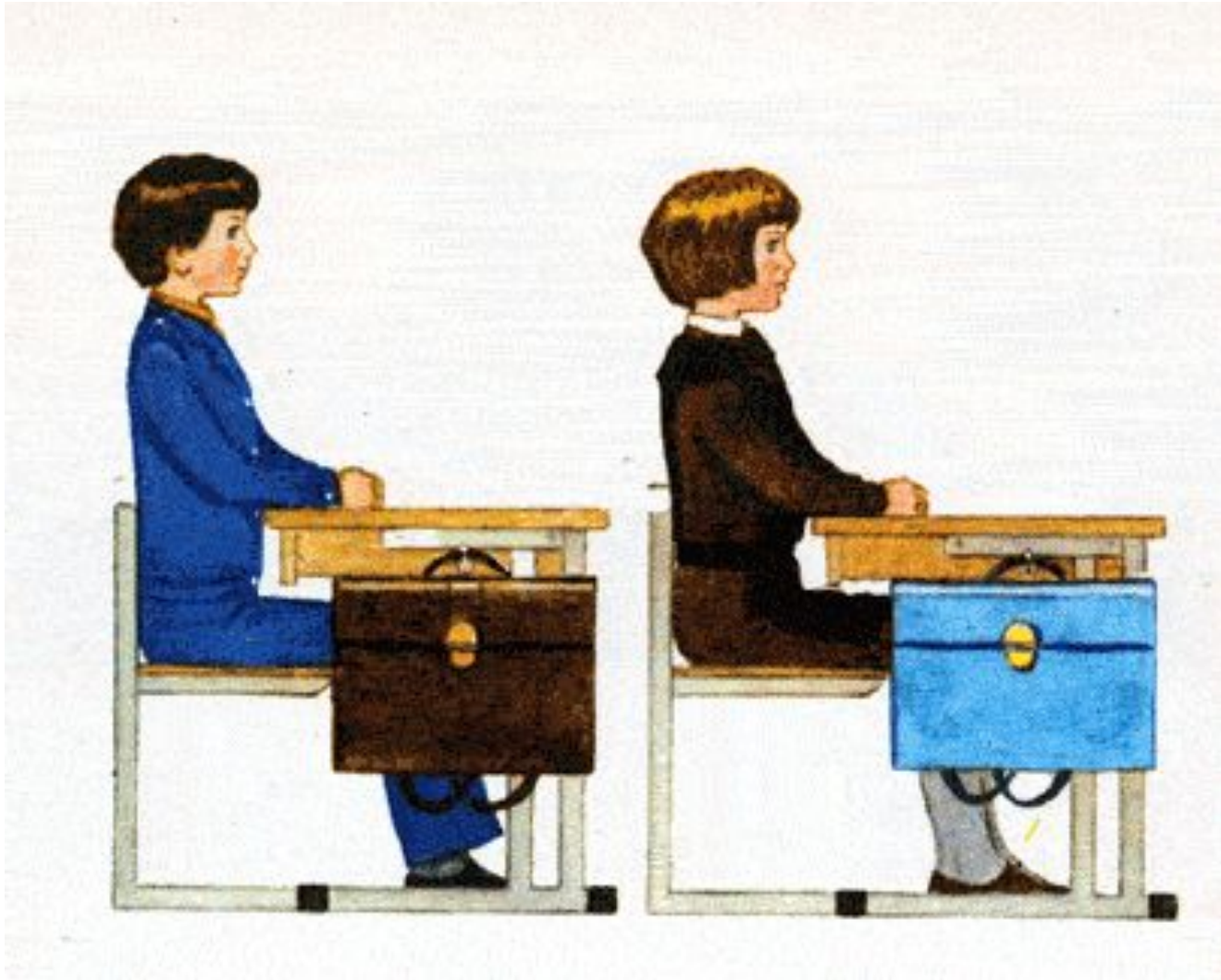


Тема урока:

«Вычитание вида $12 - \square$, $3 - \square$ »

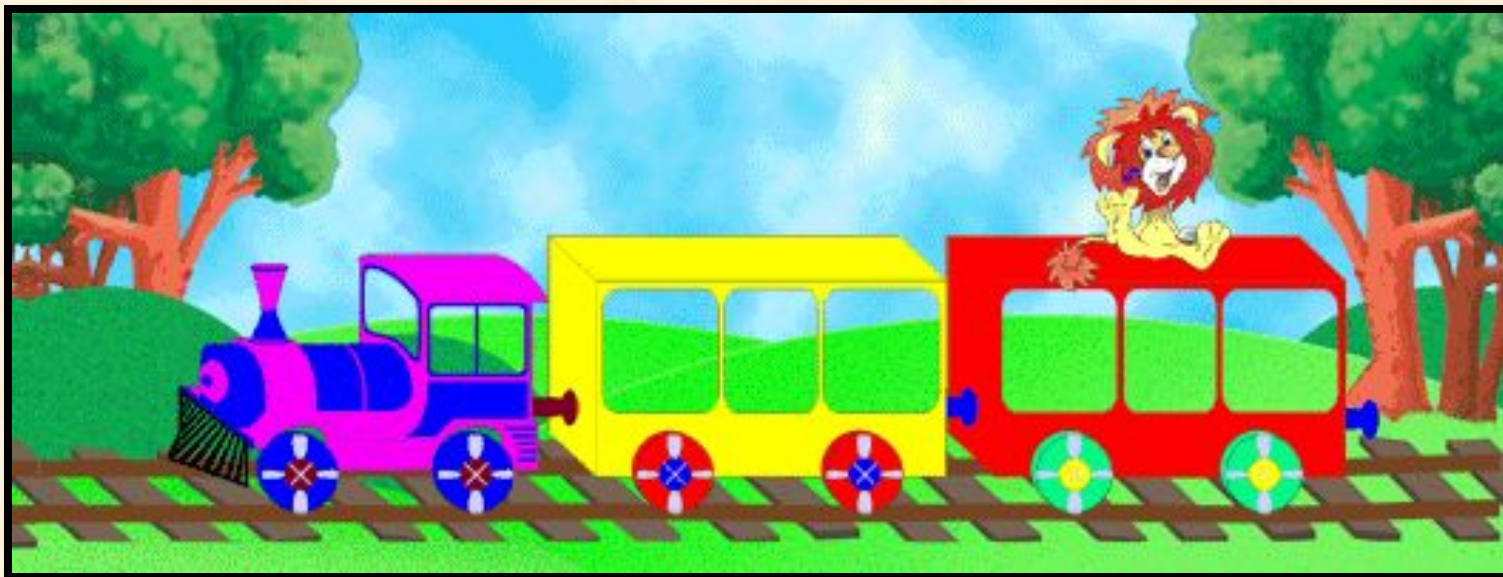
Правильно сиди при писъме



УСТНЫЙ СЧЁТ



**3 человека ждали поезда 3 часа.
Сколько времени ждал каждый?**



Петя слабее Коли. Петя сильнее Гриши. Кто самый слабый?



25964821
Klara Vekoval | Dreamstime.com



Download from
Dreamstime.com
This watermark comp image is for previewing purposes only.



Ответ: Гриша

.

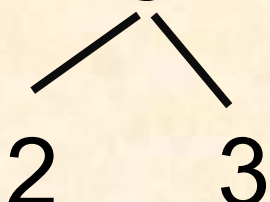
Тема: Приём вычитания **12** -




13 -



Вычитать будем по частям. Вычитаем первую часть до 10: $12 - 2 = 10$, а потом из 10 вычитаем 3, равно 7.

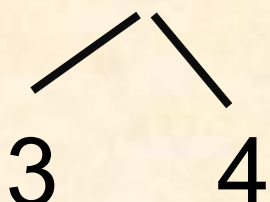
$$12 - 5 = 12 - 2 - 3 = 7$$


Мы знаем, что **12** - это **5** и **7**, можно
решить и так:


$$12 - 5 = 7$$


5 **7**

Вычитать будем по частям. Вычитаем первую часть до 10: $13 - 7 = 10$, а потом из 10 вычитаем 4, равно 6.

$$13 - 7 = 13 - 3 - 4 = 6$$


Мы знаем, что **13** - это **6** и **7**, можно
решить и так:


$$13 - 6 = 7$$


6 **7**

12 мая.
Классная работа.



РАБОТА ПО УЧЕБНИКУ



Стр.83 № 3




физкультминутка

**Буратино потянулся,
Раз нагнулся,
Два нагнулся,
Руки в стороны развёл,
Ключик, видно, не нашёл.
Чтобы ключик нам достать,
Нужно на носочки встать.**



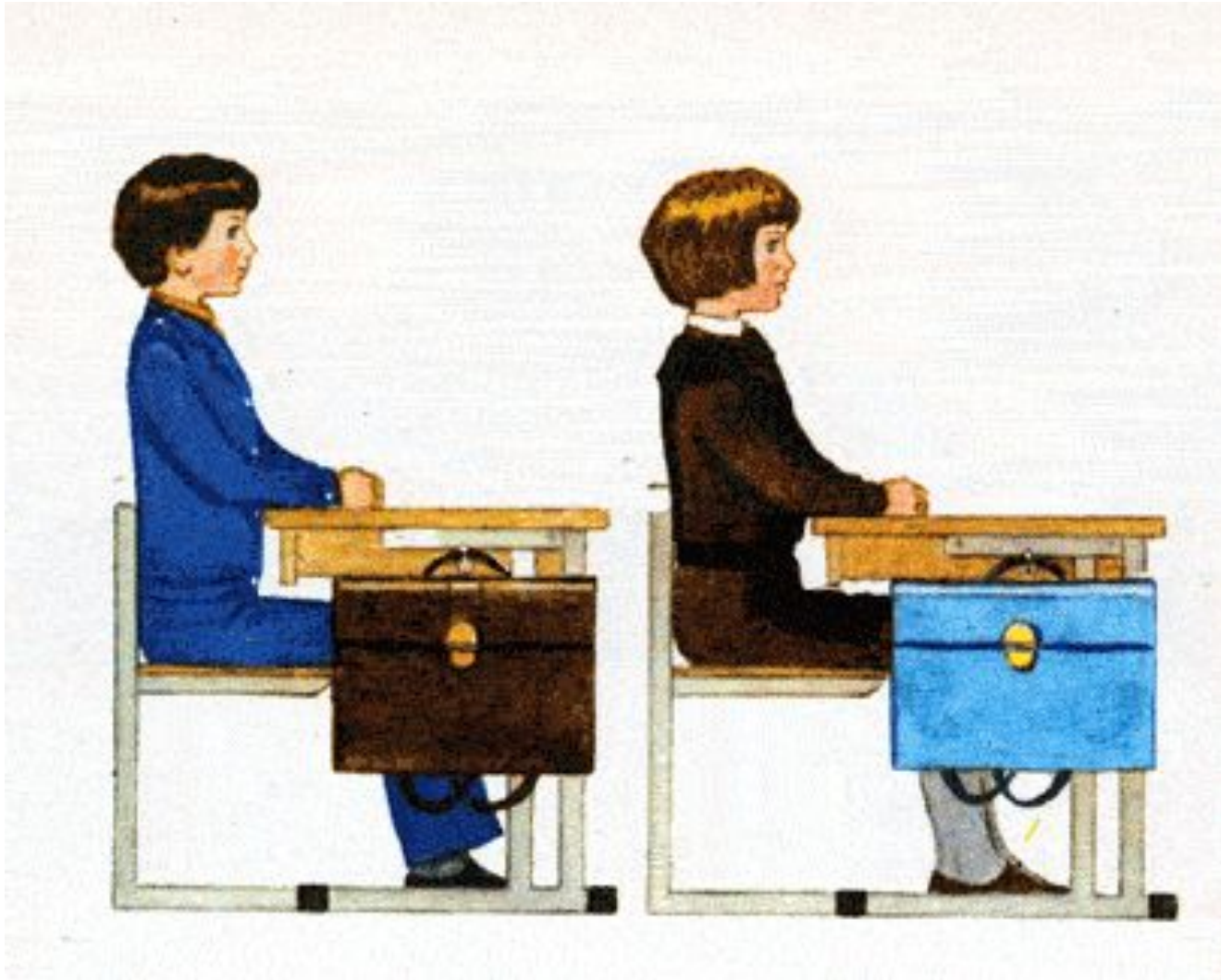
РАБОТА ПО УЧЕБНИКУ




Стр.84 № 1 (1,2,3 столбики)



Правильно сиди при писъме



РАБОТА ПО УЧЕБНИКУ




Стр.83 № 4 записать в тетрадь , проверка ниже

№ 4

1д.- 4 иг.

2д.- ? на 2 иг.б




1) $4 + 2 = 6$ (иг.) 2д

2) $4 + 6 = 10$ (иг.) всего

Ответ: 10 иг. всего

РАБОТА ПО УЧЕБНИКУ



Стр.84 № 5 записать в тетрадь , проверка ниже



№ 5

$17 \text{ } \overset{\circ}{=} \text{ } 10 + 7$

$19 \text{ } \overset{\circ}{=} \text{ } 20 - 1$

$1 \text{ дм } 2 \text{ см } \overset{\circ}{<} \text{ } 13 \text{ см}$

$1 \text{ дм } 5 \text{ см } \overset{\circ}{<} \text{ } 20 \text{ см}$



**Стр.43 №2 (до
черты)**

Итог урока

- Что учились делать на уроке?
- Как вычесть число по частям?

*Чтобы вычесть число по частям
нужно вычесть до 10, а потом
вычесть то что осталось.*

- Кто считает, что сегодня хорошо потрудились?

Урок закончен.
Всем спасибо!!!

