

9 ЧИСЛО ДЕВЯТЬ И ЦИФРА 9



**В ГОСТИ К НАМ ПРИШЛА
ДЕВЯТКА –
ЦИРКОВАЯ АКРОБАТКА.
ЕСЛИ НА ГОЛОВУ
СТАНЕТ, ЦИФРОЙ ШЕСТЬ
ДЕВЯТКА СТАНЕТ.**



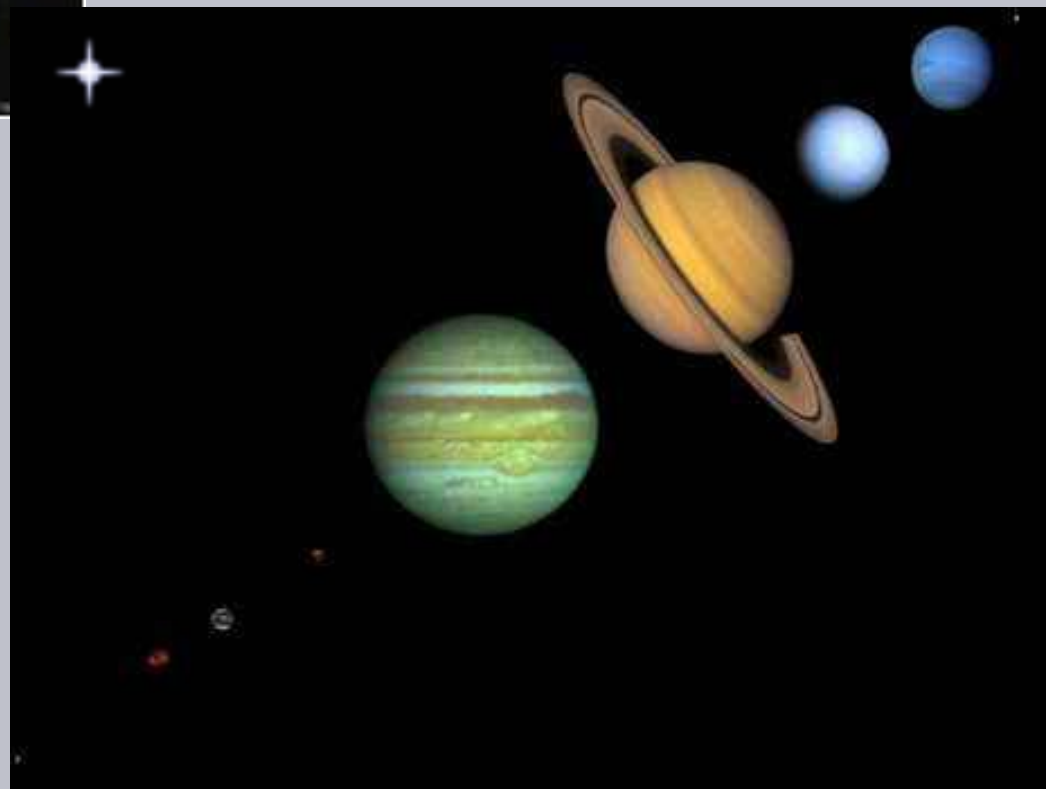
9



СКОЛЬКО ПЛАНЕТ В СОЛНЕЧНОЙ СИСТЕМЕ?



9





РАСПУСТИЛСЯ НАШ
КРАСАВЕЦ
НА ПОЛЯНКЕ, СРЕДЬ
ЦВЕТКОВ.
СОСЧИТАЙТЕ
ПОСКОРЕЕ,
СКОЛЬКО ЧУДО -
ЛЕПЕСТКОВ ?



НА ЗАКАТЕ У РЕКИ
КОРМ ИСКАЛИ
«РЫБАКИ».
УЗНАТЬ ОЧЕНЬ
ХОЧЕТСЯ:
«СКОЛЬКО ПТИЦ
ОХОТИТСЯ?»






**ДРУЖНО ПО ЛЕСУ ГУЛЯЛИ. ВСЕ БЕРЁЗКИ СОСЧИТАЛИ?
ДА ВНИМАТЕЛЬНО ГЛЯДИ, НИ ОДНУ НЕ ПРОПУСТИ.**



**ДЛИННОНОСЫЕ СЕСТРИЦЫ
ПРИЗЕМЛИЛИСЬ НА СТРАНИЦУ.
ПОСЧИТАЙТЕ, ТОЛЬКО ДРУЖНО,
СКОЛЬКО ЗЁРНЫШЕК ИМ
НУЖНО?**



В ГАРАЖЕ СТОЯТ МАШИНЫ:
РАЗ, ДВА, ТРИ, ЧЕТЫРЕ, ПЯТЬ...
МНЕ БЕЗ ВАС НЕ РАЗОБРАТЬСЯ,
ПОМОГИТЕ СОСЧИТАТЬ.



**СОСЧИТАЙТЕ БЕЗ ТРУДА,
ДРУЖНЫХ ЖИТЕЛЕЙ ПРУДА.**




**СКОЛЬКО Я НАШЁЛ КЛУБНИЧЕК,
ЧТОБЫ УГОСТИТЬ СЕСТРИЧЕК?**





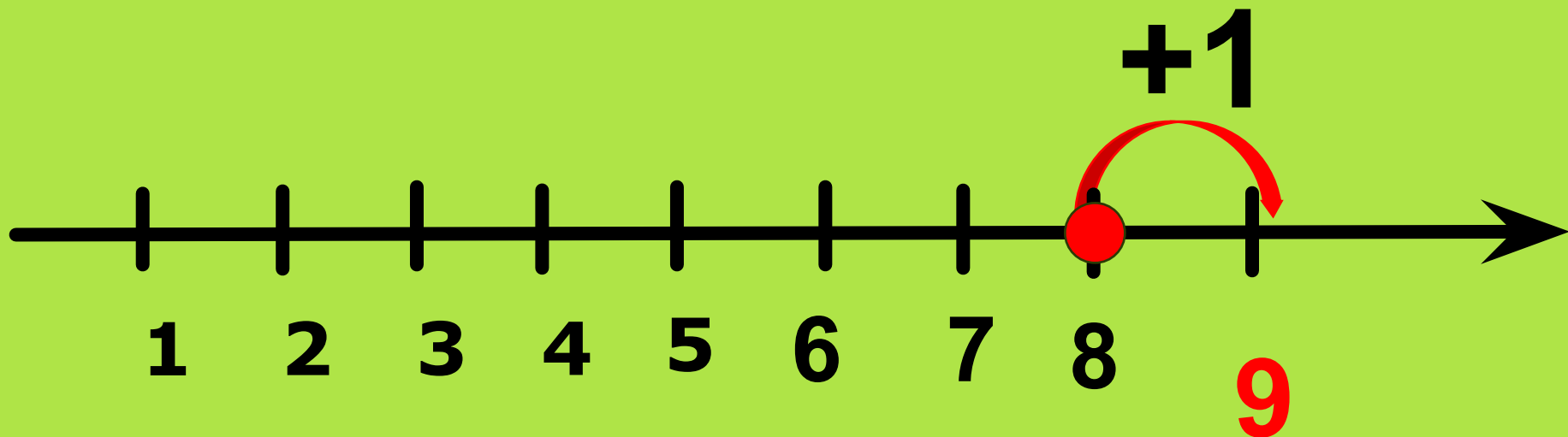
**В ГОСТИ К НАМ ПРИШЛА
ДЕВЯТКА –
ЦИРКОВАЯ АКРОБАТКА.
ЕСЛИ НА ГОЛОВУ СТАНЕТ,
ЦИФРОЙ ШЕСТЬ ДЕВЯТКА
СТАНЕТ.**

С. МАРШАК




Пропишите в тетради
в клетку

3 строчки цифру 9




$$8 + 1 = 9$$

?



 $2 + 2 = \boxed{2}$

 $3 + 1 = \boxed{}$

 $2 + 2 = \boxed{}$

 $3 + 2 = \boxed{}$

 $4 + 3 = \boxed{}$

 $5 + 5 = \boxed{}$

