

**Математика
в подготовительной
группе**



Покажите пропущенное
число

1 2 ? 4 5 6 ? 8 9



9 ? 7 6 5 ? 3 2 1

? 7 ?

? 4 ?

2 4 ? 8 ?

1 ? 5 7 9



У Юры 3 кубика, а у Серёжи 2 кубика.

На столе стоит коробка, в которой помещается 4 кубика.

Смогут ли мальчики уложить в эту коробку все свои кубики?

Я задумала число, прибавила к нему 2. Получилось 6. Какое число я задумала?

Если сложить два числа получится 5. Какими могут быть эти числа?

У Тани 3 яблока, а у Кати на 1 меньше. Сколько яблок у Кати? **Сколько всего яблок у девочек?**

Маше 5 лет, а Саша на 2 года младше Маши. Сколько лет Саше?



**На большом
диване в ряд
Куклы Танины
сидят:**

**2 матрешки,
Буратино
И веселый
Чипполино.
Помогите
Танюшке
Сосчитать
игрушки**



**Наша Маша рано
встала-
Кукол всех
пересчитала:
Две Матрешки на
окошке,
Две Аринки на
перинке,
Две Танюшки на
подушке,
А Петрушка в
колпачке
На дубовом сундучке
Сколько всех?**

Какой знак нужно
поставить.

6 ? 4


8 ? 9

4 + 1 ? 5

4 + 1 ? 6

4 + 1 ? 3





Отыщите двух одинаковых медвежат

1



2



3



4



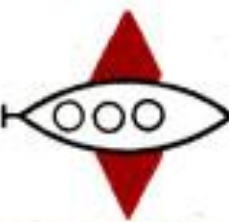
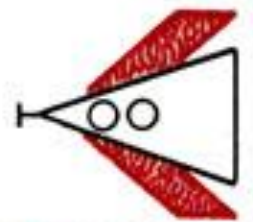
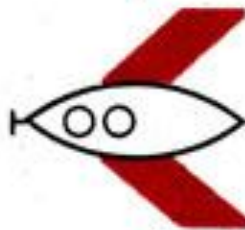
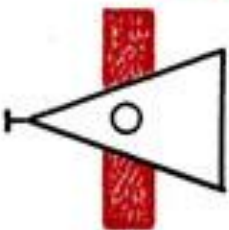
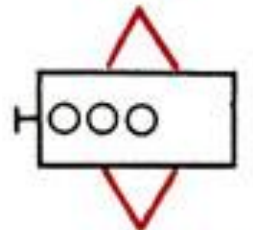
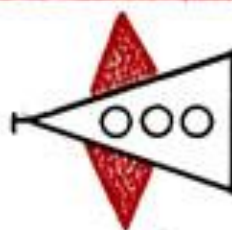
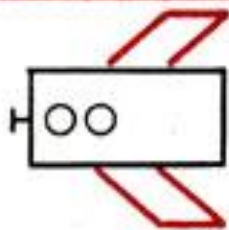
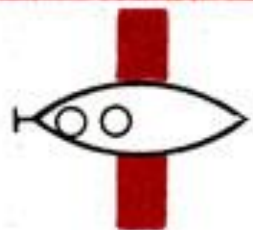
5



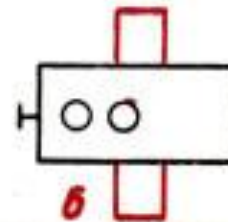
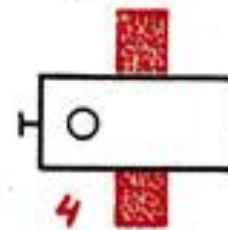
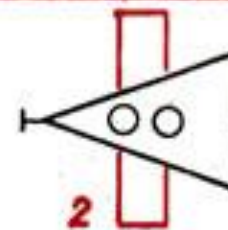
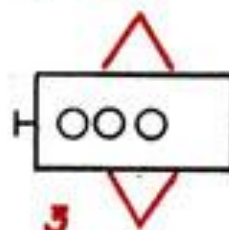
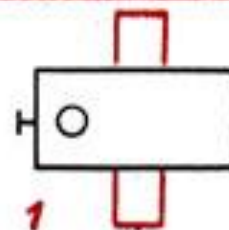
6

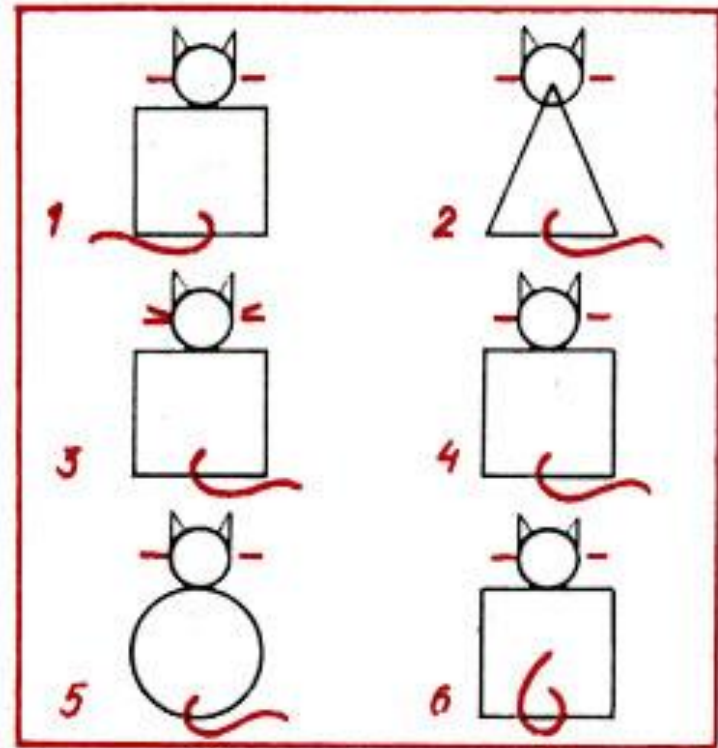
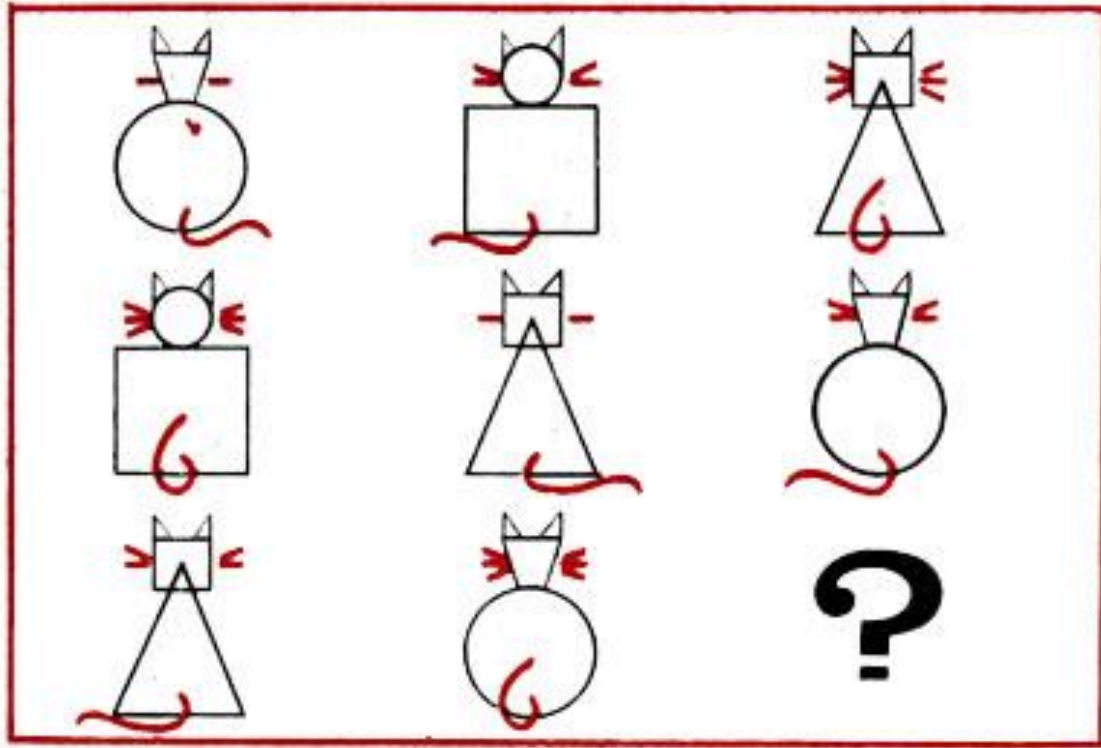



Найдите пропущенную фигуру.



?





НИЗ



СЕРЕДИНА



ВЕРХ



ЧТО У НАС ДОЛЖНО ПОЛУЧИТЬСЯ?

