

# Занимательная математика

---

1 класс

Брат и сестра  
пришли в школу  
одновременно.  
Брат шёл быстрее.  
Кто из них вышел  
раньше?





**На верёвку завязали 5 узлов. На сколько частей эти узлы разделили верёвку?**



**В банке столько же воды, сколько в  
кастрюле, а в кастрюле столько же воды,  
сколько в миске. Где больше воды: в банке  
или миске?**





**Масса петуха, стоящего на двух ногах 4кг.**

**Какова будет масса петуха, если он встанет на одну ногу?**



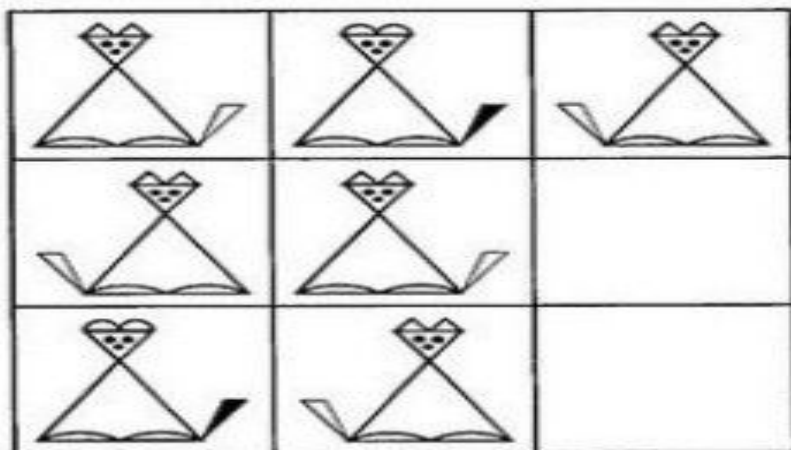


Три товарища Алеша, Коля и Саша, сели на скамейку в один ряд. Сколькими способами они могут это сделать?

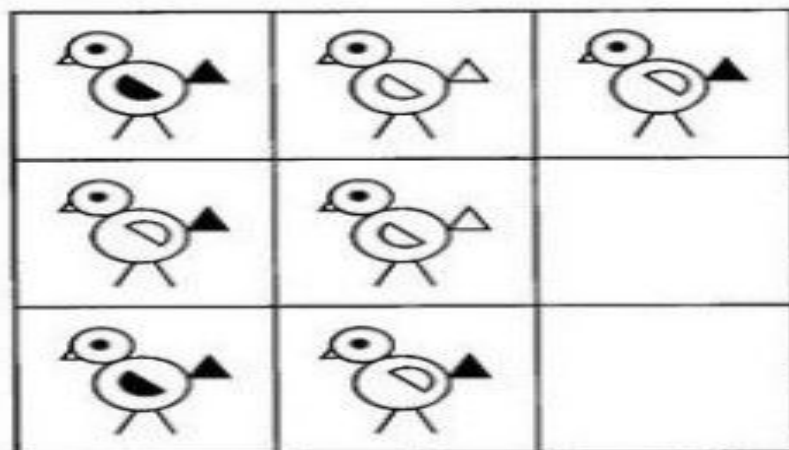




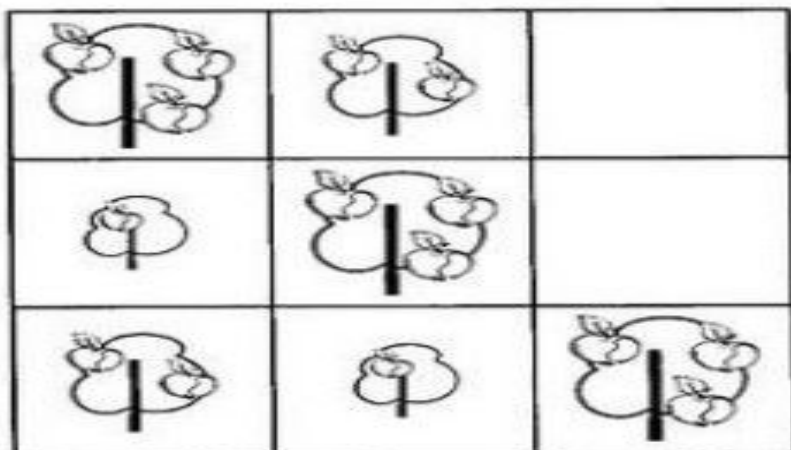
Дорисуй в пустых квадратах недостающую кошку.



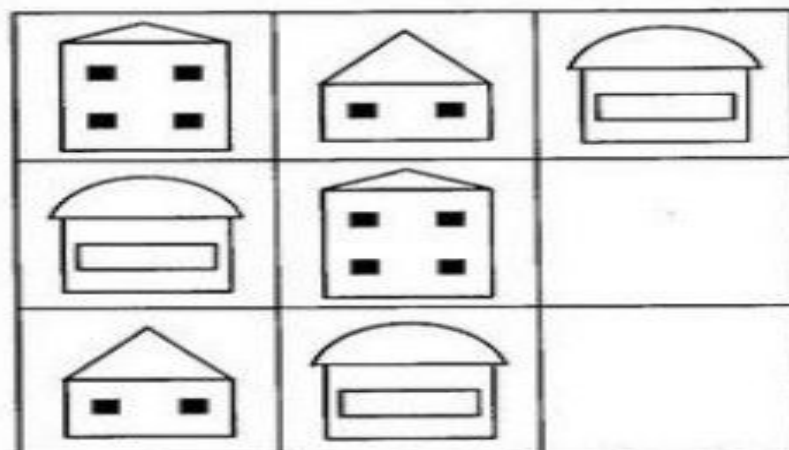
Дорисуй в пустых квадратах недостающую птичку.

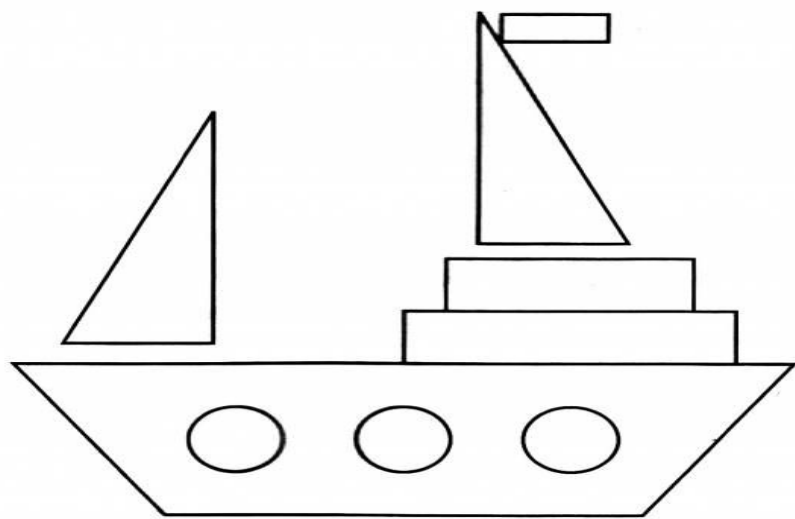
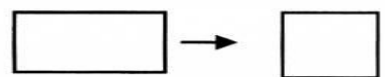

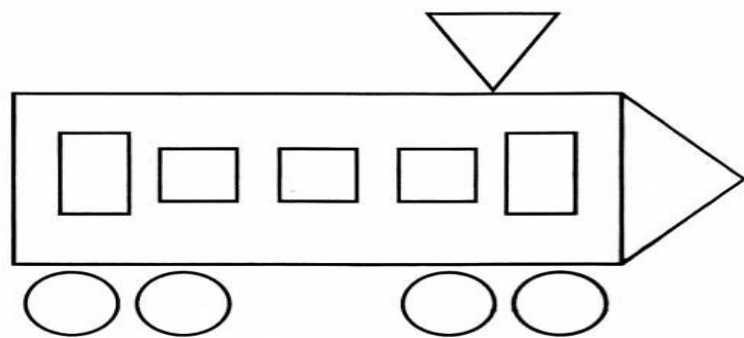
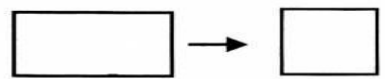



Дорисуй в пустых квадратах недостающее дерево.



Дорисуй в пустых квадратах недостающий домик.







Расшифруй слова. Каждой букве соответствует результат арифметического действия.

|   |           |  |
|---|-----------|--|
| М | $8 - 6 =$ |  |
|---|-----------|--|

|   |           |  |
|---|-----------|--|
| Н | $4 + 5 =$ |  |
|---|-----------|--|

|   |           |  |
|---|-----------|--|
| Р | $5 - 1 =$ |  |
|---|-----------|--|

|   |           |  |
|---|-----------|--|
| Л | $4 + 1 =$ |  |
|---|-----------|--|

|   |           |  |
|---|-----------|--|
| Н | $3 + 3 =$ |  |
|---|-----------|--|

|   |            |  |
|---|------------|--|
| О | $10 - 2 =$ |  |
|---|------------|--|

|   |           |  |
|---|-----------|--|
| А | $1 + 2 =$ |  |
|---|-----------|--|

|   |            |  |
|---|------------|--|
| И | $10 - 4 =$ |  |
|---|------------|--|

|   |           |  |
|---|-----------|--|
| И | $4 + 1 =$ |  |
|---|-----------|--|

|   |           |  |
|---|-----------|--|
| М | $8 - 1 =$ |  |
|---|-----------|--|

|   |           |  |
|---|-----------|--|
| А | $2 + 1 =$ |  |
|---|-----------|--|

|   |           |  |
|---|-----------|--|
| Ы | $9 + 1 =$ |  |
|---|-----------|--|

|   |   |   |   |   |   |
|---|---|---|---|---|---|
| 2 | 3 | 4 | 5 | 6 | 3 |
|   |   |   |   |   |   |

|   |   |   |   |   |    |
|---|---|---|---|---|----|
| 5 | 6 | 7 | 8 | 9 | 10 |
|   |   |   |   |   |    |

|   |            |  |
|---|------------|--|
| О | $10 - 8 =$ |  |
|---|------------|--|

|   |           |  |
|---|-----------|--|
| С | $5 - 2 =$ |  |
|---|-----------|--|

|   |           |  |
|---|-----------|--|
| М | $8 - 7 =$ |  |
|---|-----------|--|

|   |           |  |
|---|-----------|--|
| Т | $8 - 4 =$ |  |
|---|-----------|--|

|   |   |   |   |
|---|---|---|---|
| 1 | 2 | 3 | 4 |
|   |   |   |   |



7. Выполни действия и напиши полученное слово.

ВО + РОК - К + БЕЙ =

МЫ + ЛОВ - В =

КРО - РО + ОМ + ПОТ =

БА + РОК - ОК + А + БАН =

СОМ - ОМ + НЕГ =

ЗИЛ - Л + МАГ - Г =

МОК - К + РОМ - М + З =

КОМ - М + Н + ФЕ + ТА =




8. У Маши и Тани по одной собачке: Жучка и Тобик. Какая собака у Тани, если у Маши - Жучка? Подпиши собакам их клички.




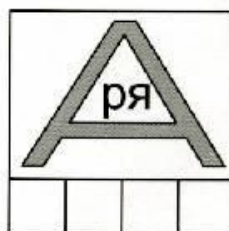
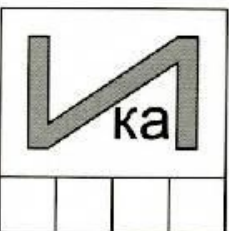
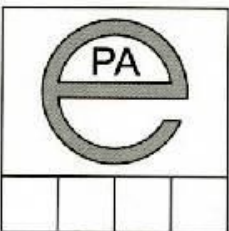
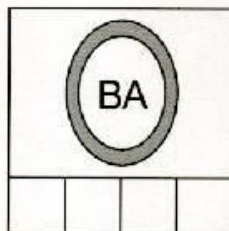
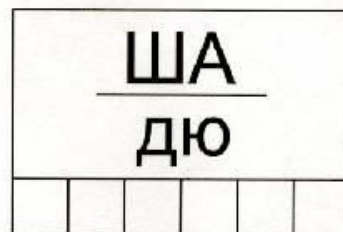
9. Графический диктант. Если ты правильно выполнишь все команды, у тебя получится изображение известного тебе предмета.

Зачерпнуло ветра  
Белое крыло,  
И катать мальчишек  
В море унесло!





Расшифруй и напиши имена детей.



**Молодцы!**

---