

# Порівняння чисел у межах 9



# Математичний диктант

- 1) Обведи 9 клітинок.
- 2) Запиши наступне число до числа 8.
- 3) Запиши попереднє число до числа 7.
- 4) Запиши число, яке стоїть між числами 4 і 6.
- 5) Запиши числа, між якими стоїть число 8.

1)									
2)	<b>9</b>								
3)	<b>6</b>								
4)	<b>5</b>								
5)	<b>7</b>	<b>9</b>							

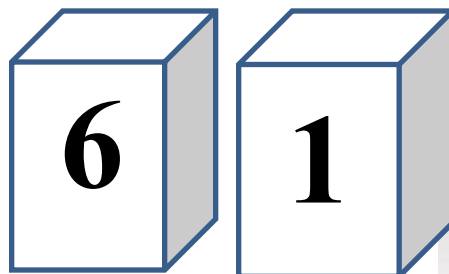
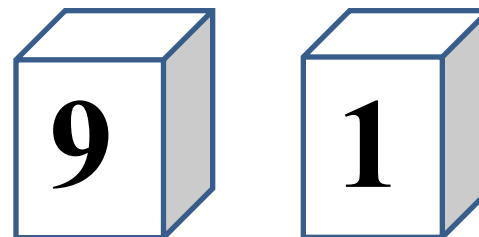
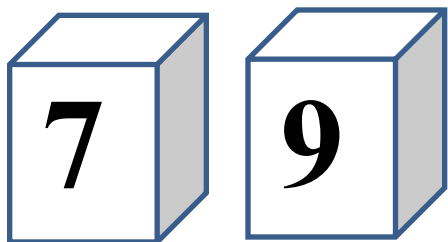
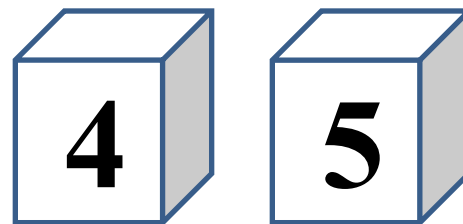
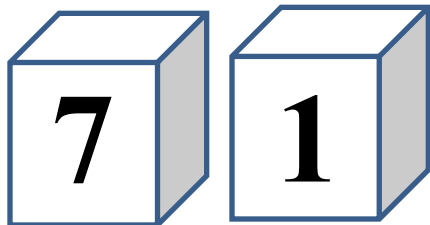


Запиши в порядку збільшення числа: 5, 7, 2, 9, 1, 8, 4.

1	2	4	5	7	8	9
---	---	---	---	---	---	---



Розфарбуй в кожній парі куб з більшим числом



# Порівняй числа

$8 < 9$

$9 > 6$

$5 > 4$

$2 < 9$

$2 < 7$

$1 < 9$

$3 < 6$

$9 < 10$

$3 < 9$

$7 < 9$



менше

Більше



У хлопчика було 4 цукерки. Друг дав йому 5 цукерок.  
Намалюй ці цукерки. Скільки їх стало у хлопчика. Обчисли  
значення виразу.



$$4+5=9$$

