



# Величины

5



7 Длина



3



Масса

объём



**11 марта.**

**Классная работа.**

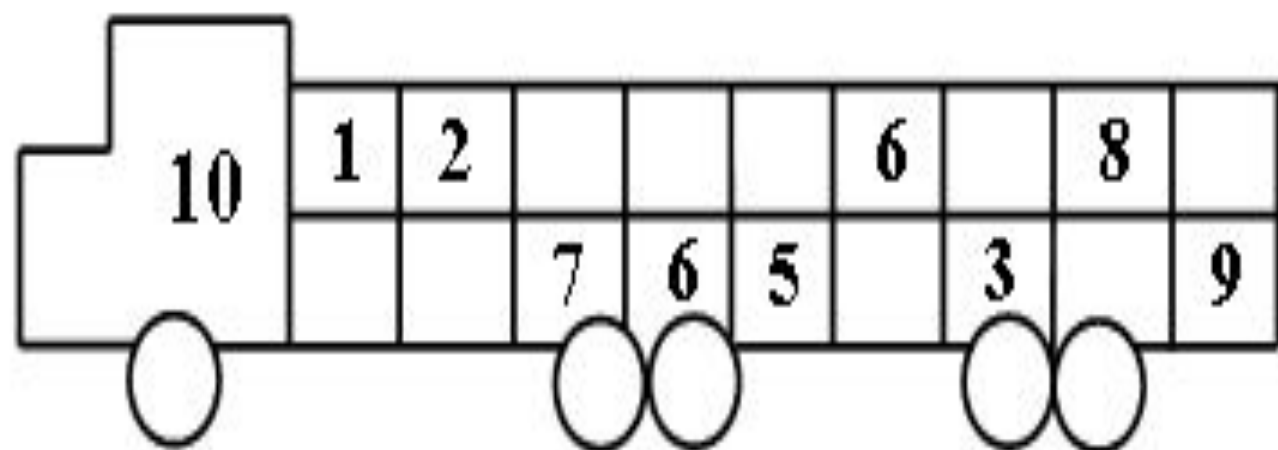
**- Какой компонент  
пропущен?**

$$6 + \square = 9$$

$$\square + 4 = 7$$

$$7 + \square = 10$$

$$8 - \square = 3$$



**Увеличьте число 7 на 2.**

**Уменьшите число 8 на 4.**

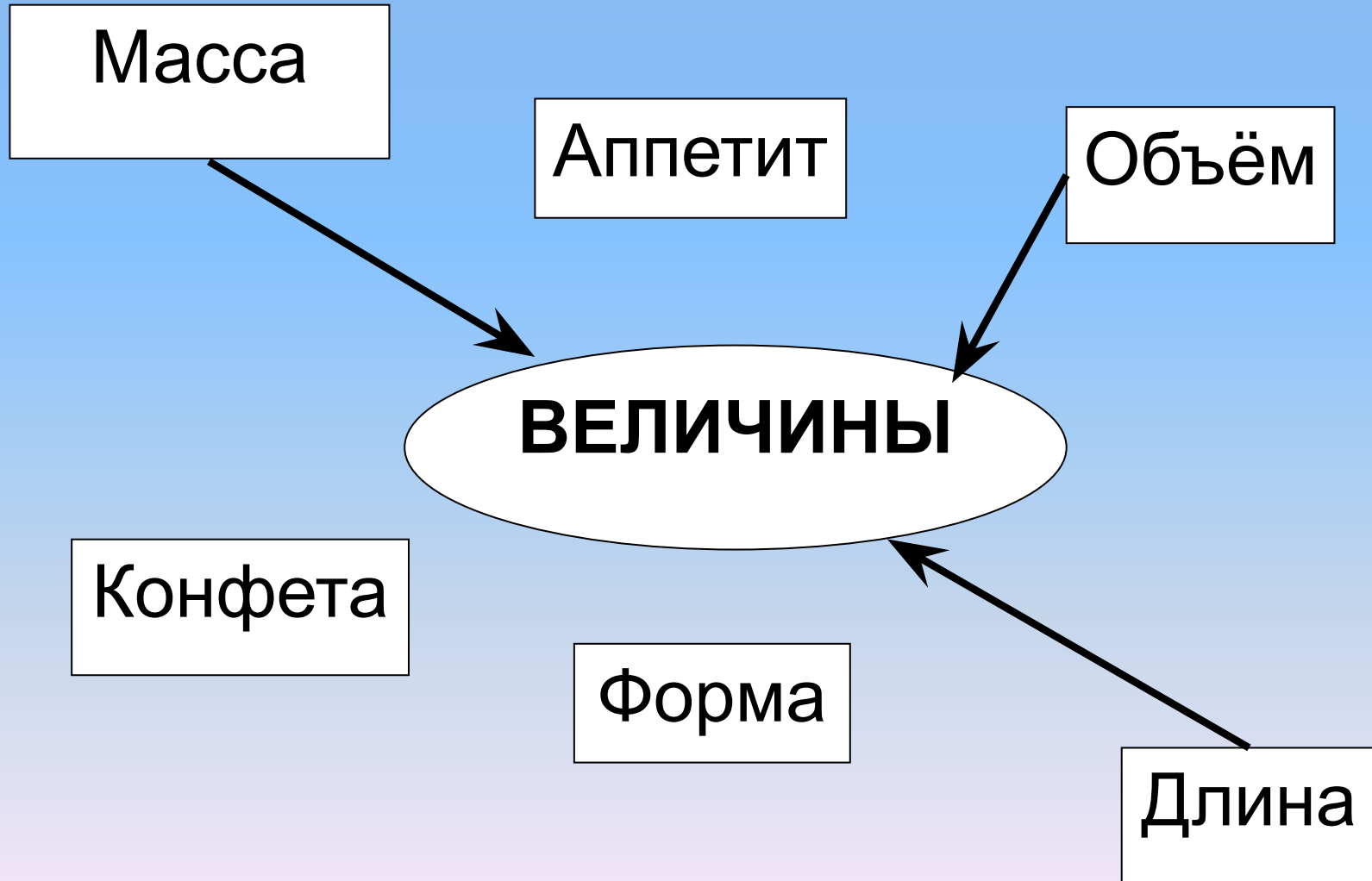
**Найдите сумму чисел 3 и 3.**

**Уменьшаемое 9, вычитаемое 2,  
найдите разность.**

**Первое слагаемое 6, второе слагаемое  
3, найдите сумму чисел.**

**На сколько число 10 больше числа 5?  
Разность 8 и 4.**

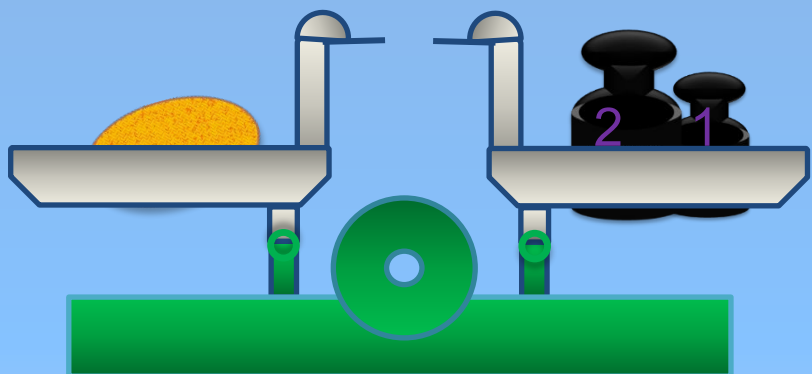
# *Найдите величины.*



# Выучить.

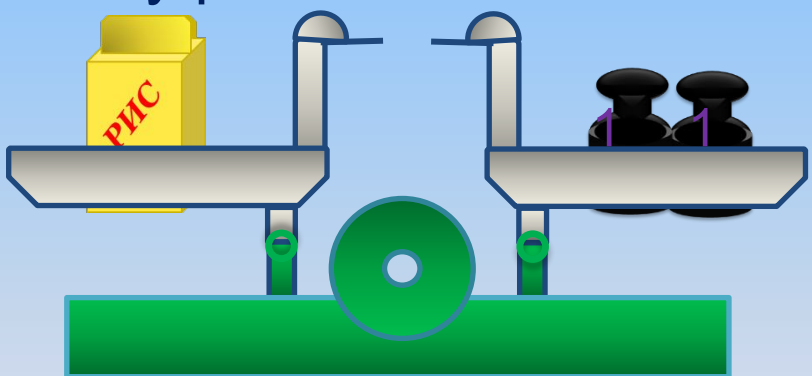
Величина.	Единицы измерения.	Старинные единицы измерения.
<b>масса</b>	<b>1 кг</b>	<b>пуд, фунт</b>
<b>длина локоть</b>	<b>1 см</b>	<b>дюйм,</b>
<b>объём ведро,</b>	<b>1 л</b>	<b>сажень кружка,</b>

5. Чему равна масса дыни?



$$\square \text{ кг} + \square \text{ кг} = \boxed{33} \text{ кг}$$

Чему равна масса пакета с рисом?



$$\square \text{ кг} + \square \text{ кг} = \boxed{22} \text{ кг}$$

- Сравни теперь массу дыни и массу пакета с рисом.

>



# Выполните действия.

$5 \text{ л} + 4 \text{ л} = \boxed{9} \text{ л}$

$9 \text{ кг} - 4 \text{ кг} = \boxed{5} \text{ кг}$

$6 \text{ см} + 2 \text{ см} = \boxed{8} \text{ см}$

$2 \text{ кг} - 0 \text{ кг} = \boxed{2} \text{ кг}$

$4 \text{ см} + 3 \text{ см} = \boxed{7} \text{ см}$

$9 \text{ л} - 5 \text{ л} = \boxed{4} \text{ л}$

$8 \text{ кг} - 2 \text{ кг} = \boxed{6} \text{ кг}$

$3 \text{ л} + 0 \text{ л} = \boxed{3} \text{ л}$

**Вычислите.**

**5 кг**

$$7 \text{ кг} - 2 \text{ кг} - 1 \text{ кг} = 4 \text{ кг}$$

$$4 \text{ см} + 4 \text{ см} - 3 \text{ см}$$

$$6 \text{ л} - 3 \text{ л} + 0 \text{ л}$$

$$8 \text{ кг} + 0 \text{ кг} - 7 \text{ кг}$$

$$2 \text{ см} + 3 \text{ см} - 5 \text{ см}$$

**Определите вид задачи. Вспомните  
правило.**

**1. На полянке 7 белок, а в поле 6. На сколько белок больше на поляне?**


**2. В шкафу 9 юбок, 3 из них белые. Сколько цветных юбок в шкафу?**

**3. На полке лежало 5 книг, когда положили несколько книг, то их стало 9. Сколько книг положили?**

**4. В парке 4 берёзы, а в сквере на 3 берёзы больше. Сколько берёз в сквере?**

**Решите задачу.**

**Емеля отправился за водой. В одном ведре у него было 5 л, а в другом на 2 л меньше. Сколько всего литров принёс Емеля?**



# РАБОТА ПО УЧЕБНИКУ

- Стр.42-44 (выборочно)



***Итого урока!***