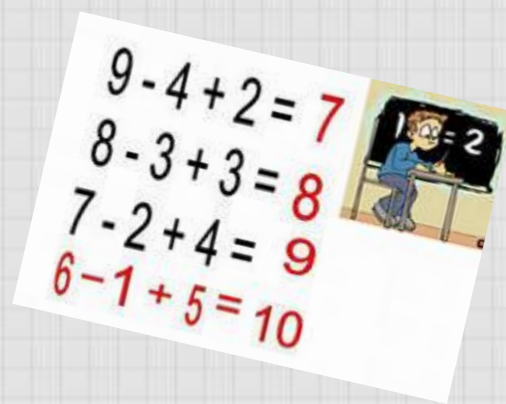





Дважды два- четыре



Первый конкурс «РАЗМИНКА»

**Чтоб всё в КВНе прошло
без заминки,
Его мы начинаем...
Ну, конечно, с разминки!**



«Лишнее число».

- 1) 5, 10, ☺, 15, 20.
- 2) 8, 10, ☺, 12
- 3) 40, 30, ☺, 20, 70
- 4) 3, 6, ☺, 9
- 5) 2, 6, ☺, 4, 8
- 6) 2, 4, 8, ☺



«Отгадай словечко»

К О 100 Ч К А

Косточка

С В И 100 К

Свисток

3 БУНА

Трибуна

Р 1 а

Родина


40 А

Сорока

с 3 Жи

Стрижи

ЧИ



Число

О



Один

Д „



Два

Физкультминутка

- **Раз-два — шли утята**
- Раз-два — шли утята, (*Шагаем на месте.*)
- Три-четыре — шли домой. (*Прыжки на месте.*)
- Вслед за ними плелся пятый, (*Хлопаем в ладоши.*)
- Впереди бежал шестой, (*Топаем ногами.*)
- А седьмой отстал от всех, (*Шагаем на месте.*)
- Испугался, закричал: (*Хлопаем в ладоши.*)
- — Где вы, где вы? (*Прыжки на месте.*)
- — Не кричи, мы тут рядом, **поищи!** (*Топаем ногами.*)

«Задачки-колючки»

1. Во дворе стояли 2 гуся, 3 курицы и 1 петух. Сколько всего было птиц во дворе?

2. Мальчик в лесу увидел 5 зайчат. 2 Зайца убежали сразу, а еще один через некоторое время. Сколько зайцев осталось?

3. На полянке у дубка Крот увидел два грибка.
А подальше у осин Он нашел еще один.
Кто ответить нам готов,
Сколько крот нашел грибков?



«Логический»

Кто старше?

Три брата - Ваня, Саша, Коля - учились в разных классах. Ваня был не старше Коли, а Саша – не старше Вани. Назовите имена старшего, среднего и младшего братьев.

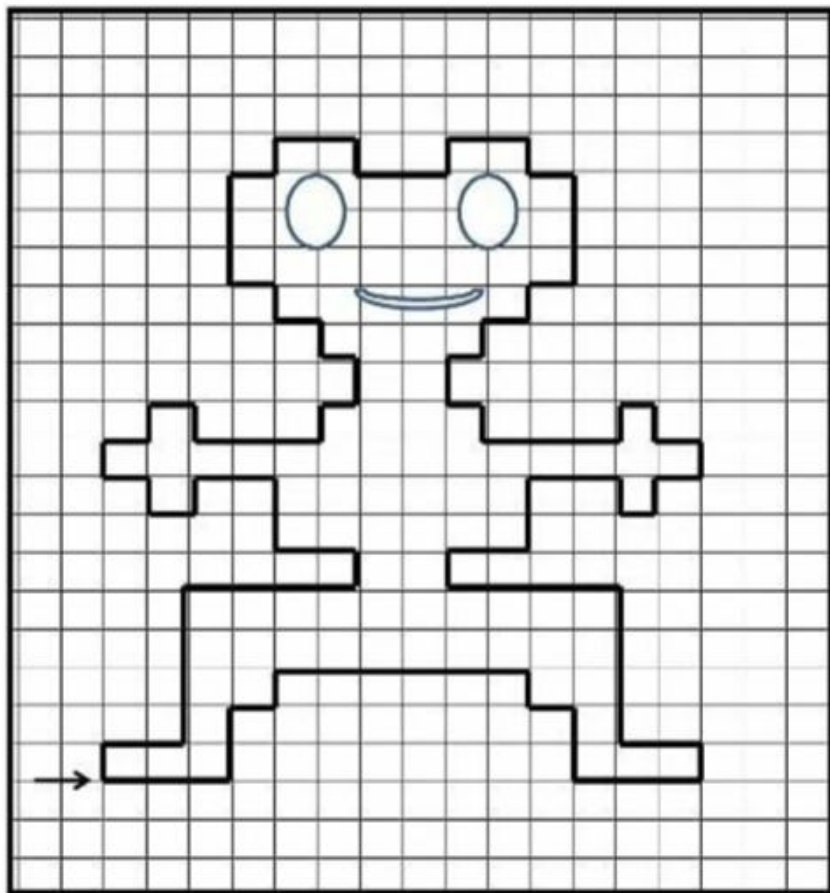
**Ответ: старший брат – Коля,
средний брат – Ваня,
младший брат – Саша.**

«Графический диктант»

ЛЯГУШОНОК.

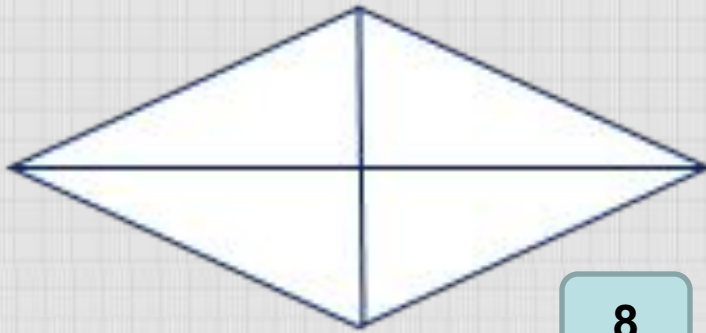
Отступи 2 клетки вправо.

1 кл вверх; 2 кл вправо; 4 кл вверх;
4 кл вправо; 1 кл вверх; 2 кл влево;
2 кл вверх; 2 кл влево; 1 кл вниз;
1 кл влево; 1 кл вверх; 1 кл влево;
1 кл вверх; 1 кл вправо; 1 кл вверх;
1 кл вправо; 1 кл вниз; 3 кл вправо;
1 кл вверх; 1 кл вправо;
1 кл вверх; 1 кл влево; 1 кл вверх;
1 кл влево; 1 кл вверх; 1 кл влево;
3 кл вверх; 1 кл вправо; 1 кл вверх;
2 кл вправо; 1 кл вниз; 2 кл вправо;
1 кл вверх; 2 кл вправо; 1 кл вниз;
1 кл вправо; 3 кл вниз; 1 кл влево;
1 кл вниз; 1 кл влево; 1 кл вниз;
1 кл влево; 1 кл вниз;
1 кл вправо; 1 кл вниз; 3 кл вправо;
1 кл вверх; 1 кл вправо; 1 кл вниз;
1 кл вправо; 1 кл вниз; 1 кл влево;
1 кл вниз; 1 кл влево; 1 кл вверх;
2 кл влево; 2 кл вниз; 2 кл влево;
1 кл вниз; 4 кл вправо; 4 кл вниз;
2 кл вправо; 1 кл вниз; 3 кл влево;
2 кл вверх; 1 кл влево; 1 кл вверх;
6 кл влево; 1 кл вниз; 1 кл влево;
2 кл вниз; 3 кл влево.

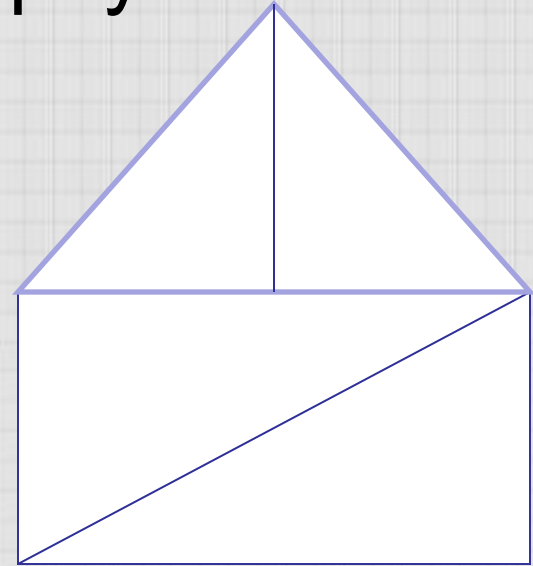


«Глазомер»

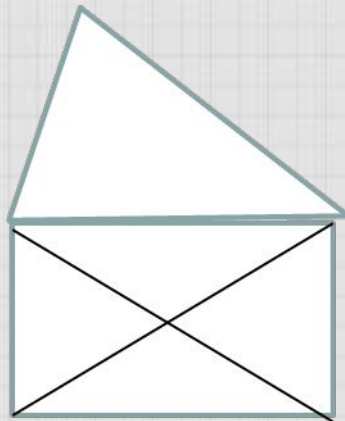
Сколько в этой фигуре треугольников?



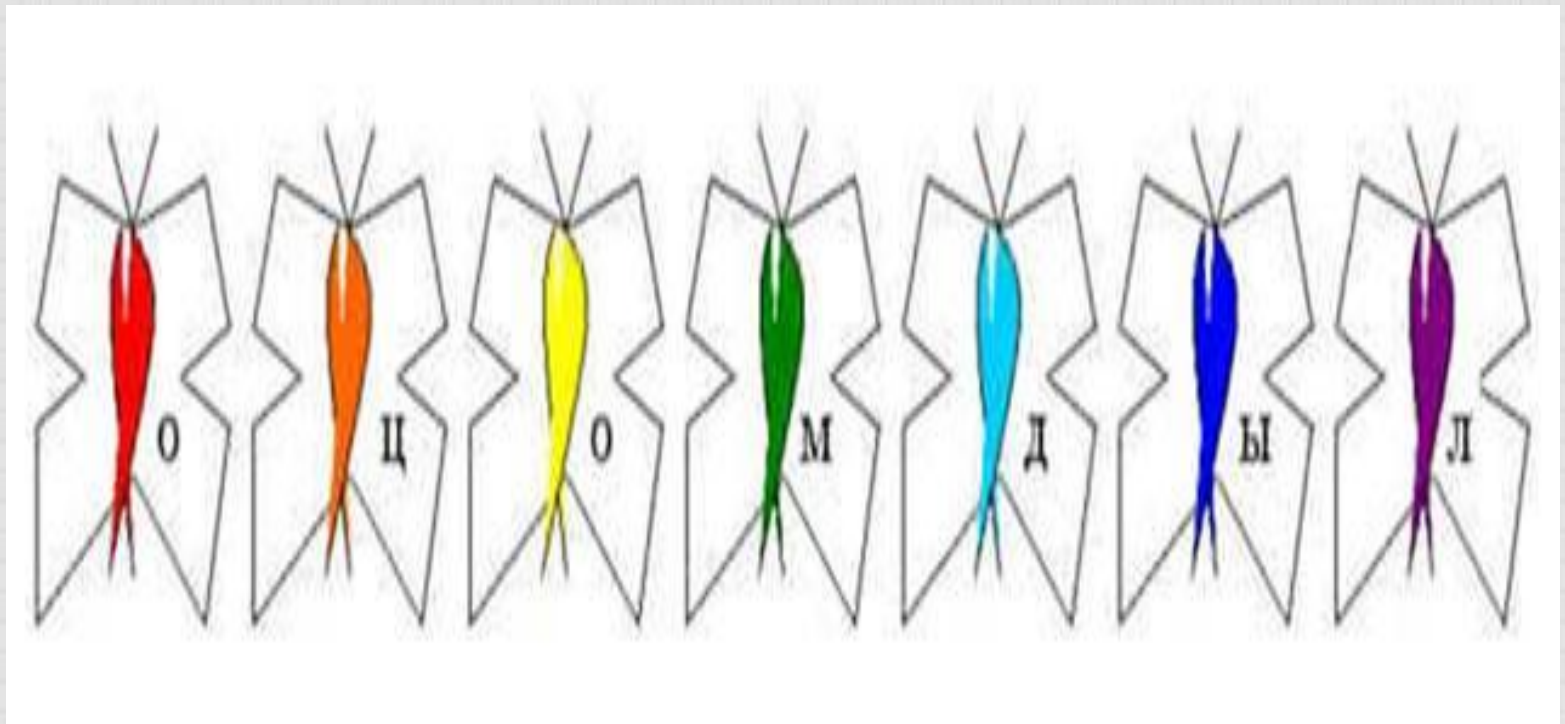
8



5




9



Зеленая бабочка, красная, фиолетовая, желтая, голубая, оранжевая, синяя. Какое слово получилось?

Молодцы



Вот закончилась игра,
Результат узнать пора.
Кто же лучше всех трудился
И в КВНе отличился?

