




Окружающий мир **2** класс
УМК «Школа России»

Проверочные задания
по теме

«Водные богатства»



Вастьянова Л. Л.,
учитель начальных классов
МКОУ «Мамонтовская СОШ»
Мамонтовского района
Алтайского края
2018 год






1. Определите, что относится к естественным водоёмам

А. Пруд

Б. Озеро

В. Канал



Г. Водохранилище





2. Определите, что относится к искусственным водоёмам

- А.** Пруд
- Б.** Озеро
- В.** Река
- Г.** Океан






3. Определите, что называют устьем реки

А. Начало реки

Б. Место впадения в другую реку или море

В. Реку, которая впадает в другую реку

Г. Самое узкое место реки






4. Определите, как называют начало реки

А. Приток

Б. Устье

В. Исток

Г. Рукав





5. Определите, где в схеме реки ИСТОК


А.



Б.

В.

Г.






6. Определите в схеме реки название места, обозначенного красной точкой

А. Приток

Б. Устье

В. Исток

Г. Рукав





7. Определите, как называют углубление, по которому течёт река




А. Приток

Б. Устье

В. Исток

Г. Русло





8. Второклассники на схеме стрелкой должны обозначить место, где река впадает в другой водоём. Сравните схемы и определите, кто **ВЕРНО** справился с заданием?


А. Соня



Б. Ваня



В. Витя

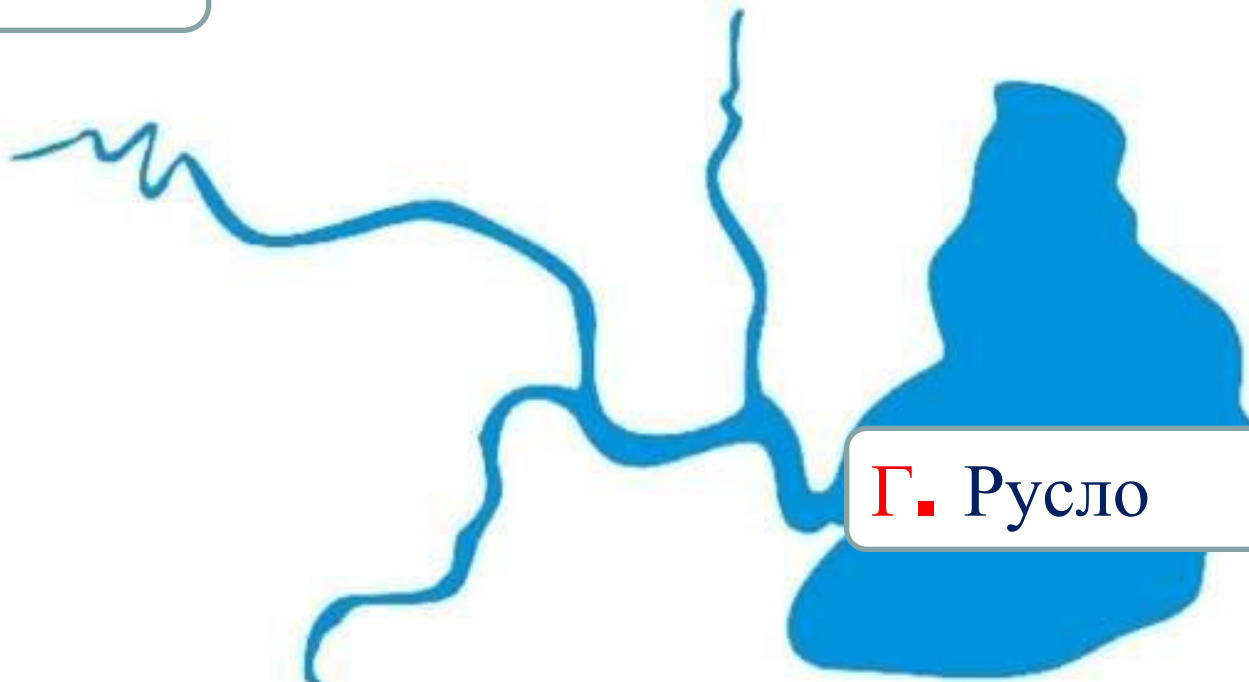




9. Определите, какая часть реки обозначена НЕВЕРНО


А. Исток

Б. Левый приток




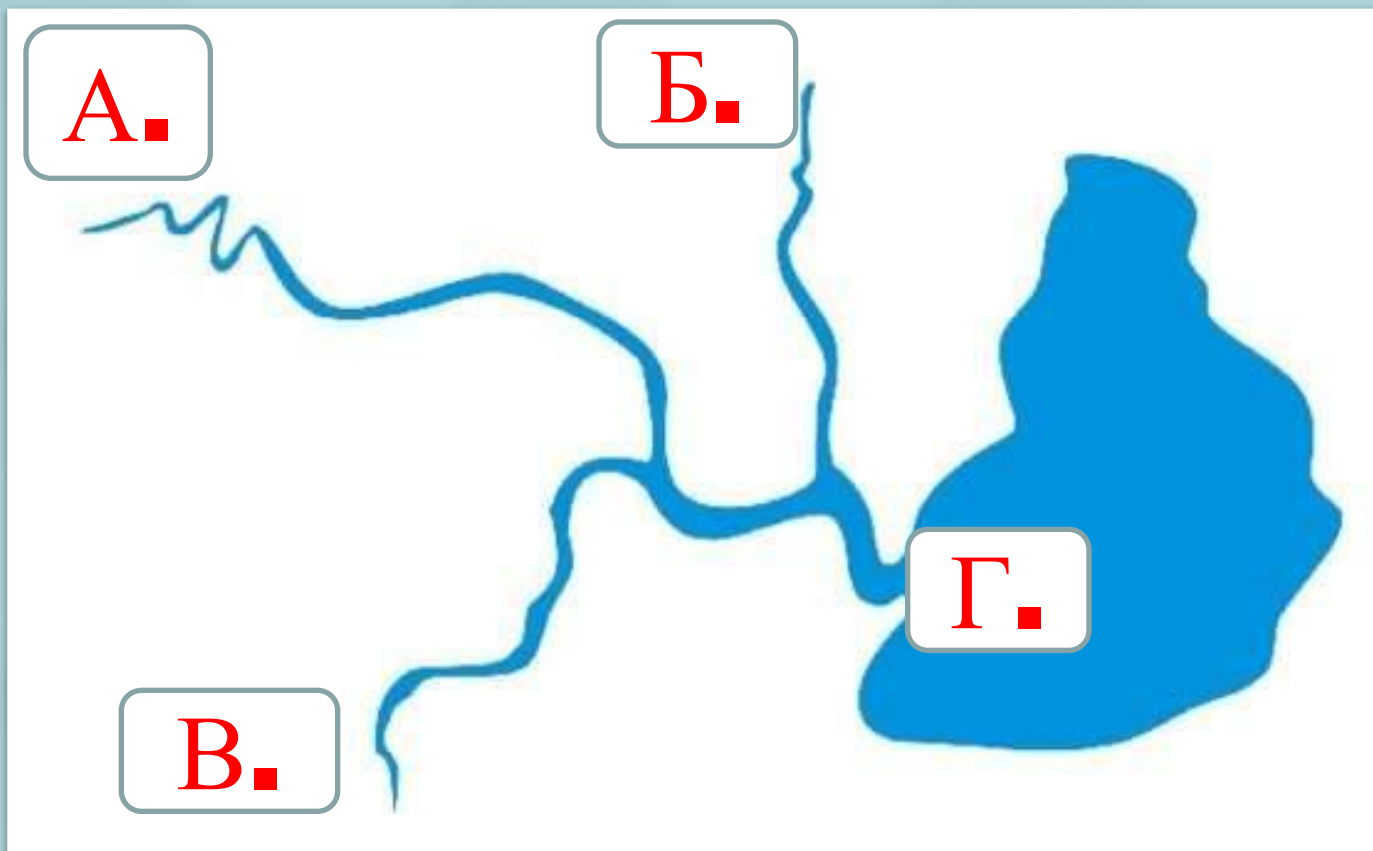
Г. Русло

В. Правый приток






10. Определите в схеме реки
ПРАВЫЙ ПРИТОК





Проверим задания по теме

«Водные богатства»






1. Определите, что относится к естественным водоёмам

А. Пруд

Б. Озеро

В. Канал


Г. Водохранилище





2. Определите, что относится к искусственным водоёмам

- А.** Пруд
- Б.** Озеро
- В.** Река
- Г.** Океан





3. Определите, что называют устьем реки




А. Начало реки

Б. Место впадения в другую реку или море

В. Реку, которая впадает в другую реку

Г. Самое узкое место реки





4. Определите, как называют начало реки




А. Приток

Б. Устье

В. Исток

Г. Рукав





5. Определите, где в схеме реки ИСТОК


А.

Б.



В.


Г.





6. Определите в схеме реки название места, обозначенного красной точкой

- А. Приток
- Б. Устье
- В. Исток
- Г. Рукав





7. Определите, как называют углубление, по которому течёт река




А. Приток

Б. Устье

В. Исток

Г. Русло





8. Второклассники на схеме стрелкой должны обозначить место, где река впадает в другой водоём. Сравните схемы и определите, кто **ВЕРНО** справился с заданием?


А. Соня



Б. Ваня



В. Витя





9. Определите, какая часть реки обозначена НЕВЕРНО


А. Исток

Б. Левый приток




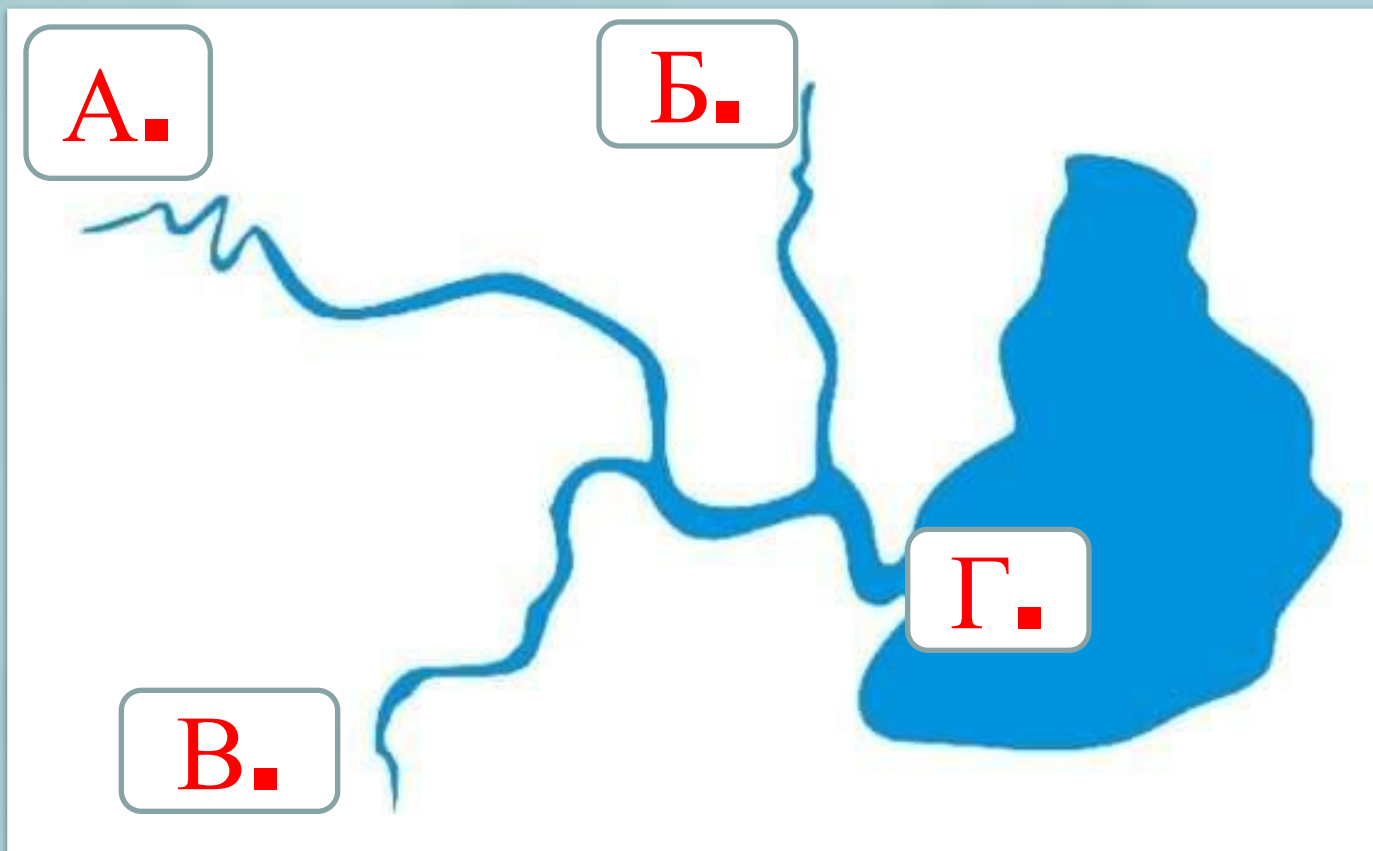
Г. Русло

В. Правый приток





**10. Определите в схеме реки
ПРАВЫЙ ПРИТОК**





Оценим работу!


«5» - нет ошибок

«4» - 1 – 2 ошибки

«3» - 3 ошибки

«2» - более трёх ошибок


Благодарю за работу!





Использованная литература

- Контрольно – измерительные материалы. Окружающий мир: **2** класс. Сост. И.Ф. Яценко. – М.: ВАКО, **2012**
- Плешаков А. А., Гара Н. Н., Назарова З. Д. Окружающий мир. Тесты. **2** класс. Пособие для учащихся общеобразоват. учреждений. – М.: Просвещение, **2017**
- Тихомирова Е.М. Тесты по предмету «Окружающий мир» **2** класс. Ч. **2**. М.: издательство «Экзамен», **2014**



Интернет источники

- <http://pedsovet.su/> (источник шаблона)
- 900igr.net
- compedu.ru
- moziru.com
- dreamstime.com
- uslide.ru
- antalyaelitestroy.ru
- oboinazakaz.ru

