

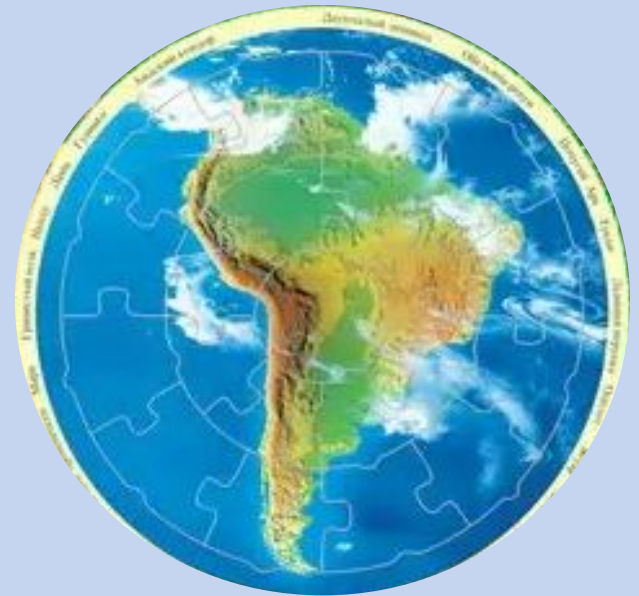
# КЛИМАТ АВСТРАЛИИ



Урок Географии в 7 классе  
Разработала и провела:  
Швецова Виктория Аркадьевна  
236-007-300



**Африка – самый жаркий материк.**



**Южная Америка – самый влажный материк.**



**Австралия – самый сухой материк.**



**ЦЕЛЬ УРОКА:** ОПРЕДЕЛИТЬ ПРИЧИНЫ НЕОБЫКНОВЕННОЙ  
СУХОСТИ АВСТРАЛИИ.

**Задачи:**

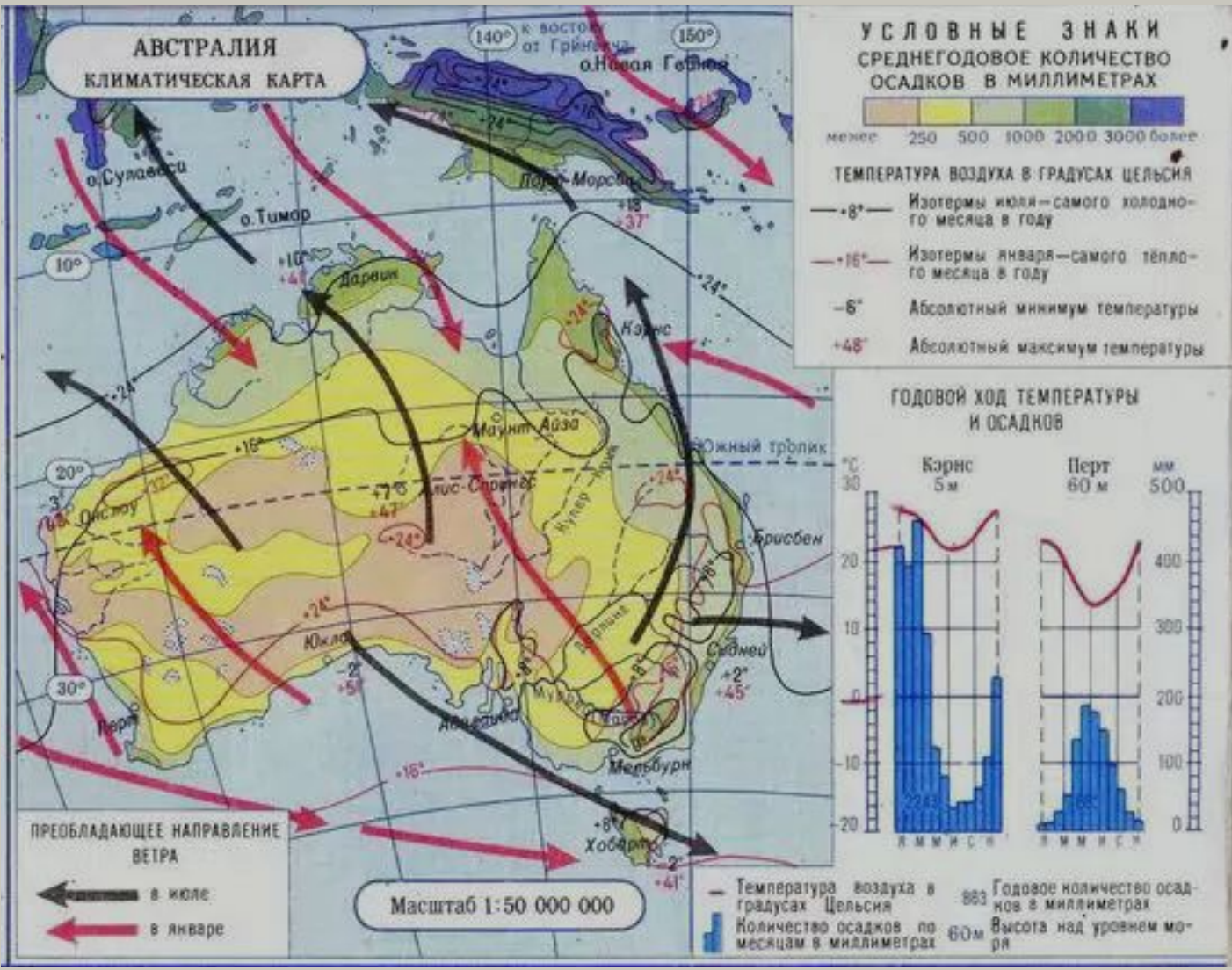
1. Повторить понятия: климат, климатообразующие факторы, элементы климата.
2. Определить по климатической карте средние температуры лета и зимы, распределение осадков по территории материка.
3. Дать характеристику климатическим поясам и областям.



Режим осадков по сезонам года, пояса атмосферного давления, высота поверхности над уровнем моря, постоянные и переменные ветры, географическая широта, годовое количество осадков, угол падения солнечных лучей, океанические течения, средние температуры января и июля.

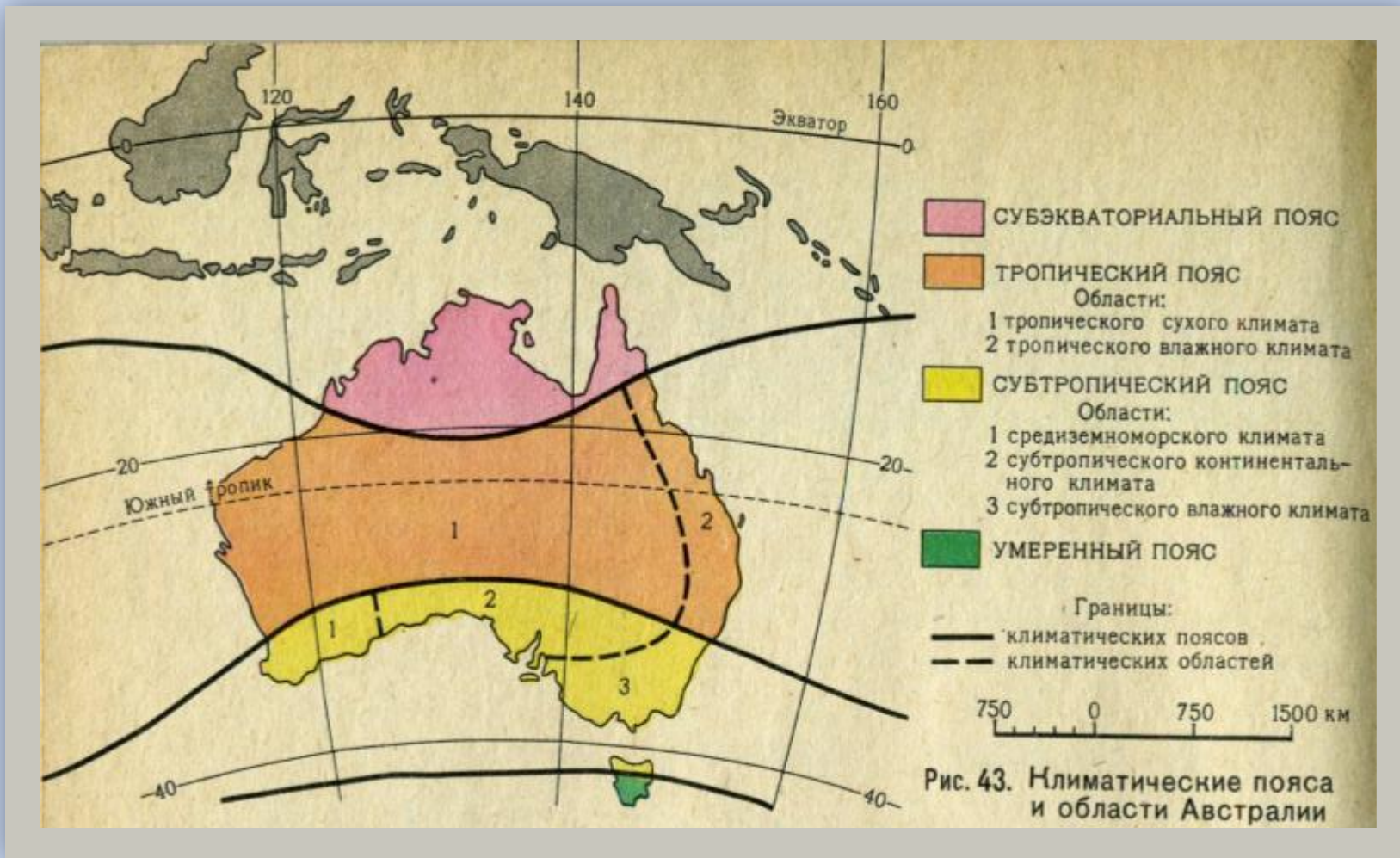
<b>Климатообразующие факторы</b>	<b>Элементы климата</b>
<ol style="list-style-type: none"><li>1. Географическая широта.</li><li>2. Угол падения солнечных лучей.</li><li>3. Океанические течения.</li><li>4. Пояса атмосферного давления.</li><li>5. Высота поверхности над уровнем моря.</li></ol>	<ol style="list-style-type: none"><li>1. Средняя температура января и июля.</li><li>2. Постоянные и переменные ветры.</li><li>3. Годовое количество осадков.</li><li>4. Режим осадков по сезонам года.</li></ol>





**КЛИМАТИЧЕСКАЯ КАРТА АВСТРАЛИИ**

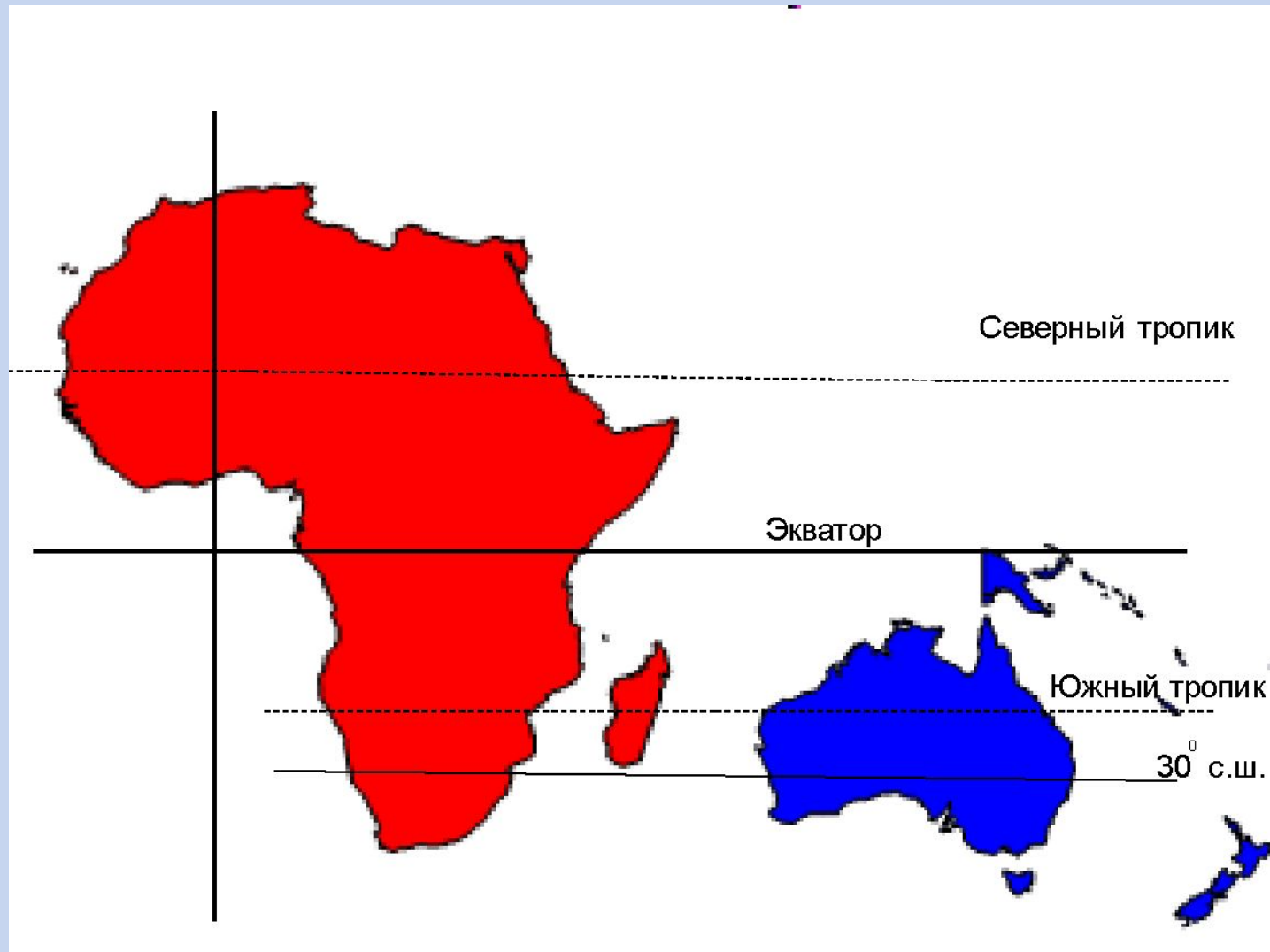


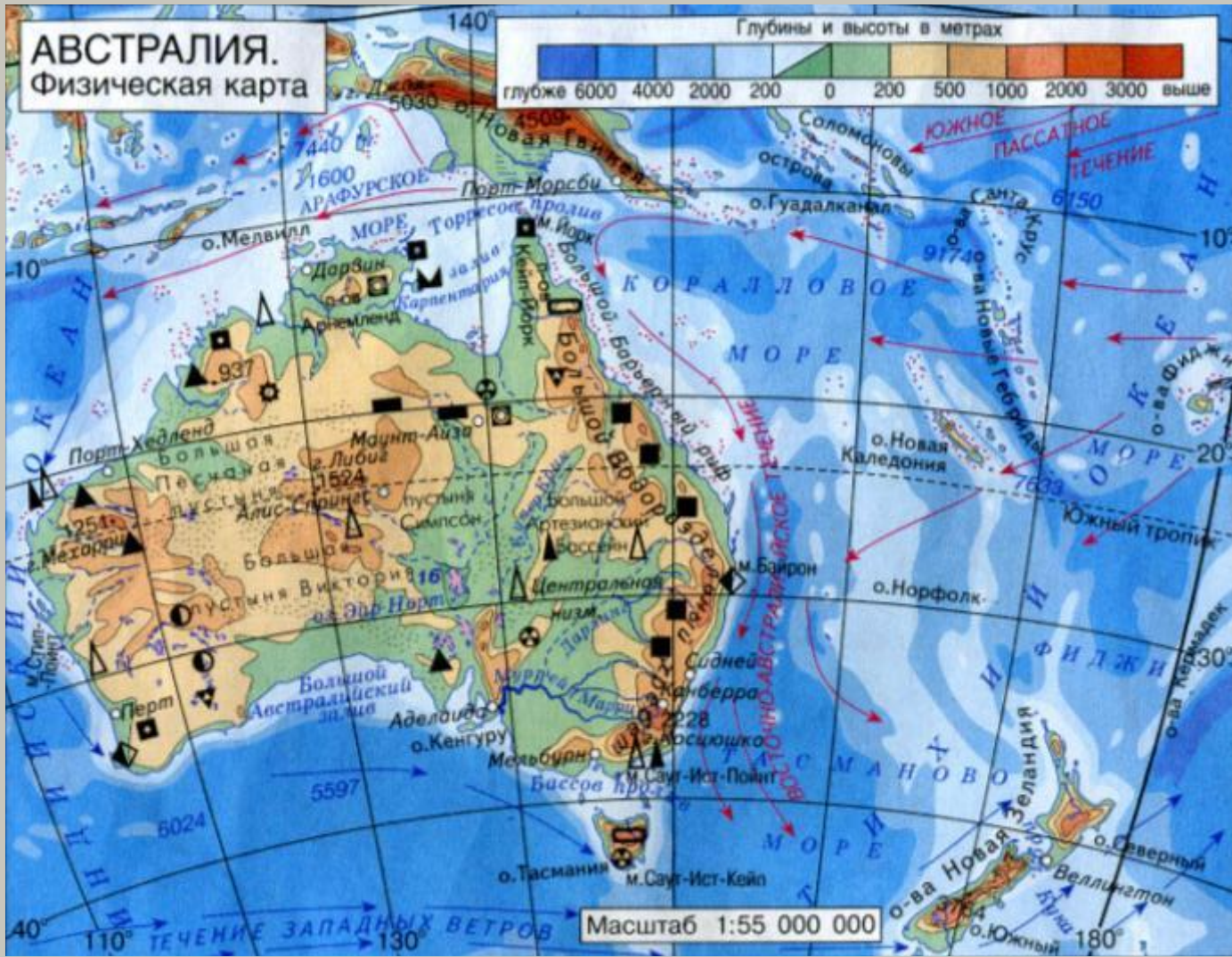


**КАРТА КЛИМАТИЧЕСКИХ ПОЯСОВ И ОБЛАСТЕЙ АВСТРАЛИИ**




# ПОЛОЖЕНИЕ АВСТРАЛИИ И АФРИКИ ПО ОТНОШЕНИЮ К ЭКВАТОРУ И ТРОПИКАМ





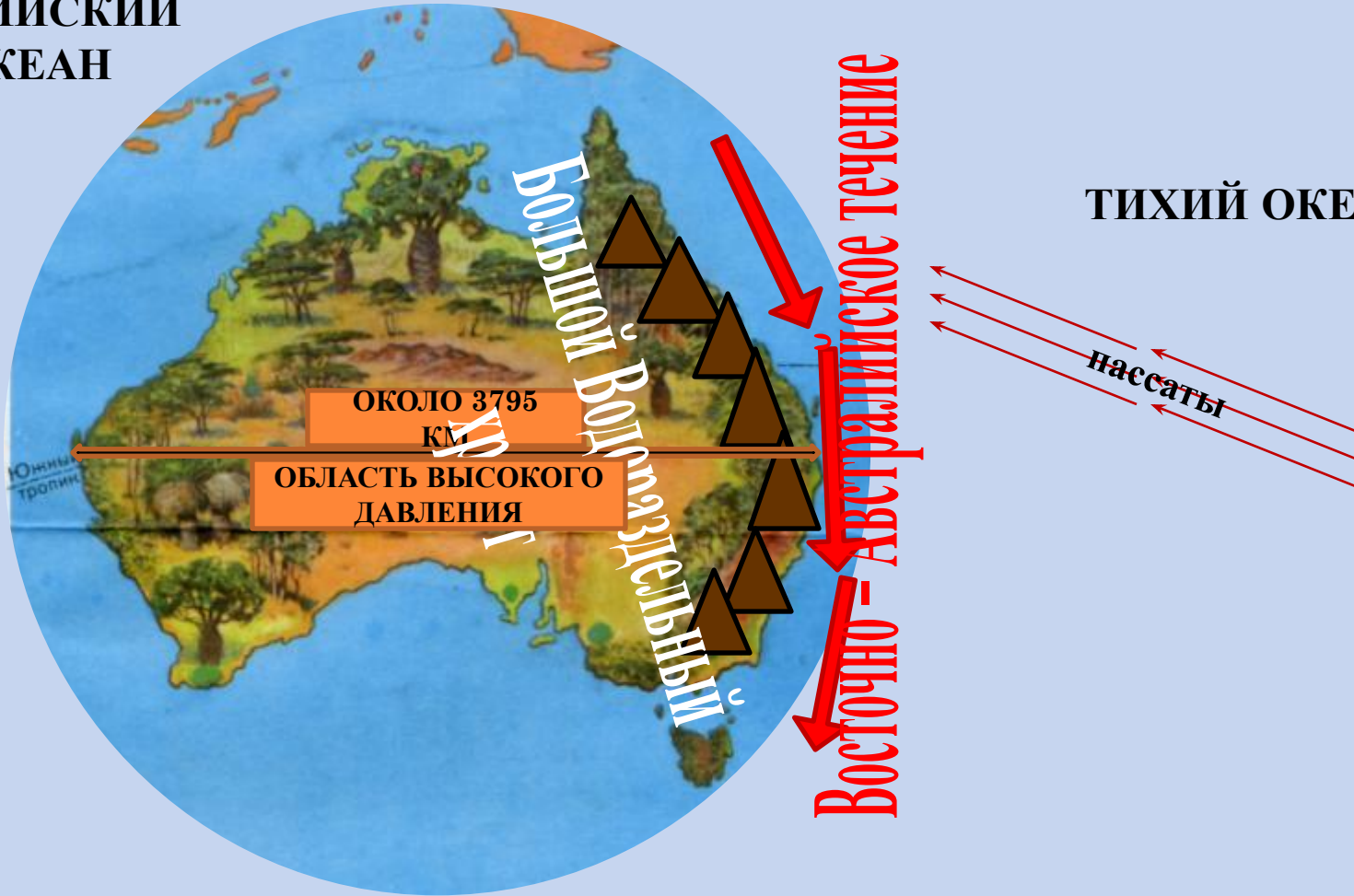
**ФИЗИЧЕСКАЯ КАРТА АВСТРАЛИИ**






# ФАКТОРЫ, ВЛИЯЮЩИЕ НА РАСПРЕДЕЛЕНИЕ ОСАДКОВ ПО ТЕРРИТОРИИ МАТЕРИКА

ИНДИЙСКИЙ  
ОКЕАН



# «СУХАЯ» АВСТРАЛИЯ


# «ВЛАЖНАЯ» АВСТРАЛИЯ




**ПУСТЫННЫЙ ЛАНДШАФТ  
ЦЕНТРАЛЬНЫХ И ЗАПАДНЫХ  
РАЙОНОВ АВСТРАЛИИ**



**ПОЛУПУСТЫННЫЙ ЛАНДШАФТ  
ЦЕНТРАЛЬНЫХ РАЙОНОВ  
АВСТРАЛИИ**



**ПОЛУПУСТЫННЫЕ РАЙОНЫ  
ПОБЕРЕЖЬЯ БОЛЬШОГО  
АВСТРАЛИЙСКОГО ЗАЛИВА**

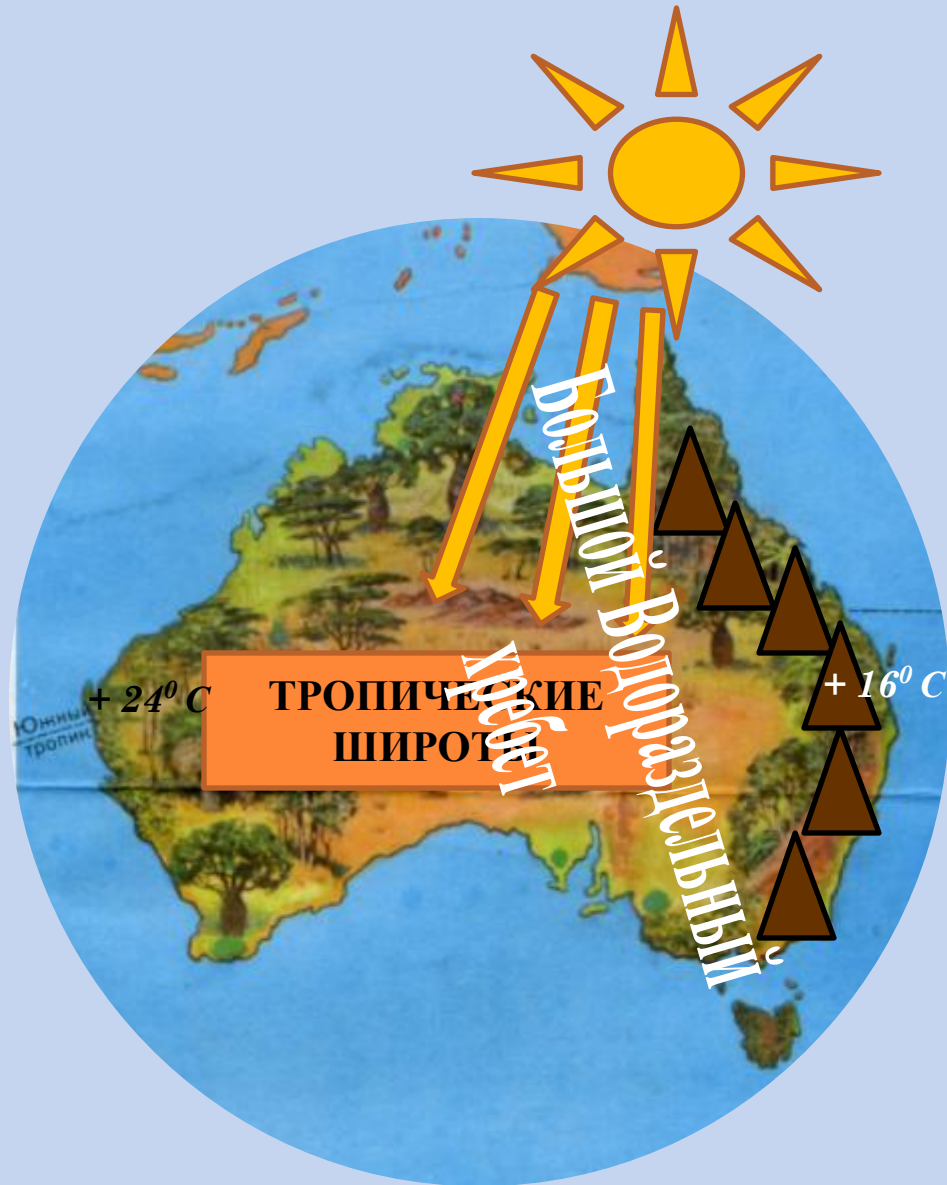


**ВЛАЖНЫЙ ТРОПИЧЕСКИЙ  
ЛЕС**

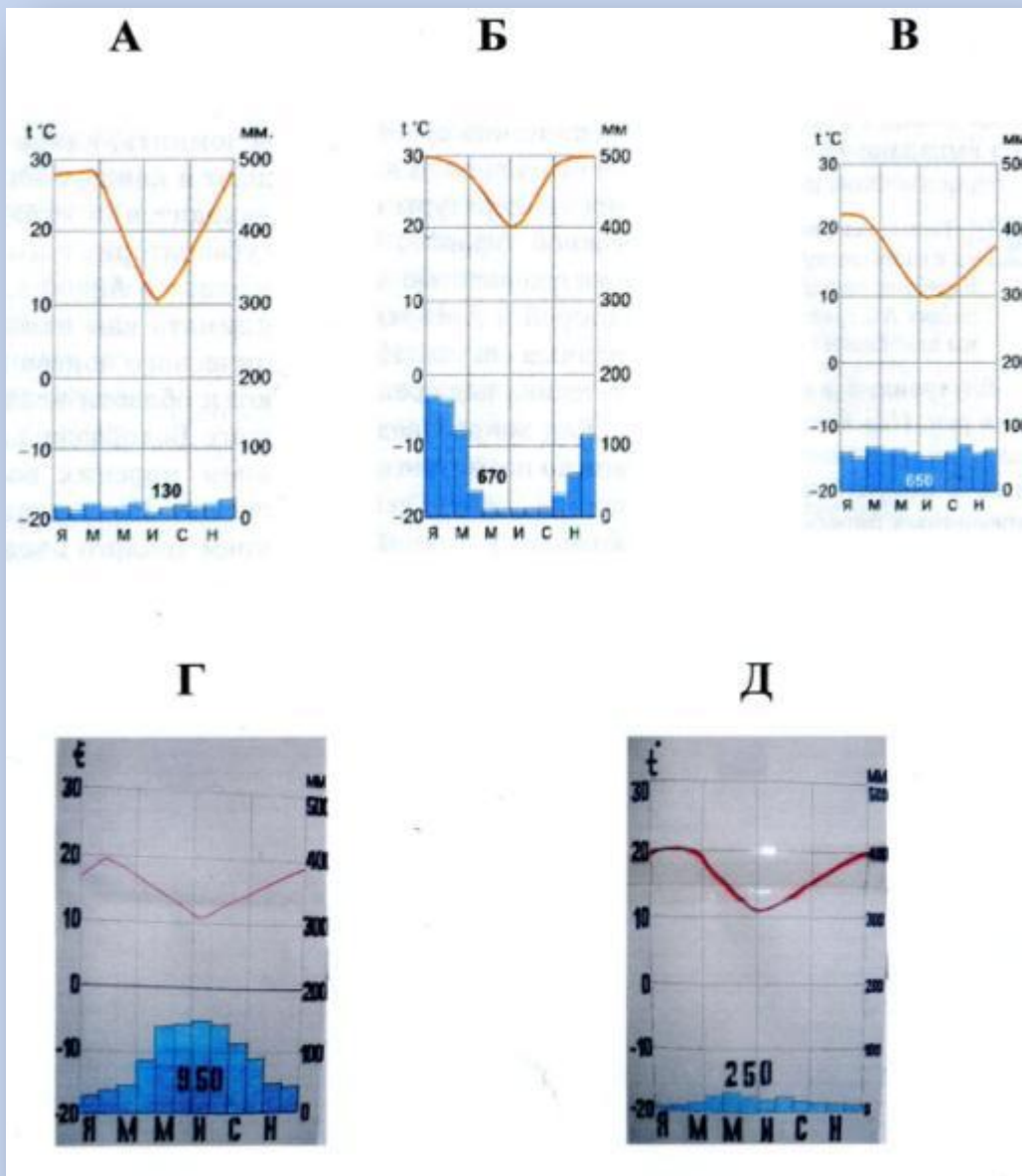


**ВЛАЖНЫЕ ПРИБРЕЖНЫЕ ЛУГА  
ЮГО – ВОСТОЧНОЙ АВСТРАЛИИ**

# ФАКТОРЫ, ВЛИЯЮЩИЕ НА РАСПРЕДЕЛЕНИЕ ТЕМПЕРАТУР ПО ТЕРРИТОРИИ МАТЕРИКА



# КЛИМАТИЧЕСКИЕ ПОЯСА И ОБЛАСТИ АВСТРАЛИИ



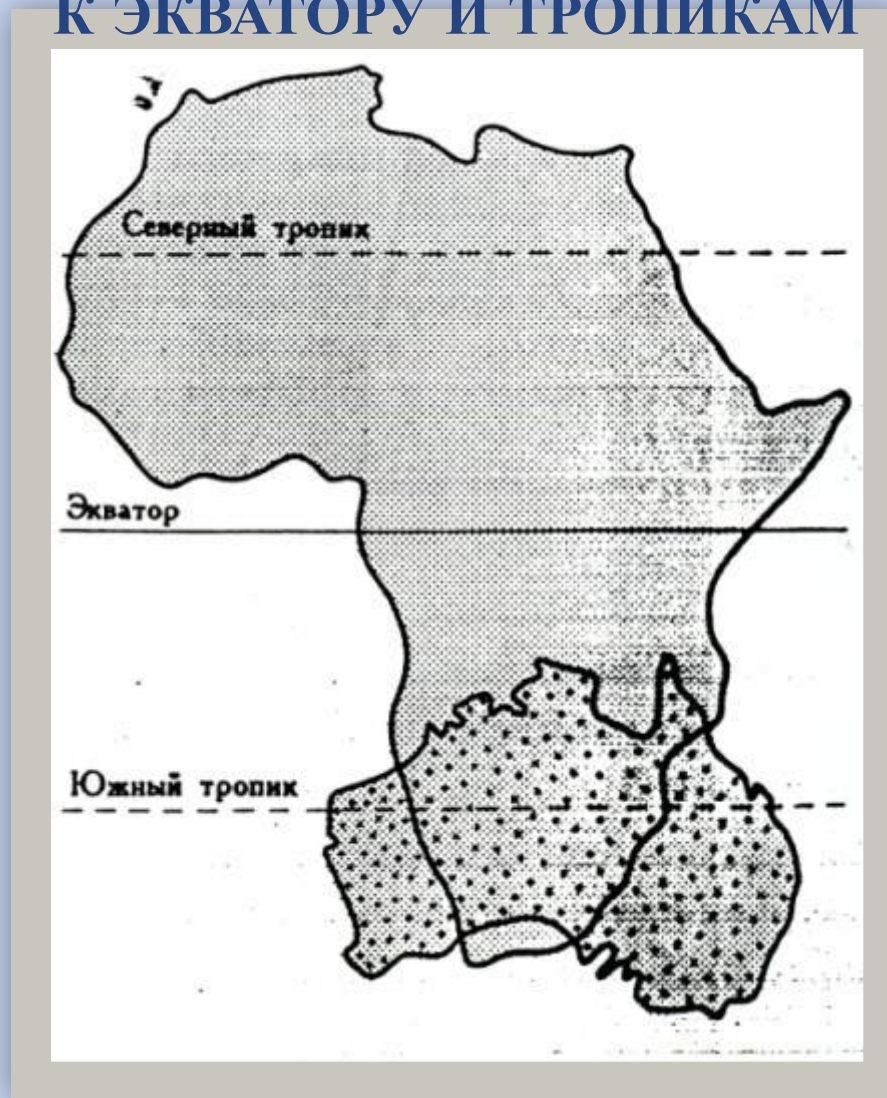
КЛИМАТИЧЕСКИЕ ДИАГРАММЫ



# «МОЗГОВОЙ ШТУРМ»

ВОПРОСЫ	ОТВЕТЫ
1. Годовое количество осадков – это элемент климата.	+
2. Восточная часть материка получает большое количество осадков.	+
3. В Австралии преобладают экваториальный, субэкваториальный и тропический климатические пояса.	–
4. В тропическом поясе зимой господствуют экваториальные воздушные массы.	–
5. На распределение осадков по территории материка оказывают влияние: пояса атмосферного давления, рельеф, океанические течения, постоянные ветры.	+
6. В субэкваториальном климатическом поясе осадки выпадают равномерно в течение года.	–
7. Австралия – это самый сухой материк.	+

# ПОЛОЖЕНИЕ АВСТРАЛИИ И АФРИКИ ПО ОТНОШЕНИЮ К ЭКВАТОРУ И ТРОПИКАМ



Объясните, почему в субтропическом поясе на юге Африки две климатические области, а на юге Австралии – три?





**Урок понравился.**

**Усвоил (а) много  
информации.**




**Не все моменты**

**урока**


**понравились.**

**Усвоил (а) не весь  
материал.**



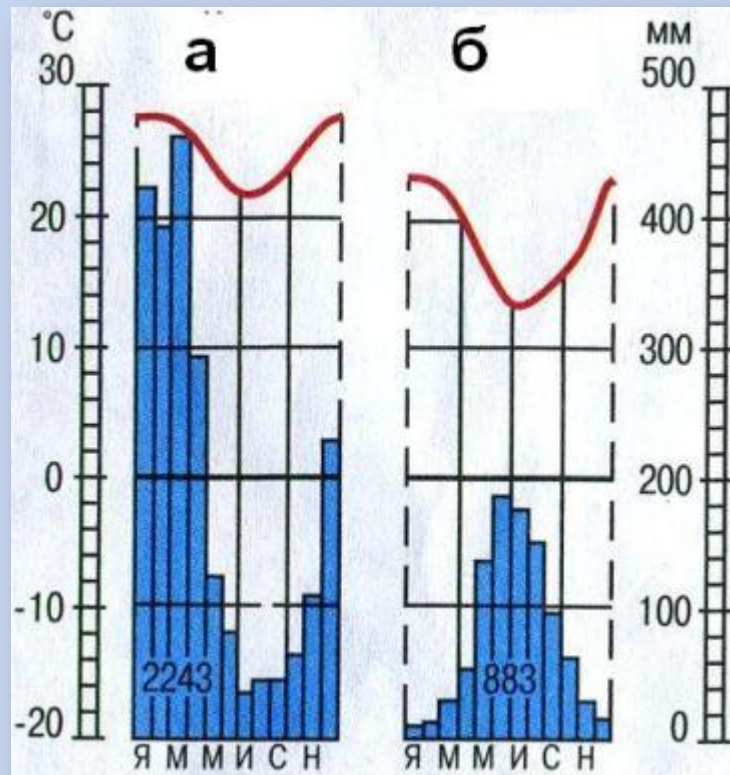
**Урок не  
понравился.**

**Информация  
была для меня  
сложной.**



## Домашнее задание:

1. Прочитать параграф № 36. Ответить на вопросы в конце параграфа.
2. Используя климатические диаграммы, определите: средние температуры января и июля, годовую амплитуду температур, годовое количество осадков, режим выпадения осадков.
3. Используя климатические диаграммы, определите тип климата по каждой из них, и укажите, для каких частей материка он типичен.
4. Южнее Австралии расположен о. Тасмания. Этот остров находится в умеренном климатическом поясе. Используя карты атласа и дополнительную литературу, постройте климатическую диаграмму для этого острова (*дополнительное задание*).





# STACHNEBAMA VPRKI

