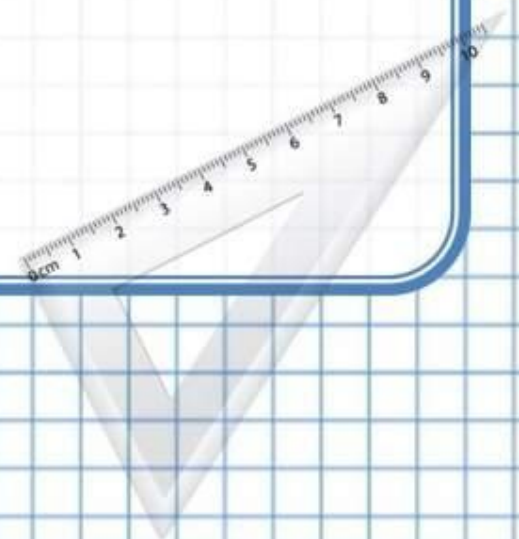


Математика **3** класс
УМК «Школа России»

Треугольники
по видам углов





Считаем устно, называя только ответ!


800 : 2 = 400

120 · 3 = 360

480 : 3 = 160

200 · 5 = 1000

270 : 90 = 3





Считаем устно, называя только ответ!


560 : 80 = 7

110 · 4 = 440

460 : 2 = 230

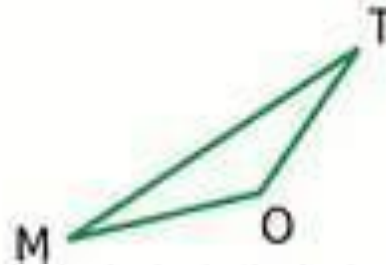
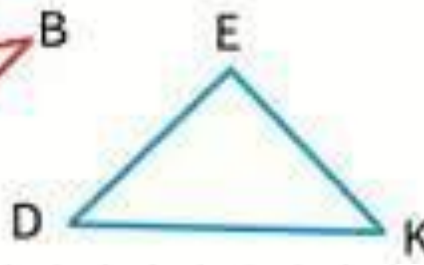
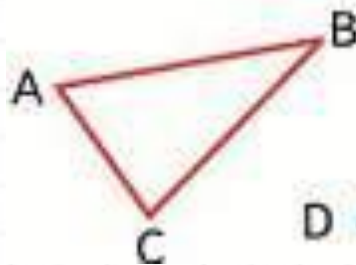
300 · 3 = 900

240 : 80 = 3





Назовите фигуры одним словом.
Что это?



многоугольники

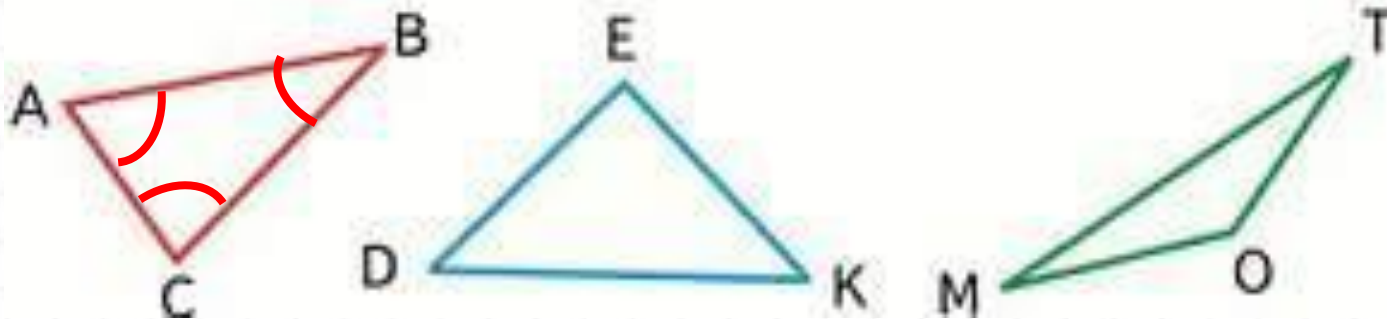
треугольники

Будем учиться различать треугольники по видам их углов

с. 85



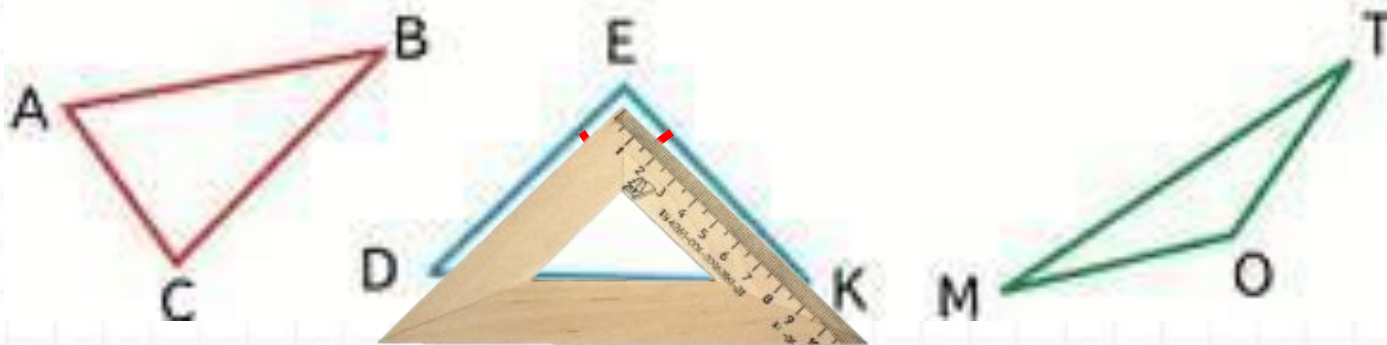
Работаем с чертежами учебника!



- В треугольнике ABC все углы острые. Такой треугольник называют **остроугольным**.



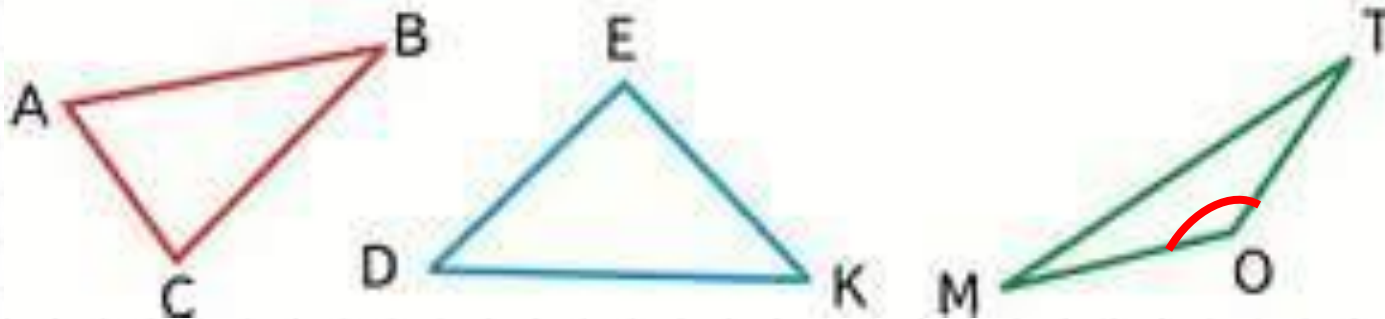
Работаем с чертежами учебника!



- В треугольнике **DEK** есть прямой угол. Такой треугольник называют **прямоугольным**.



Работаем с чертежами учебника!



- В треугольнике OMT есть тупой угол.
Такой треугольник называют **тупоугольным**.

Учимся определять треугольники по группам!

- 1) Разбей эти равнобедренные треугольники на 2 группы. Запиши номера треугольников, которые войдут в первую и вторую группы.
- 2) Назови номера прямоугольного и тупоугольного треугольников.



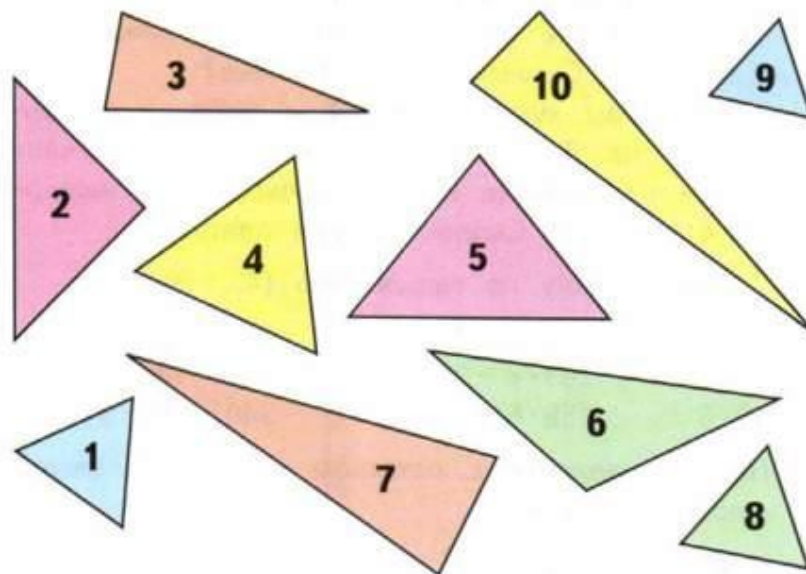
1. 1, 4, 8, 9

равносторонние

2. 2, 3, 5, 6, 7, 10

равнобедренные

2, 6



с. 86 з. 4