


Персидская держава

План урока.

- 1.Нововавилонское царство в 7-6 в. до н.э.**
- 2.Возникновение Персидского государства и его армия.**
- 3.Завоевания персов.**
- 4.Персидская держава при Дарии Первом.**

1.Нововавилонское царство в 7-6 в. до н.э.

После гибели
Ассирийской державы
все Двуречье
покорилось
вавилонскому царю, а
Вавилон стал самым
большим городом
Азии.



1.Нововавилонское царство в 7-6 в. до н.э.

Питер Брейгель
Старший.
Вавилонская
башня.



Величие города подчеркивало власть царя.
С какой целью была построена Вавилонская башня?

2. Возникновение Персидского государства и его армия.

Персы – народ, населявший земли вблизи Персидского залива.

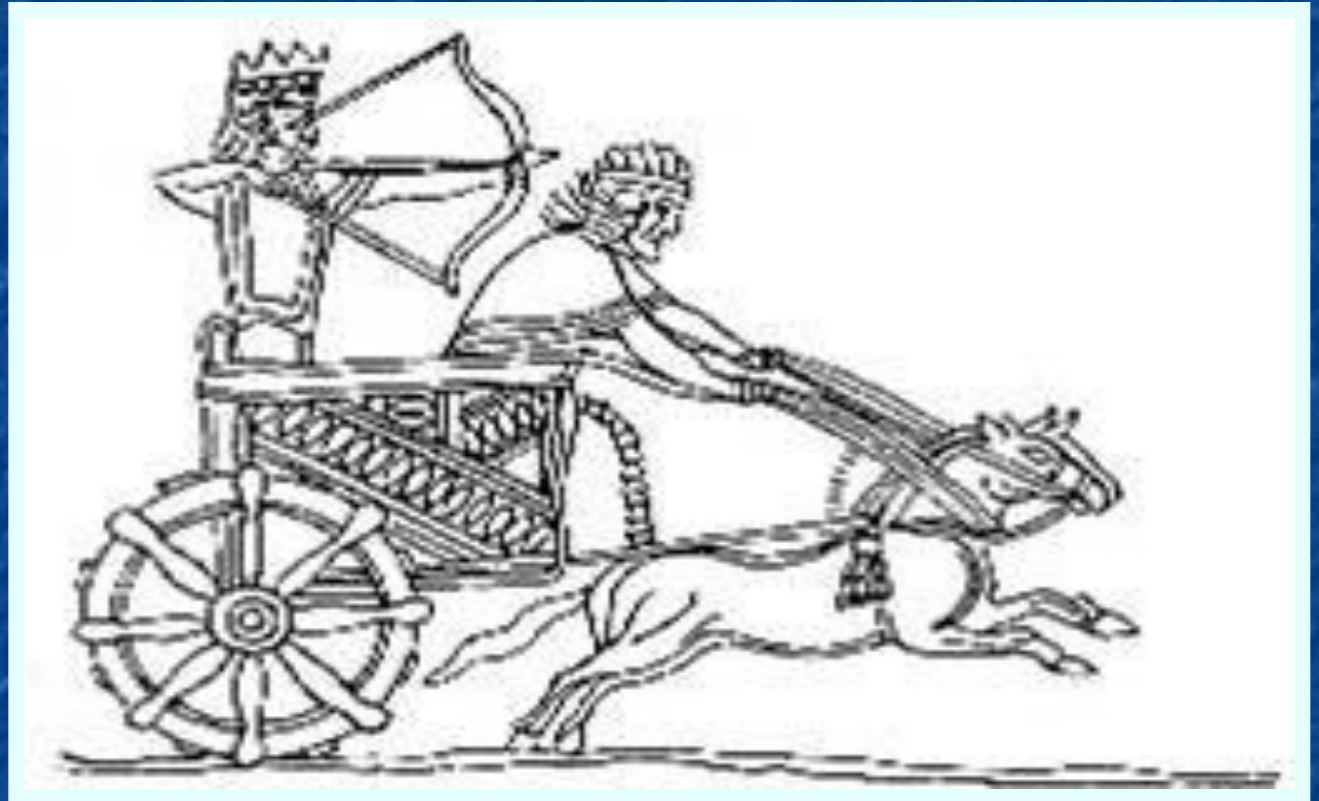
2. Возникновение Персидского государства и его армия.



Рассмотрите рисунок и опишите вооружение персидского воина. Чем оно отличается от вооружения воинов уже известных вам армий?

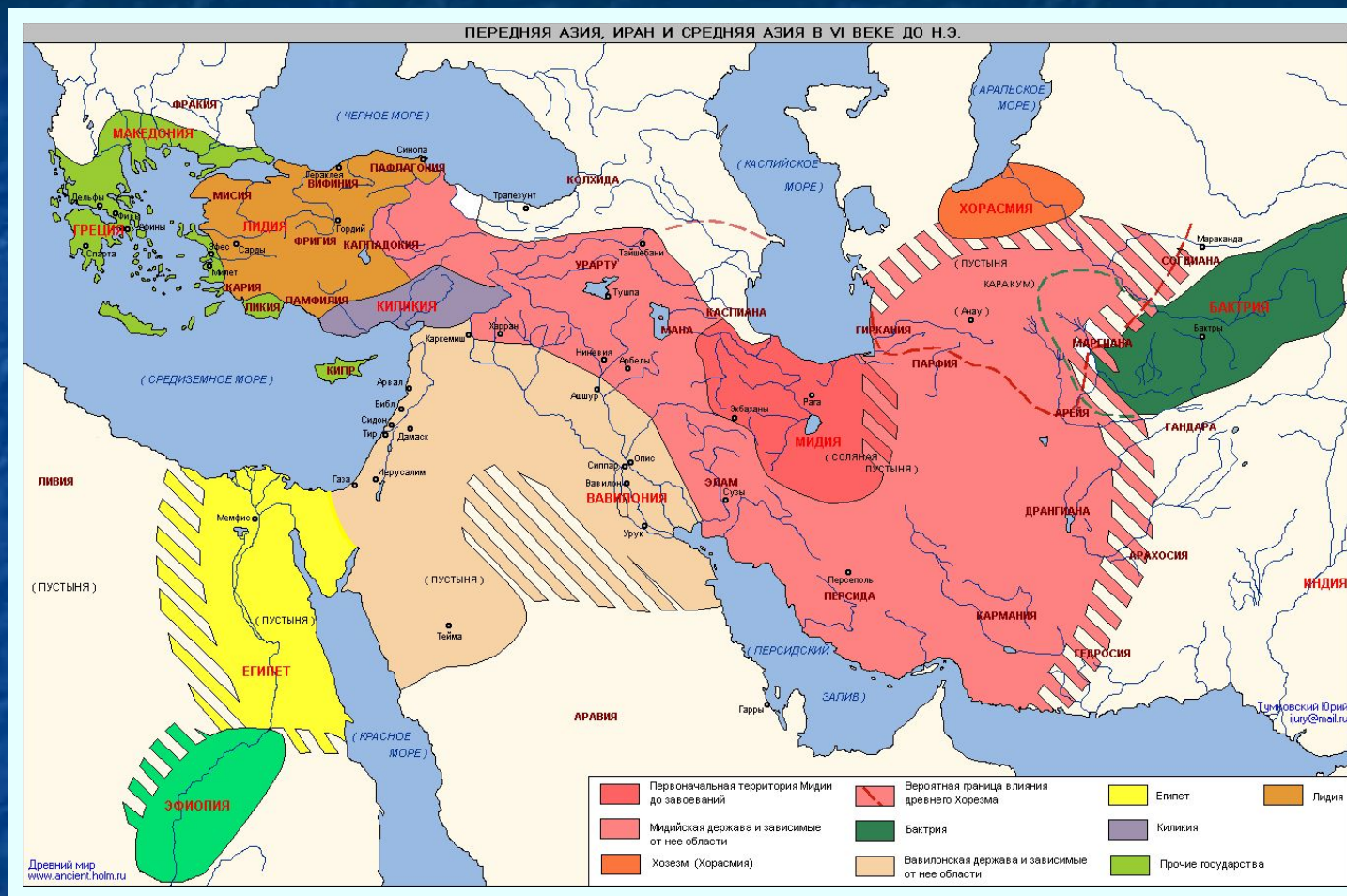
2. Возникновение Персидского государства и его армия.

Колесница персов.



В Вавилоне впервые появилась кавалерия. В чем преимущества кавалерии перед колесницами?

3. Завоевания персов.



Персы завоевали Хорасмию, Бактрию, Мидию, Лидию, Македонию, Грецию, Египет, Эфиопию.

3. Завоевания персов.

- 550 г. до н.э. – восстание персов против мидийского царя, завоевание Мидии
- 547 г. до н.э. – поражение лидийского царя Креза и завоевание персами Лидии
- 538 г. до н.э. – захват Вавилона и подчинение персам всей Вавилонской державы
- 525 г. до н.э. – Камбиз захватил Египет

3.Завоевания персов.

Ассирийские
солдаты
грабят Вавилон.
Рельеф 7 в.до н.э.



Во главе с царем Киром в 538 г. до н.э. персидское войско захватило Вавилон, а в 525 г. до н.э. овладело и Египтом.

4. Персидская держава при Дарии Первом.

Лестница
царского дворца
в Персеполе.



4. Персидская держава при Дарии Первом.



Статуя Дария I.

“Великий бог, который создал небо, землю и человека, Дария сделал царем, единым над многими царями” - говорили персидские мудрецы.

Почему население государства подчинялось власти царя?

Для чего была необходима сильная царская власть в столь огромном, как Персия, государстве?

Домашнее задание

- П. 19, объяснить значение схемы, зад. 80-82

