

**Приём вычитания
с переходом через десяток.**

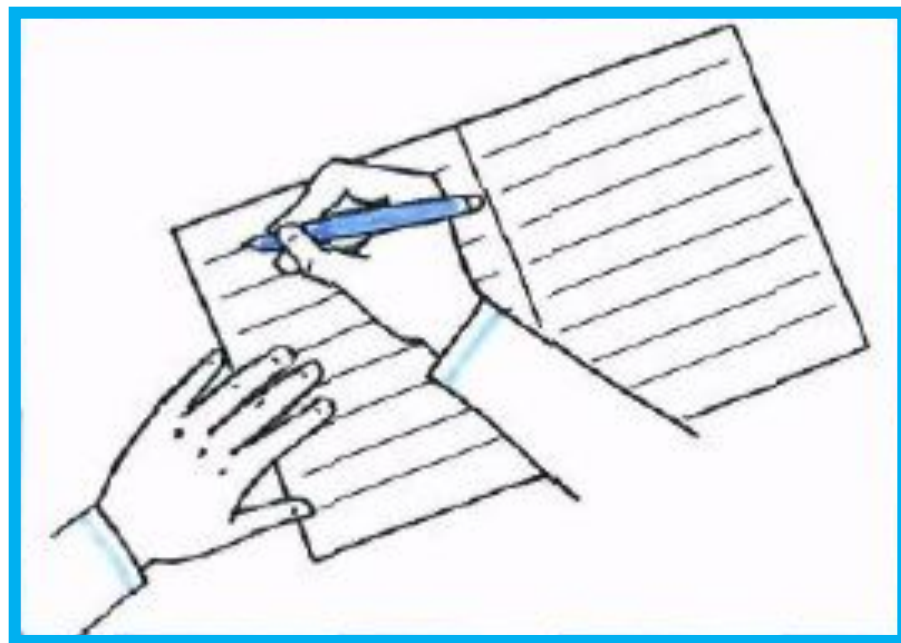
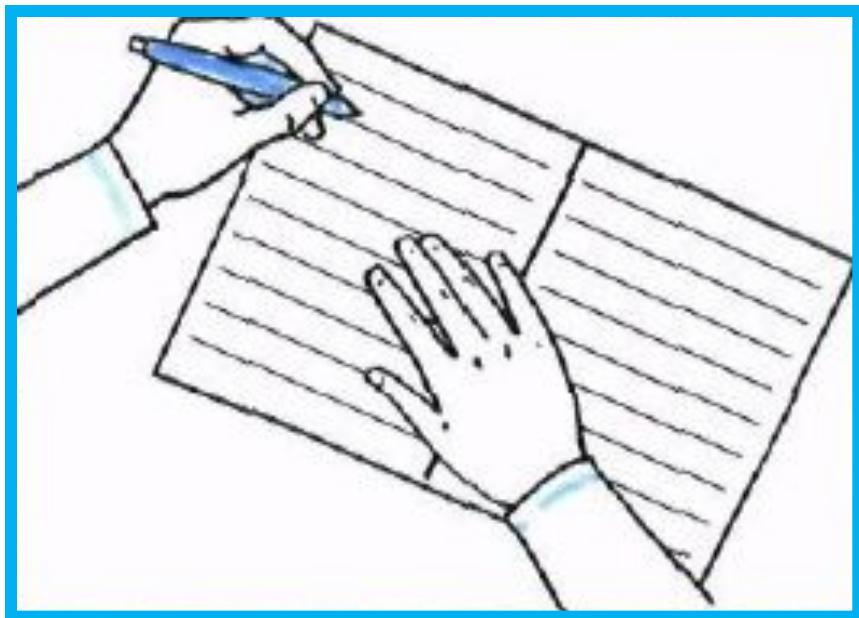
Случаи вычитания 11-

Урок № 113

ВОТ ТАК ПРАВИЛЬНО!



ВОТ ТАК ПРАВИЛЬНО!



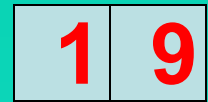
29 апреля.
Классная работа.

Каллиграфическая минутка.

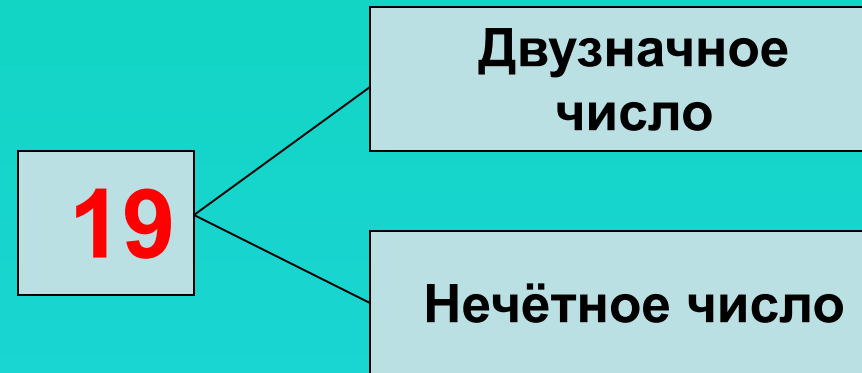
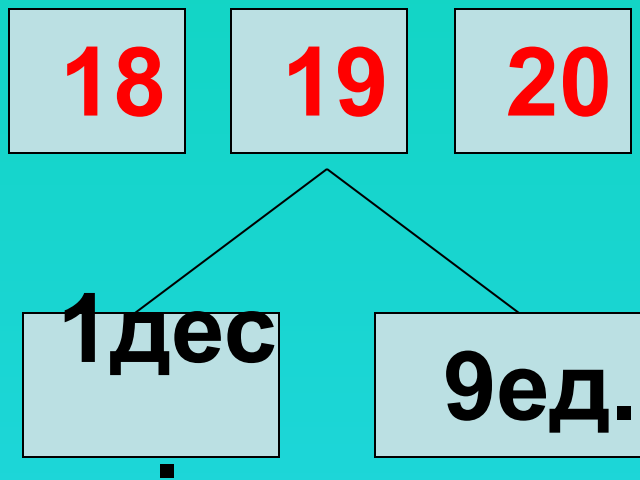


19 19 19 Число прописать

-Какие цифры использовали для записи числа 19?



-Расскажи всё , что знаешь об этом числе.



**Математический диктант
по теме
«Сложение и вычитание.
Числа от 11 до 20»**

Запиши только ответы



**Продолжи
высказывание:
11 – это 5 и**



**Сколько нужно
прибавить к числу
7, чтобы
получилось 11?**



**Число 12
уменьши на 10.**



**Уменьшаемое
равно 12,
вычитаемое равно
2. Чему равна
разность?**



**Чему равна
разность чисел 15 и
4?**



**Какое число на 9
меньше числа 19?**



**Число 14
уменьши на 14.**



**Найди сумму
чисел 8 и 9.**



**Юля купила 16
ручек
и 4 карандаша.
На сколько ручек
больше, чем
карандашей?**



**Зайчиха старшему
зайчонку дала
6 морковок,
младшему – 5.
Сколько всего
морковок раздала
зайчиха?**



Проверь себя!

1. 6

2. 4

3. 2

4. 10

5. 11



УСТНЫЙ СЧЁТ


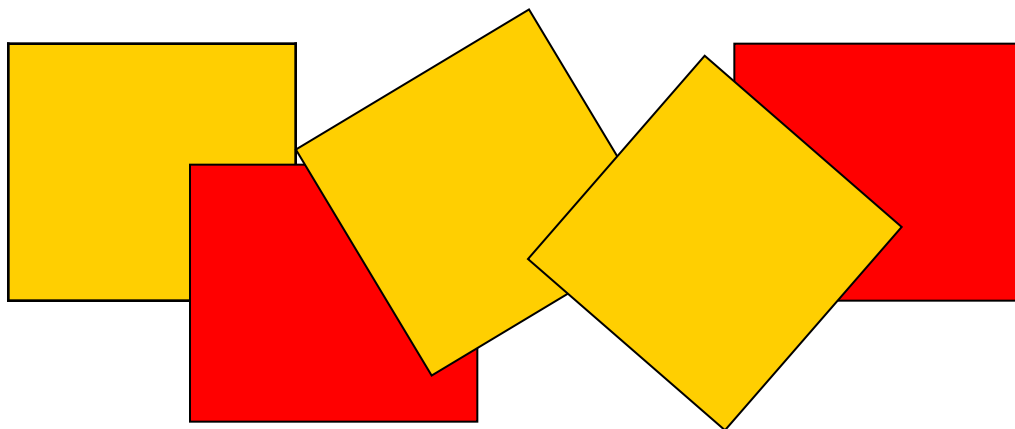


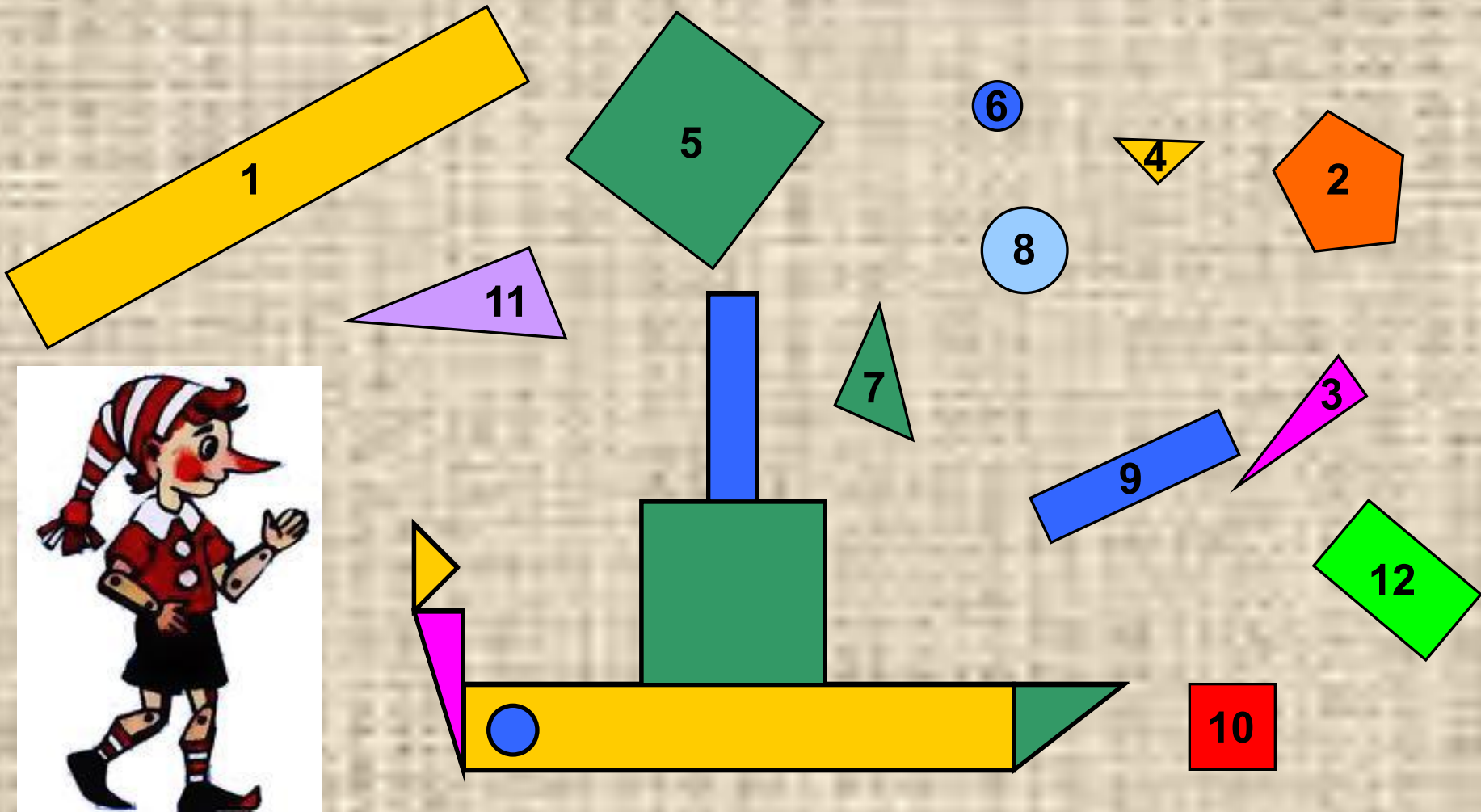



УСТНЫЙ СЧЁТ

- Увеличь на 1 числа: 11, 15, 17, 19
- Уменьши на 1 числа: 13, 14, 19, 11
- Назови соседей числа: 15, 18, 11

**Какие фигуры нарисованы?
Каких больше и на сколько?**





Построим пароход для Буратино

В ящике **15** кг яблок, а в корзине на **10** кг меньше.
Сколько кг яблок в корзине?



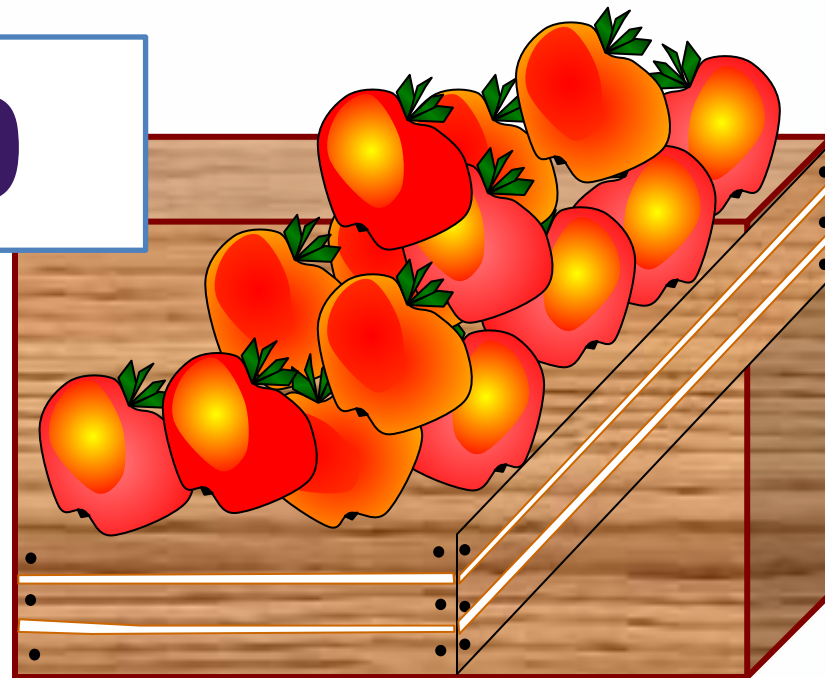

5

$$15 - 10 = 5$$


КГ Сколько всего кг яблок в ящике и корзине
вместе?



$$15 + 5 = 20$$



После того как Петя решил **6** примеров, ему осталось решить **9**. Сколько примеров нужно решить Пете ?



15

$$9 + 6 = 15$$

Устный счет

$10 - \dots = 7$

$10 - \dots = 6$

$10 - \dots = 5$

$10 - \dots = 8$

$10 - \dots = 9$



$10 - \dots = 4$

2 3 6 9 4 7 1 8 5

НОВЫЙ МАТЕРИАЛ



РАБОТА ПО УЧЕБНИКУ



Стр. 82

Объясни, как из числа 11 вычесть 4.

▶

11	
2	
3	
4	
5	



$$\begin{array}{r} 11 - 4 \\ \hline 11 - 1 - 3 \end{array}$$

Вычисли и запомни.

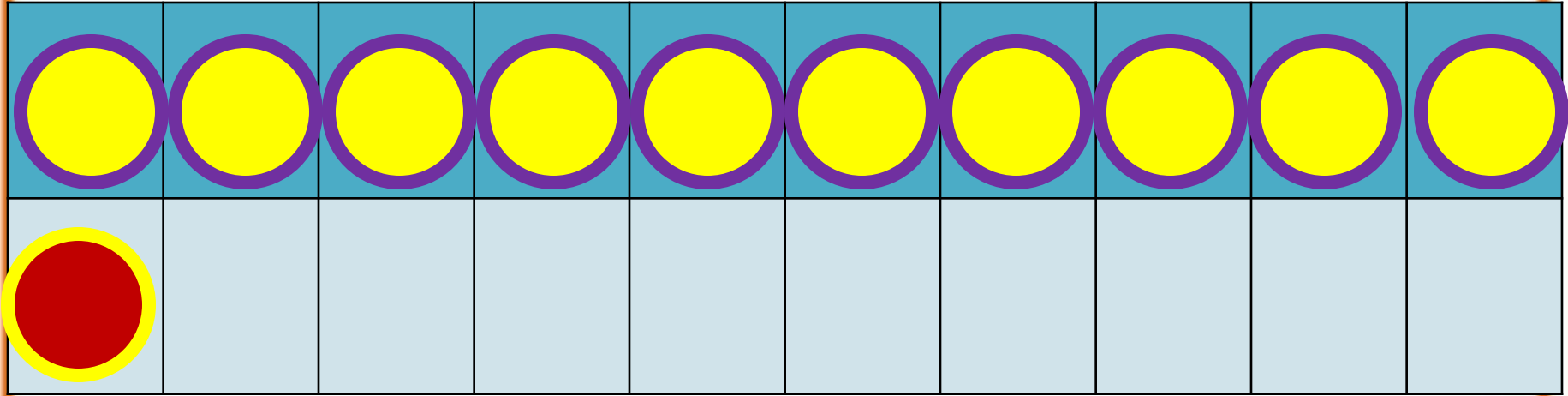
$11 - 2$	$11 - 3$	$11 - 4$	$11 - 5$
$11 - 9$	$11 - 8$	$11 - 7$	$11 - 6$

Состав числа

11

	9	8	7	6
11	2	3	4	5

1



2




способ

$$11 - 2$$

$$11 - 1 - 1$$

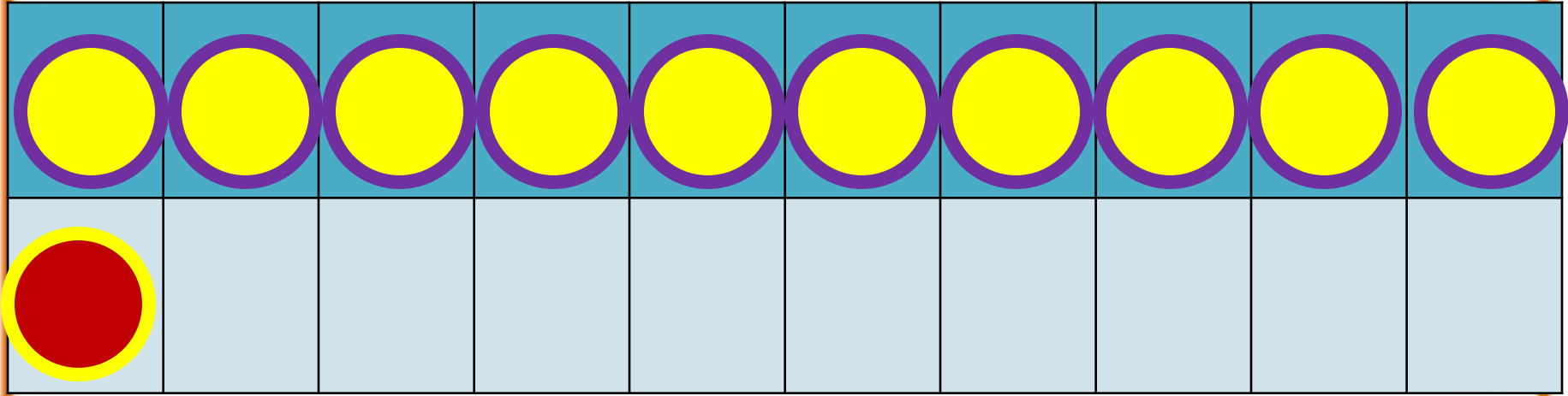
№ 1.

$$11 - 2 = 11 - 1 - 1 = 10 - 1 = 9$$


1 1


(нажми на пробел)

Письменн
о



$$11 - 3$$

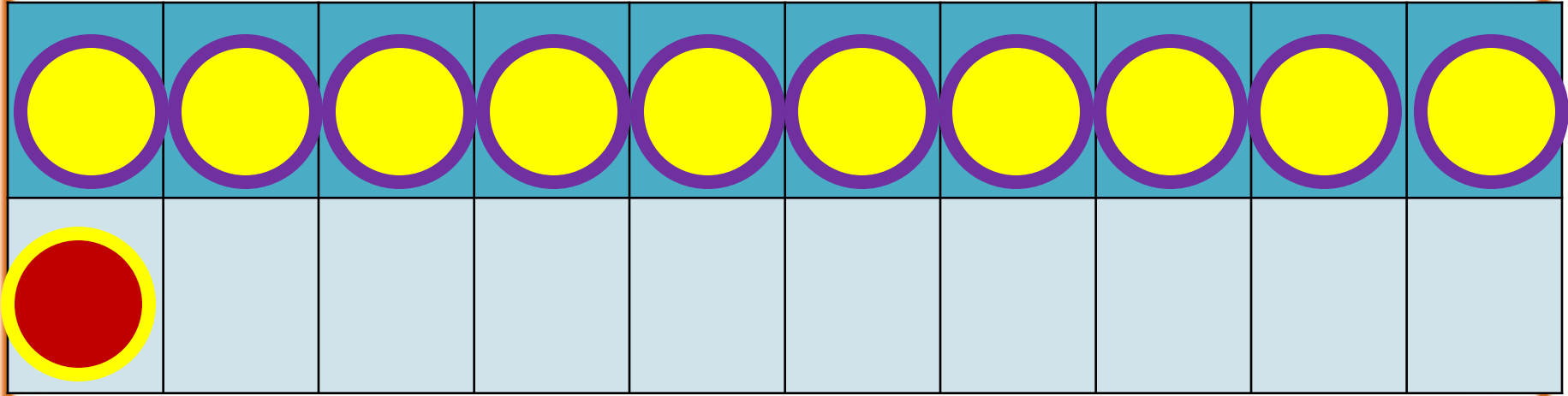
$$11 - 1 - 2$$

$$11 - 3 = 11 - 1 - 2 = 10 - 2 = 8$$


1 2

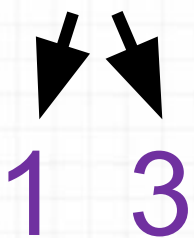
(нажми на пробел)

Письменн
о



$$11 - 4$$

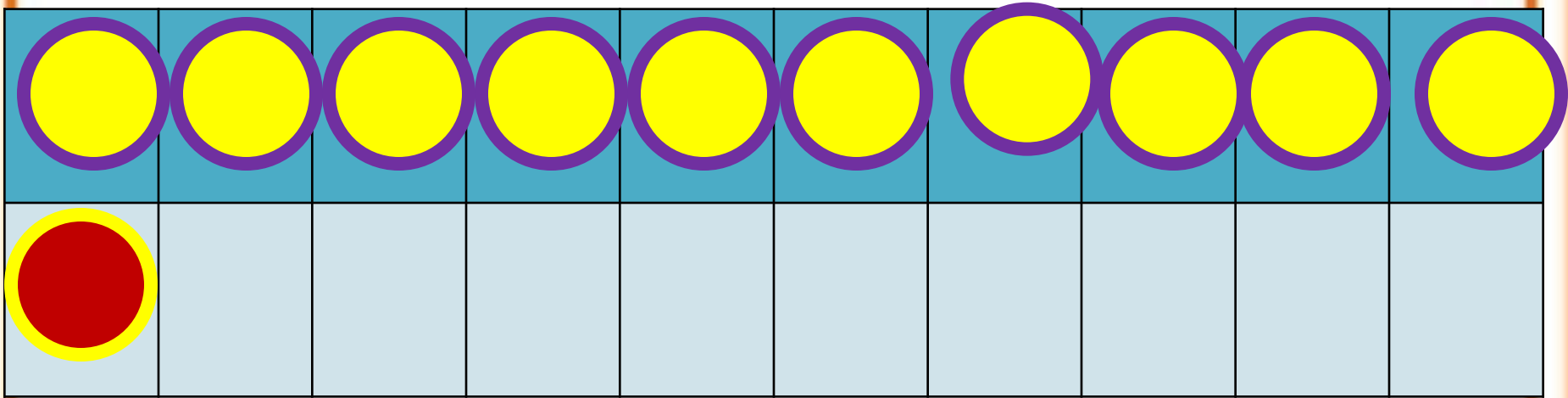
$$11 - 1 - 3$$

$$11 - 4 = 11 - 1 - 3 = 10 - 3 = 7$$


1 3


(нажми на пробел)

Письменн
о



$$11 - 5$$

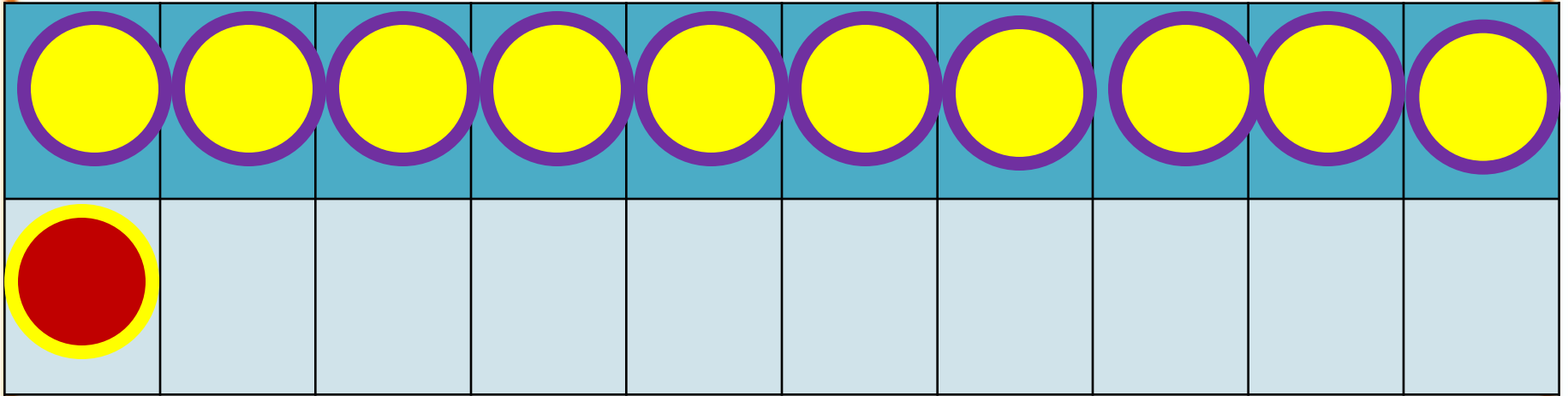
$$11 - 1 - 4$$

$$11 - 5 = 11 - 1 - 4 = 10 - 4 = 6$$


1 4


(нажми на пробел)

Письменн
о



$$11 - 6$$

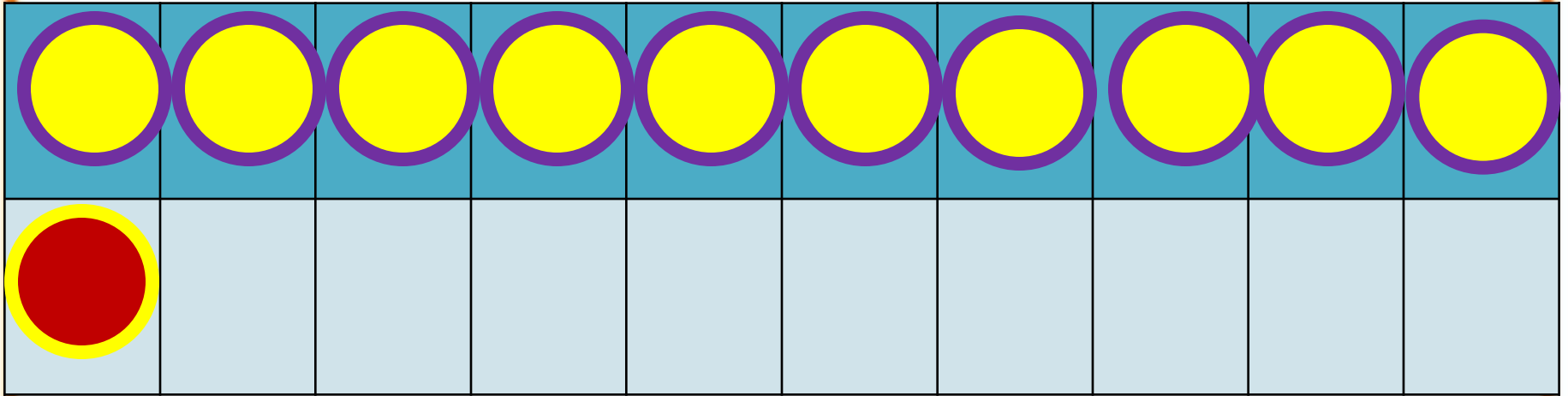
$$11 - 1 - 5$$

$$11 - 6 = 11 - 1 - 5 = 10 - 5 = 5$$


1 5


(нажми на пробел)

Письменн
о



$$11 - 7$$

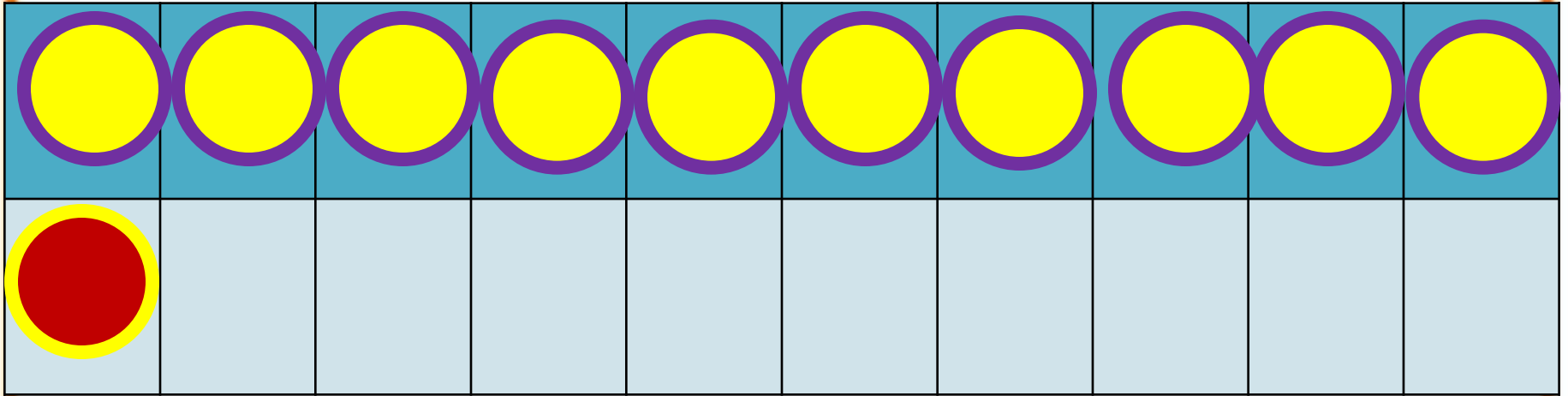
$$11 - 1 - 6$$

$$11 - 7 = 11 - 1 - 6 = 10 - 6 = 4$$


1 6


(нажми на пробел)

Письменн
о



$$11 - 8$$

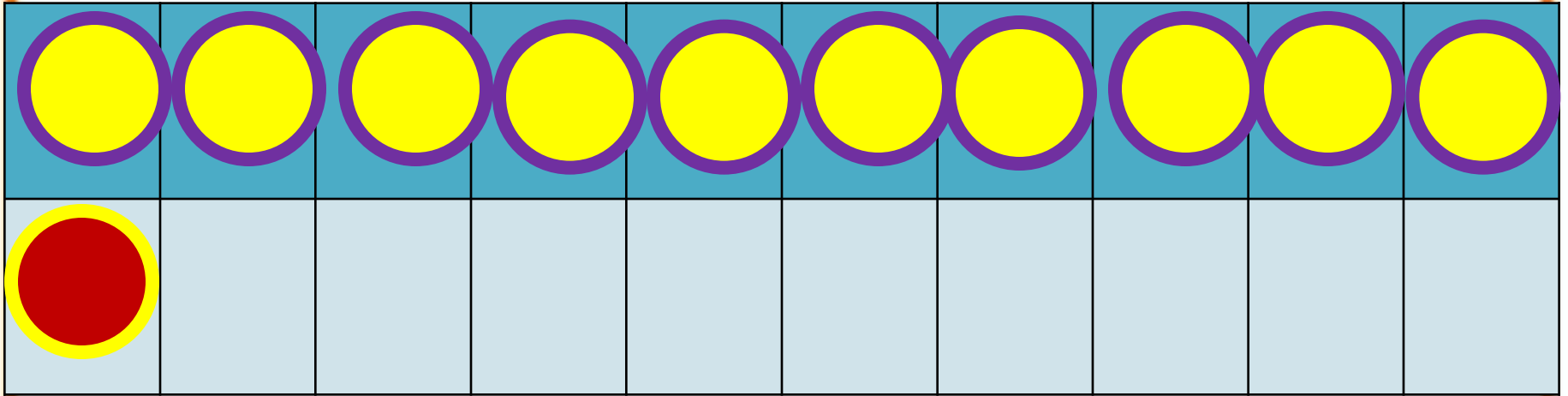
$$11 - 1 - 7$$

$$11 - 8 = 11 - 1 - 7 = 10 - 7 = 3$$


1 7

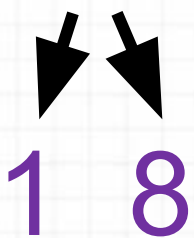
(нажми на пробел)

Письменн
о



$$11 - 9$$

$$11 - 1 = 8$$

$$11 - 9 = 11 - 1 - 8 = 10 - 8 = 2$$


1 8

(нажми на пробел)

Письменн
о

Запомни!

$$11 - 2 = 9$$

$$11 - 3 = 8$$

$$11 - 4 = 7$$

$$11 - 5 = 6$$

$$11 - 6 = 5$$

$$11 - 7 = 4$$



$$11 - 8 = 3$$

$$11 - 9 = 2$$

Физкультминутка

**Раз – подняться, подтянуться,
Два – согнуться, разогнуться,
Три – в ладоши три хлопка,
Головою три кивка.
На четыре – руки шире.
Пять – руками помахать,
Шесть – за парты сесть опять.**

РАБОТА ПО УЧЕБНИКУ



Задача 4, с. 81



Из пластилина Саша сделал 5 разных поделок, а Дима на 2 поделки меньше. Сколько всего поделок сделали мальчики?



Письменно



Проверь себя!



Задача № 4


Саша – 5 п.

Дима - ?, на 2 п. м.

} ? п.

Письменно

Проверь себя!



1) $5 - 2 = 3$ (п.) – Дима.

2) $5 + 3 = 8$ (п.)

Ответ: 8 поделок всего сделали мальчики.

Письменно

У папы в одной сумке арбуз массой 7 кг, а в другой - 4 кг яблок и 2 кг помидоров. Какая сумка легче и на сколько килограммов?



7 кг



4 кг



2 кг

Письменно

Проверь себя!

I с. – 7 кг

?

II с. - 4 кг и 2 кг

на ? кг м.



1) $4 + 2 = 6$ (кг) – масса II сумки.

2) $7 - 6 = 1$ (кг)

Ответ: на 1 кг груз во второй сумке легче, чем в первой.

Письменно


ЗАДАНИЯ НА СМЕКАЛКУ



3 девочки нарисовали двух кошек и зайца. Что рисовала Ася, если Катя с Асей и Лена с Асей рисовали разное?



**Ася -
зайца.**



Стоит в поле дуб. На дубе **три** ветки, на каждой ветке по **три** яблока. Сколько всего яблок?



**На дубе яблоки
не растут.**





Ты пилот самолета, летящего из Парижа в Москву с посадкой в Киеве. Время в полете - 2 часа. Сколько лет пилоту?



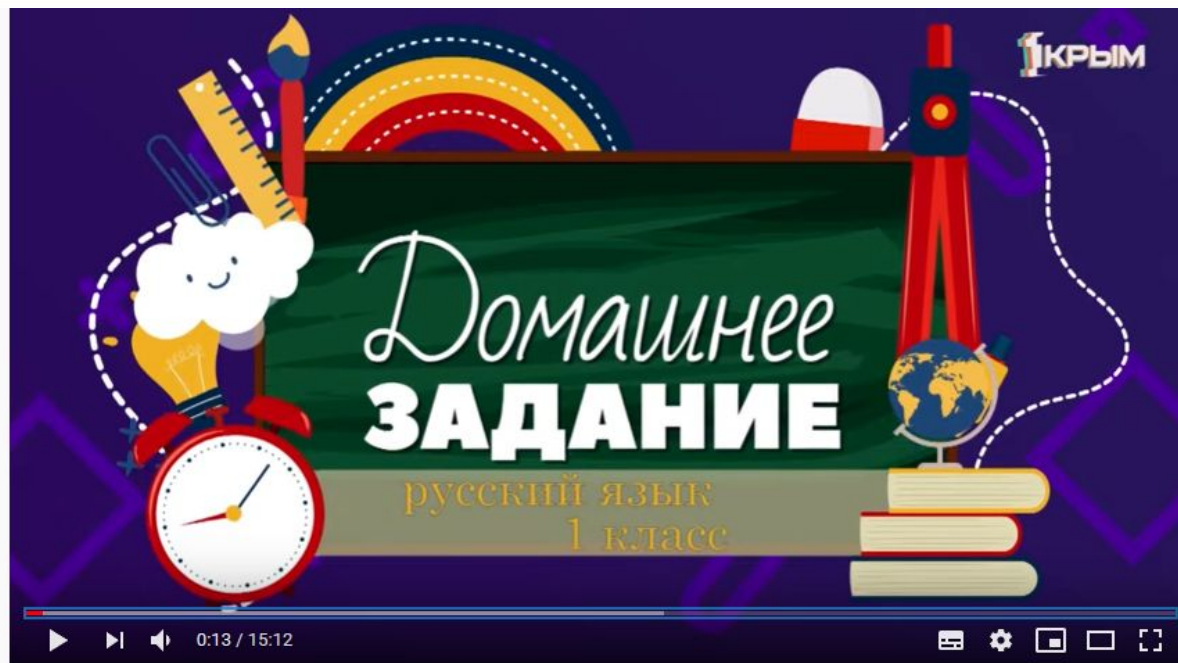
А сколько тебе?

Какого цвета стоп-кран в поезде и в самолете?



**В самолете нет
стоп-крана.**

Посмотри видеоурок!



https://vk.com/away.php?to=http%3A%2F%2F1tvcrimea.ru%2Fcontent%2Fdomashnee-zadanie-1-klass-matematika-russkiy-yazyk-okruzhayushchiy-mir-vypusk-ot-27042020&cc_key=

Продолжи предложение

- Мне на уроке понравилось ...
- Мне показалось трудным ...
- Главным своим результатом считаю ...
- На уроке работал(а) ...