

Экологическая игра «*Знакомые незнакомцы*»

Животные нашего края

Выполнила ученица 8 класса
МОУ СОШ №12

Гордиевских Маша

Руководитель: учитель биологии
Антонюк Н.Б.



Задание 1.

Укажите название рыб.



рис.1



рис.2



рис.3




рис.4



рис.5

рис.6



ОТВЕТЫ:

1-таймень;

2- хариус;

3 – ерш;

4 – окунь;

5 – гольян;

6 – щука.



Задание 2. Викторина

Какая птица принимает позу – «столбик»
во время опасности ?

Выпь



Кто кукует у кукушки: самец или самка ?



самец



Почему « приемные » родители не выбрасывают яйца кукушки ?



Они такого же размера и цвета



У дятлов самец или самка имеют на голове красную «шапочку»?

- самец



Чистят ли свою добычу филины и совы?



Нет, заглатывают целиком



Какие птицы едят грибы?



- Глухари



Второе название этой птицы – ледоломка. Что это за птица ?



трясогуска



Птица – «пересмешник»



скворец



Птица, имеющая страсть к блестящим предметам?



сорока



Кто из птиц поет: «Фи- липп, Фи- липп, приходи чай- пить, с саа-ха- ром, выпьем, выпьем»?



Певчий дрозд



Маленькие птицы летом сбиваются в стаи, достигающие летом нескольких сотен особей.



- воробьи



Какая птица откладывает яйца белого цвета, усеянные красновато-коричневыми точками ?



синица



Каких птиц больше всего на свете?

- Скворцов и воробьев.



Задание 3. Чем отличается жабы от лягушек?

- Жабы не квакают. У них бородавчатая кожа. Ноги у жабы короткие и слабые. Жабы питаются неподвижными насекомыми.



Лягушка



жаба



Задание 4. Кто из данных животных не относится к семейству собачьих?



Рис.1



Рис.2



Рис.3



Рис.4



Отвeты:

Рис.1- Волк

Рис.2- Енот

Рис.3- Лисица

Рис.4- Хорёк



Задание 5. Что лишнее?

Чем питается еж?

- беспозвоночные;
- яйца птиц;
- грызуны;
- грибы;
- ягоды



Грибы, ягоды

Что не характерно кроту?

- шерстный покров невысок;
- волосы могут наклоняться вперед и назад;
- питается червями;
- детеныши слепые

Детеныши слепые



Чем не питается белка?

- семена хвойных деревьев;
- почки елей;
- сережки ив и осин;
- молодые листочки
- березовый сок;
- ягоды
- рыба.
- грибы



рыба

Как ориентируются летучие мыши?

- с помощью эхолокации;
- при помощи обоняния;
- с помощью осязания;



- С помощью эхолокации



Задание 4.

Назовите данных животных.



Рис.1



рис.2



рис.3



рис.4

Отвeты:

1. Горноста́й

2. Куница

3. Ласка

4. норка



Назовите этих животных?



Глухарь



Бурозубка



Назовите этих животных?



Медведь



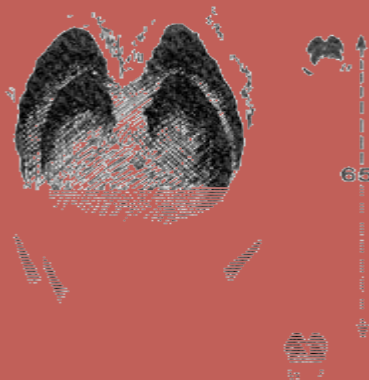
Росомаха



задание 6.

Чьи это следы?

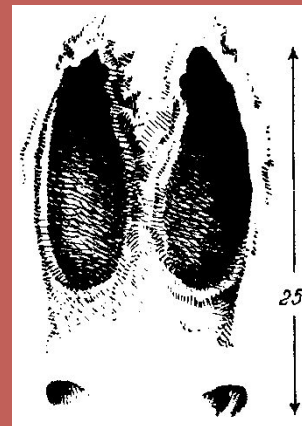
Кабан



Медведь



Рысь



Лось



Кабан



Медведь



Рысь



Лось



задание 7. Для чего кошкам усы?



- Вибриссы распознают предметы на ощуп, как пальцы.



Какова жирность молока у зайчихи?

- 70%
- 15%
- 2%

15%



Какие животные спят с открытыми глазами?



- Рыбы и змеи.



Кто из этих животных всю зиму спит и не просыпается?

- Сурок- НЕТ
- Хомяк- ДА
- Хорек- НЕТ



СПАСИБО ЗА ВНИМАНИЕ!!!

