



# Південна

# Америка

Географічне положення.

Відкриття, дослідження та освоєння материка.



# Як було відкрито Південну Америку?

Сухопутні шляхи до Індії були блоковані арабами. Тому європейці були змушені шукати морські шляхи до держави, де можна було придбати перець, корицю, гвоздику, мускатний горіх, які високо цінувалися в середньовічній Європі, інколи на вагу золота.



**Христофор Колумб**

(1451-1506)



Христофор Колумб вірив у кулястість Землі, тому вирішив прямувати до Індії у зворотньому напрямку — через Атлантичний океан.



Відкривши Кубу, Колумб вирішив, що це східна околиця Азії. Офіційною датою відкриття Америки вважається саме **12 жовтня 1492 року.**



Чому ж відкриті Колумбом землі одержали ім'я Америкго Веспуччі?

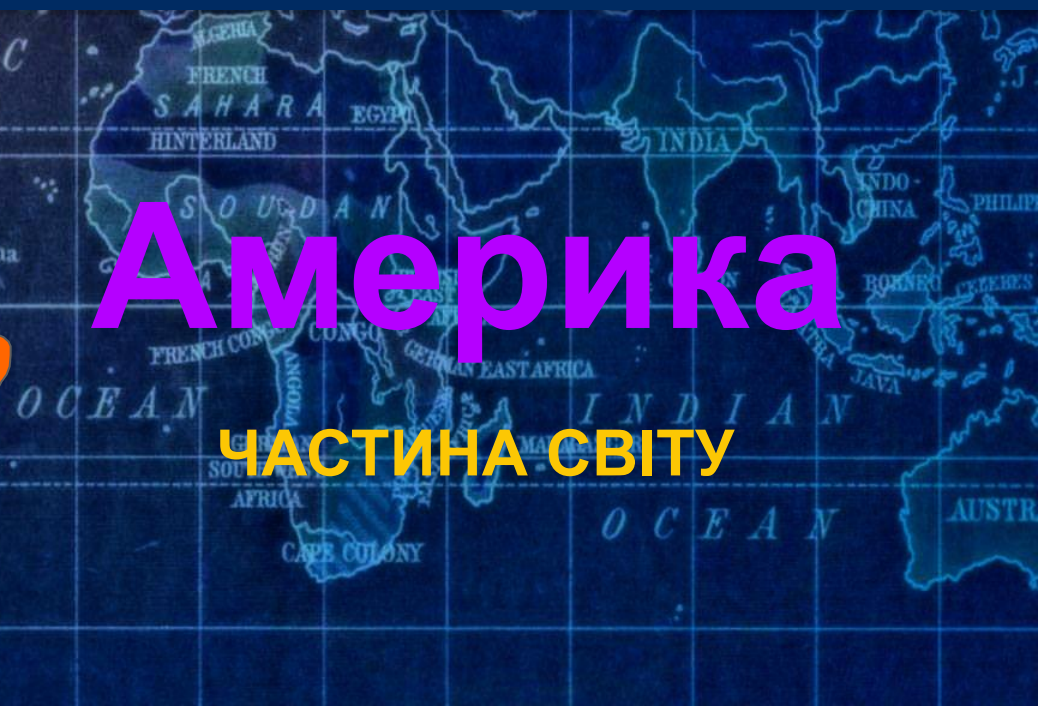
Америкго Веспуччі, дослідивши у 1501-1502 рр. східний берег від  $5^{\circ} 25'$  до  $25^{\circ}$  пд. ш., довів, що ця земля — материк, і описав його природу, дав назву **Новий Світ**



**Америкго Веспуччі**

(1454-1512)

Через це лотарінгський картограф Мартін Вальдземюллер у 1507 р. назвав цей материк його ім'ям, а потім ця назва поширилася на обидва західні материки.



# Америка

ЧАСТИНА СВІТУ

# Учені-дослідники Південної Америки



**Александр Гумбольдт** уперше описав окремі частини материка, перетнувши його від саван у басейні річки Оріноко до пустель західного узбережжя.

Учений відкрив багато невідомих раніше видів рослин і тварин.

# Учені-дослідники Південної Америки



**Чарльз Дарвін** — англійський натураліст і мандрівник на судні «Бігль» — дослідив узбережжя Південної Америки, зібрав величезну кількість колекцій рослин і тварин. Під час дослідження материка вчений розробив основу еволюційної теорії розвитку органічного світу на Землі.



# Колонізація Америки

Відкриття Америки стало значною подією, проте було затьмарене колонізацією. За Х. Колумбом у пошуках нових земель і багатств з Європи рушили завойовники. Їхні походи супроводжувалися винищенням і поневоленням народів Південної Америки, спустошенням і пограбуванням земель.



Починаючи з XVI ст. у нововідкриті землі за золотом та сріблом ринули тисячі іспанських і португальських завойовників. Саме на цьому материку вони шукали Ельдорадо - міфічну країну золота. Вогнем і мечем було знищено цивілізацію інків, що існувала на території сучасної країни Перу.





Франсіско Пісарро  
(1468–1541),  
Завойовник Перу.  
Знищив імперію Інків.



Південну Америку було перетворено на колоніальні володіння. Переселенці з Європи заселяли прибережні та придатні для землеробства райони, а місцеве населення відтісняли у внутрішні та гірські райони материка.

# Фізико-Географічне положення Південної Америки

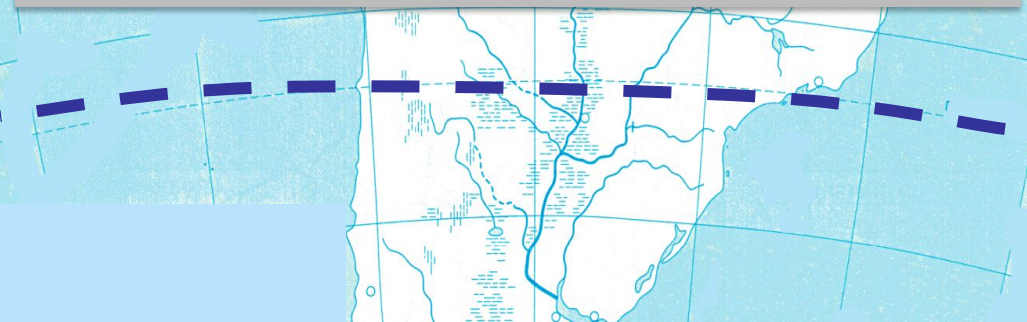
*Згадаймо план характеристики ФГП материка*

- 1.** Положення відносно **екватора**.
- 2.** Положення відносно **0° меридіана**.
- 3.** Положення відносно **тропіків** та **полярних кіл**.
- 4.** Положення відносно **інших материків**.
- 5.** Положення відносно **морів** та **океанів**.
- 6.** Крайні точки материка та їх географічні координати.

**Північна  
Америка**



Материк перетинається **екватором** у північній широкій частині, тому там багато опадів



Відносно **нульового меридіана** він повністю лежить у *Західній півкулі*



**Антарктида**

1. Положення відносно **екватора**.
2. Положення відносно **0° меридіана**.
3. Положення відносно **тропіків та полярних кіл**.
4. Положення відносно **інших материків**.

# Фізико-Географічне положення Південної Америки





За географічним положенням Південна Америка найбільш схожа з Африкою. Порівнявши положення Південної Америки й Африки можна помітити риси як схожості, так і відмінності (які?).

Карибське

Завдання

Віднайдіть в атласі та підпишіть на контурній карті назви **водних об'єктів**

Панамський канал

5. Положення відносно морів та океанів.

Тихий океан

Атлантичний

канал

Панамський

Ла-Плата

Магеланова

Дрейка

океани

Атлантичний

Тихий

моря

Карибське

затоки

Ла-Плата

протоки

Магеланова

Дрейка

НАСТ



Завдання:

Віднайдіть в атласі та підпишіть на контурній карті назви океанічних течій

Перуанська

Пустеля Атакама



Фолклендська

Гвіанська

Бразильська

наст

течії
Гвіанська
Бразильська
Перуанська
Фолклендська

## 6. Крайні точки материка

Пн

1

3

3х

4

Завдання:

Визначити сторони  
горизонту

Віднайти крайні  
точки на **фізичній**  
карті та позначити  
на **контурній** карті



наст

Пд

2

напрямок	назва точки
північна <b>1</b>	<i>мис</i> Галінас
південна <b>2</b>	<i>мис</i> Фроуерд
західна <b>3</b>	<i>мис</i> Париньяс
східна <b>4</b>	<i>мис</i> Кабу-Бранку

**Малі Антильські**

**Завдання:**

**Віднайдіть в атласі та позначте на контурній карті острови**

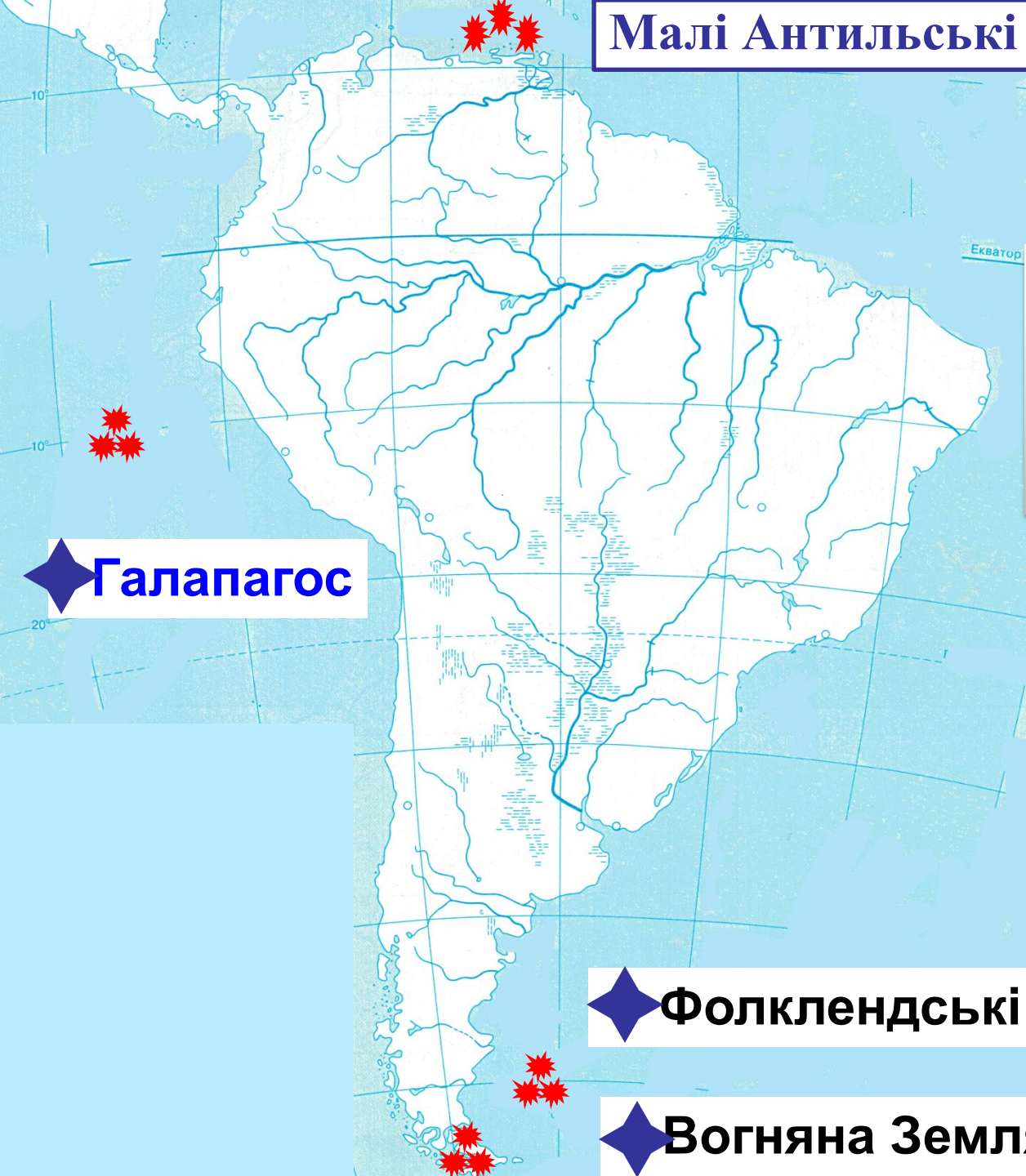
<b>острови</b>
Вогняна Земля
Фолклендські
Галапагос
Малі Антильські

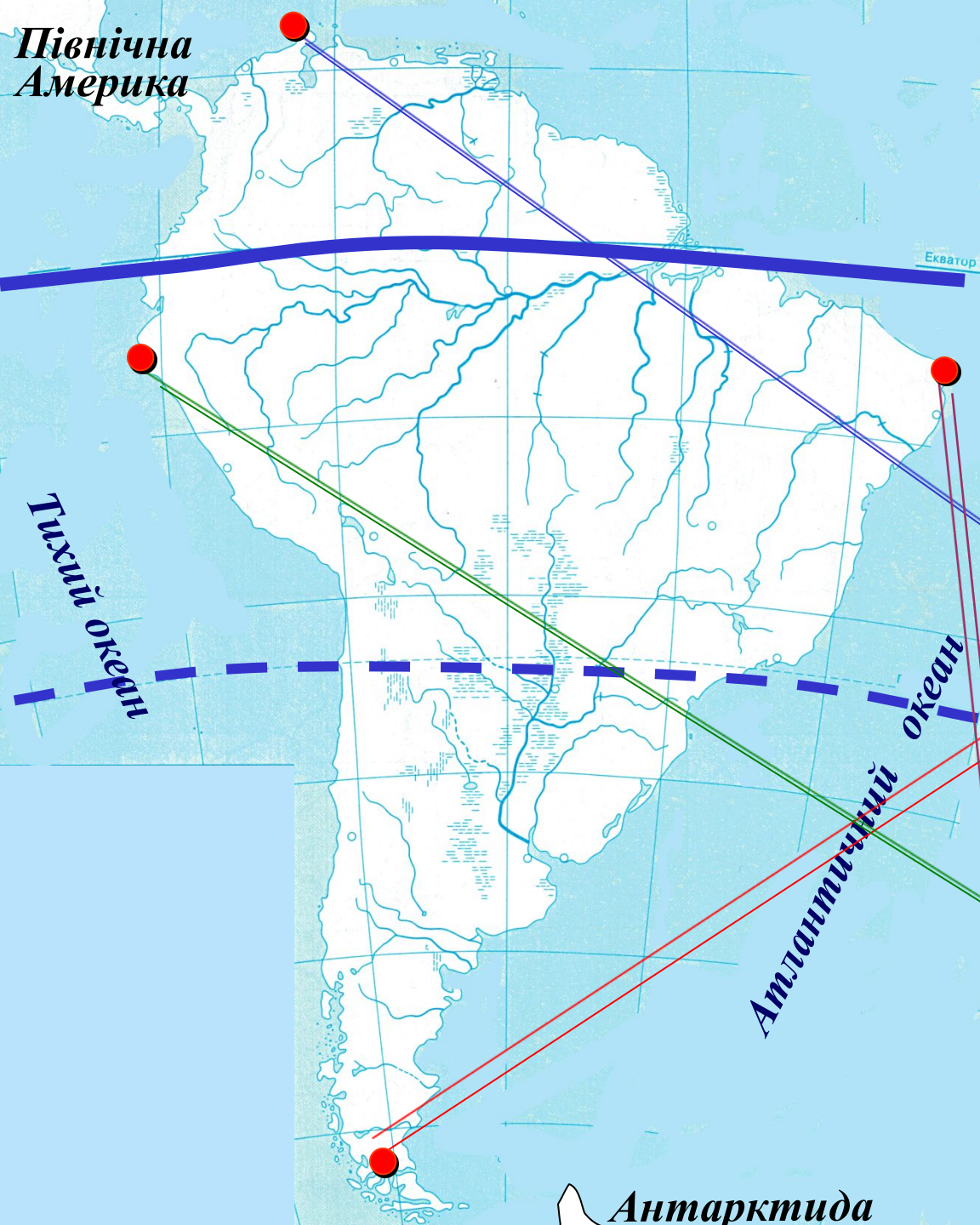
**Галапагос**

**Фолклендські**

**Вогняна Земля**

**НАСТ**





Назвіть Крайні точки материка:

м. Гальїнас  
( $12^{\circ}$  пн ш,  $72^{\circ}$  зх д)

м. Фроуерд  
( $54^{\circ}$  пд ш,  $74^{\circ}$  зх д)

м. Париньяс  
( $5^{\circ}$  пд ш,  $81^{\circ}$  зх д)

м. Кабу-Бранку  
( $7^{\circ}$  пд ш,  $35^{\circ}$  зх д)



Панамський канал  
Малі Антильські о-ви  
Гвіанська  
м. Гальїнас

м. Париньяс

м. Кабу Бранку

Перуанська

Бразильська

Магелланова протока

Протока Дрейка

Земля Ван-Дієн

О-ви Галапаґос

О-ви Хуан Фернандес


Екватор

## Панамський канал

Панамський канал сполучає два океани. Він був офіційно відкритим у 1920 р., хоча перше судно пройшло у 1914 р.



Панамський канал має довжину 81,6 км, глибину 12,5 м, ширину 105-305 м, 12 шлюзів. Щорічно крізь канал проходить понад 14 тис кораблів.



## *Магелланова протока*



**Фернан Маггелан**

(1480-1521)

Магелланова протока відокремлює материк Південну Америку від острова Вогняна Земля

Була відкрита 21 жовтня 1520 р. іспанською експедицією Маггелана та названа його ім'ям

Має найменшу ширину – 2,2 км, довжину 575 км, глибину 19,8 м. Має багато підводних скель та мілин.



Знімок з космосу

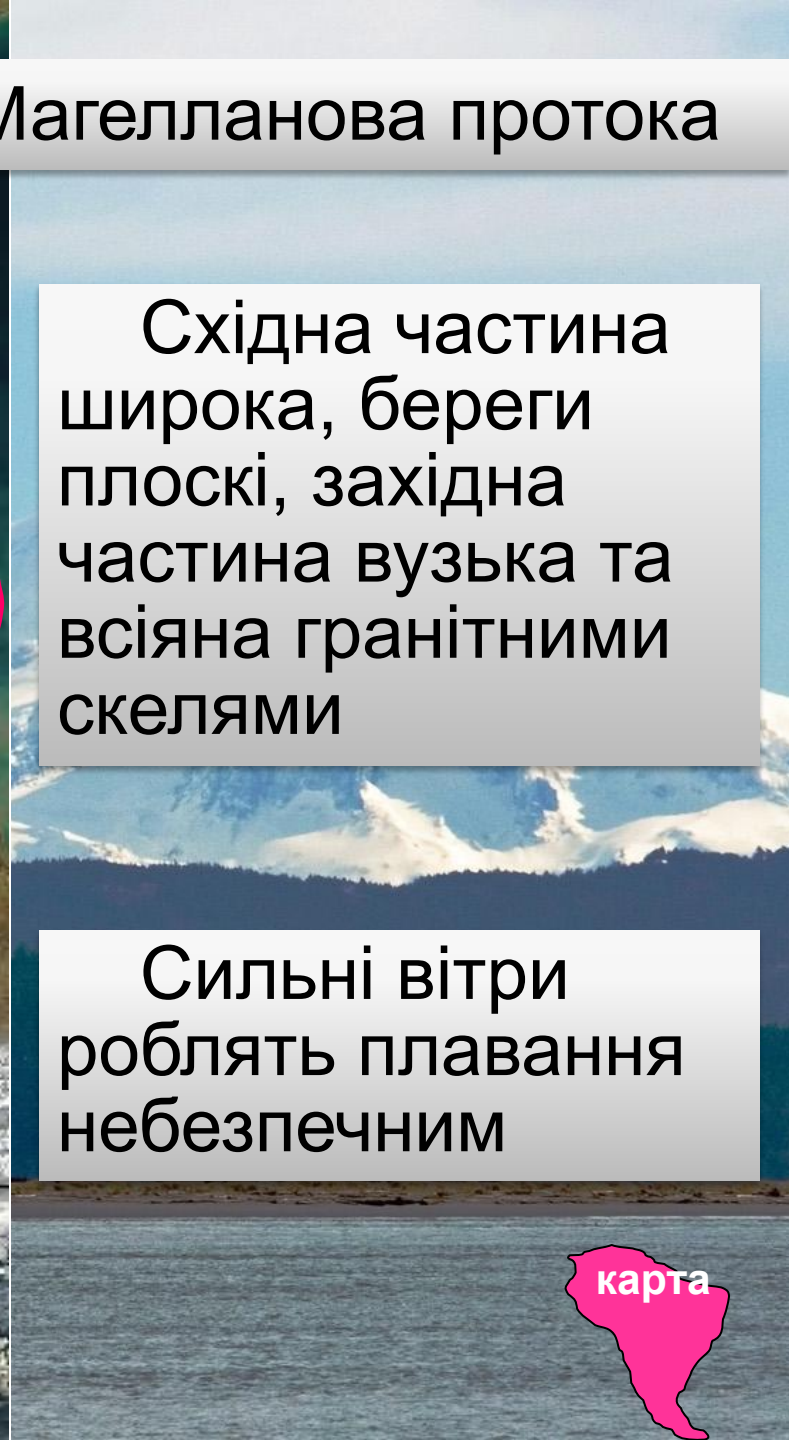
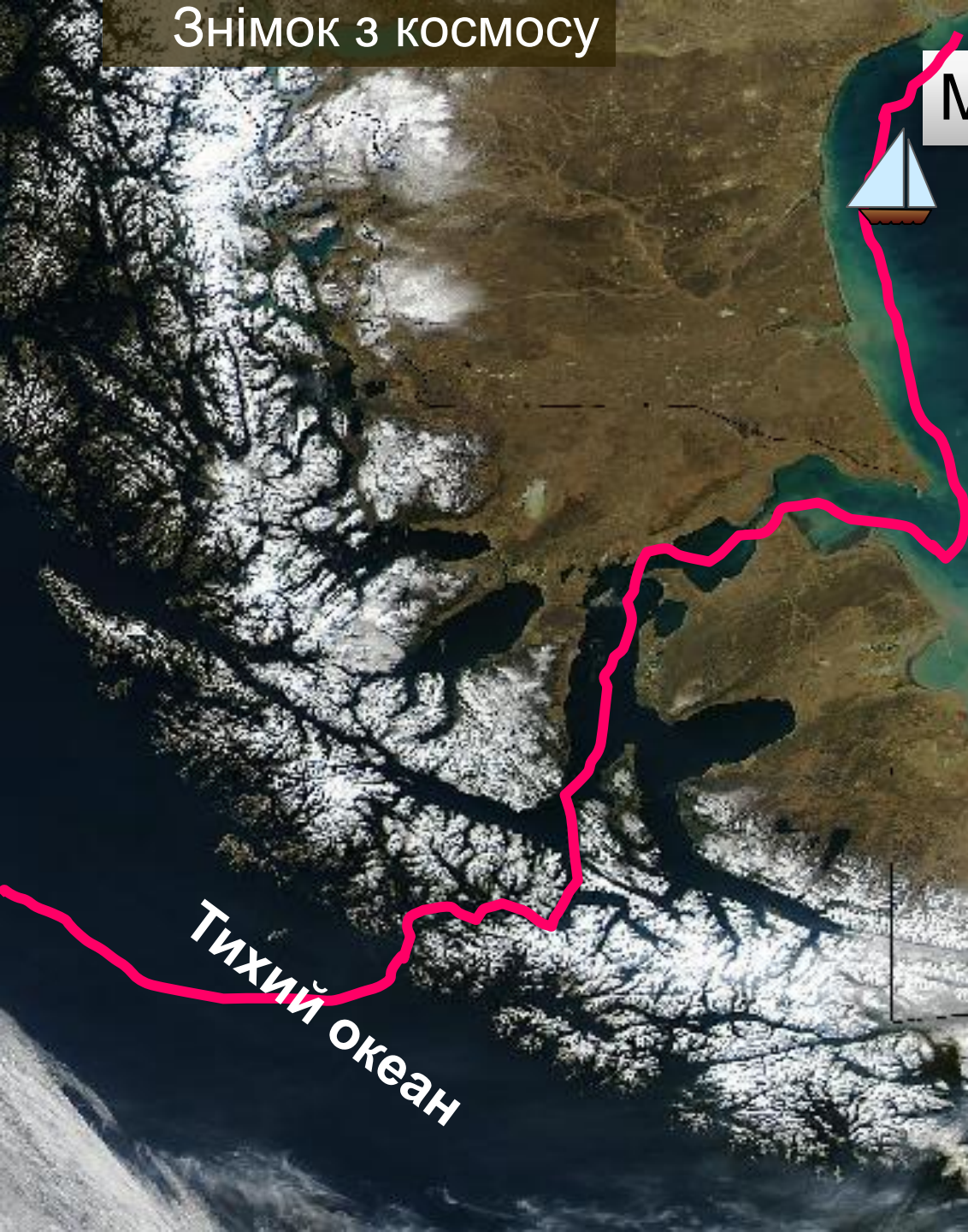
Магелланова протока

Східна частина широка, береги плоскі, західна частина вузька та всіяна гранітними скелями

Сильні вітри роблять плавання небезпечним

Тихий океан

карта





## Ла-Плата

Ла-Плата – затока, що являє собою затоплене морем гирло (естуарій) річок Парана та Уругваю. Назва у перекладі з іспанської означає “срібна річка”.

Вперше європейці побачили Ла-Плату у 1516 р., коли іспанський мореплавець **Хуан Діас де Соліс** висадився на берегах річки, шукаючи прохід у Тихий океан.

Першим поселенням на Ла-Платі у 1536 р. стало місто **Буенос-Айрес**.



*Ла-Плата з космосу*

## О-в Вогняна Земля



Вогняна Земля – архіпелаг островів (72 тис. км<sup>2</sup>). Відкритий Магелланом під час першої подорожі, коли він ночами бачив на скалах вогні кострів.



Природа острова сувора. Тут є гори, льодовики, ліси, фіорди. Вони чергуються з горбистими рівнинами, покритими луками й торфовими болотами.

карта



## Фолклендські о-ви



**Фолклендські (Мальвінські) острови** мають материкове походження. Їх площа невелика – 12,2 тис. км<sup>2</sup>.

Тут панують болота, подушкоподібні рослини, луки.

Відкриті у XVI ст. Названі на честь лорда Фолкленда, що здійснив сюди подорож.

карта



## Острови Галапагос

**Острови Галапагос** мають вулканічне походження. Вони лежать в 1000 км на захід від берега материка. Назва з іспанської мови означає “Черепашові острови”.




**Галапагоські слонові черепахи** мають масу до **300 кг.** Живуть **300-400 років.** Мають смачне ніжне м'ясо, що призвело у минулому до їх винищення.

карта







Один з островів **Хуан Фернандес** має назву **Робінзон Крузо**. Другий носить ім'я його прототипу – шкіпера **Олександра Селкірка**, який був сюди висаджений у 1705 р. капітаном корабля “П'ять портів” й жив тут протягом 4-х років.

Першими європейцями, які підійшли:  
до берегів Південної Америки, були  
моряки експедиції:

Васко да Гама

Христофора Колумба

Амеріго Віспуччі

Фернана Магелана

Південна Америка відокремлена від Антарктиди

протокою Магелановою

Суецьким каналом

протокою Дрейка

Панамським каналом

# Вчимось писати тести

Південна Америка відокремлена від  
Північної Америки:

Суецьким каналом

проотокою Магелановою

Панамським каналом

проотокою Дрейка

Встановіть відповідність між напрямками та крайніми точками

1 Південна



мис Галінас

2 Північна



мис Фроуерд

3 Східна



мис Париньяс

4 Західна



мис Кабу-Бранку

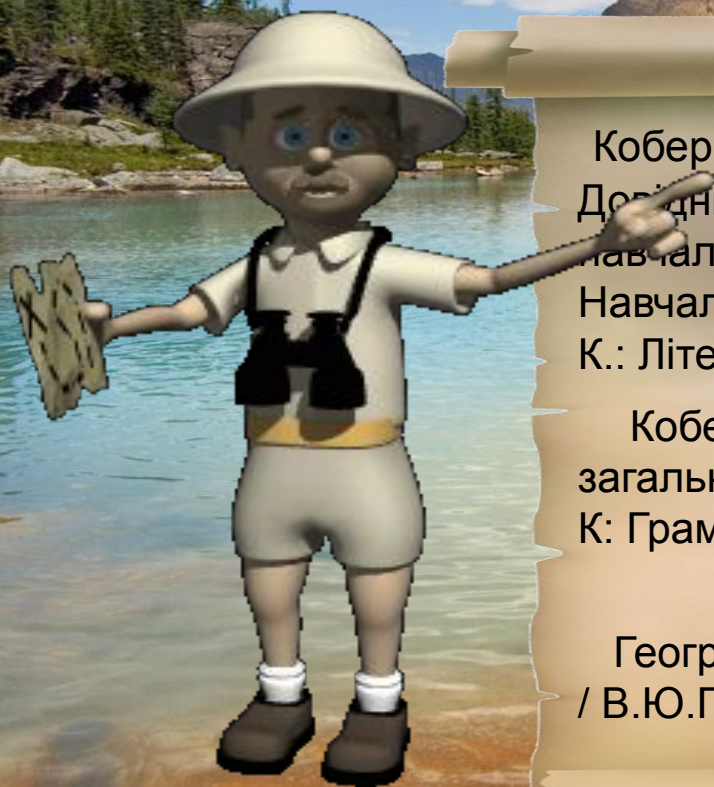
1

2

3

4





Кобернік С. Г., Коваленко Р. Р. Географія:  
Довідник для абітурієнтів та школярів загальноосвітніх  
навчальних закладів:  
Навчально-методичний посібник  
К.: Літера ЛТД, 2007.

Кобернік С. Г. Географія : підруч. для 7 кл.  
загальноосвіт. навч. закл. / С, Г. Кобернік, Р. Р. Коваленко.  
К: Грамота, 2015. — 288.

Географія: підручник для 7 кл. загальноосвіт. навч. закл.  
/ В. Ю. Пестушко, Г. Ш. Уварова. — Київ: Генеза, 2015.

20.11.2015