


Устный счёт

- Сколько надо прибавить к **5**, чтобы получить **6**?
- Какое число увеличили на **1**, если получили **4**?
- Какой знак надо поставить вместо звездочки:
8 * 1 = 7 ?
- Какое число уменьшили на **1**, если получили **6**?
- К какому числу прибавили **1**, если получили **9**?
- Найдите сумму чисел **4** и **1**.

1, 3, -, 7, 8, 5



Нумерация



Десять.



Десяток.



одиннадцать



двенадцать



тринадцать

11

Один над десятком

12

Два над десятком

13

Три над десятком



$$10 + 10 = 20$$



2. Сколько красных флажков на нитке? синих?



Сколько всего флажков? Как по-разному можно ответить на этот вопрос?


$$1 \text{ десяток} + 1 \text{ десяток} = 2 \text{ десятка}$$



Реши задачу на стр. 47 №3



7 л.



3 б.

на? б. м.

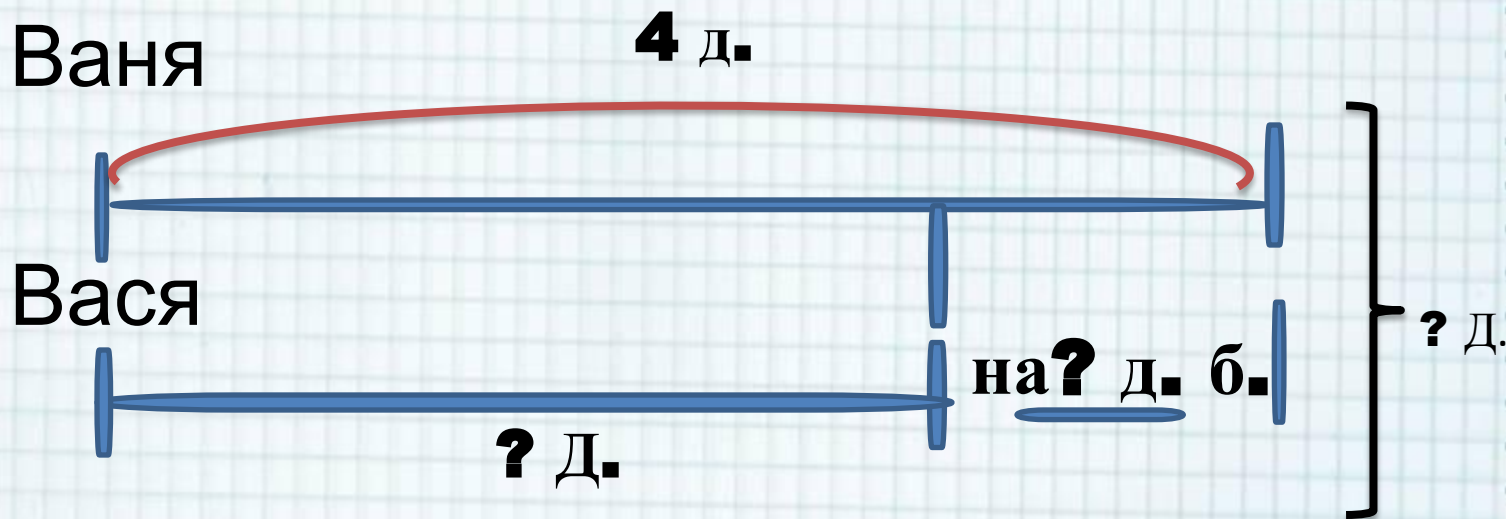

1) $7 + 3 = 10$ (д.) всего

2) $7 - 3 = 4$ (б.) меньше

Ответ: на 4 б. меньше, чем лип.



Реши задачу на стр. 47 №4



1) $4 + 2 = 6$ (д.) Вася

2) $6 + 4 = 10$ (д) всего


Ответ: 10 д. всего



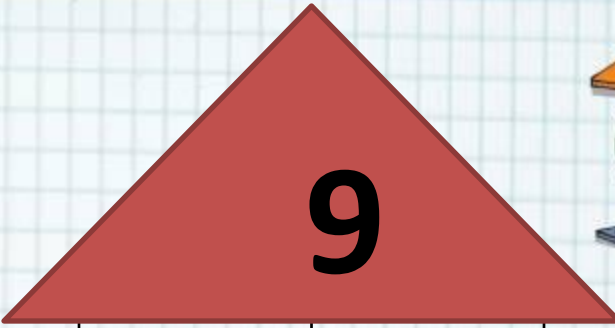
Самостоятельная работа

№ **5, 7** стр. **47**





| | |
|----------|----------|
| 5 | |
| | 6 |
| 8 | |
| | 7 |



| | |
|----------|----------|
| 7 | |
| | 5 |
| | 6 |
| 1 | |

