



Рассмотрите изображения памятников культуры и выполните задания 8, 9.

8

Какие два из представленных изображений являются памятниками культуры России, а какие — памятниками культуры зарубежных стран? Запишите в таблицу порядковые номера соответствующих памятников культуры.

Ответ:

Памятники культуры России		Памятники культуры зарубежных стран	

9

Выберите один из этих четырёх памятников культуры и укажите название города, в котором этот памятник культуры находится в настоящее время.

Выбранный Вами памятник культуры: (укажите порядковый номер).

Город: _____

1)



2)



3)




4)



ПЕКИН (ХРАМ НЕБА)



1)



2)



3)



4)



8

Какие два из представленных изображений являются памятниками культуры России, а какие — памятниками культуры зарубежных стран? Запишите в таблицу порядковые номера соответствующих памятников культуры.

Ответ:

Памятники культуры России		Памятники культуры зарубежных стран	

9

Выберите один из этих четырёх памятников культуры и укажите название города, в котором этот памятник культуры находится в настоящее время.

Выбранный Вами памятник культуры: (укажите порядковый номер).

Город: _____


ПРАГА (КАРЛОВ МОСТ)



1)



2)



3)



4)




ВОРОТА ХОЛЬСТЕНТОР В ЛЮБЕКЕ




СОБОР САНТА-МАРИЯ-ДЕЛЬ-ФЬОРЕ




1)




2)



3)



4)



ВИЛЬНЮС (ГОРА ГЕДИМИНА)

