

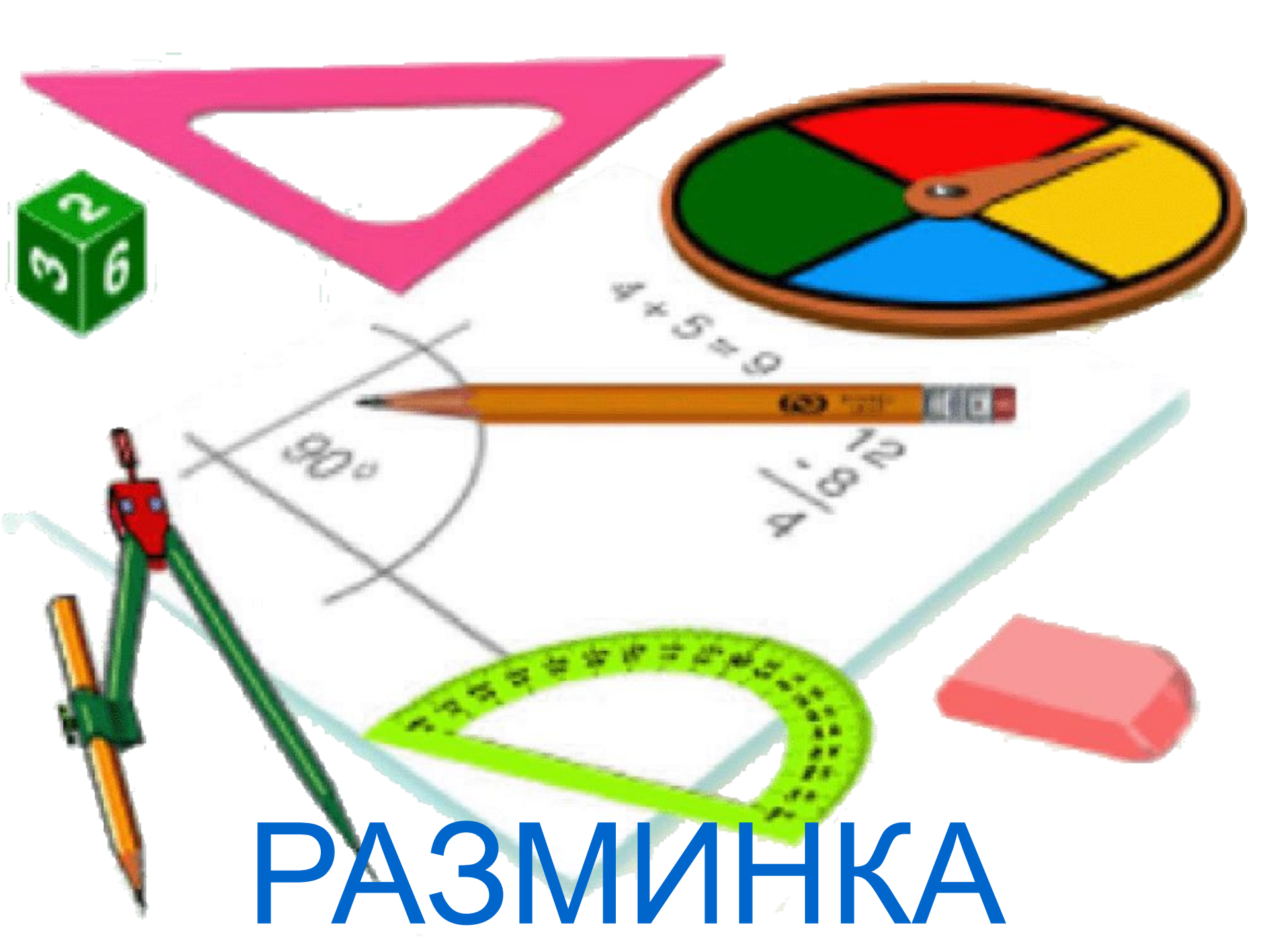
ПИК ЗНАНИЙ

УЧИТЕЛЬ МАТЕМАТИКИ

ДЕЯНОВА ЕЛЕНА

АЛЕКСЕЕВНА

МБОУ СТАРОЮРЬЕВСКАЯ
СОШ



РАЗМИНКА





СМЕКАЛИСТЫЕ

- 1. Какие часы два раза в сутки показывают верное время?
-
- 2. Можно ли в решете принести воду?
-
- 3. Сестре 4 года, брату 6 лет. Сколько лет будет брату, когда сестре исполнится 6 лет?
-
- 4. Кузнец подковал тройку лошадей. Сколько подков, пришлось ему использовать.



5



7



3



СМЕКАЛИСТЫЕ

- 1. В каком числе столько же цифр, сколько букв в его названии?
-
- 2. Назовите пять дней подряд, не называя чисел и дней недели.
-
- 3. Меня зовут Толей. У моей сестры только один брат. Как зовут брата моей сестры?
-
- 4. Имеет 4 зуба. Каждый день появляется на столе, а ничего не ест. Что это?



5



7



3



«ЛИНГВИСТИЧЕСКИЙ»



«Литературный»



В тридевятом царстве, в тридесятом государстве жили-были царь с царицей.

«ЛИТЕРАТУРНЫЙ»

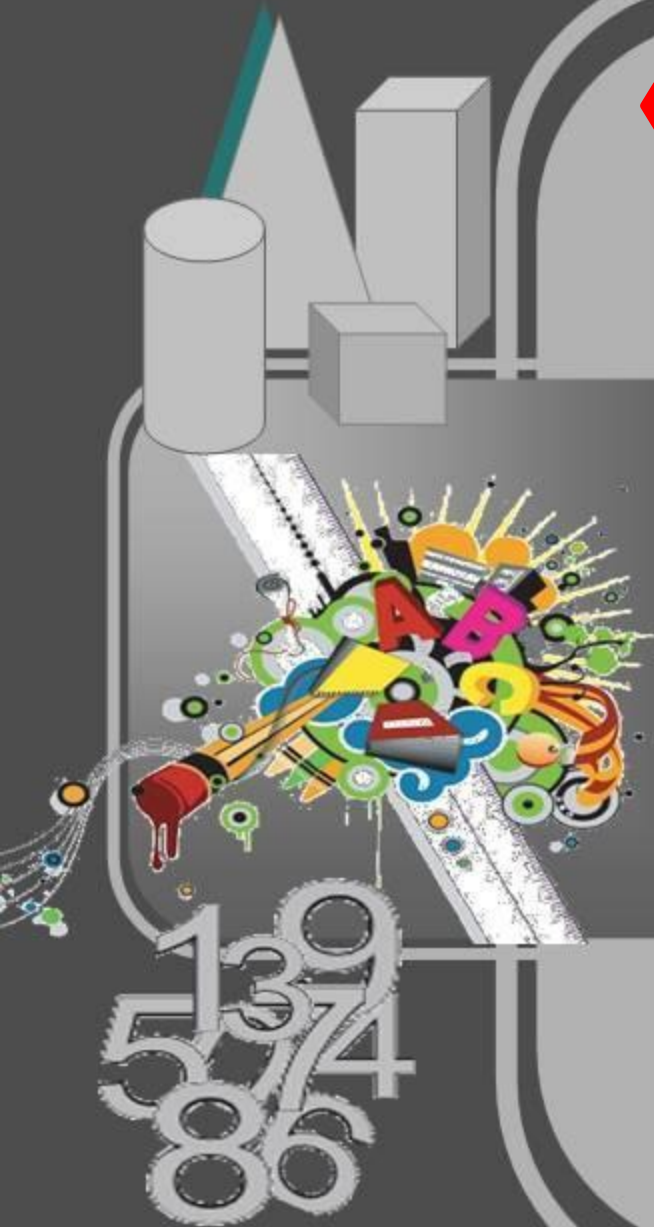


«Филологический»



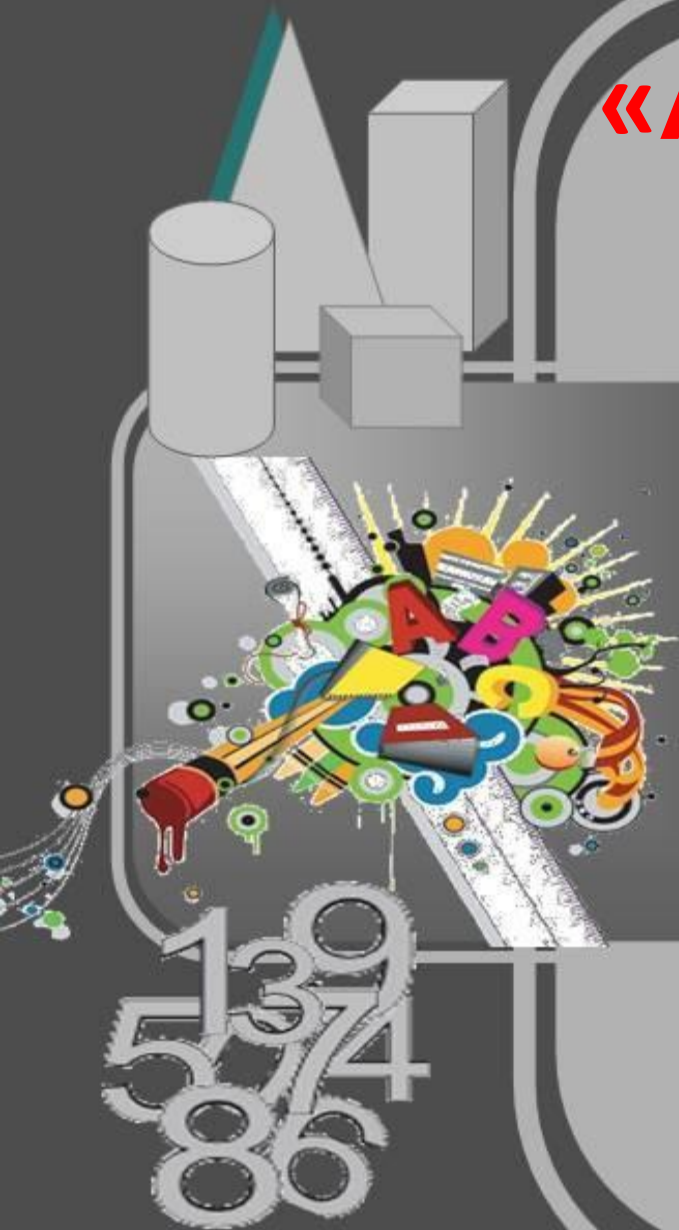
«Арифметический»

- Результат сложения двух величин.
- Натуральное число, которое делится только на себя и на единицу, называется?
- Результат вычитания.
- То число, из которого вычитают, называют?
- Дробная черта заменяет действие:
- Из двух чисел на числовой прямой больше то, которое?
- 1 литр – это единица?




«Арифметический»

- Арифметическое действие, обратное умножению.
- Число, имеющее больше двух делителей, называется?
- Если числитель больше знаменателя, то дробь?
- То, что у дроби вверху, называют?
- «От перемены мест слагаемых, сумма не изменяется» - так звучит закон?
- Противоположные числа – это числа, отличающиеся?
- 1% - это?



«Геометрический»

- «Землемерие» в переводе на греческий означает?
-
- Две прямые, которые не пересекаются
-
- Отрезок треугольника, делящий противоположную сторону пополам.
-
- Если два угла смежные, то 180° их?
-
- Углы можно измерять с помощью?
-
- Если 2 фигуры совмещаются при наложении, то они?
-






«Геометрический»

- Положение, справедливость которого доказывается.
-
- Название знаменитой книги Евклида.
-
- Отрезок треугольника, делящий угол пополам.
-
- Если у треугольника 2 угла равны, то он?
- Часть прямой, ограниченная с двух сторон.
-
- Раздел геометрии, изучающий свойства фигур на плоскости.



«весёлый» 7 «А»

- Петух, стоя на одной ноге весит 5 кг. Сколько он будет весить, стоя на двух ногах?
- Если в 12 часов ночи идет дождь, то можно ли через 72 час ожидать солнечную погоду?
- Из Москвы во Владивосток вылетел самолет со скоростью 800 км/ч. Одновременно из Владивостока в Москву вылетел самолет со скоростью 500 км/ч. Какой из самолетов в момент их встречи был ближе к Москве?
- За книгу заплатили 50 рублей и ещё половину стоимости книги. Сколько стоит книга?



«весёлый» 7 «Б»

- Мальчик купил несколько тетрадей по 6 рублей и 3 карандаша. Продавец выписал чек на 76 рублей. «Вы ошиблись», - сказал ему мальчик, взглянув на чек. Как он об этом догадался?
- От куска материи в 20 метров портной отрезает каждый день по 2 метра. На какой день он отрежет последний кусок?
- Яйцо всмятку варится 3 минуты. Сколько времени потребуется, чтобы сварить всмятку 5 яиц?
- Двое пошли - 5 гвоздей нашли. Четверо пойдут – много ли найдут?

«географический»

- "7-а"
- Амур – 4416 км
- Лена – 4400 км
- Обь – 4338 км
- Иртыш – 4248 км



- - Назвать самую длинную реку.

«географический»

- Волга – 3530 км
- Енисей – 3487 км
- Нева – 74 км
- Дон – 1870 км



- - Назвать самую короткую реку.



«КОНКУРС МУДРЕЦОВ»

7 «А»

Две пятых времени прошедшего от полуночи до этого момента, равно двум третьим времени, которое осталось до полудня. Сколько сейчас времени?

7 «Б»

Прах Диофанта гробница покоит: дивись ей -
И камень мудрым искусством его скажет
успокоившего век.

Волей богов шестую часть жизни он прожил
ребёнком.

И половину шестой встретил с пушком на щеке.
Только минуло седьмая, с подружкой он
обручился.

Так с ней пять лет проведя, сына дождался
мудрец.

Только пол жизни отцовской возлюбленный сын
его
прожил.

Отнят он был от отца ранней могилой своей.
Дважды два года родитель оплакивал тяжкое
горе.

Тут и увидел предел жизни печальной своей

Всем спасибо!!!

Я ЛЮБЛЮ
МАТЕМАТИКУ

