

Подготовка к решению  
задач  
в 2 действия  
стр. 61  
**Урок № 103**



*Школа России*  
*Математика 1 класс*





*Устный счёт*

Переведи в см.



$$1 \text{ дм } 2 \text{ см} = 12 \text{ см}$$

$$1 \text{ дм } 6 \text{ см} = 16 \text{ см}$$

$$1 \text{ дм } 9 \text{ см} = 19 \text{ см}$$

$$1 \text{ дм } 4 \text{ см} = 14 \text{ см}$$

Поэт Цветик из Цветочного города сочинил **5** песен и **4** басни. А стихов столько, сколько басен и песен вместе. Сколько поэт Цветик сочинил стихов?



9

$$5 + 4 = 9$$

Музыкант Гуся умел играть на **5** музыкальных инструментах, а Незнайка освоил на **5** инструментов меньше. Сколько инструментов освоил Незнайка?



0

$$5 - 5 = 0$$

На улице Колокольчиков в Цветочном городе  
жило **16** малышей – коротышек, а на бульваре  
Васильков **10**. На сколько больше малышей-  
коротышек на улице Колокольчиков, чем на  
бульваре Васильков?




на 6

$$16 - 10 = 6$$

Шурупчику для покраски своего нового автомобиля потребовалось **7** банок синей краски, а красной на **3** меньше. Сколько потребовалось банок красной краски?

**4**

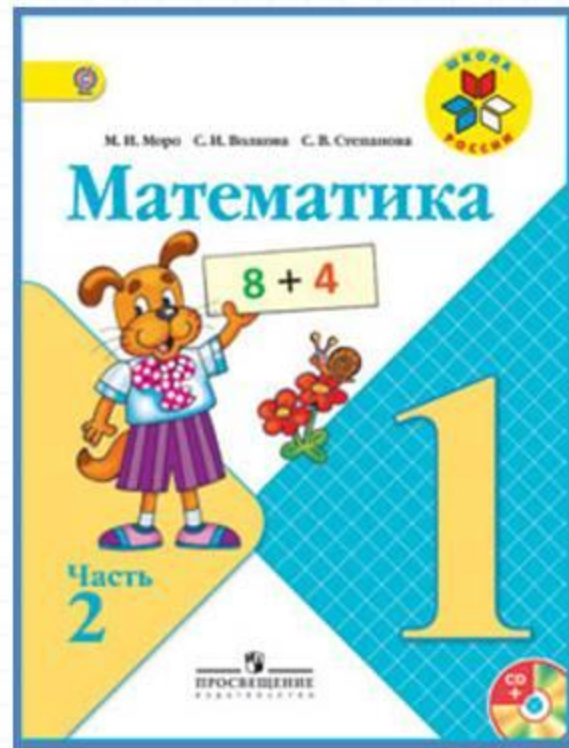

$$7 - 3 = 4$$



Сколько потребовалось красной и синей краски вместе?

$$7 + 4 = 11$$

# Работа по учебнику



стр. 61



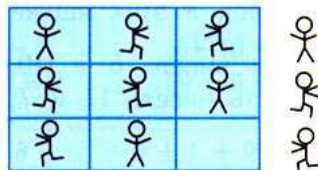
Учимся решать задачи.

1. В ведре 8 л молока, а в кувшине 3 л. На сколько меньше литров молока в кувшине, чем в ведре?
2. 1) В столовой на день заготовили 7 кг свёклы, а моркови на 3 кг больше. Сколько килограммов моркови заготовили?  
2) В столовой на день заготовили 7 кг свёклы и  $\square$  кг моркови. Сколько всего килограммов овощей заготовили?
3. 1) У Юры было 5 больших солдатиков и 3 маленьких. Сколько всего солдатиков было у Юры?  
2) У Юры было 8 солдатиков. Он подарил другу 2 солдатика. Сколько солдатиков осталось у Юры?

4.

Уменьшаемое	9	10		8		9	
Вычитаемое		10	2		9	3	1
Разность	4		7	5	1		9

5. Определи, как составлена таблица. Выбери недостающую картинку.



Сколько всего прибавили? всего вычли?

$9 + 1 + 8$

$11 - 1 - 7$

$7 + 3 + 5$

$2 + 8 + 1$

$12 - 2 - 7$

$4 + 6 + 3$

ВЫЧИСЛИ.  
НАЙДИ  
ЛИШНИЙ  
ПРИМЕР:

$1 + 5 - 2$

$5 + 3 - 4$

$3 + 6 - 5$

$1 + 2 + 1$

$2 + 8 - 3$

$5 + 5 - 6$



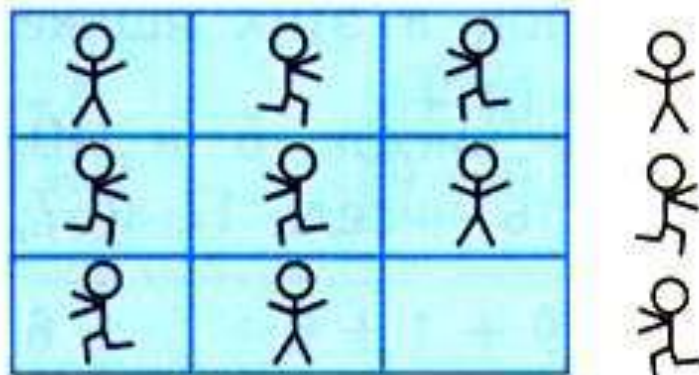
Учимся решать задачи.

1. В ведре 8 л молока, а в кувшине 3 л. На сколько меньше литров молока в кувшине, чем в ведре?
2. 1) В столовой на день заготовили 7 кг свёклы, а моркови на 3 кг больше. Сколько килограммов моркови заготовили?  
2) В столовой на день заготовили 7 кг свёклы и  $\square$  кг моркови. Сколько всего килограммов овощей заготовили?
3. 1) У Юры было 5 больших солдатиков и 3 маленьких. Сколько всего солдатиков было у Юры?  
2) У Юры было 8 солдатиков. Он подарил другу 2 солдатика. Сколько солдатиков осталось у Юры?

4.

Уменьшаемое	9	10		8		9	
Вычитаемое		10	2		9	3	1
Разность	4		7	5	1		9

5. Определи, как составлена таблица. Выбери недостающую картинку.



Сколько всего прибавили? всего вычли?

$$9 + 1 + 8$$

$$2 + 8 + 1$$

$$11 - 1 - 7$$

$$12 - 2 - 7$$

$$7 + 3 + 5$$

$$4 + 6 + 3$$

# Закрепление изученного



Решите цепочку примеров, и вы узнаете, какие сладости любит Карлсон.



$$19 \rightarrow - 9 \rightarrow + 3$$

$$- 6 =$$

8



9



7



# Задания на смекалку





Сейчас Маше и Вове **9** лет. Кто из них старше, если у Маши в этом году уже было день рождения, а у Вовы ещё будет?

старше

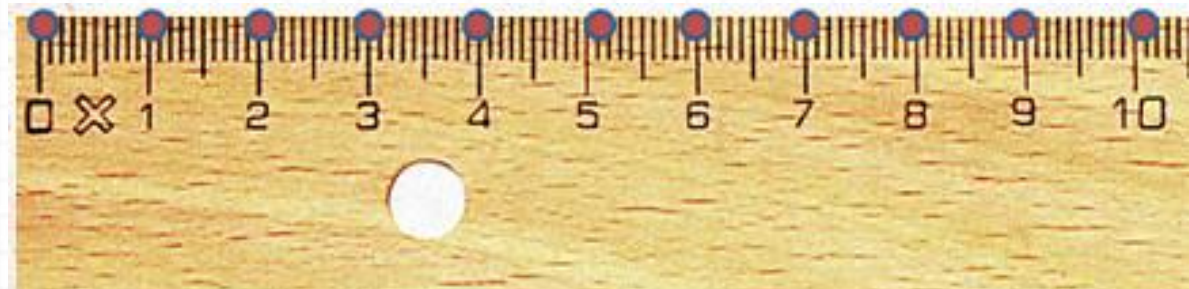
Маша



По полоске бумаги длиной в 1 дм Незнайка  
сделает ровно два шага. Чему равна длина шага  
Незнайки?



5 см

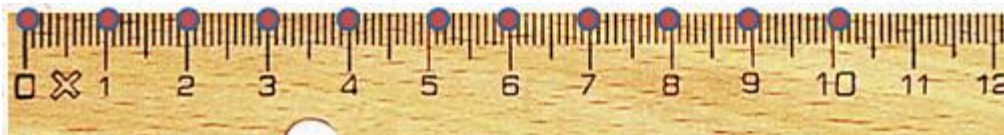




Если малышка Галочка сделает **2** шага по полоске, длиной **1 дм**, то до конца полоски она не дойдёт **2 см**. А если сделает **3** шага, то пройдёт, больше длины полоски на **2 см**. Чему равен шаг Галочки?



**4 см**



# Рефлексия

Какие задачи мы с вами решали на уроке?

Кто понял, как решается цепочка задач?

Как мы используем ответ первой, для решения второй?

Кто правильно решил сегодня задачи?



