


ПРАВИЛА ДОРОЖНОГО ДВИЖЕНИЯ



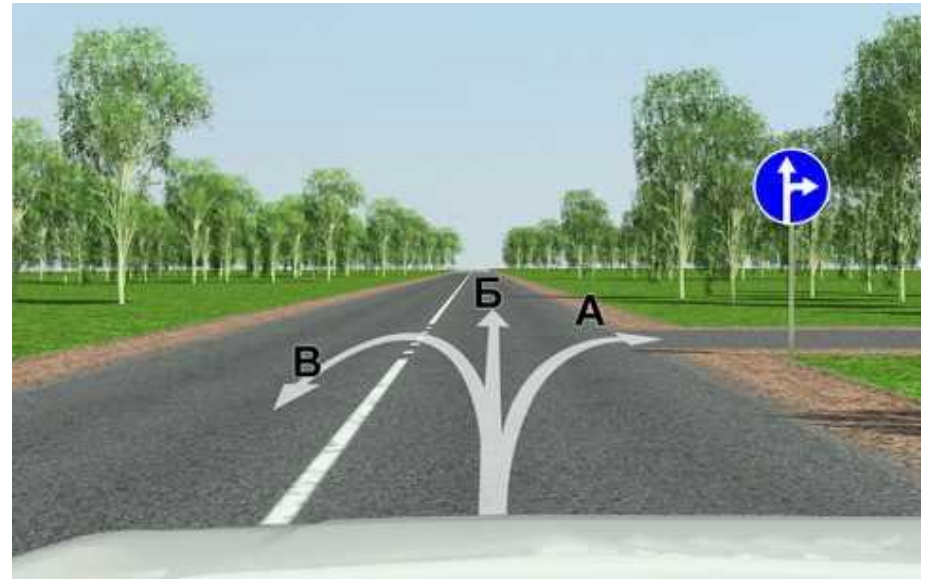


Какие транспортные средства по Правилам относятся к маршрутным транспортным средствам?

1. Все автобусы.

2. Автобусы, троллейбусы и трамваи, предназначенные для перевозки людей и движущиеся по установленному маршруту с обозначенными местами остановок.

3. Любые транспортные средства, перевозящие пассажиров.



В каких направлениях Вам разрешено продолжить движение?

1. Только А или Б.
2. В любых.
3. Только Б.



Этот знак разрешает Вам ставить на стоянку легковой автомобиль с использованием тротуара:

1. Только на правой стороне дороги до знака «Конец зоны регулируемой стоянки».
2. Только на правой стороне дороги до ближайшего по ходу движения перекрестка.
3. На любой стороне дорог, расположенных в зоне регулируемой стоянки.



Эта разметка, нанесенная на полосе движения:

1. Информировует Вас о том, что дорога поворачивает направо.
2. Предупреждает Вас о приближении к сужению проезжей части.
3. Предоставляет Вам преимущество при перестроении на правую полосу.

Что означает мигание зеленого сигнала светофора ?

1. Запрещает дальнейшее движение.
2. Разрешает движение и информирует о том, что вскоре будет включен запрещающий сигнал.
3. Предупреждает о неисправности светофора.



Кто должен уступить дорогу при одновременном перестроении?

1. Водитель мотоцикла.
2. Водитель легкового автомобиля.



Может ли водитель легкового автомобиля в населенном пункте выполнить опережение грузовых автомобилей по такой траектории?

1. Да.
2. Нет.



Вы намерены повернуть направо.
Следует ли уступить дорогу автобусу?

1. Нет.
2. Да.



С какой максимальной скоростью Вы можете продолжить движение за знаком?


1. 50 км/ч.
2. 20 км/ч.
3. 30 км/ч.
4. 60 км/ч.

Какие внешние световые приборы Вы можете использовать при движении в темное время суток на неосвещенных участках дорог?

1. Фары ближнего или дальнего света.
2. Только фары дальнего света.
3. Только фары ближнего света.

При какой неисправности Вам разрешается эксплуатация транспортного средства?

1. Не работает механизм регулировки сиденья водителя.
2. Не работает стеклоподъемник.
3. Не работает устройство обогрева и обдува стекла.
4. Не работают запоры горловин топливных баков.



Когда следует проводить сердечно-легочную реанимацию пострадавшего?

1. При потере пострадавшим сознания и отсутствии пульса на сонной артерии, а также признаков дыхания.
2. При потере пострадавшим сознания, независимо от наличия пульса на сонной артерии и дыхания.



А



Б



В


Какой знак используется для обозначения границ искусственной неровности?

1. Только А.
2. Только Б.
3. Б и В.



Эта разметка обозначает:

1. Номер дороги или маршрута.
2. Рекомендуемую скорость движения на данном участке дороги.
3. Разрешенную максимальную скорость движения на данном участке дороги.



Чем Вы должны руководствоваться, если указания регулировщика противоречат сигналам светофора и значениям дорожных знаков?

1. Требованиями дорожных знаков.
2. Значениями сигналов светофора.
3. Указаниями регулировщика.



Такой сигнал рукой, подаваемый мотоциклистом, движущимся по левой полосе информирует:

1. О его намерении продолжить движение прямо.
2. О его намерении повернуть направо.
3. О его намерении остановиться.




**По какой траектории Вы можете
выполнить разворот?**

1. Только по А.
2. Только по Б.
3. По любой.



**Вы намерены повернуть направо.
Ваши действия?**

1. Уступите дорогу трамваю.
2. Проедете перекресток первым.



По требованию каких лиц Вы обязаны передавать для проверки водительское удостоверение, страховой полис обязательного страхования гражданской ответственности, регистрационные документы на транспортное средство и талон о прохождении государственного технического осмотра?

1. Сотрудника полиции.
2. Сотрудника Военной автомобильной инспекции.
3. Любого регулировщика.
4. Всех перечисленных лиц.



**СПАСИБО
ЗА ВНИМАНИЕ!**