

16/11/17

Классная работа

**У Алёны в альбоме 46 фотографий, а у
Маши на 23 фотографии больше.
Сколько фотографий в альбоме у
Маши?**



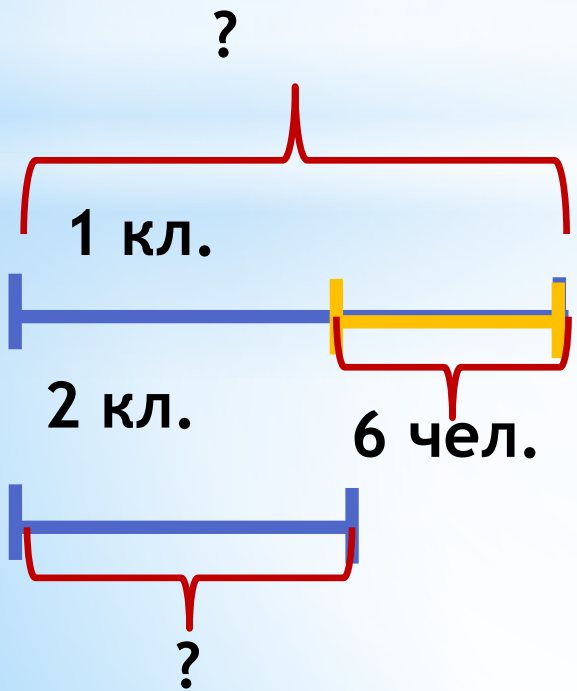
**В двух одинаковых автобусах 92
места. Сколько мест в одном таком
автобусе?**



**У Кристины в коллекции 78 значков,
а у Даши на 13 значков меньше.
Сколько значков было у девочек
вместе?**



В двух классах 56 человек, причем в одном классе на 6 человек больше, чем в другом. Сколько человек в каждом классе?



Что нужно найти в этой задаче?

Чтобы было известно?
Чем отличается эта

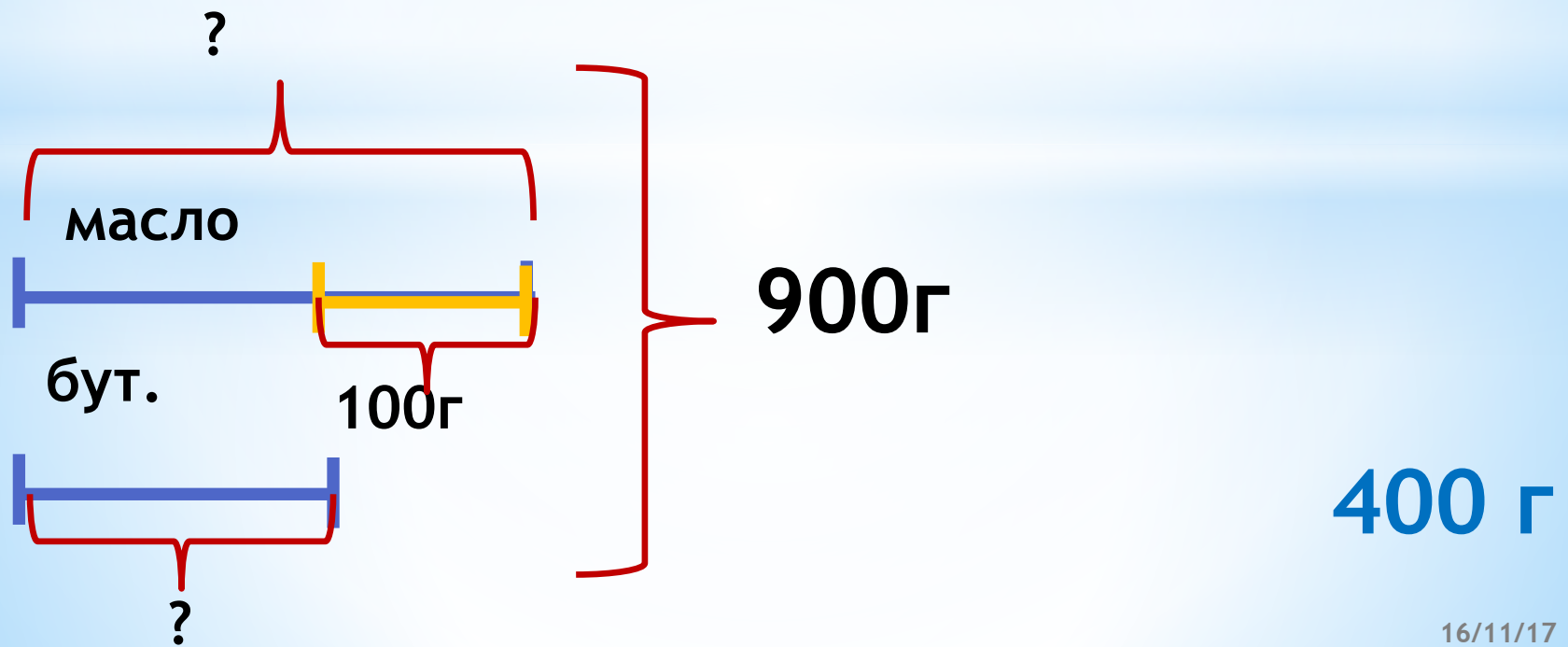
задача от предыдущей?

56 чел.

Как можно назвать тип таких задач?

Нахождение двух чисел по их сумме и разности

Бутылка с маслом весит 900 г.
Масло на 100 г тяжелее бутылки.
Сколько весит пустая бутылка?

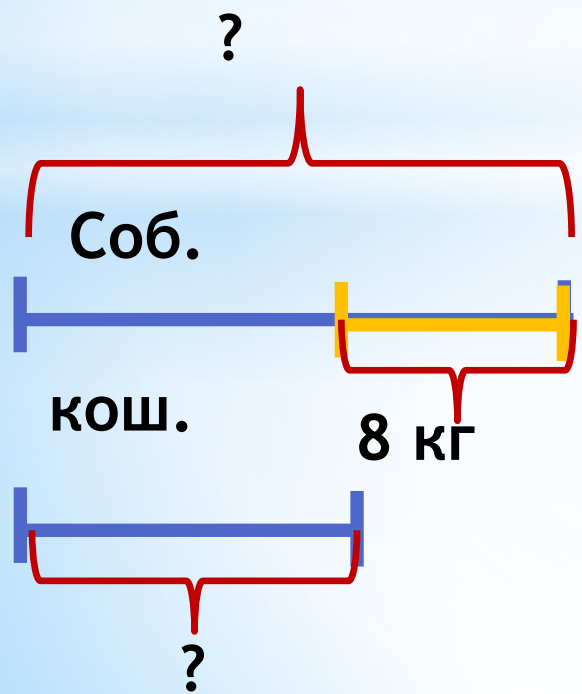




Физминутка



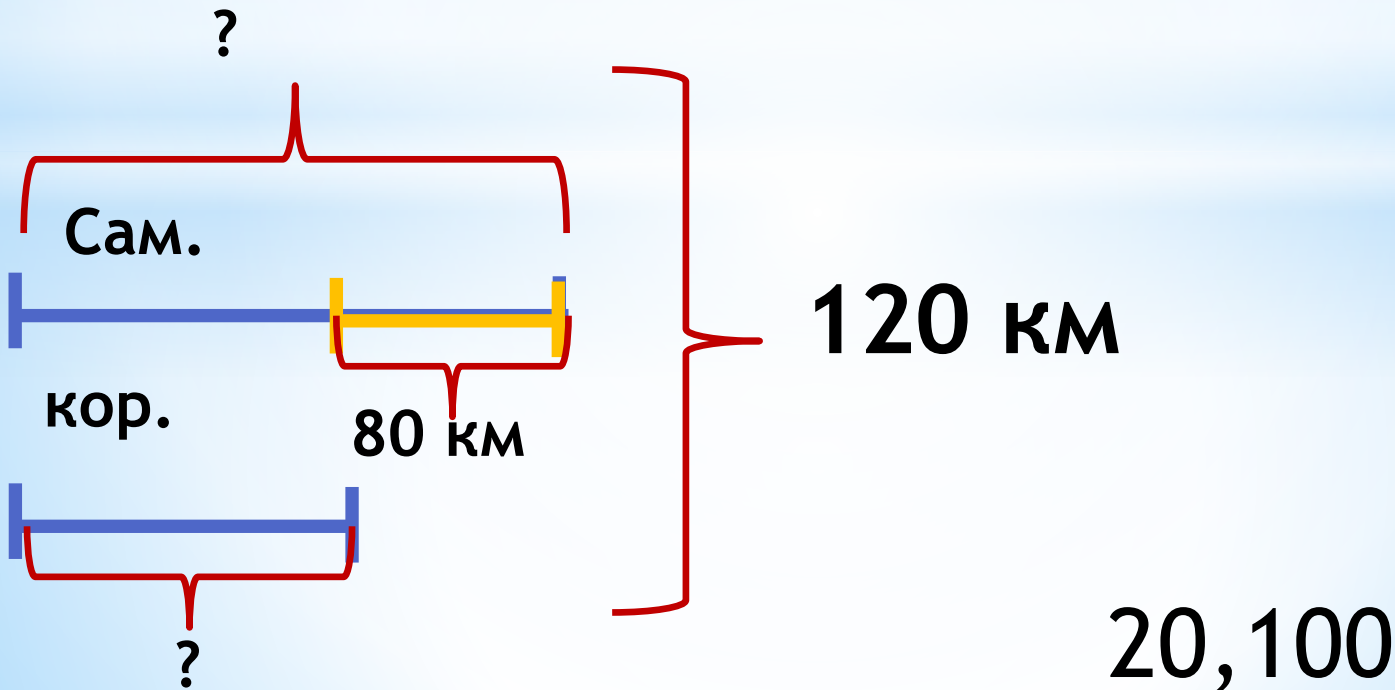
Собака весит на 8 кг больше кошки,
а вместе они весят 14 кг. Сколько
весит кошка, а сколько собака?



14 кг

собака 11, кошка 3

Корабль и самолет преодолели вместе 120 км. При этом самолет пролетел на 80 км больше, чем проплыл корабль. Сколько км проплыл корабль, а сколько самолет?




Не забудьте, что

если части неравные, а мы знаем только их общее количество и на сколько одна часть больше или меньше другой, то сначала мы уравниваем части, добавив или убрав разницу между ними.

Потом разделим полученное число на количество частей, а после этого уберём то, что мысленно добавили или добавим то, что мысленно убирали.

**Папа купил в магазине конфету
и 2 леденца, заплатив за покупку
21 рубль. Леденец был дороже
конфеты на 3 рубля.**

**Сколько стоит леденец, а сколько
конфета?**



- не довольна,
сделала не все, что могла;
- могла бы лучше;
- сделала все,
что в моих силах.

**Домашнее задание:
П.1.17, решить задачи
№282(а), 284(а), 285(а)**



СПАСИБО!!!