

Остановка и стоянка

вопрос без картинки

Где разрешается стоянка в целях длительного отдыха или ночлега на дорогах вне населенного пункта?

- 1. Только на хорошо просматриваемом месте на обочине**
- 2. В любом месте на обочине**
- 3. Только на предусмотренных для этого площадках или за пределами дороги**
- 4. В любом из перечисленных мест**

Правильный ответ: 3

Пункт 12.3 ПДД.



В каком месте на данном участке дороги Вы можете поставить автомобиль на длительную стоянку?

- 1. В любом месте на обочине**
- 2. Только через 500 м на специальной площадке**
- 3. В обоих указанных местах**

Правильный ответ: 2

Стоянка с целью длительного отдыха, ночлега и т. п. вне населённого пункта разрешается только на предусмотренных для этого площадках или за пределами дороги. О наличии такой площадки Вас информирует знак сервиса 7.11 «Место отдыха». Цифра на знаке указывает расстояние до этого места.



Нарушил ли водитель легкового автомобиля Правила, поставив автомобиль на стоянку указанным способом?


1.Нет

2.Нет, если при этом не создаются помехи для движения других транспортных средств

3.Да

Правильный ответ: 3

Стоянка под углом к краю проезжей части запрещается, за исключением тех мест, конфигурация которых допускает иное расположение (местное уширение проезжей части), или мест имеющих такую разметку. (Пункт 12.2 ПДД).



Кто из водителей нарушил правила стоянки?

- 1. Оба нарушили**
- 2. Только водитель автомобиля**
- 3. Только водитель мотоцикла**
- 4. Никто не нарушил**

Правильный ответ: 2

Водитель легкового автомобиля может заезжать на прилегающий к проезжей части тротуар только в местах, обозначенных знаком 6.4 «Парковка (парковочное место)», с одной из табличек 8.6.2, 8.6.3, 8.6.6 - 8.6.9 «Способ постановки транспортного средства на стоянку».



Нарушил ли водитель грузового автомобиля с разрешенной максимальной массой не более 3,5 т правила стоянки в данной ситуации?

- 1. Да**
- 2. Нет**

Правильный ответ: 1

Ставить автомобиль на стоянку на проезжей части нельзя, так как расстояние между автомобилем и сплошной линией разметки будет менее 3м, что недопустимо. Грузовым автомобилям любого типа не допускается стоянка и с частичным, и с полным заездом на тротуар. Это допускается делать только водителям легковых



Разрешено ли Вам поставить автомобиль на стоянку в указанном месте?

- 1. Да**
- 2. Нет**

Правильный ответ: 1

При наличии съезда на обочину, поставить автомобиль можно и в местах с ограниченной видимостью. (Пункты 12.1, 12.4, 12.5 ПДД).



В каком из указанных мест Вы можете остановиться?

- 1. Только В**
- 2. Только А и В**
- 3. Только Б и В**
- 4. В любом**

Правильный ответ: 1

Вне населенного пункта остановка, стоянка разрешается только на правой стороне дороги - на обочине, а при её отсутствии - у края проезжей части. Вы правильно поступите, если совершите остановку в месте «В». (Пункт 12.1 ПДД).

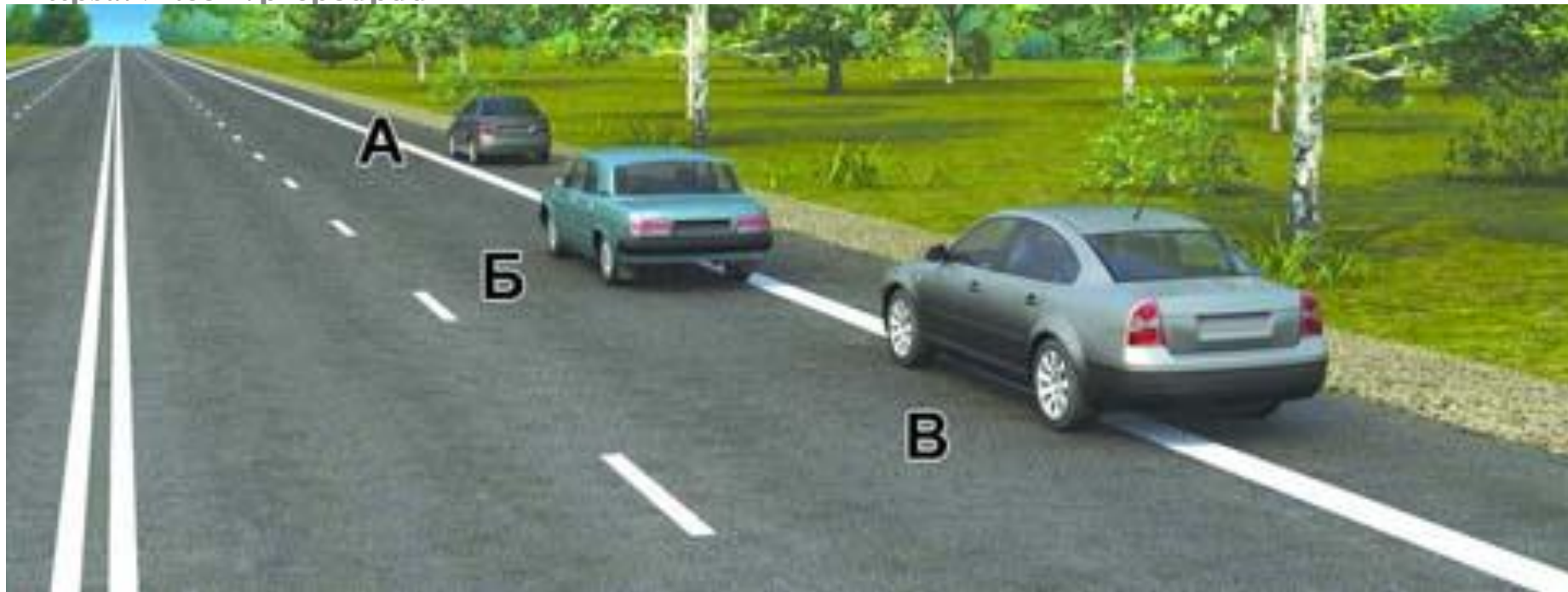


По какой траектории Вы можете подъехать к пассажирам?

- 1. Только по А**
- 2. Только по Б**
- 3. По любой**

Правильный ответ: 2

Подъехав к пассажирам по траектории «А», Вы нарушаете правила. Первое нарушение: трамвайный путь является границей проезжей части соответствующего направления движения для безрельсовых транспортных средств. Траектория «А» является встречным движением. Если со встречного направления поедет автомобиль, то Вы сразу же создадите аварийную ситуацию

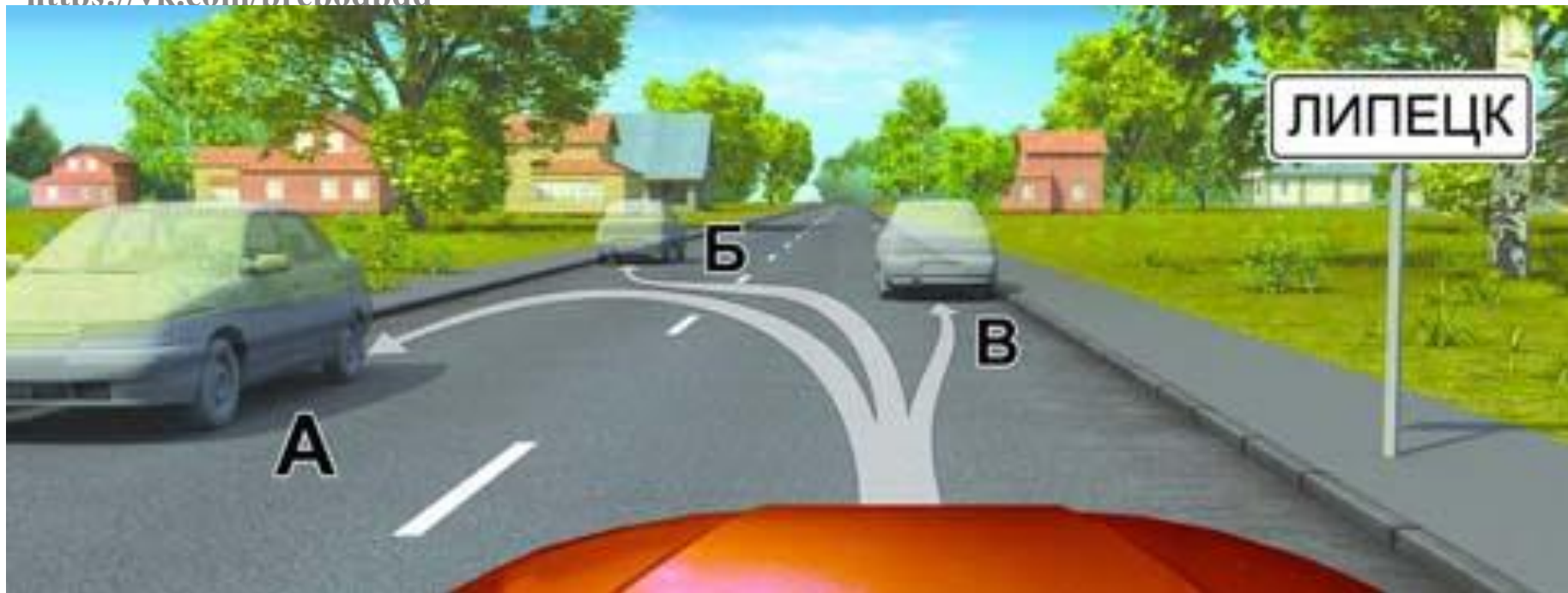


Водитель какого автомобиля нарушил правила остановки?

1. Только Б
2. Только Б и В
3. Все нарушили

Правильный ответ: 2

Остановка и стоянка транспортных средств при наличии обочины должна осуществляться на ней (как это сделал водитель автомобиля «А»). И только при её отсутствии - у края проезжей части. Водители автомобилей «Б» и «В» являются нарушителями ПДД. (Пункт 12.1 ПДД).



В каком месте Вы можете произвести остановку?

- 1. Только В**
- 2. Только Б и В**
- 3. В любом**

Правильный ответ: 3

На дороге, имеющей по одной полосе движения в каждом направлении, не имеющей трамвайных путей посередине, в населенном пункте, обозначенном знаком 5.23.1 и 5.23.2 «Начало населенного пункта» (с белым фоном), разрешается остановка и стоянка не только на правой стороне, но и на левой стороне дороги. («Дорожные знаки», пункт 12.1 ПДД).




Разрешено ли Вам поставить автомобиль на стоянку в указанном месте при наличии узкой обочины?

- 1. Разрешено**
- 2. Разрешено, но только в светлое время суток**
- 3. Запрещено**

Правильный ответ: 3

Стоянка вне населённых пунктов на проезжей части дорог, обозначенных знаком 2.1 «Главная дорога» запрещается.

(Пункт 12.5 ПДД).



Разрешено ли Вам остановиться на легковом автомобиле в указанном месте?

- 1. Да**
- 2. Нет**

Правильный ответ: 2

Правилами разрешается остановка и стоянка в аналогичной ситуации только в том случае, когда расстояние между сплошной линией разметки и остановившимся транспортным средством будет не менее 3 м. Здесь же это требование не выполнено. Остановиться в данном месте нельзя. (Пункт 12.4 ПДД).



Кто из водителей нарушил правила остановки?

- 1. Только водитель автомобиля**
- 2. Только водитель мотоцикла**
- 3. Оба нарушили**
- 4. Оба не нарушили**

Правильный ответ: 3

Действие происходит вне населенного пункта. Остановка в таком случае с левой стороны дороги по ходу движения запрещается.

Водитель легкового автомобиля явно нарушает правила.

Нарушителем является и мотоциклист, так как при наличии обочины для остановки он должен был съехать на неё.

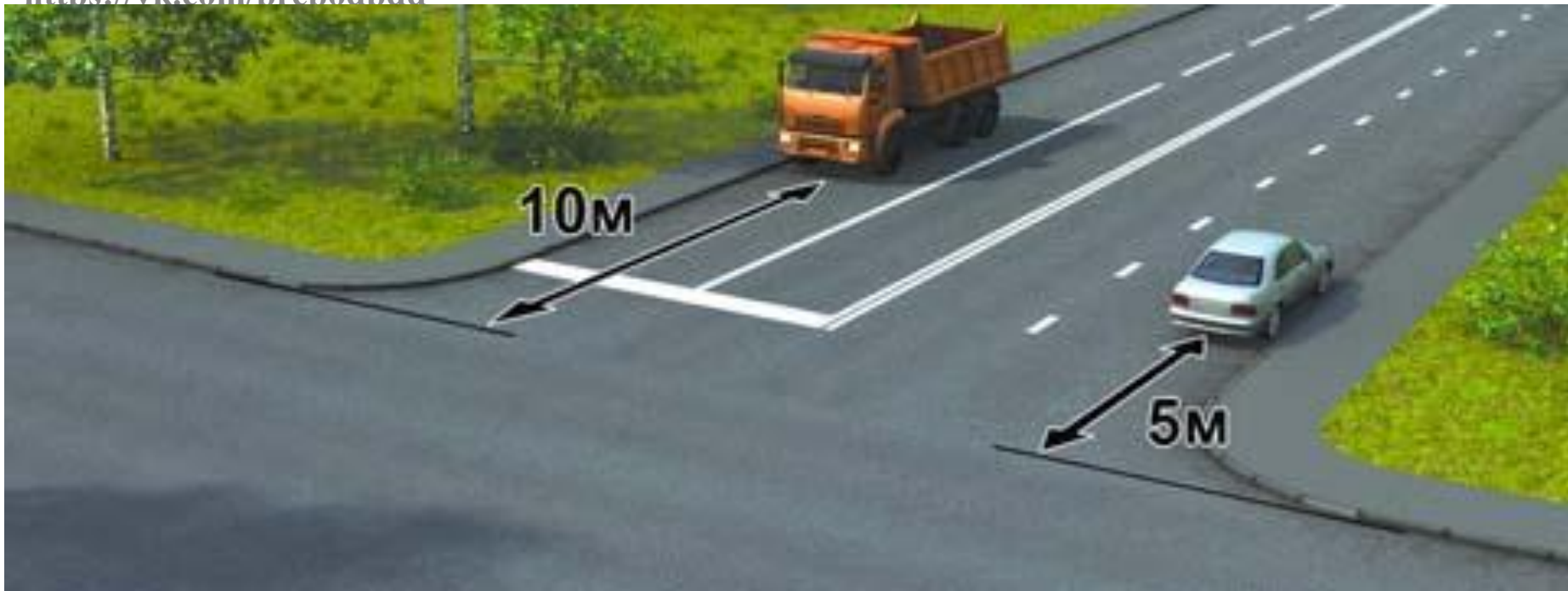


В каком из указанных мест Вы можете поставить автомобиль на стоянку?

- 1. Только В**
- 2. Б или В**
- 3. В любом**

Правильный ответ: 1

В местах «А» и «Б» останавливаться нельзя, так как остановка с левой стороны дороги по ходу движения разрешается только в населённом пункте, обозначенном знаком 5.23.1 и 5.23.2 «Начало населённого пункта» с белым фоном. Правильно поступил бы водитель, остановившись в месте «В». (Пункт 12.1 ПДД).



Кто нарушил правила остановки?

- 1. Оба водителя**
- 2. Только водитель грузового автомобиля**
- 3. Только водитель легкового автомобиля**
- 4. Никто не нарушил**

Правильный ответ: 2

До края пересекаемой проезжей части у обоих водителей расстояние соответствует правилам остановки. Но водитель грузовика не учёл, что между транспортным средством и сплошной линией разметки, разделяющей полосы движения, расстояние менее 3 м, что и является причиной нарушения.



Разрешено ли водителю поставить автомобиль на стоянку в указанном месте?

1. Да
2. Нет

Правильный ответ: 1

Водитель не нарушает правила остановки и стоянки. Расстояние до края проезжей части, до сплошной линии разметки соблюдается не менее допустимых. Остановка и стоянка за пешеходным переходом так же допустима. (Пункт 12.4 ПДД).



Можете ли Вы остановиться в указанном месте после поворота направо?

1. Да
2. Нет

Правильный ответ: 1

На перекрёстке с круговым движением Вы можете совершить остановку и стоянку, но при этом расстояние между остановившимся транспортным средством и краем проезжей части должно быть не менее 5 м. (Пункты 12.4, 12.5 ПДД).



Разрешена ли Вам остановка в указанном месте на перекрестке?

1.Разрешена

2.Разрешена, если расстояние от Вашего транспортного средства до линии разметки не менее 3 м

3.Запрещена

Правильный ответ: 3

На Т-образном перекрёстке можно останавливаться напротив бокового проезда, но при этом он должен иметь сплошную линию разметки или разделительную полосу. Здесь же разметка из двух линий сплошной и прерывистой. Остановка поэтому запрещена.

(Пункт 12.4 ПДД).



Разрешена ли водителям остановка в указанных местах?

- 1. Разрешена**
- 2. Разрешена только мотоциклисту**
- 3. Запрещена**

Правильный ответ: 3

Расстояние между остановившимся транспортным средством и сплошной линией разметки менее 3 м, что не допускается.

Остановка поэтому запрещена. (Пункт 12.4 ПДД).



Разрешена ли Вам остановка в указанном месте?

1.Разрешена

2.Разрешена, но только при отсутствии пешеходов на переходе

3.Не разрешена

Правильный ответ: 3

Остановка на пешеходных переходах и на расстоянии ближе 5м запрещена. Это расстояние не выдержано. Останавливаться в обозначенном месте нельзя. (Пункт 12.4 ПДД).



Разрешено ли Вам поставить автомобиль на стоянку в указанном месте?

- 1. Разрешено**
- 2. Разрешено, если при этом не будут созданы помехи для движения маршрутных транспортных средств**
- 3. Запрещено**

Правильный ответ: 3

На пешеходном переходе и ближе 5 м до него остановка и стоянка запрещены. Вы нарушаете это требование. (Пункт 12.4 ПДД).

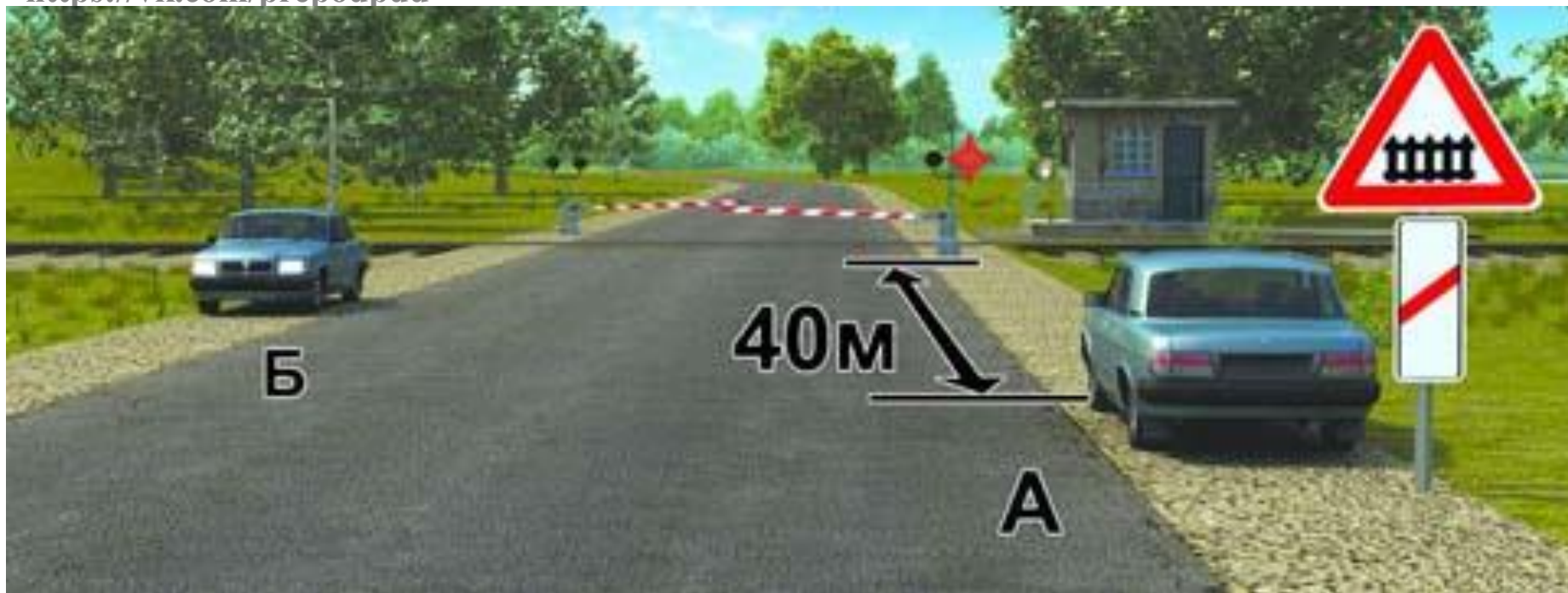


В каком из указанных мест Вы можете поставить на стоянку легковой автомобиль?

1. Только А
2. Только В
3. А или В
4. Ни в каком

Правильный ответ: 3

Действие происходит в населенном пункте на участке дороги, обозначенном знаком 5.5 «Дорога с односторонним движением». На такой дороге разрешается остановка и стоянка с левой стороны дороги по ходу движения (в месте «А»).



Кто из водителей нарушил правила стоянки?

- 1. Только водитель автомобиля А**
- 2. Только водитель автомобиля Б**
- 3. Оба нарушили**
- 4. Оба не нарушили**

Правильный ответ: 3

Стоянка запрещается ближе 50 м от железнодорожных переездов. Оба водителя являются нарушителями, так как расстояние меньше требуемого. (Пункт 12.5 ПДД).



Разрешено ли Вам поставить автомобиль на стоянку в указанном месте?

- 1. Запрещено**
- 2. Разрешено**

Правильный ответ: 1

Действие происходит в населенном пункте на дороге, имеющей по одной полосе движения в каждом направлении, без трамвайных путей посередине. На таких дорогах, как исключение, разрешается остановка и стоянка с левой стороны дороги по ходу движения. Но знак 5.27 «Зона с ограничением стоянки», в отличие от знака 3.28 «Стоянка запрещена» распространяет действие на



Можете ли Вы остановиться на мосту для посадки пассажира?

1. Да
2. Нет

Правильный ответ: 2

На мостах, эстакадах и путепроводах, имеющих менее трёх полос для движения в данном направлении, остановка запрещена. В данной ситуации две полосы движения, следовательно, остановившись Вы будете нарушителем Правил. Внимание! Не путайте этот вопрос с аналогичным (билет 14, вопрос 12) где имеется три полосы. (Пункт 12.4 ПДД).



Можете ли Вы остановиться на мосту в указанном месте?

1. Да
2. Да, только для высадки пассажиров
3. Нет

Правильный ответ: 1

На мостах, путепроводах и эстакадах остановка запрещается, если количество полос движения в данном направлении менее трёх. В данной ситуации - три полосы. Можете остановиться. (Пункт 12.4 ПДД).



Кто из водителей нарушил правила стоянки?

- 1. Только А**
- 2. Только Б**
- 3. Никто не нарушил**
- 4. Оба нарушили**

Правильный ответ: 2

В данной ситуации табличка 8.6.1 «Способ постановки транспортного средства на стоянку» распространяет действие знака на Все транспортные средства. Она конкретизирует расположение этих транспортных средств на стоянке, находящейся в местном уширении проезжей части. Нарушает



Разрешено ли водителю поставить на стоянку грузовой автомобиль с разрешенной максимальной массой менее 3,5 т указанным на табличке способом?

1. Да
2. Нет

Правильный ответ: 2

В местах, обозначенных знаком 6.4 «Место стоянки» совместно с одной из табличек 8.6.2 - 8.6.9 «Способ постановки транспортного средства на стоянку», разрешена стоянка легковых автомобилей и мотоциклов только так, как указано на табличке. Вы же управляете грузовиком. Придётся подыскивать другое место



Можете ли Вы поставить автомобиль на стоянку в указанном месте?

1. Да
2. Нет

Правильный ответ: 2

Ваша стоянка затруднит выезд со двора. Поэтому она в указанном месте недопустима. (Пункт 12.4 ПДД).

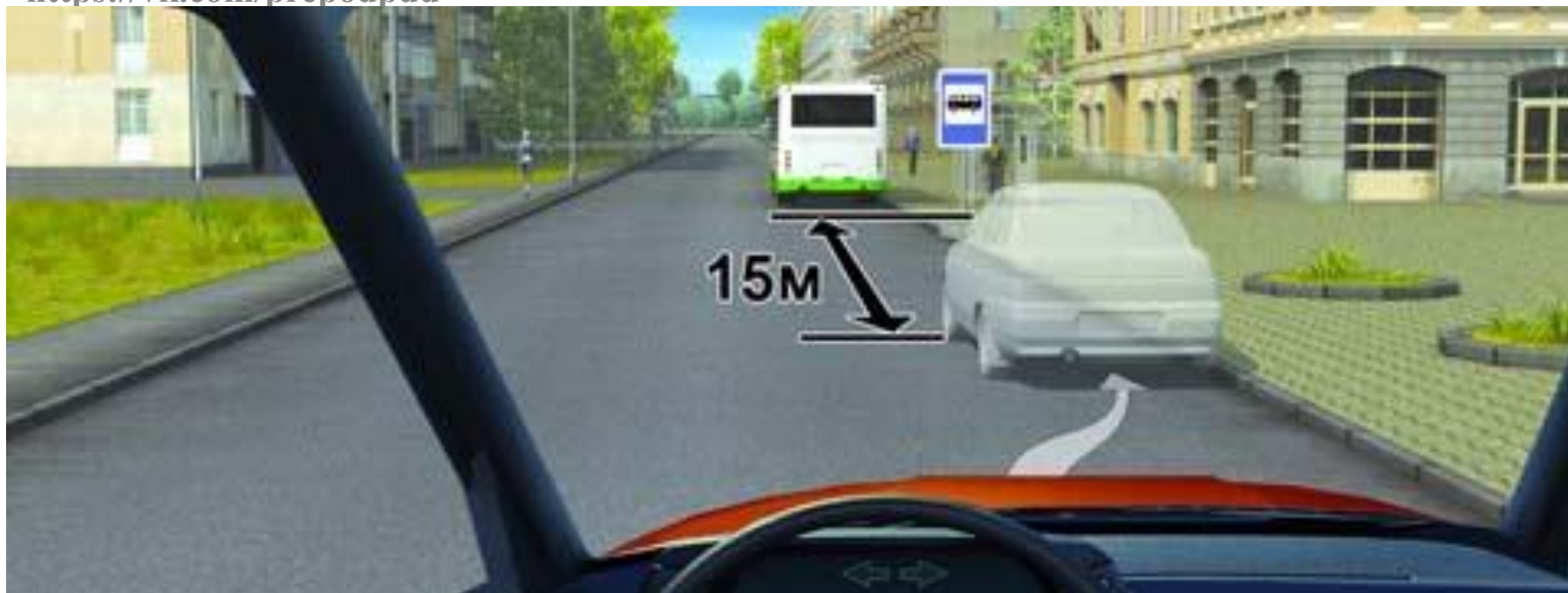


В каком из указанных мест Вам разрешено поставить автомобиль на стоянку?

- 1. Только А**
- 2. Только Б**
- 3. В любом**

Правильный ответ: 1

Табличка 8.2.3 «Зона действия» указывает конец зоны действия знака 3.28 «Стоянка запрещена». При наличии обочины остановка и стоянка должны выполняться на ней так, как в месте «А». («Дорожные знаки», пункт 12.1 ПДД).



Разрешено ли Вам поставить автомобиль на стоянку в указанном месте?

- 1. Разрешено**
- 2. Разрешено, если при этом не будут созданы помехи для движения маршрутных транспортных средств**
- 3. Запрещено**

Правильный ответ: 1

Остановка и стоянка запрещаются ближе 15 м от мест остановки маршрутных транспортных средств, обозначенных разметкой 1.17(желтая зигзагообразная), а при ее отсутствии - от указателя места остановки маршрутных транспортных средств. В

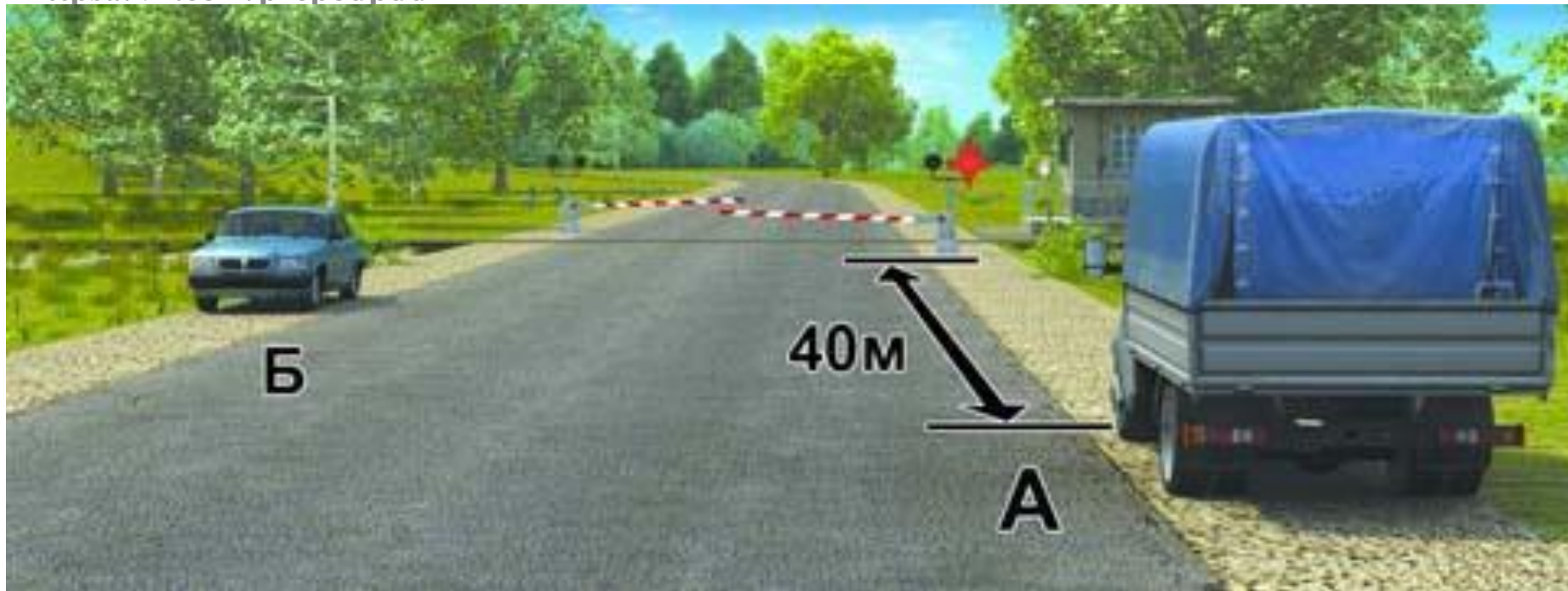


Кто из водителей нарушил правила стоянки?

- 1. Только А**
- 2. Только Б**
- 3. Никто не нарушил**

Правильный ответ: 2

В данном случае табличка 8.6.5 «Способ постановки транспортного средства на стоянку» конкретизирует расположение легковых автомобилей и мотоциклов на околотротуарной стоянке. Водитель автомобиля «А» правильно поставил автомобиль, водитель автомобиля «Б» нарушает правила. («Дорожные знаки»).

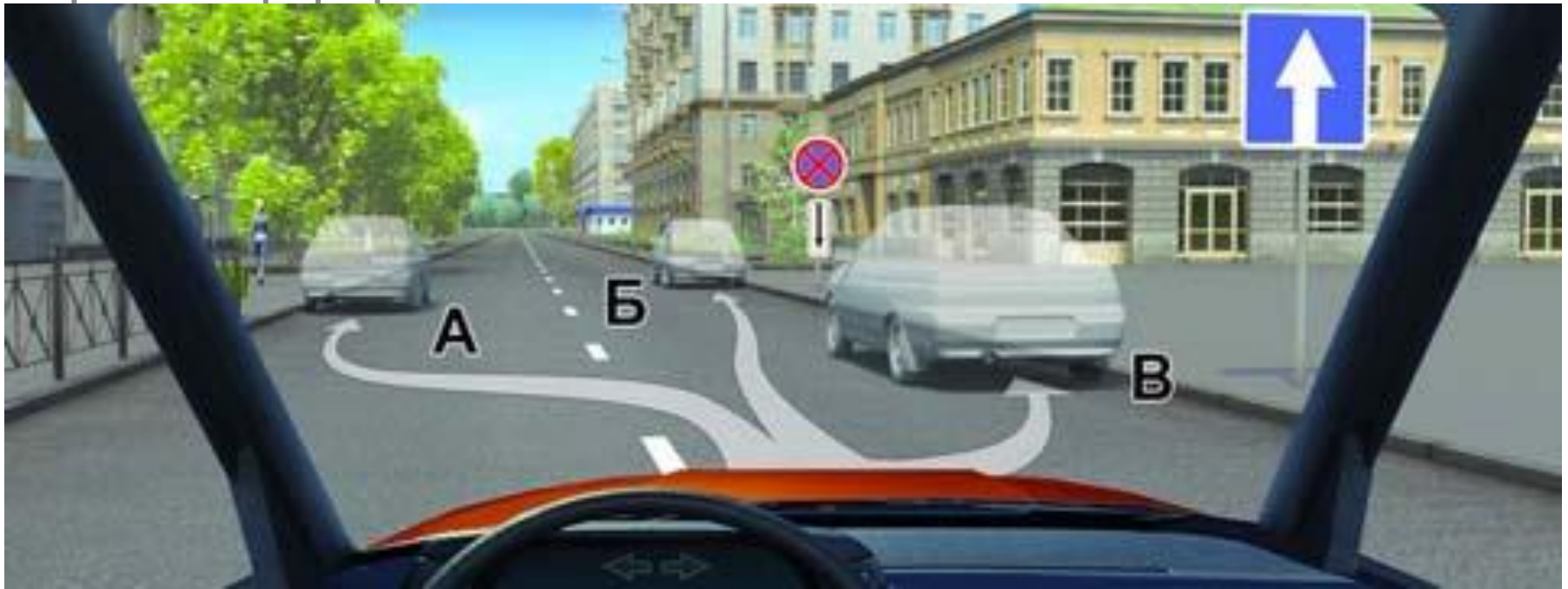


Кто из водителей нарушил правила остановки?

- 1. Только водитель автомобиля А**
- 2. Только водитель автомобиля Б**
- 3. Оба не нарушили**
- 4. Оба нарушили**

Правильный ответ: 3

Не путайте остановку со стоянкой. Остановка запрещена непосредственно на железнодорожном переезде, границами которого являются шлагбаумы. Стоянка запрещена непосредственно на железнодорожном переезде и ближе 50 м от него. Водители остановились вне железнодорожного переезда, не



В каком из указанных мест Вы можете остановиться на легковом автомобиле?

1. Только Б
2. Только А и Б
3. Только А и В
4. В любом

Правильный ответ: 2

Действие происходит в населенном пункте на дороге обозначенной знаком 5.5 «Дорога с односторонним движением». На такой дороге на легковом автомобиле разрешается остановка и стоянка и с левой стороны дороги по ходу движения (место «А»).

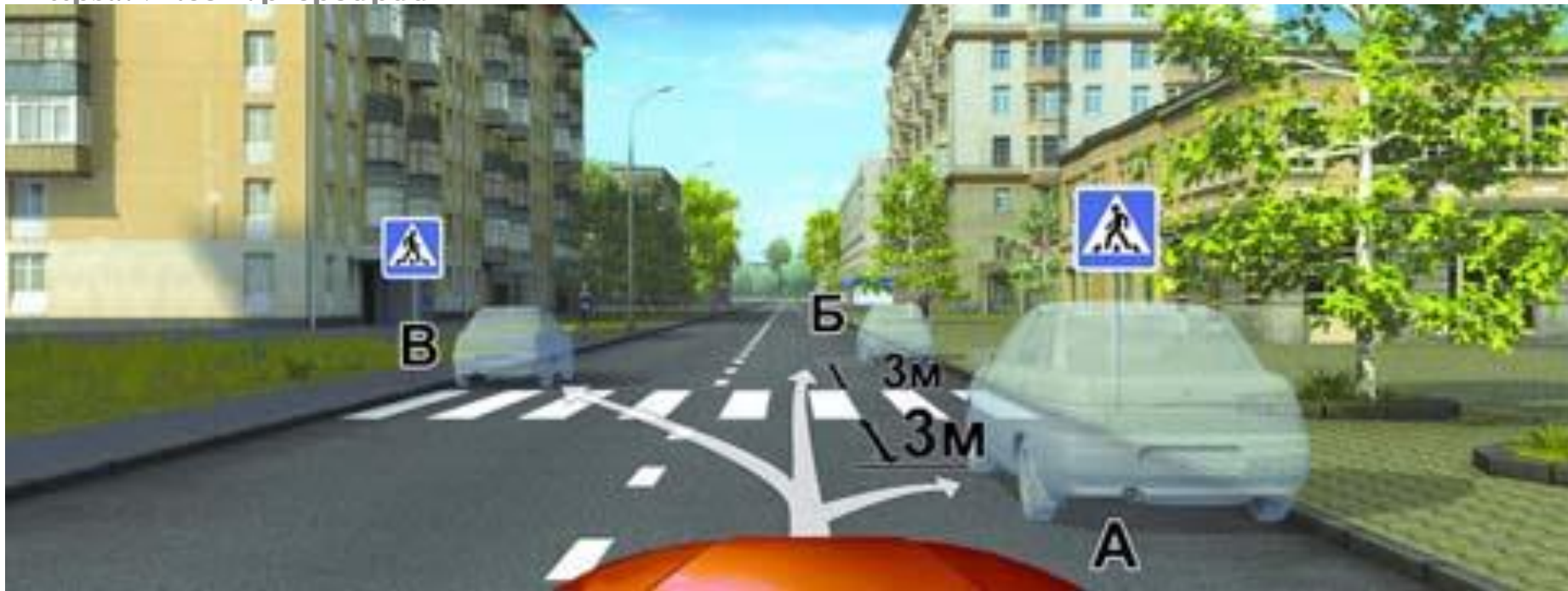


Можете ли Вы остановиться для посадки пассажира?

- 1. Да
- 2. Нет

Правильный ответ: 2

Однозначно нет. Так как в тоннелях, под эстакадами, мостами, путепроводами остановка запрещена. (Пункт 12.4 ПДД).



В каком из указанных мест Вы можете произвести остановку?

1. Только А
2. Только Б
3. Только Б и В
4. Ни в каком

Правильный ответ: 2

Действие происходит в населённом пункте на участке дороги, имеющей по одной полосе движения в каждом направлении, без трамвайных путей посередине. В этом случае допускается остановка и с левой стороны по ходу движения.

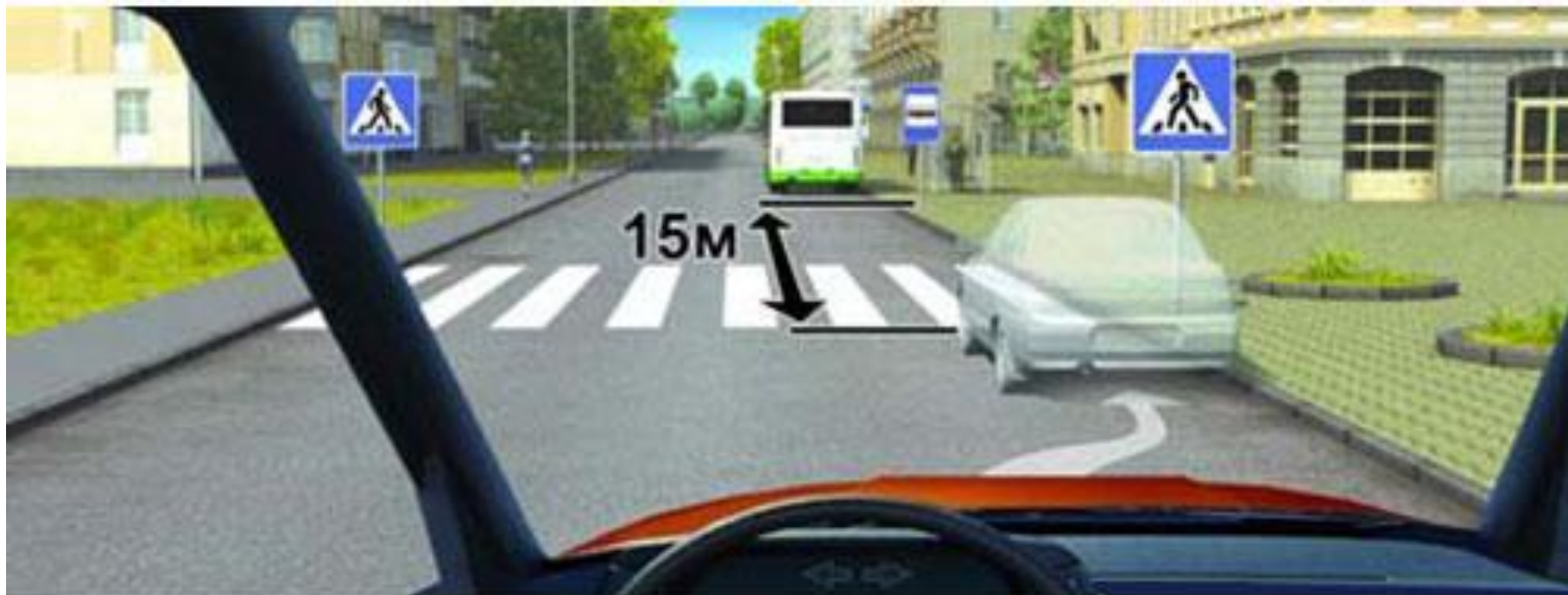


Разрешена ли Вам остановка в указанных местах?

- 1. Разрешена только в Б**
- 2. Разрешена только в В**
- 3. Разрешена только в А и В**
- 4. Запрещена**

Правильный ответ: 1

Так как действие происходит в населённом пункте на участке дороги, обозначенном знаком 5.5 «Дорога с односторонним движением», то в этом случае останавливаться можно и с левой стороны по ходу движения. В данной ситуации, в месте «Б», за пешеходным переходом.



Разрешено ли Вам поставить автомобиль на стоянку в указанном месте?

- 1. Разрешено, если при этом не будут созданы помехи для движения маршрутных транспортных средств**
- 2. Разрешено**
- 3. Запрещено**

Правильный ответ: 3

Хотя Вами соблюдено требование постановки автомобиля на стоянку не ближе 15 м от указателя места остановки маршрутных ТС, Вы все же нарушите Правила, так как остановка и стоянка запрещены на пешеходных переходах и ближе 5 м перед ними



Разрешена ли Вам остановка для высадки пассажиров в указанном месте?

- 1. Разрешена**
- 2. Разрешена, если не будет создано помех для движения маршрутных транспортных средств**
- 3. Запрещена**

Правильный ответ: 2

В населённых пунктах на дорогах, имеющих по одной полосе движения в каждом направлении, без трамвайных путей посередине разрешается остановка и стоянка не только с правой стороны, но и с левой по ходу движения.



Разрешена ли Вам остановка для посадки пассажира в этом месте?

- 1. Разрешена**
- 2. Разрешена, если при этом не будет создано помех для движения маршрутных транспортных средств**
- 3. Запрещена**

Правильный ответ: 2

В местах остановки маршрутных транспортных средств остановка, связанная с посадкой, высадкой пассажиров, допускается, но при этом не должно быть создано помех движению маршрутных транспортных средств. (Пункт 12.4 ПДД).

**Остановка и
стоянка
Ваши вопросы по
теме?**