


**Тренажёр
«Учись решать
задачи!»**



Выбери задание!

Задачи на
нахождение
суммы

Задачи на
увеличение
или
уменьшение







Прочитай
инструкцию!

Задачи на
нахождение
разности

Задачи на
сравнение

Отдохни!

Внимательно прочитай инструкцию!

1. Прочитай внимательно задачу.
2. Рассмотрите варианты решения задачи, выбери нужный и щёлкни мышью ядом с решением.
3. Если решение верно, то анет огда щёлкни мышью на  решай следующее задание.
4. Если ты выбрал неправильное решение, то нет . Подумай ещё раз над решением!

Желаю удачи!



Винни – Пух за обедом съел 3 банки мёда, а за ужином ещё 2 банки мёда. Сколько всего баночек мёда съел Винни – Пух?

● $3 + 2 = 5$ (б)

Ответ: 5 баночек.



● $3 - 2 = 1$ (б)

Ответ: 1 баночку.



Красная шапочка несла в корзинке для бабушки 5 пирожков с яблоками и 3 пирожка с капустой. Сколько всего пирожков несла Красная шапочка?



$$5 - 3 = 2 \text{ (п.)}$$

Ответ: 2 пирожка.



$$5 + 3 = 8 \text{ (п.)}$$

Ответ: 8 пирожков.



Буратино сначала решил 4 примера, а потом ещё 3 примера. Сколько всего примеров решил Буратино?

● $4 - 3 = 1$ (пр.)
Ответ: 1 пример.

● $4 + 3 = 7$ (пр.)
Ответ: 7 примеров.



Доктор Айболит вылечил 6 зайчиков, а лисичек на 2 меньше. Сколько лисичек вылечил добрый доктор?

$6 - 2 = 4$ (л.)

Ответ: 4 лисички.



$6 + 2 = 8$ (л.)

Ответ: 8 лисичек.



Фокусник достал из шляпы 2 белых кролика, а серых на 3 больше. Сколько серых кроликов было в шляпе фокусника?



$$3 - 2 = 1 \text{ (кр.)}$$

Ответ: 1 кролик.



$$2 + 3 = 5 \text{ (кр.)}$$

Ответ: 5 кроликов.



Буратино знает 7 песенок, а Пьеро на 2 песенки больше. Сколько песен знает Пьеро?



$$7 - 2 = 5 \text{ (п.)}$$

Ответ: 5 песен.



$$7 + 2 = 9 \text{ (п.)}$$

Ответ: 9 песен.



Красная шапочка сорвала на полянке 6 колокольчиков, а ромашек на 3 меньше. Сколько ромашек сорвала Красная шапочка?



$$6 - 3 = 3 \text{ (р.)}$$

Ответ: 3 ромашки.



$$6 + 3 = 9 \text{ (р.)}$$

Ответ: 9 ромашек.



В коробке у Буратино лежало 6 конфет и 4 пряника.
На сколько больше было конфет, чем пряников?



$$6 + 4 = 10 \text{ (к.)}$$

Ответ: 10 конфет.



$$6 - 4 = 2 \text{ (к.)}$$

Ответ: на 2 конфеты больше.



Винни – Пух надул 5 шариков, а Пятачок 1 шарик.
На сколько меньше шариков надул Пятачок?



$$5 - 1 = 4 \text{ (ш.)}$$

Ответ: на 4 шарика меньше.



$$5 + 1 = 6 \text{ (ш.)}$$

Ответ: 6 шариков.



Доктор Айболит дал волку 5 ложек сиропа, а зайчику 2 ложки сиропа. На сколько ложек больше сиропа получил волк?



$$5 - 2 = 3 \text{ (л.)}$$

Ответ: на 3 ложки больше.



$$5 + 2 = 7 \text{ (л.)}$$

Ответ: 7 ложек.



Буратино съел 6 конфет, а Пьеро 3 конфеты.
На сколько конфет меньше съел Пьеро?



$$6 - 3 = 3 \text{ (к.)}$$

Ответ: на 3 конфеты меньше.



$$6 + 3 = 9 \text{ (к.)}$$

Ответ: 9 конфет.



На полянке росло 7 грибов. Ёжик положил в корзинку 2 грибка. Сколько грибов осталось на полянке?

● $7 - 2 = 5$ (гр.)
Ответ: 5 грибов.

● $7 + 2 = 9$ (гр.)
Ответ: 9 грибов.



В воздухе кружили 7 бабочек. Потом 3 бабочки опустились на траву. Сколько бабочек осталось летать?



$7 + 3 = 10$ (б.)

Ответ: 10 бабочек.

$7 - 3 = 4$ (б.)

Ответ: 4 бабочки.




В шкафу было 8 чашек. Мальвина поставила на стол 2 чашки. Сколько чашек осталось в шкафу?

$8 - 2 = 6$ (ч.)

Ответ: 6 чашек.

$8 + 2 = 10$ (ч.)

Ответ: 10 чашек.



У Вини – Пуха было 6 горшочков с мёдом. Он решил подарить своему другу ослику Иа горшочек с мёдом. Сколько горшочков с мёдом осталось у Пуха?



$$6 + 1 = 7 \text{ (г.)}$$




Ответ: 7 горшочков.




$$6 - 1 = 5 \text{ (г.)}$$

Ответ: 5 горшочков.





Ребята, берегите зрение.



ИСТОЧНИКИ:

http://download-foto.ru/ramki-foto/5808-ramka_shkolnaja.html

<http://forum.materinstvo.ru/lofiversion/index.php/t73522-450.html>

<http://freelance.ru/users/izonavt/?work=348244>

<http://nifiga-sebe.ru/index.php?newsid=941>

<http://wap.mms.mts.ru/contents/1572360?ct=photos>

<http://www.labirint.ru/screenshot/goods/37265/16/>

<http://psychology.net.ru/talk/viewtopic.php?p=626981&>

<http://rdt45.narod.ru/variousthings/store/buratino.htm>

<http://blogs.mail.ru/mail/irina-669/tag/картинки>

<http://rdt45.narod.ru/variousthings/store/buratino.htm>

<http://zreni.ru/527-elektronnye-fizminutki-dlya-glaz-chast-3-galkina-inna-anatolevna.html>

*ТРЕНАЖЁР СОСТАВИЛИ
УЧИТЕЛЯ НАЧАЛЬНЫХ КЛАССОВ*

МБОУ ООШ № 16

БУГАНОВА И.В.

ТОЛЧИНА Е.А.