

Случаи сложения вида + 6 стр. 69



*Школа России
Математика 1 класс*





Устный счёт

Собери примеры с ответом **13**.



$9 + 4$

$14 - 1$

$10 + 3$

$8 + 5$

$8 + 4$

$7 + 4$

$7 + 6$

$9 + 5$

После того как Лена съела **5** слив, на тарелке осталось **10** слив. Сколько слив было на тарелке?



15 (слив)

$$5 + 10 = 15$$

(слив)



Бабушка испекла **6** пирожков с капустой и **10** пирожков с мясом. За обедом съели **4** пирожка. Сколько пирожков осталось?



12

$$6 + 10 - 4 = 12$$

Осенью на новой улице посадили **12** лип, а рябин на **10** меньше. Сколько посадили рябин?


2

$$12 - 10 = 2$$

Сколько всего деревьев посадили?

14

$$12 + 2 = 14$$



Новый материал



$$7 + 2$$

$$7 + 3$$

$$7 + 4$$

$$7 + 5$$


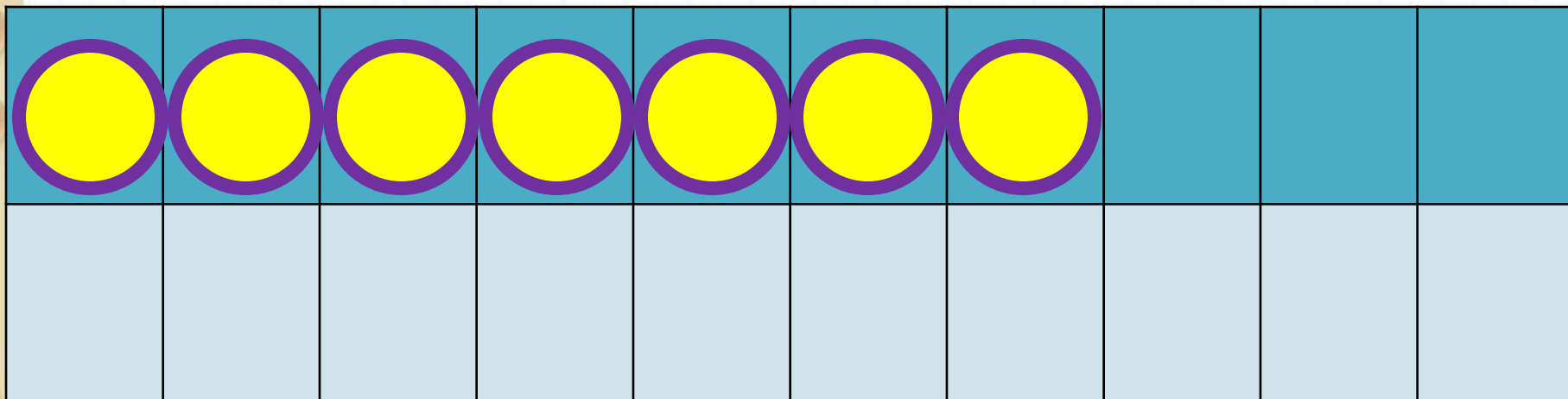
$$11 - 1$$

$$11 - 2$$

$$11 - 3$$


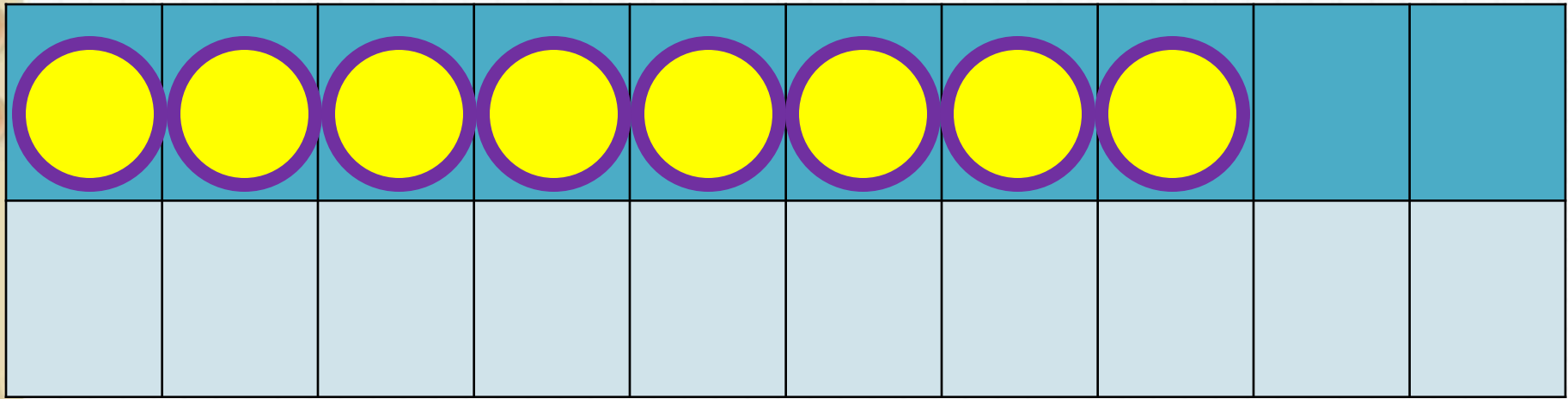
$$11 - 4$$

Сравни выражения каждого столбика. Что вы заметили? Как изменяются значения выражений. Продолжи первый столбик. Как к $7 + 6$? Чему будем учиться?



$$7 + 6$$

$$7 + 3 + 3$$



$$8 + 6$$

$$8 + 2 + 4$$

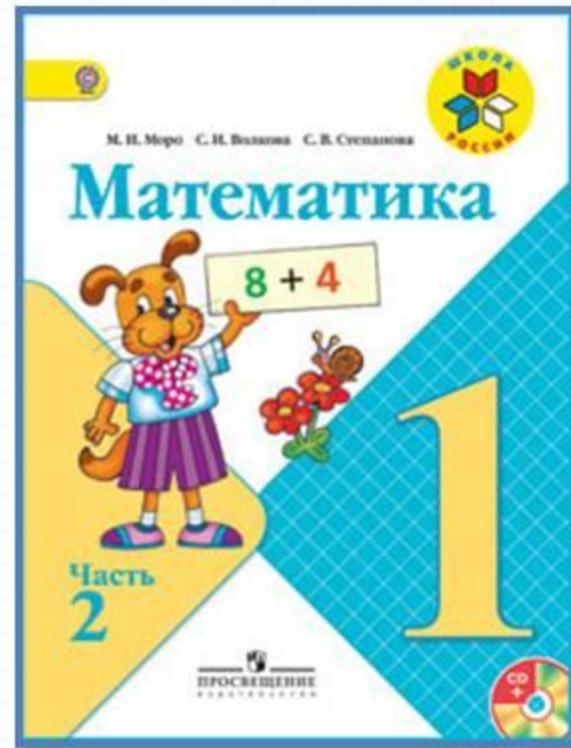


$$9 + 6 = 9 + \underline{\quad} + \underline{\quad} =$$

$$6 + 6 = 6 + \underline{\quad} + \underline{\quad} =$$

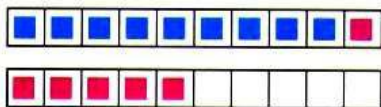
Заполни пропуски.

Работа по учебнику



стр. 69

Объясни, как к числу 9 прибавить 6.



$$\begin{array}{r} 9 + 6 \\ 9 + \square + \square \end{array}$$

Рассуждая так же, вычисли.

$$\begin{array}{r} 8 + 6 \\ 8 + 2 + \square \end{array}$$

$$\begin{array}{r} 7 + 6 \\ 7 + 3 + \square \end{array}$$

$$\begin{array}{r} 6 + 6 \\ 6 + 4 + \square \end{array}$$

Запомни!

$$9 + 6 = 15 \quad | \quad 8 + 6 = 14 \quad | \quad 7 + 6 = 13 \quad | \quad 6 + 6 = 12$$

- $9 + 5$ $8 + 5$ $9 + 4$ $6 + 4 - 10$
 $6 + 5$ $7 + 5$ $8 + 3$ $17 - 7 - 10$
- В саду 8 яблонь, а груш на 2 больше. Сколько всего яблонь и груш в саду?
- На школьном участке посадили 10 берёзок, а ёлочек на 4 меньше. Сколько ёлочек посадили?
- $14 - 4 + 2$ $8 + 2 + 6$ $10 - 6 - 4$
 $17 - 7 + 6$ $6 + 4 + 5$ $10 - 8 - 1$
- Начерти два отрезка: длина одного 1 дм, длина другого 6 см. На сколько один отрезок длиннее другого?
- В занимательных рамках сумма всех чисел, расположенных вдоль каждой стороны многоугольника, должна быть равна числу, которое записано в центре. Назови недостающие числа.

$5 + 6 = \square$

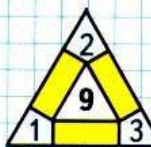
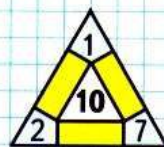
$10 - 3 + 4 = \square$

$10 - 2 + 5 = \square$

$\square + 6$



ЗАНИМАТЕЛЬНЫЕ РАМКИ:



?

Объясни, как к числу 9 прибавить 6.



$$\begin{array}{r} 9 + 6 \\ \hline 9 + \square + \square \end{array}$$

Рассуждая так же, вычисли.

$$\begin{array}{r} 8 + 6 \\ \hline 8 + 2 + \square \end{array}$$

$$\begin{array}{r} 7 + 6 \\ \hline 7 + 3 + \square \end{array}$$

$$\begin{array}{r} 6 + 6 \\ \hline 6 + 4 + \square \end{array}$$

Запомни!

$9 + 6 = 15$ | $8 + 6 = 14$ | $7 + 6 = 13$ | $6 + 6 = 12$

1.	$9 + 5$	$8 + 5$	$9 + 4$	$6 + 4 - 10$
	$6 + 5$	$7 + 5$	$8 + 3$	$17 - 7 - 10$

2. В саду 8 яблонь, а груш на 2 больше. Сколько всего яблонь и груш в саду?

3. На школьном участке посадили 10 берёзок, а ёлочек на 4 меньше. Сколько ёлочек посадили?

4.	$14 - 4 + 2$	$8 + 2 + 6$	$10 - 6 - 4$
	$17 - 7 + 6$	$6 + 4 + 5$	$10 - 8 - 1$

$$\begin{array}{lll} 4. & 14 - 4 + 2 & 8 + 2 + 6 & 10 - 6 - 4 \\ & 17 - 7 + 6 & 6 + 4 + 5 & 10 - 8 - 1 \end{array}$$

5. Начерти два отрезка: длина одного 1 дм, длина другого 6 см. На сколько один отрезок длиннее другого?

6. В занимательных рамках сумма всех чисел, расположенных вдоль каждой стороны многоугольника, должна быть равна числу, которое записано в центре. Назови недостающие числа.

$$5 + 6 = \square$$

$$10 - 3 + 4 = \square$$

$$10 - 2 + 5 = \square$$

Работа в тетради

стр. 36



$\square + 6$

1

$3 + 6 =$	$5 + 6 =$	$9 + 6 =$
$7 + 6 =$	$4 + 5 =$	$8 + 6 =$

2

Устно реши задачи. Соедини линией кружок с номером задачи и карточку, на которой записано её решение.

$7 - 3 = 4$

$7 + 3 = 10$

$7 + 3 + 3 = 13$

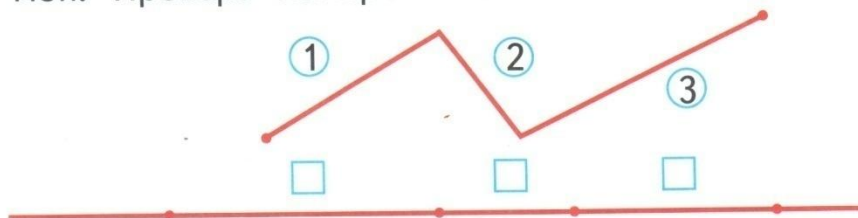
1 Костя взял из коробки сначала 7 солдатиков, а потом ещё 3. Сколько всего солдатиков взял Костя из коробки?

2 Коле 7 лет, а Саше 3 года. На сколько лет Коля старше, чем Саша?

3 Катя собрала 7 стаканов малины, а мама — на 3 стакана больше. Сколько стаканов малины собрала мама?

3

Определи на глаз и запиши в окошко номер каждого звена ломаной, отложенного на прямой. Проверь измерением.



Закрепление изученного



Посчитайте:




$$4+4+6 =$$

$$4+5 +6 =$$

$$4+3 +6 =$$

$$5+4+5 =$$



Увеличь на 6 числа.



5	7	4	3	8	9	10

$$7 \text{ см} + 6 \text{ см} =$$

$$8 \text{ кг} + 6 \text{ кг} =$$

$$9 \text{ л} + 6 \text{ л} =$$

$$6 \text{ дм} + 6 \text{ дм} =$$



Задания на смекалку



У Антона и Славика было по **4** солдатика. Слава подарил Антону **1** солдатика. На сколько больше солдатиков стало у Антона, чем у Славы?



Антон



Слава



на 2 больше

Коля родился **7** лет тому назад, а Саша - **10** лет тому назад. Кто из мальчиков старше?



Саша старше на 3 года.



Рефлексия

Используйте следующие выражения для оценки своей работы на уроке:

ПОВТОРИЛ

УЗНАЛ

ОВЛАДЕЛ СПОСОБОМ

ДЕЙСТВИЯ

ВЫЯСНИЛ

УПРАЖНЯЛСЯ



