



3 4 0  
2 6 1 7  
5

0

Вот это ноль иль  
ничего



1

Вот один, иль единица, очень тонкая,  
как спица



А вот это цифра два. Полюбуйся,  
какова:  
Выгибает двойка шею, волочится хвост  
за нею.



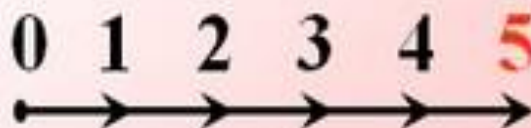
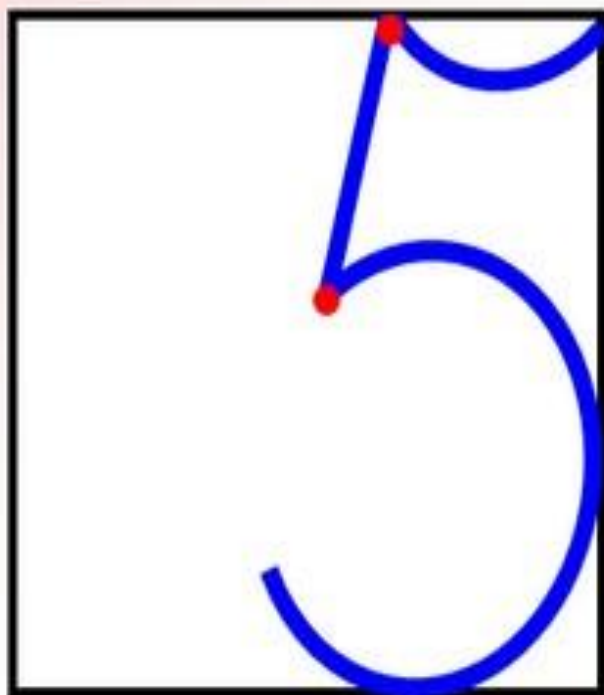
А за двойкой - посмотри - выступает цифра  
три .



Тройка - третий из значков - состоит из  
двух крючков.



За тремя идет четыре,  
острый локоть оттопыря.


*А потом пошла плясать  
По бумаге цифра пять.  
Руку вправо протянула,  
Ножку круто изогнула.*





Цифра шесть - дверной замочек:  
Сверху крюк, внизу крючочек





Вот семерка - кочерга. У неё одна нога.

Молодцы !  
Правильно составили числовой ряд  
до семи.



0 1 2 3 4 5 6 7



DenSvi.com

У восьмёрки два кольца.  
Без начала и конца.

Как получить число 8?



Я расскажу вам





www.istockphoto.com

www.istockphoto.com


www.istockphoto.com

www.istockphoto.com

www.istockphoto.com

www.istockphoto.com

www.istockphoto.com



www.istockphoto.com

7

1

8



6

2

8





8

7

1


6

2



?

На что похожа  
цифра 8 ?





**Остановка  
«Математических  
задач»**

## Зайчики и ёжик

Ушки над бугром торчат...  
Пара — это зайка.  
Сколько за бугром зайчат?

Ну-ка, сосчитай-ка!  
И на той же кочке  
Сосчитай цветочки.





Я нашёл в дупле у  
белки

**Семь (7)** лесных орехов  
мелких,

Вот ещё **один (1)** лежит.  
Ну и белка! Вот  
хозяйка!

Ты орешки сосчитай-ка!



Придумайте и решите  
задачу

Придумай и реши задачу по картинке.



1 2 3 4 5 6 7 8 9

-  =

ПРОВЕРКА





## Задача.

В тарелке лежало 8 рыб. Кот съел 6 рыб.

Сколько рыб осталось в тарелке?

Решение

$$8 - 6 = 2$$

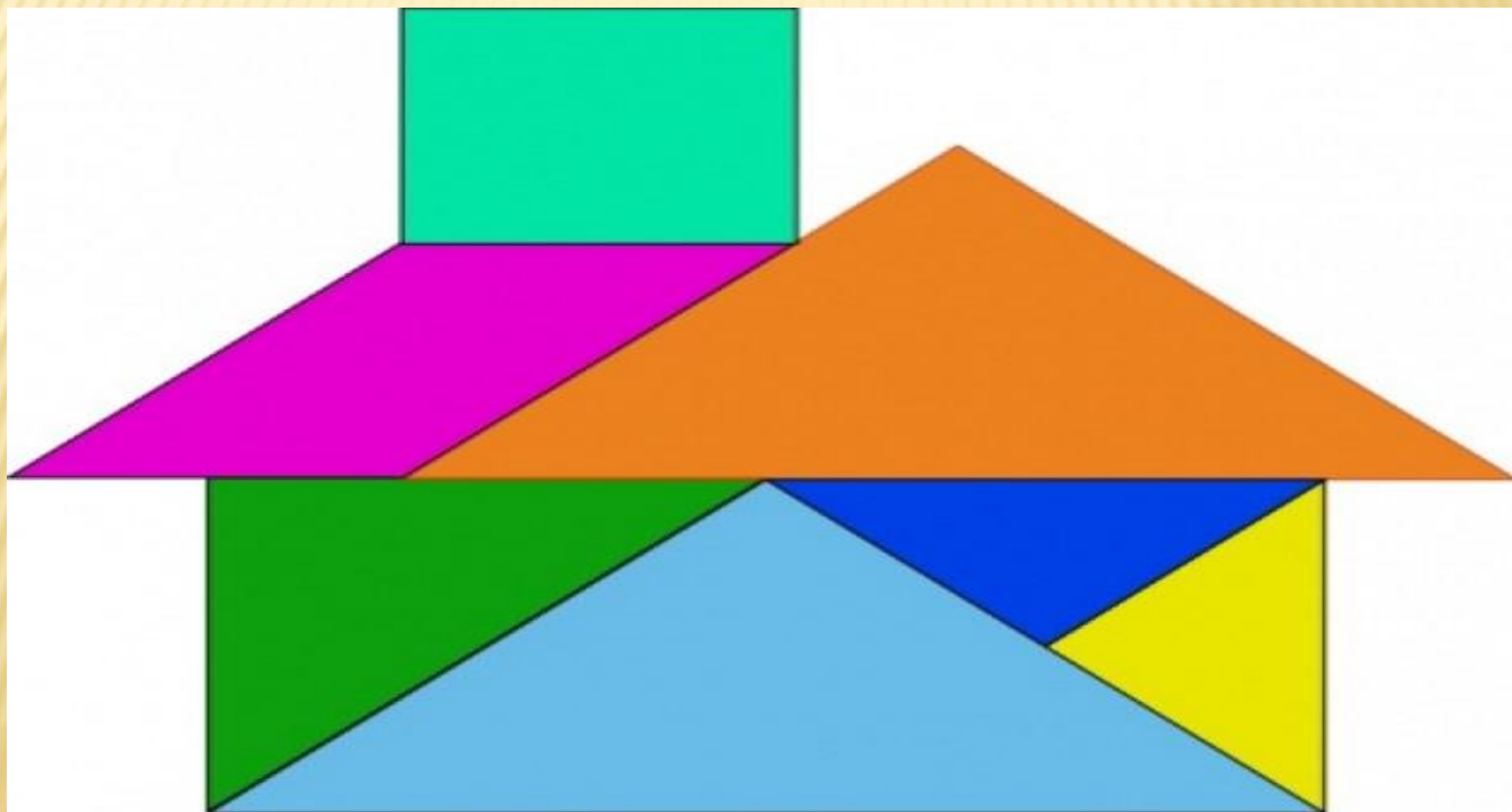
Ответ:

В тарелке осталось 2 рыбы



**Молодцы!  
Справились с заданием!**

# Остановка танграм.





Дидактическая  
игра

«Назови соседа  
чисел»







