
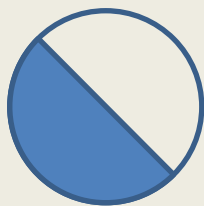



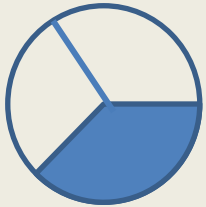
Делим на равные части

Сколько закрашено?



Половина – одна
вторая



Сколько закрашено?



Треть – одна



третья

Сколько закрашено?



Четверть – одна
четвёртая

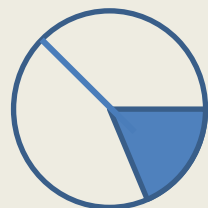
Сколько закрашено?



Шестая – одна

шестая

Верно ли, что у фигур закрашена
....?

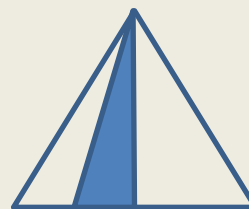



трет
ь

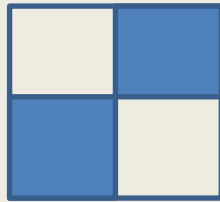



ПОЛОВИН

а




Сколько закрашено?



Две

четверти

Сколько закрашено?



Три

ШЕСТИХ