

# Занимательная

# математика





Объявление!!!!


Ребусы


Задачи - тесты

Логические задачи




# Ребусы





чис



сч




1



2



5



8



З



Н

А

К



МИН

УС




ТОЧ



ЗАД



СТР



СТО

Р1а

Род

ПО

под



ина

40



1000

вал



сор

ст



**СКВО**

**рец**  
**1000**янк

**а** **СТОЯ**



*Отгадай ребус*

*и ты узнаешь о правилах личной гигиены.*

ПРЕЖДЕ ЧЕМ ВСЯ

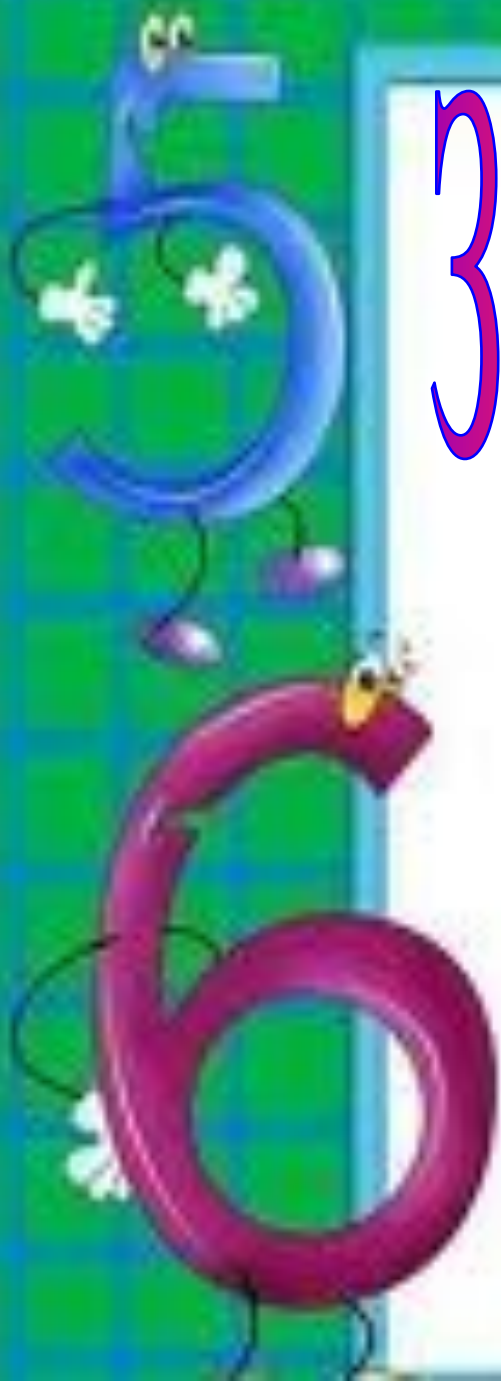
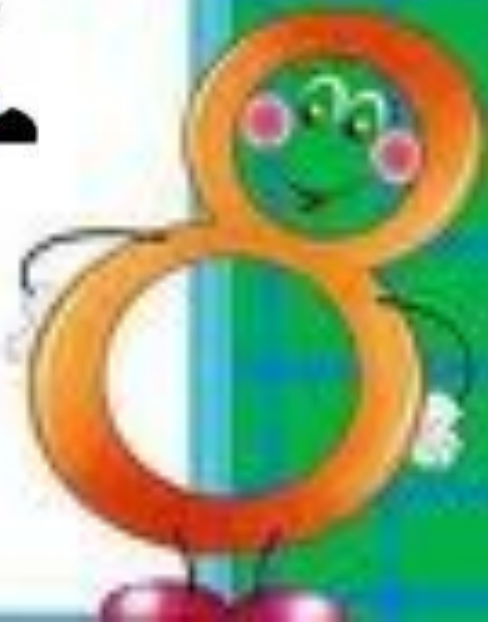
7Я 05 СЯДЕТ ЗА СТОЛ,

ПРЕ2РИТЕЛЬНО

ВЫ3 КЛЕЁНКУ.



# Задачи-тесты



# Выбери правильный

7 воробьи ответ спустились на  
грядки,  
Скачут и что - то клюют без  
оглядки.

Котик - хитрюга внезапно  
подкрался,  
Мигом схватил одного и умчался.

Вот как паску клевать, без  
оглядки!

Силько тепеь их ста  
грядке:

0

6

5



# Выбери правильный

ответ

Дед, баба, внучка, Жучка, кошка и мышка тянули-тянули репку и, наконец, вытянули. Сколько глаз смотрело на репку?

10

12

8



# Выбери правильный




от

Два цыплёнка стоят,  
Два в скорлупке сидят,  
Шесть яиц под  
крылом

У наседки лежат.

Сосчитай поточней,  
Отвечай поскорей:

Сколько будет цыплят  
У наседки моей?



9

10

8

**Выбери правильный  
ответ**



**Два щенка-баловника  
Бегают, резвятся,  
К шалунишкам три щенка  
С громким лаем мчатся.  
Вместе будет веселей.  
Сколько собралось  
друзей?**

4

5

6

**Выбери правильный  
ответ.**



**Три гуся летят над нами,**

**Три других – за  
облаками,**

**Два спустились на  
ручей.**

4

8

6

**Выбери правильный**  
**ответ**

**Семь листьев Вася сам  
собрал,  
Два листика Алеша дал.  
Скажите, сколько у него  
Осенних листиков всего?**

**7**

**9**

**8**



**Выбери правильный  
ответ**

**У стены стоят кадучки.  
В каждой ровно по 2  
лягушки.**

**Если было пять кадучек,  
Сколько было в них  
лягушек?**



10

5

8

# Выбери правильный

Посадила ответ в печь

Пирожки с капустой в печь

Для Наташи, Маши, Тани,

Коли, Оли, Гали, Вани

Пирожки уже готовы.

Где еще один пирог

Кот под лавку уволок.

Да в печи четыре штуки

Пироги считают внуки.

Если можешь, помоги

Сосчитать им пироги.



10





12



11





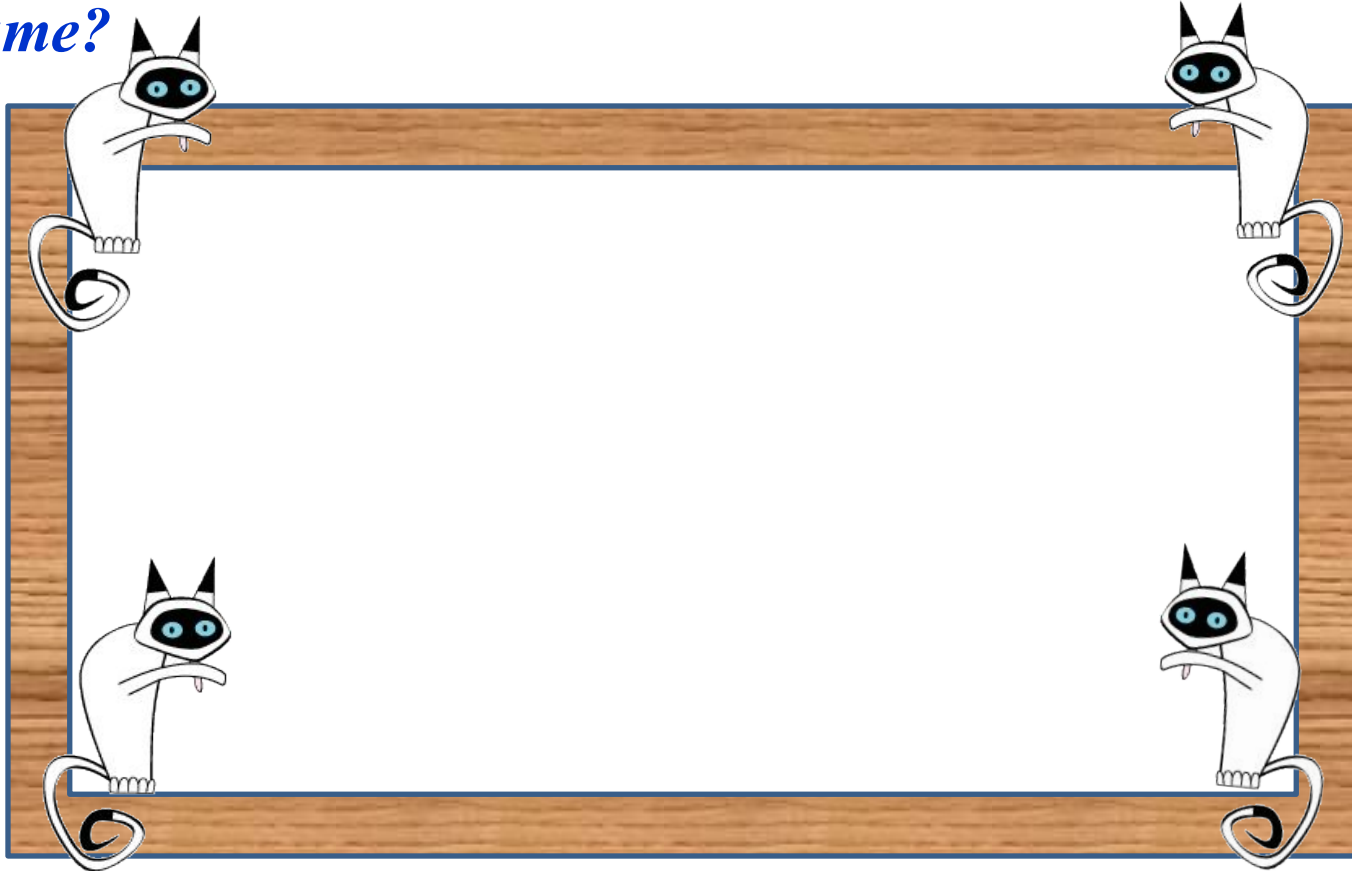
# Логические задачи



## Кошки



*В комнате 4 угла, в каждом углу по одной кошки, напротив каждой кошки по три кошки, на хвосте у каждой кошки, по одной кошки. Сколько кошек в комнате?*



**Ответ:** *4 кошки. Напротив каждой кошки по три кошки в трёх углах, и каждая кошка сидит на своём хвосте!*

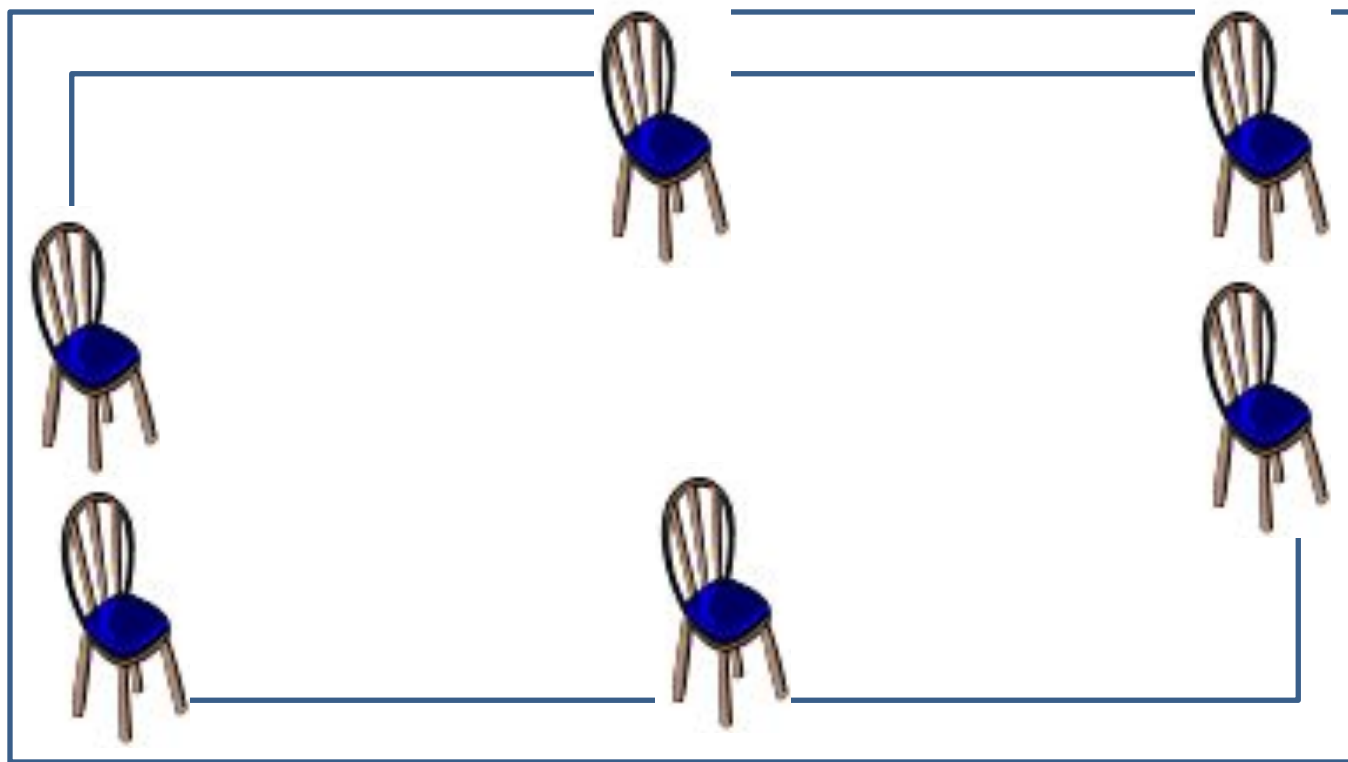
# Свечи.

*В комнате горело 50 свечей, 20 из них задули. Сколько останется?*



*Ответ: останется 20 свечей, остальные сгорят, а задутые свечи не сгорят полностью.*

*Расставьте в комнате 6 стульев так, чтобы у каждой стены стояло по 2 стула.*



Сидят три барана, против  
каждого барана - два барана,  
много ль всех?



*Ответ: 3 барана.*


*Сестре 4 года, брату 6 лет.  
Сколько лет будет брату, когда  
сестре исполнится 6 лет?*



***Ответ: 8 лет.***



**Как в комнате можно поставить 2 стула так, чтобы у каждой из четырех ее стен стояло по одному стулу.**



**У мальчика столько сестер, сколько и братьев, а у его сестры вдвое меньше сестер, чем братьев. Сколько всех братьев и всех сестер?**



**Ответ: 4 брата, 3 сестры.**





### Ресурсы:

- <http://images.google.ru/imghp?hl=ru&tab=wi> картинки;
- <http://images.yandex.ru/> картинки;
- [http://rebus.detsky-mir.com/2871/rebusy\\_po\\_matematike/](http://rebus.detsky-mir.com/2871/rebusy_po_matematike/);
- <http://znajka.net/>;
- <http://www.prozagadki.ru/>
- <http://images.yandex.ru/yandsearch?ed=1&text=детские фоны>.

### *Автор презентации*

*Берестовская Наталья Александровна,  
учитель начальных классов  
МОУ СОШ № 61 п. Персиановский,  
Октябрьского района, Ростовской области*

***Презентация опубликована на сайте -  
[viki.rdf.ru](http://viki.rdf.ru)***