



НАРОДНАЯ
ГРАММА

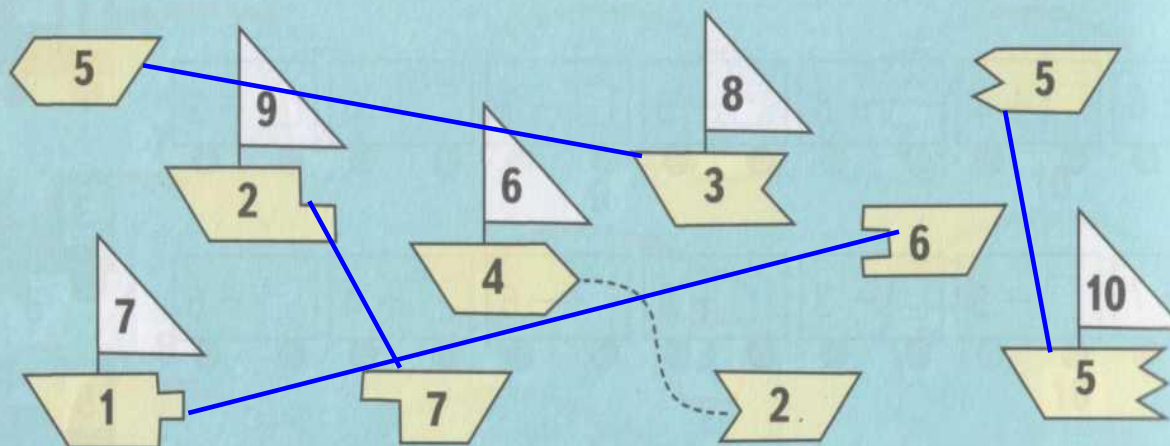
ученикам 1 "В" класса

Просим Вас принять участие
в кругосветной парусной регате.



Парусная регата

1 Составь кораблики из двух частей так, чтобы число на парусе было равно сумме чисел на этих частях.





беда



Сравните числа:



3



4



Как получить число **5**,

если есть число **4** ?

$$4 + 1 = 5$$

Какое число называют
при счете

перед числом 8??

5

Поставьте в примере
пропущенное число:


$$4 + 2 = 6$$

Назовите предыдущее и
последующее число:

3

4

5

Угадайте знак и
пропущенное число:

$$9 * \boxed{2} = 5$$








Победа




8 7 6 5 4 3 2 1

В Р У Н Г Е Л Ъ











**Ребята, чтобы стать
моряком, надо иметь
хорошее зрение!
Берегите зрение!**







5 Заполни пропуски так, чтобы число на бескозырке было равно сумме чисел на ленточках.

| | | | |
|------------------|-------------------|-------------------|-------------------|
| <p>7 2 5</p> | <p>10 4 6</p> | <p>8 3 5</p> | <p>10 7 3</p> |
| <p>8 6 2</p> | <p>7 3 4</p> | <p>10 2 8</p> | <p>9 2 7</p> |



81510

Папа – спон спону – сынишке
Семь снегурей на ветках сидели.
Подарил четыре книжки.
Семь гусей в путь пусть в путь.
Три свистульки в путь пусть в путь.
Их спон на оурали как оружей
Два режущих отдохнуть
и щипульки в путь пусть в путь.
Книжки да оурали бегмоту медведь
Сколько их тебе облакам?
Две морскому кашалоту
Сколько их тебе чекрех бельчат.
Сосчитайте дети сами.
Отвечь читайке, поскорей,
Сколько книг осталось у слоненка?
Сколько у ежа гостей?



ЭКВАТОР

задача

Реши задачу



- 7 м.




- ? на 4 м. меньше

]

?



A cartoon sailor with a large nose and a black hat with a yellow fish on it, standing on a wooden ship deck. The background is a blue, wavy sea. Overlaid on the image are two math problems and an answer.
$$1) \underline{7} - 4 = \underline{3}(\text{м.})$$

$$2) 7 + 3 = 10(\text{м.})$$

Ответ: 10 матросов.

