


Решение текстовых задач при подготовке к ГИА

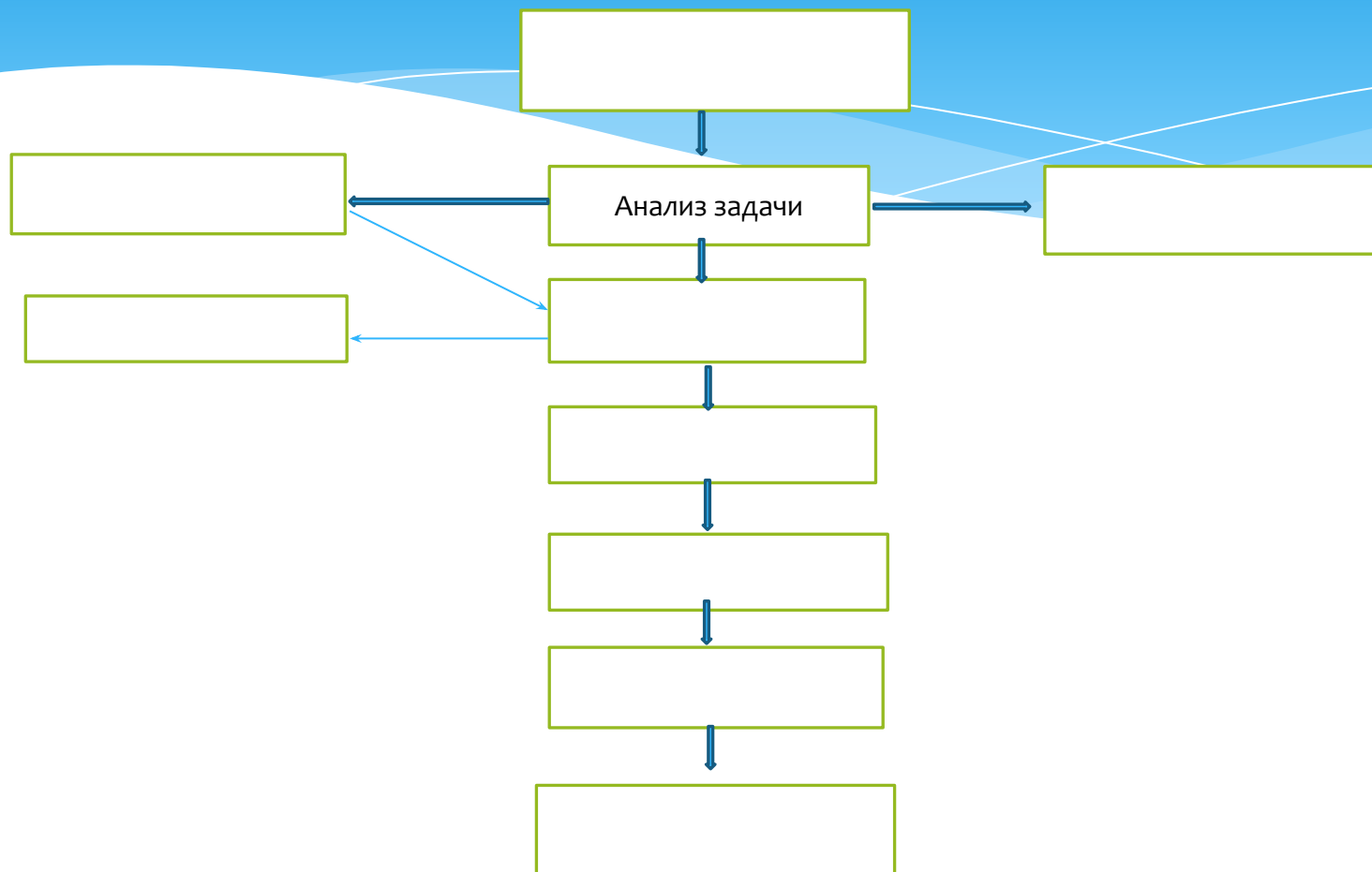
Манахова Елена Алексеевна
Учитель математики МОУ
«ООШ № 90»


За
водского района г. Саратова

- Умение решать задачи является одним из основных показателей уровня математического развития, глубины освоения учебного материала.
- При решении задач формируются различные математические понятия, осмысливаются различные арифметические операции.
- Особенно важна роль задач как средства развития логического мышления учащихся, их умения устанавливать зависимости между величинами, делать правильные умозаключения.
- Решая задачи, учащиеся приобретают новые математические знания, готовятся к практической деятельности.

- 
- * Решить математическую задачу- это значит найти такую последовательность общих положений математики, применяя которые к условиям задачи получаем то, что требуется в задаче,-ответ.

Этапы решения задачи






Все текстовые математические задачи по числу действий, выполняемых для их решения, делятся на простые и составные.

Задача, для решения которой надо выполнить один раз арифметическое действие, называется простой.

Задача, для решения которой надо выполнить несколько действий, связанных между собой (независимо от того, будут ли это разные или одинаковые действия), называется составной.

- 
- * Умение решать простые задачи является подготовительной ступенью овладения учащимися умением решать составные задачи.
 - * Решение составной задачи сводится к расчленению её на ряд простых задач и к последовательному их решению.

Основные типы задач

- Задачи на движение.
- Задачи на процентное содержание.
- Задачи на совместную работу.
- Задачи на концентрацию и сплавы.

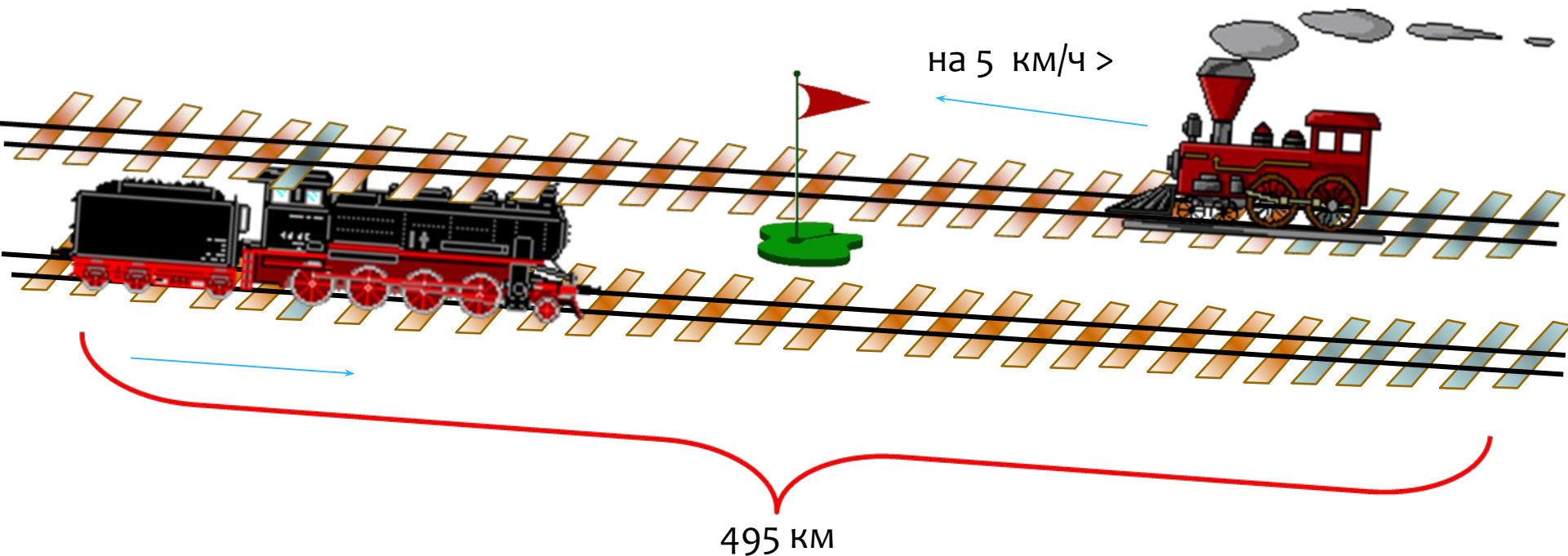
Задачи на движение.

1. Движение по суше



2. Движение по воде

Два поезда вышли навстречу друг другу одновременно из двух городов, расстояние между которыми 495 км. Через 3 ч они встретились. Какова скорость каждого поезда, если известно, что скорость одного из них на 5 км/ч больше скорости другого?



- * Пусть X -км/ч скорость одного поезда;
- * $X+5$ - км/ч скорость другого поезда;
- * $(X+ X+5)$ - км/ч скорость сближения поездов.
- * Составим и решим уравнение: $(x+x+5)3=495$.

Ответ: 80 км/ч, 85 км/ч.

Лодка может проплыть 15км по течению реки и ещё 6км против течения за то же время, за какое плот может проплыть 5км по этой реке. Найти скорость течения реки, если известно, что собственная скорость лодки 8 км/ч.

Для удобства условие оформим в виде таблицы.

	V км/ч	t ч	S км
V течения	x	$\frac{5}{x}$	5
V собственное	8		
V по течению	8+x	$\frac{15}{8+x}$	15
V против течения	8-x	$\frac{6}{8-x}$	6

Составим и решим уравнение: $\frac{15}{8+x} + \frac{6}{8-x} = \frac{5}{x}$

Получим квадратное уравнение:

$$x^2 - 42x + 80 = 0.$$

$$x_1 = 40, x_2 = 2.$$

Анализируя ответы, получаем $x = 2$ км/ч.

Ответ: 2 км/ч.

Задачи на совместную работу.

Задачи на работу содержат следующие величины:

A- объем выполненной работы

P- производительность труда

t- время выполнения работы

Уравнение, связывающее эти три величины, имеет

вид: $A = Pt$

Два случая при решении задач на совместную работу:

- * 1) Объем выполненной работы известен, т.е. если речь идет о количестве кирпичей, страниц или построенных домов — работа как раз и равна этому количеству.
- * 2) Объем выполненной работы неизвестен, т.е. если объем работы не важен в задаче и нет никаких данных, позволяющих его найти — работа принимается за единицу.

Один мастер может выполнить заказ за 12 часов, а другой- за 18 часов. За какое время могут выполнить заказ эти мастера, работая вместе?

*Объём выполненной работы= производительность × время

$$P = \frac{A}{t}$$

	A	p	t
1 мастер	1		12
2 мастер	1		18
вместе	1		x

*

Составим и решим уравнение:

$$\left(\frac{1}{12} + \frac{1}{18}\right) x = 1$$

Ответ: 7,2 часа.



Ученик, работая самостоятельно может оштукатурить стену площадью 10 м^2 за то время, за которое мастер может оштукатурить две таких стены. Мастер и ученик, работая вместе могут оштукатурить стену за 6 часов. За какое время ученик может оштукатурить стену, работая самостоятельно?

Для решения задачи удобно составить таблицу

	A	p	t
Ученик	10		x
Мастер	20		x
вместе	10		6

* Составим и решим уравнение:

$$\left(\frac{10}{x} + \frac{20}{x} \right) 6 = 10.$$

* Ответ: 18 часов.

Задачи на процентное содержание

Три алгоритма:

- 1). Нахождения части от целого;
- 2). восстановление целого по его известной части;
- 3). нахождение процентного прироста.



1). Пусть известна некоторая величина A , надо найти a % этой величины.

Если считать, что A есть 100%, а неизвестная часть x это a %, то из пропорции

$$\frac{A}{100} = \frac{x}{a},$$

имеем: $x = \frac{Aa}{100}$

*2). Пусть известно, что некоторое число b составляет a % от неизвестной величины A . Требуется найти A .

Рассуждая аналогично, из пропорции получаем

$$A = \frac{100b}{a}$$

3). Пусть некоторая переменная величина A , зависящая от времени t , в начальный момент $t=0$ имеет значение A_0 , а в момент t_1 – значение A_1 .

$A_1 - A_0$ - абсолютный прирост величины A за время t_1 ;

$\frac{A_1 - A_0}{A_0}$ - относительный прирост величины ,

$\frac{A_1 - A_0}{A_0} \times 100\% = p\%$ - процентный прирост .

Клиент внес 3000 р. на два вклада, один из которых дает годовой доход, равный 8%, а другой- 10%. Через год на двух счетах у него было 3260 р. Какую сумму клиент внёс на каждый вклад?

Пусть x р. клиент внёс на 1-ый вклад, тогда $3000-x$ р. клиент внес на 2-ой вклад.

$0,08x$ р. годовой доход на 1-ый вклад;

$0,1(3000-x)$ р. годовой доход на 2-ой вклад.

Доход на оба вклада составил $3260-3000=260$ р.

Составим и решим уравнение: $0,08x+0,1(3000-x)=260$.

Ответ: 2000р., 1000р.

Магазин обуви покупает туфли по оптовой цене 750 рублей за пару, а продаёт по цене 1200 рублей. Сколько процентов составляет торговая наценка в магазине?

*Используя понятия абсолютного и относительного прироста, получаем:

$$\frac{1200-750}{750} \times 100\% = 60\%$$

Ответ: 60%.

Цена товара была повышена на 24% и составила 372 рубля. Сколько стоил товар до повышения?

Новая цена составляет 124%. Получим:
 $372:1,24=300(\text{р.})$

Ответ: 300р.



Задачи на смеси и сплавы

M - масса смеси

m - масса вещества

$c = m/M$ - концентрация данного вещества
в смеси (сплаве)

$c \times 100\%$ - процентное содержание данного
вещества

$m = c \times M$ - масса данного вещества в смеси
(сплаве)



ДВА ВИДА ЗАДАЧ НА СМЕСИ

- * Задаются две смеси (сплавы) с массами m_1 и m_2 и с концентрациями в них некоторого вещества, равными соответственно c_1 и c_2 . Смеси (сплавы) сливают (сплавляют). Требуется определить массу этого вещества в новой смеси (сплаве) и его новую концентрацию. Ясно, что в новой смеси (сплаве) масса данного вещества равна $c_1 m_1 + c_2 m_2$, а концентрация $C = \frac{c_1 m_1 + c_2 m_2}{m_1 + m_2}$.
- * Задается некоторый объем смеси (сплава) и от этого объема начинают отливать (убирать) определенное количество смеси (сплава), а затем доливать (добавлять) такое же или другое количество смеси (сплава) с такой же концентрацией данного вещества или с другой концентрацией. Эта операция проводится несколько раз.

Влажность свежескошенной травы 60%, сена- 20%. Сколько сена получится из 1т свежескошенной травы?

В траве содержалось 60% воды, значит, «сухого вещества» было 40%. В сене 20% воды и 80% «сухого вещества». Пусть из 1т=1000кг травы получилось Xкг сена
Тогда:

$$80\% \text{ от } x = 40\% \text{ от } 1000$$

Составим уравнение:

$$0,8x = 0,4 \times 1000$$

$$X = 500 \text{ (кг)}$$

Ответ: 500 кг.

Сколько граммов 75%-ного раствора кислоты надо добавить к 30 г 15%-ного раствора кислоты, чтобы получить 50%-ный раствор кислоты?

Для удобства условие оформим в виде таблицы

Концентрация %	Масса раствора г	Масса чистого вещества г
75%	X	0,75x
15%	30	30×0,15=4,5
50%	30+x	4,5+ 0,75x

Составим уравнение и решим его:

$$(4,5+0,75x)/(x+30) \times 100\% = 50\%.$$

$$X=42 \text{ г}$$

Ответ: 42 г .

Имеется кусок сплава меди с оловом общей массой 12 кг, содержащий 45% меди. Сколько чистого олова надо добавить к этому куску сплава, чтобы получившийся новый сплав содержал 40% меди?

$m = 0,45 \times 12 = 5,4$ кг (где 0,45 – концентрация меди в сплаве).

Пусть x кг олова надо добавить к сплаву. Тогда $12+x$ кг – масса нового сплава. И так как масса меди в первоначальном сплаве равна 5,4 кг, то имеем пропорцию:


$$12 + x \quad - \quad 100\%$$

$$5,4 \quad - \quad 40\%$$

Составим уравнение: $40(12 + x) = 100 \cdot 5,4$

решая его, получаем $x=1,5$ кг.

Ответ: нужно добавить 1,5 кг чистого олова.



Используемая литература.

Сборник заданий для подготовки к государственной итоговой аттестации в 9 классе Л.В.Кузнецовой др., Москва, «Просвещение», 2012г.

Математика. Итоговая аттестация 2013, под ред. Д.А. Мальцева, «Народное образование» , 2013г.

Как научиться решать задачи, Л.М.Фридман, Е.Н. Турецкий, Москва, «Просвещение», 1979 г.

Справочник по методам решения задач по математике, А.И.Пинский, А.Г.Цыпкин, Москва, «Наука», 1989г.

Математика. Тематические тренировочные задания. В.В.Кочагин, М.Н.Кочагина, Москва, «Эксмо», 2012г.

Спасибо за внимание!

