


«В МИРЕ МАТЕМАТИКИ»»

*Дорогу осилит - идущий,
Математику - мыслящий.*



ДАВАЙТЕ ЗНАКОМИТЬСЯ!



МАТЕМАТИЧЕСКАЯ РАЗМИНКА

1. Чему равен угол в квадрате?
2. Сколько получится десятков, если 2 десятка * на 2 десятка?
3. Что будет с козой, когда ей минёт 7 лет?




МАТЕМАТИЧЕСКАЯ РАЗМИНКА

4. Два человека подошли к реке. У пустынного берега стояла лодка, в которой мог поместиться только один человек. Оба без всякой помощи переправились на этой лодке через реку и продолжали свой путь. Как они это сделали?
5. Без чего не могут обойтись математики, барабанщики и охотники?
6. Пассажир такси ехал в село. По дороге он встретил 5 грузовиков и 3 автомашины. Сколько всего машин ехало в село?

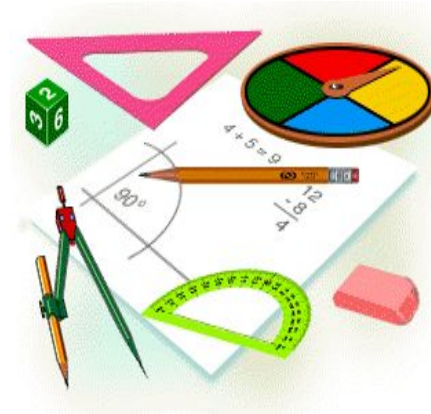
МАТЕМАТИЧЕСКАЯ РАЗМИНКА

7. Самолет летит от Москвы до Ленинграда 1 ч, а обратно - из Ленинграда в Москву - то же расстояние он пролетает за 60 мин. Почему такая разница?
8. Зайцы пилят бревно. Они сделали 12 распилов. Сколько получилось чурбаков?
9. От прямоугольной доски отрезали один угол. Сколько стало углов?



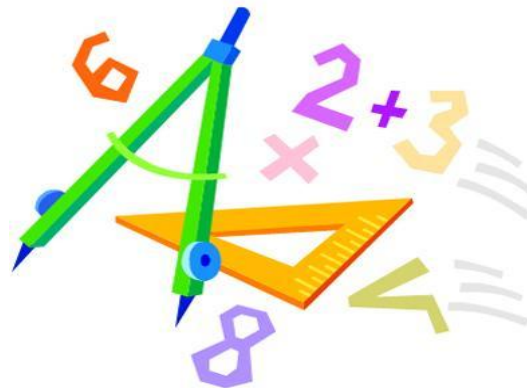
МАТЕМАТИЧЕСКАЯ РАЗМИНКА

- 10.** Какой цифрой заканчивается произведение всех чисел от 5 до 87?
- 11.** Что больше: произведение всех цифр или их сумма?
- 12.** Кто назовет пять дней подряд, не пользуясь указанием чисел месяца, не называя дней недели?



МАТЕМАТИЧЕСКАЯ РАЗМИНКА

- 13.** Какое целое число делится без остатка на любое число, отличное от нуля?
- 14.** Сумма каких двух натуральных чисел равна их произведению?
- 15.** Когда делимое и частное равны между собой?



МАТЕМАТИЧЕСКАЯ РАЗМИНКА

- 16.** Не производя никакой записи, увеличьте число 86 на 12?
- 17.** От трёхзначного числа отняли один и получили двузначное? Что это за числа?
- 18.** Применяя знаки действий, запишите число 1 тремя двойками.



ХУДОЖЕСТВЕННАЯ МАТЕМАТИКА


- Команда 1. Составьте фигуру робота, используя только лучи, прямые углы, окружности и трапеции.

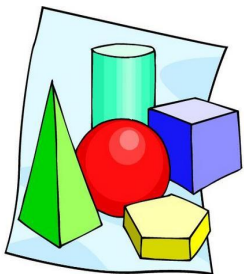


- Команда 2. Составьте фигуру робота, используя только ломаные, острые углы, точки и квадраты.



- Команда 3. Составьте фигуру робота, используя только отрезки, тупые углы, треугольники и прямоугольники.






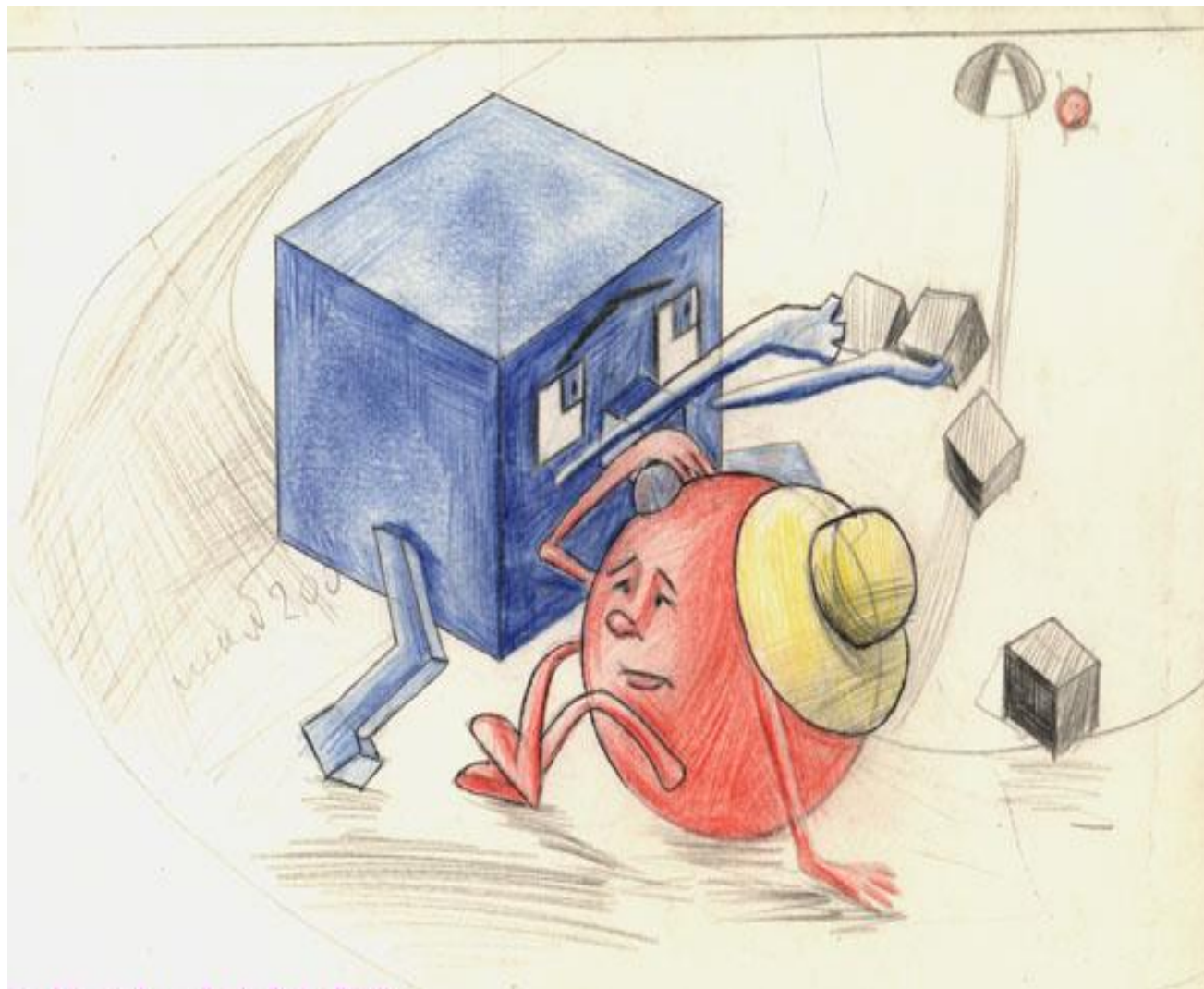
ГРАММАТИЧЕСКАЯ МАТЕМАТИКА

Составить математический мини-словарь на букву “П” (3 минуты).

Пример:



ТЕАТРАЛЬНАЯ МАТЕМАТИКА

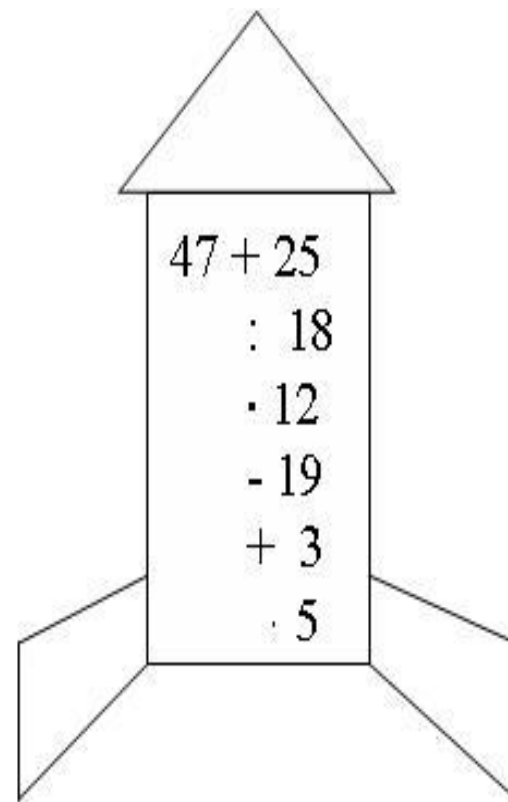
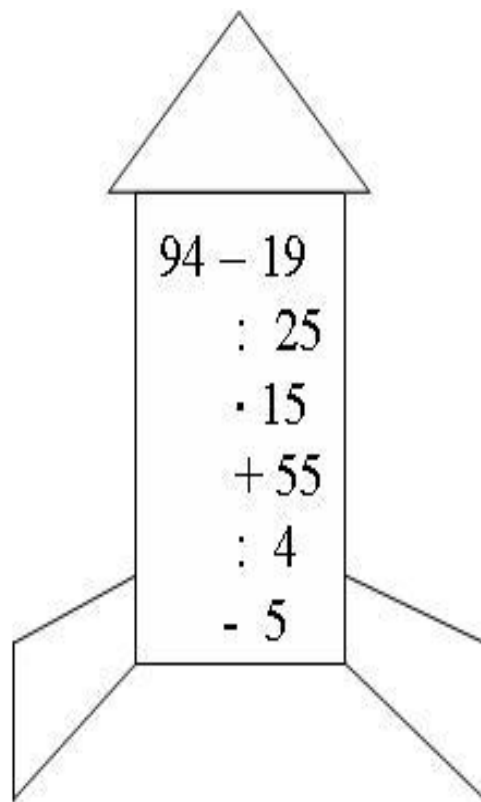
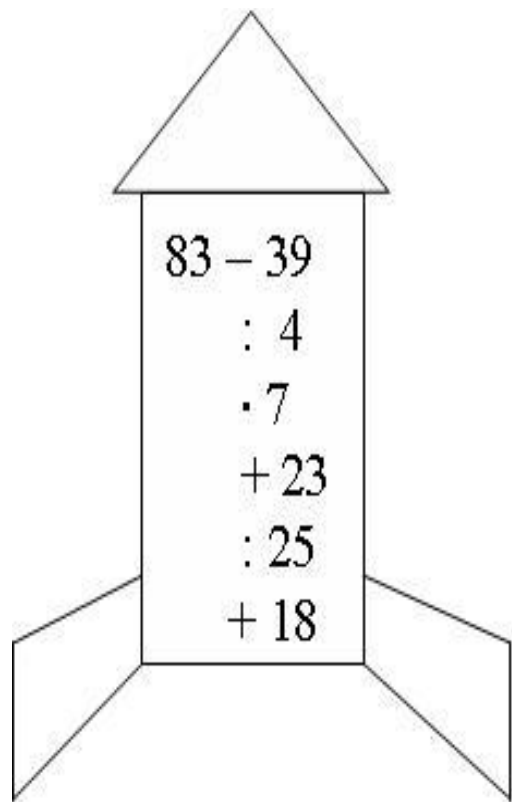


СПОРТИВНАЯ МАТЕМАТИКА





ВЫЧИСЛИТЕЛЬНАЯ МАТЕМАТИКА



НАГРАЖДЕНИЕ



**Молодцы!
Так держать!**

