
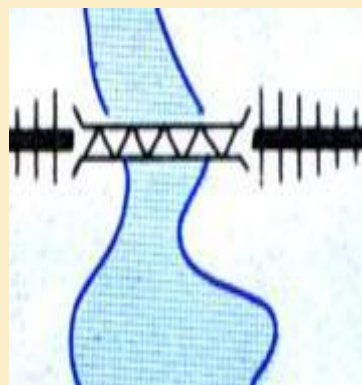




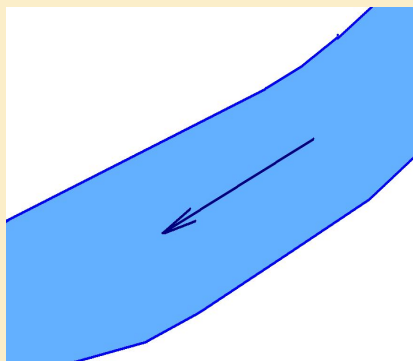


Проверка домашнего задания



Масштаб



**ПОКАЗЫВАЕТ ВО СКОЛЬКО РАЗ КАЖДАЯ
ЛИНИЯ, НАНЕСЁННАЯ НА КАРТУ,
УМЕНЬШЕНА ПО ОТНОШЕНИЮ К ЕЁ
ДЕЙСТВИТЕЛЬНЫМ РАЗМЕРАМ НА
МЕСТНОСТИ**

Виды масштабов



численный

именованный

линейный

Численный масштаб



1:10

**1 см
на
плане**

**10 см на
МЕСТНОСТИ**

Проверим себя



1:100

1:850

1: 5000

1: 25000

1: 6000000

Именованный масштаб



В 1 см 10 м



На плане

На местности

Проверим себя



В 1см 10 м

В 1см 8км

В 1см 500м

В 1см 250км

В 1см 6000км

Это надо знать!



$$1\text{М} = 100\text{СМ}$$

$$1\text{КМ} = 1000\text{М}$$

$$1\text{КМ} = ?$$

$$1\text{КМ} = 1.000.00\text{СМ}$$

Умей переводить масштабы!



1: 100

численный

В 1 см 100 км

именованный

Переведи масштаб!



В 1 см 10 м

1:10.

Переведи масштаб!



1: 250.00

В 1 см 250м

Переведи масштаб!



1: 100

В 1 см 1 м

1: 2500

В 1 см 25 м

1: 5000

В 1 см 50 м

1: 80000

В 1 см 800 м

1: 95000000

В 1 см 950 км

Переведи масштаб!



В 1 см 15м

1: 15.00

В 1 см 200м

1: 200.00

В 1 см 4 км

1: 4.000.00

В 1 см 25 км

1: 25.000.00

В 1 см 550 км

1: 550.000.00