


ПУТЕШЕСТВИЕ В «МАТЕМАТИЧЕСКИЙ» ЦИРК



«Покупаем билеты»

Вычисли. Найди лишнее.

$$13-3$$

$$14-4$$

$$2+8$$

$$12-2$$

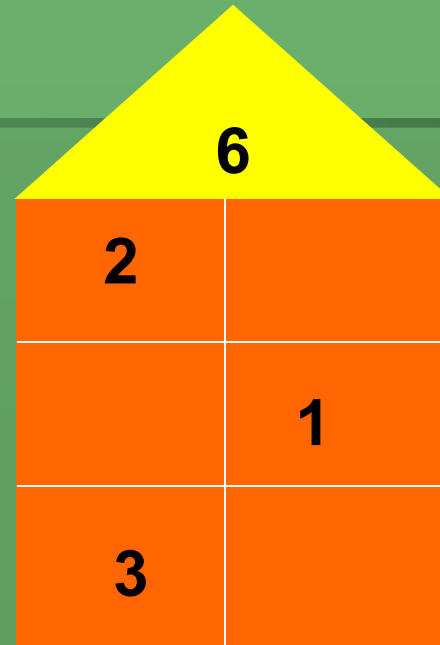
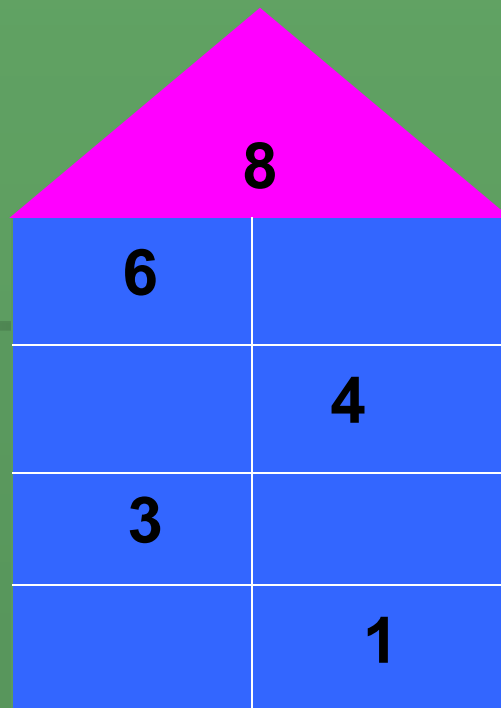
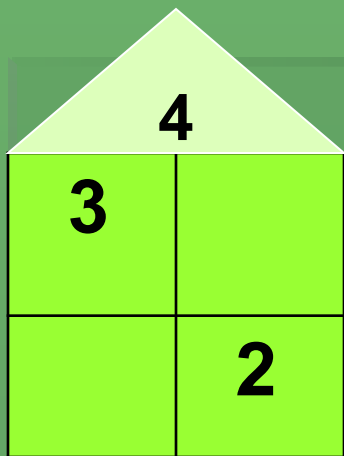
$$16-6$$

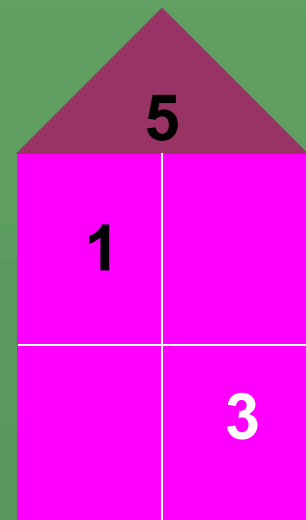
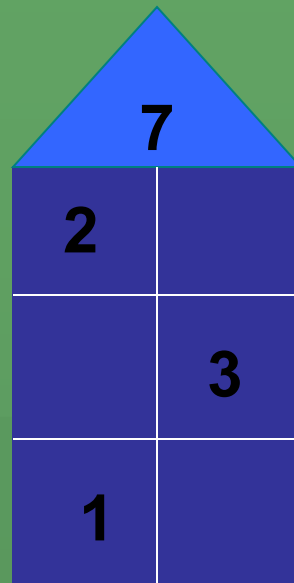

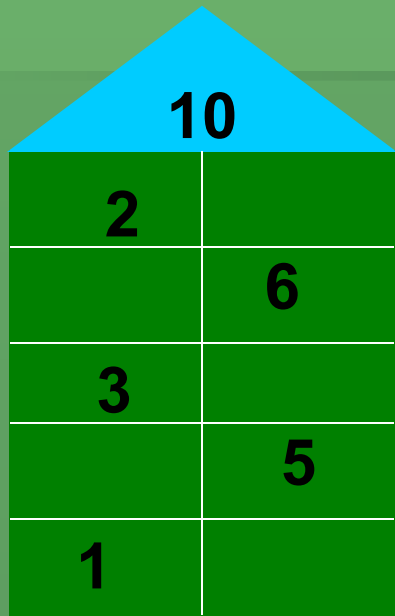
$$17-7$$

$$20-10$$

«Проходим в зал»

Решите примеры в домиках





Задание от собачки Умницы (работа в парах)

2	1	4	3	6	5	8	7	9	10	12
маль	пять	ков	чи	чу	пять	чи	лан	ков	разо	маль
11	14	13	15	17	16	19	18	20	21	
шлись	ки	чи	в	ные	раз	лан	чу	чи	ки	

Задания от клоуна Клёпы (работа в группах)

Разгадайте математические ребусы

Род 1 а

7 я

ПА *3ж

Понравилось ли вам представление?

- Какой номер понравился больше?
- Какие цели ставили?
- Какие получились результаты?
- Что хорошо у вас, получилось?

Оцените себя

