

Математика · 2 класс · УМК
«Гармония»

Урок № 17(98)

Трёхзначные числа

По какому признаку можно разбить числа

7, 38, 50, 6, 4, 78, 87, 92, 3, 0

на две группы?

7, 6, 4, 3, 0 - однозначные

38, 50, 78, 87, 92 - двузначные

- Сколько однозначных чисел ты

- Назови наименьшее? однозначное

- Сколько двузначных чисел?

- Назови наименьшее двузначное

число;

- Наибольшее двузначное число.

Какое число лишнее?

83, 54, 49, 100, 32, 23, 94

Как оно называется?

Число 100 /сто/ - трёхзначное

•Разряды


- сотни
- десятки
- единицы

Знаешь ли ты названия сотен?


Назови.

За  ифрами каждое число



1 сотня - **сто**





2 сотни - **двести**








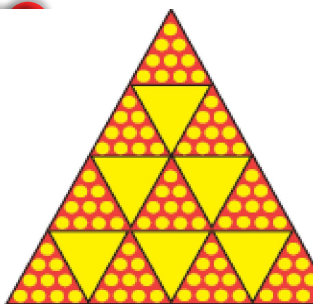
3 сотни - **триста**







4 сотни -
четыреста






5 сотен - пятьсот







6 сотен -
ШЕСТЬСОТ
















7 сотен -
СЕМЬСОТ





3 сотен -
о с е м ь с о
т



9 сотен -
д е в я т ь с



Проверь свои записи

100, 200, 300, 400, 500, 600,
700, 800, 900

Молодц
ы!

Найди правило, по которому записаны выражения в первом столбце.

- Составь по этому правилу выражения в других столбцах и запиши их значения

1) $9 - 6$

$90 - 60$

$900 - 600$

2) $5 + 2$

$50 + 20$

$500 + 200$

$8 - 5 = \mathbf{3}$

$80 - 50 = \mathbf{30}$

$800 - 500 = \mathbf{300}$

$4 + 4 = \mathbf{8}$

$40 + 40 = \mathbf{80}$

$400 + 400 = \mathbf{800}$

$7 - 3 = \mathbf{4}$

$70 - 30 = \mathbf{40}$

$700 - 300 = \mathbf{400}$

$8 + 1 = \mathbf{9}$

$80 + 10 = \mathbf{90}$

$800 + 100 = \mathbf{900}$

=

=

Ресурс

Автор шаблона Фокина Лидия Петровна Сайт <http://linda6035.ucoz.ru/>

**Элементы спирали нарисованы автором при помощи фигур
Microsoft Office PowerPoint 2007**

Задания для презентации:

Н.Б.Истомина Математика 2 класс /ч.2/Смоленск: Ассоциация XXI век, 2012г.

Н.Б.Истомина, З.Б.Редько Тетрадь по математике 2 класс/ч.2/ Смоленск: Ассоциация XXI век, 2013г.