



**ЦИРК!**

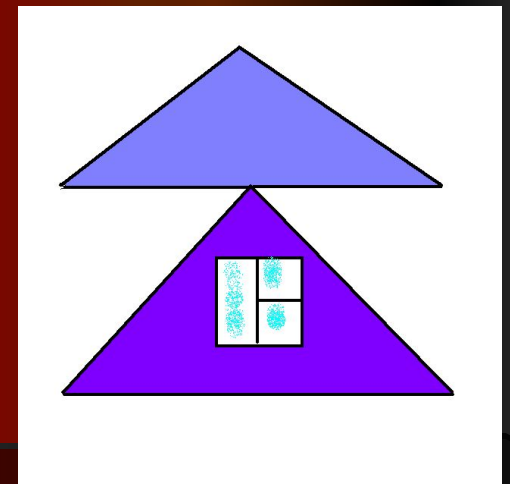

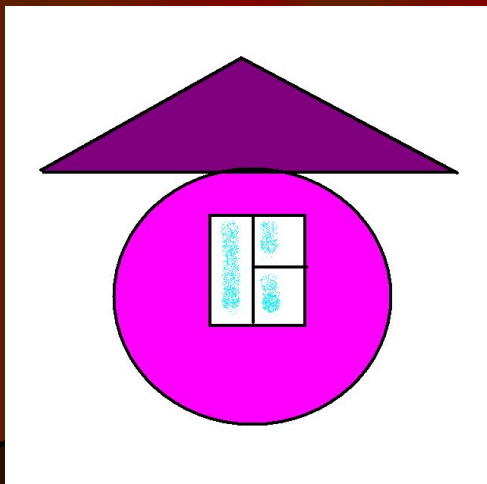


# Билетная касса

Для покупки билета в цирк решите круговые примеры.

Ответ последнего примера соответствует стоимости билета.

Стоимость билета... 13 рублей

# Весёлые клоуны





# Дрессированные слоны

Вставьте третье число.

Ответ: 4, 3, 9.



# Антракт





# Танцующие зайчики

Зайчонок и крольчонок ели морковку.  
Зайчонок съел 6 морковок, а  
крольчонок на 3 морковки больше.

Сколько всего морковок съели друзья?

Ответ: 15 морковок.



# Сообразительный тигрёнок

$$1 \text{ дм } 3 \text{ см} = \dots \text{ см}$$

$$18 \text{ см} = \dots \text{ дм } \dots \text{ см}$$

$$1 \text{ дм } 5 \text{ см} = \dots \text{ см}$$

$$11 \text{ см} = \dots \text{ дм } \dots \text{ см}$$

$$14 \text{ см} = \dots \text{ дм } \dots \text{ см}$$

$$1 \text{ дм } 3 \text{ см} = \dots \text{ см}$$

# Сообразительный тигрёнок

$$1 \text{ дм } 3 \text{ см} = 13 \text{ см}$$

$$18 \text{ см} = 1 \text{ дм } 8 \text{ см}$$

$$1 \text{ дм } 5 \text{ см} = 15 \text{ см}$$

$$11 \text{ см} = 1 \text{ дм } 1 \text{ см}$$

$$14 \text{ см} = 1 \text{ дм } 4 \text{ см}$$

$$1 \text{ дм } 3 \text{ см} = 13 \text{ см}$$



# Фокусник



получилось 7

Спасибо за внимание!

