



Природные зоны Африки



Введите фамилию и имя

Всего заданий

10

[Начать тестирование](#)

Время тестирования

15


мин.

Какое животное обитает в зоне экваториальных лесов?

- 1 Гепард
- 2 Жираф
- 3 Окапи
- 4 Лев



Укажите растение, которое произрастает в пустыне Намиб.

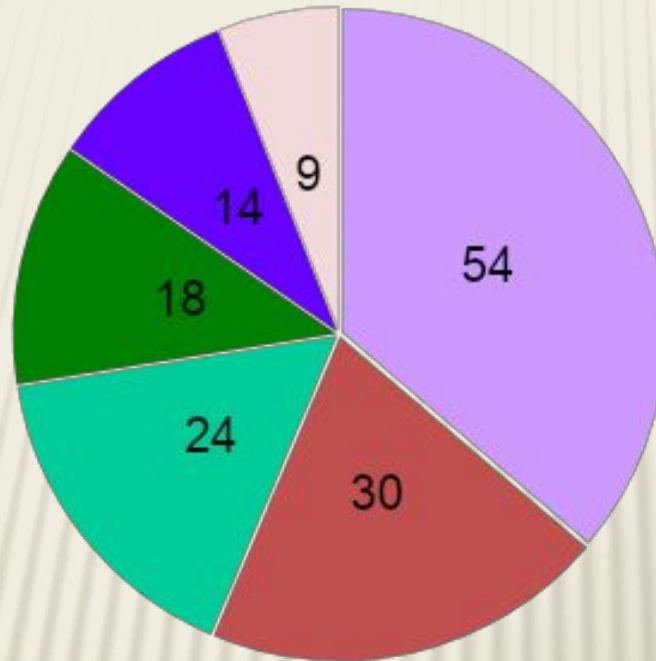


- 1 пустынная акация
- 2 верблюжья колючка
- 3 финиковая пальма
- 4 вельвичия



Укажите место Африки по площади

Площадь материков (млн.кв.км)



1



2



3



4



5



6

Задание

3

4 бал.



Далее



Какому термину соответствует приведенное описание?

1 заповедник

2 оазис

3 вади

4 самум

5 эпифит

Участок пустыни
с обильным
увлажнением
и богатой
растительностью

Национальный парк Вирунга создан для охраны от полного исчезновения:

- 1 горилл
- 2 слонов
- 3 колобусов
- 4 лемуров
- 5 носорогов



О какой природной зоне идет речь?



Жестколистные
леса



Саванны
и редколесья



Экваториальные
леса

Травы достигают высоту трех метров. Выделяются редко растущие баобабы, акации. При наступлении дождливого сезона все покрывается роскошной травой, на деревьях появляются листья.

Укажите верные характеристики зоны саванн и редколесий

 1

Занимает 40% площади материка

 2

Почвы красно-желтые, ферраллитные

 3

Выделяют сухой и влажный период

 4




Здесь растут баобабы и зонтичные акации

 5

Здесь обитают кистеухие свиньи, окапи



Отметьте обитателей африканских лесов



Задание

8


6 бал.

Выберите все правильные ответы!

Далее



Правильно расставьте подписи к рисункам озер.



Оз.Ньяса

Оз.Виктория

Оз.Чад

Оз.Танганьика

Иллюстрации взяты с сайта: http://www.varvar.ru/arhiv/gallery/manuscripts_russian/tituljarnik/



КАК НАЗЫВАЕТСЯ ЖИВОТНОЕ, ГОЛОВА КОТОРОГО ВИДНА НАД
ПОВЕРХНОСТЬЮ ВОДЫ?



Введите ответ:

Задание

10

3 бал.

Итоги

Тест создан на основе использования шаблона А.Н.Комаровского

Результаты тестирования

Оценка

Правильных ответов

Набранных баллов

Ошибки в выборе
ответов на задания:

Всего заданий

бал.

Снова

Выход

Затрачено времени