

МАТЕРИАЛЫ ДЛЯ ПОДГОТОВКИ К ОГЭ (ГЕОГРАФИЯ)



МКОУ СОШ№4
с. КИЕВКА
Гутор Г. Н.

ЗАДАНИЕ №1

- На территории какой из перечисленных стран находится самая большая по площади низменность на Земле?
- Выберите один из 4 вариантов ответа:
- 1) Канада
- 2) Бразилия
- 3) Китай
- 4) США



ЗАДАНИЕ №2

- С какой из перечисленных стран Россия имеет как сухопутную, так и морскую границу?
- Выберите один из 4 вариантов ответа:
- 1) Япония
- 2) Монголия
- 3) Белоруссия
- 4) Эстония



ЗАДАНИЕ №3

- Для какой из перечисленных территорий России, расположенных в умеренном климатическом поясе, характерен резко континентальный климат?
- Выберите один из 4 вариантов ответа:
- 1) полуостров Камчатка
- 2) Приморье
- 3) Кольский полуостров
- 4) Забайкалье



ЗАДАНИЕ №4

- Снежные лавины - одно из наиболее грозных и опасных природных явлений.

В каком из перечисленных регионов России снежные лавины представляют наибольшую опасность?

- Выберите один из 4 вариантов ответа:
- 1) Архангельская область
- 2) Чувашская Республика
- 3) Республика Северная Осетия - Алания
- 4) Калининградская область



ЗАДАНИЕ №5

- В каком из перечисленных регионов России угледобывающая промышленность является одной из основных отраслей хозяйства?
- Выберите один из 4 вариантов ответа:
- 1) Республика Карелия
- 2) Астраханская область
- 3) Кемеровская область
- 4) Краснодарский край



ЗАДАНИЕ №6

- Учёные-биологи должны исследовать места обитания популяций овцебыков, белых медведей, некоторых видов птиц. Какой из перечисленных заповедников им следует посетить для проведения исследовательской работы?
- Выберите один из 4 вариантов ответа:
- 1) Печоро-Илычский
- 2) Командорский
- 3) Магаданский
- 4) Остров Врангеля



ЗАДАНИЕ №7

- В каком из перечисленных регионов России средняя плотность населения наибольшая?
- Выберите один из 4 вариантов ответа:
- 1) Республика Карелия
- 2) Мурманская область
- 3) Ростовская область
- 4) Камчатский край



ЗАДАНИЕ №8

○ В каком году из перечисленных на постоянное место жительства в Россию из других стран въехало наименьшее число людей?

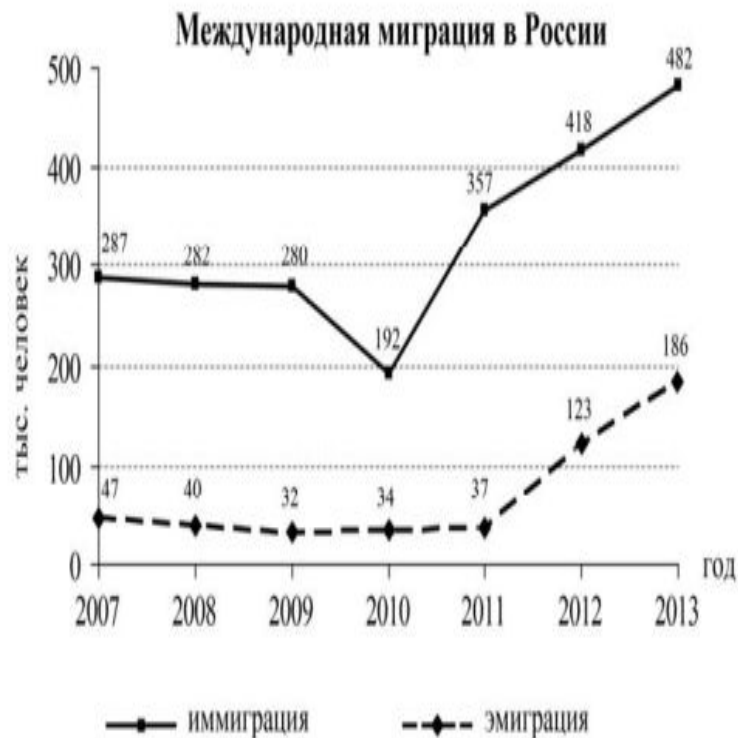
○ Выберите один из 4 вариантов ответа:

- 1) 2009 г.
- 2) 2010 г.
- 3) 2011 г.
- 4) 2012 г.



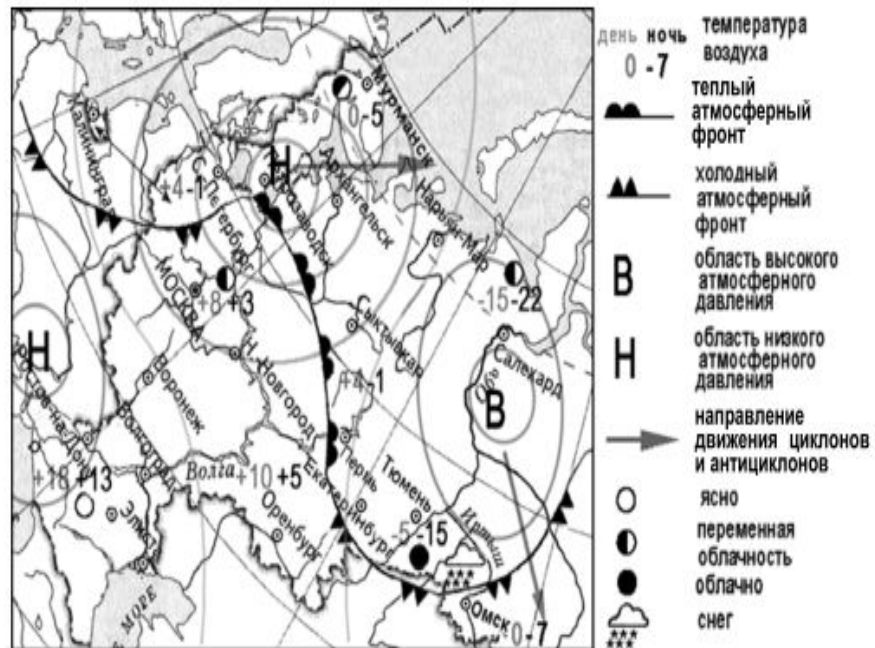
ЗАДАНИЕ №9

- Определите величину миграционного прироста населения России в 2013 г.
- Ответ запишите в виде числа.
- Запишите число:
- 1) Ответ:



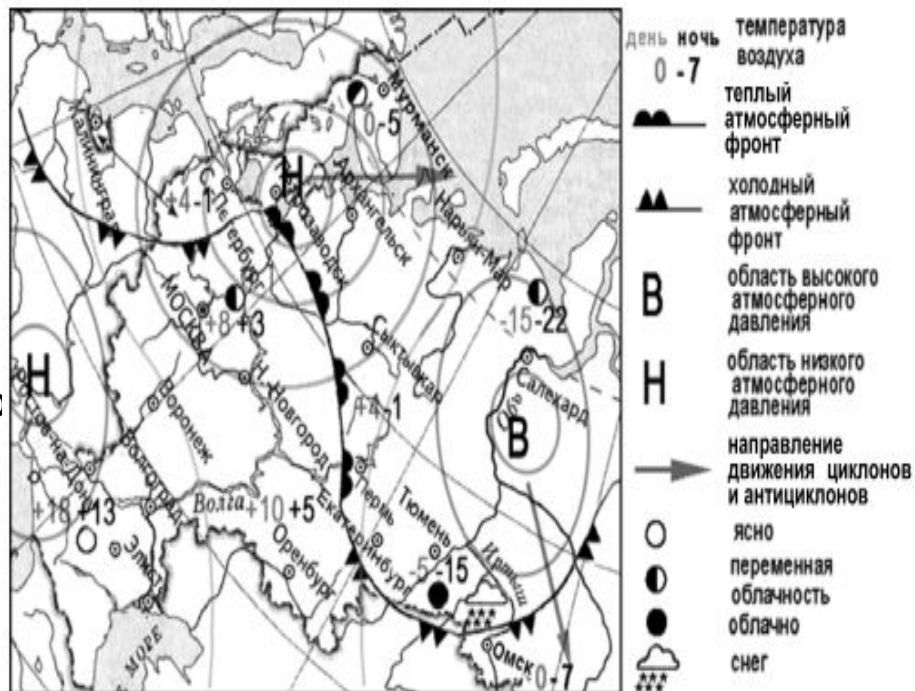
ЗАДАНИЕ №10

- Какой из перечисленных городов, показанных на карте, находится в зоне действия антициклона?
- Выберите один из 4 вариантов ответа:
 - 1) Москва
 - 2) Ростов-на-Дону
 - 3) Салехард
 - 4) Архангельск



ЗАДАНИЕ №11

- Карта погоды составлена на 12 апреля 2013 г. В каком из перечисленных городов, показанных на карте, на следующий день наиболее вероятно существенное похолодание?
- Выберите один из 4 варианта ответа:
 - 1) Тюмень
 - 2) Омск
 - 3) Сиктивкар
 - 4) Пермь



ЗАДАНИЕ №12

- Охране речных вод от загрязнения способствует
- Выберите один из 4 вариантов ответа:
- 1) ограничение использования удобрений в бассейнах рек
- 2) осушение болот в верховьях рек
- 3) размещение водоёмких производств на берегах рек
- 4) вырубка лесов в долинах рек



ЗАДАНИЕ №13

- ◉ В каком из перечисленных высказываний содержится информация о воспроизводстве населения в Республике Башкортостан?
- ◉ Выберите один из 4 вариантов ответа:
- ◉ 1) Доля сельского населения в общей численности населения Республики Башкортостан на 1 января 2011 г. составляла примерно 40%.
- ◉ 2) В январе - сентябре 2011 г. число выбывших за пределы Республики Башкортостан составило 25,3 тыс. человек, а число прибывших на постоянное место жительства в Республику Башкортостан - 21,5 тыс. человек.
- ◉ 3) За январь - сентябрь 2011 г. в Республике Башкортостан родилось 41 708 человек, а умер 41 401 человек.
- ◉ 4) Численность населения в Республике Башкортостан на 1 января 2011 г. составляла 4066 тыс. человек.



ЗАДАНИЕ №14

- Определите, какая горная вершина имеет географические координаты 46° с.ш. 7° в.д.

- Запишите ответ:

1) Ответ:



ЗАДАНИЕ №15

- Прочитайте текст и выберите те фразы, которые отвечают на вопрос: "Почему в Чили часто происходят землетрясения?"
- В конце февраля 2010 г. в Тихом океане на глубине 55 километров у побережья Чили, в 115 километрах к северу от города Консепсьон, произошло сильное землетрясение магнитудой 8,8. В результате землетрясения и последовавшего за ним цунами погибло более 500 человек. Примерно год спустя, 1 марта 2011 г., на севере Чили зафиксировано
- землетрясение магнитудой 5,2. Эпицентр землетрясения находился в 116 километрах восточнее города Икике. Его очаг находился на глубине 99 километров. Сведений о жертвах и разрушениях не поступало
- Выберите несколько из 7 вариантов ответа:
- 1) Территория Чили находится в пределах «Тихоокеанского огненного кольца», где часты землетрясения.
- 2) Чили находится в зоне контакта литосферных плит.
- 3) Чили расположена в сейсмическом поясе. Это полоса, в пределах которой могут возникать очаги землетрясений.
- 4) Эта территория находится в горах.
- 5) Эта территория находится в области кайнозойской складчатости.
- 6) В Чили, Мексике, Японии часто происходят землетрясения.
- 7) Чили расположена в зоне влияния Эль-Ниньо.

ПРОВЕРЬ!

1 (1 б.)	2
#2 (1 б.)	4
#3 (1 б.)	4
#4 (1 б.)	3
#5 (1 б.)	3
#6 (1 б.)	4
#7 (1 б.)	3
#8 (1 б.)	2
#9 (1 б.)	Ответ = 296
#10 (1 б.)	3
#11 (1 б.)	2
#12 (1 б.)	1
#13 (1 б.)	3
#14 (1 б.)	Ответ = Монблан
#15 (2 б.)	1, 2, 3, 5