

5. Помоги Кате записать равенства к её рисункам.



$$1 + 1 = 2$$



$$1 + \square = \square$$

$$2 + \square = \square$$



$$1 + \square = \square$$

$$3 + \square = \square$$

$$2 + \square = \square$$



$$1 + \square = \square$$

$$4 + \square = \square$$

$$2 + \square = \square$$

$$3 + \square = \square$$

1

2

3

4

5

5. Помоги Кате записать равенства к её рисункам.



$$1 + 1 = 2$$



$$1 + \square = \square$$

$$2 + \square = \square$$



$$1 + \square = \square$$

$$3 + \square = \square$$

$$2 + \square = \square$$



$$1 + \square = \square$$

$$4 + \square = \square$$

$$2 + \square = \square$$

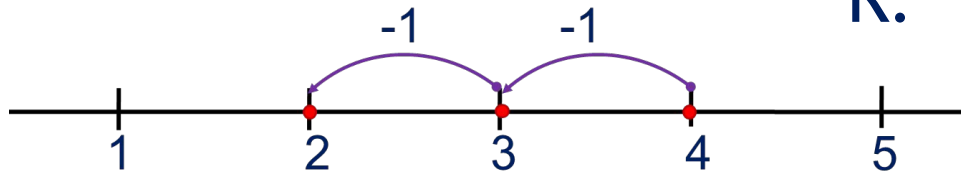
$$3 + \square = \square$$

# Числа 1-5

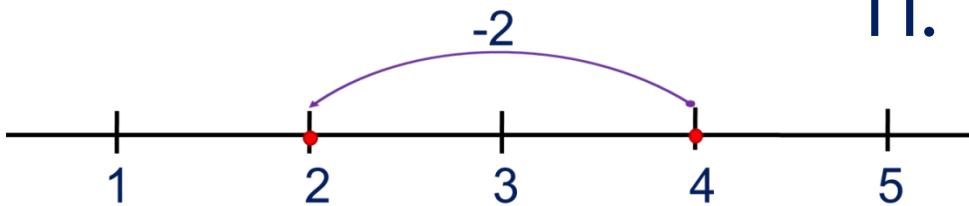
6. Ребята перепутали свои рисунки и записи к ним.

Помоги им навести порядок.

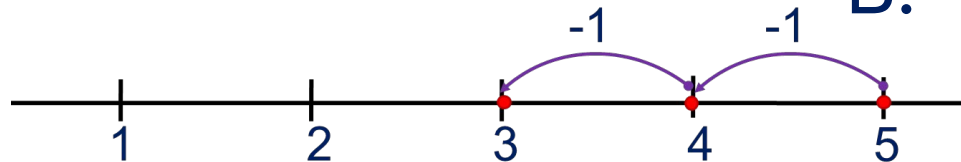
К.



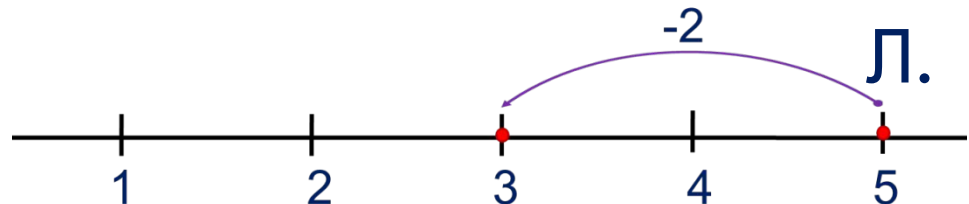
П.



В.



Л.



$$4 - 2$$

$$5 - 1 - 1$$

$$4 - 1 - 1$$

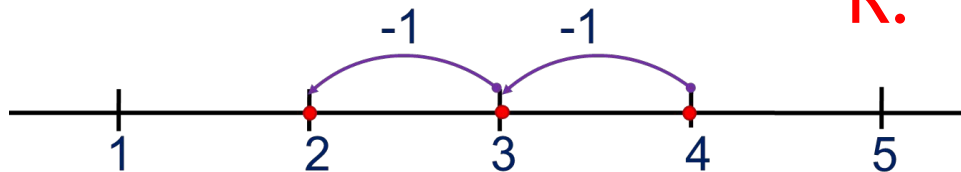
$$5 - 2$$

# Числа 1-5

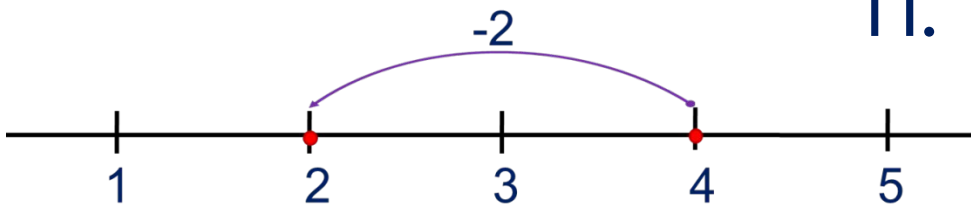
6. Ребята перепутали свои рисунки и записи к ним.

Помоги им навести порядок.

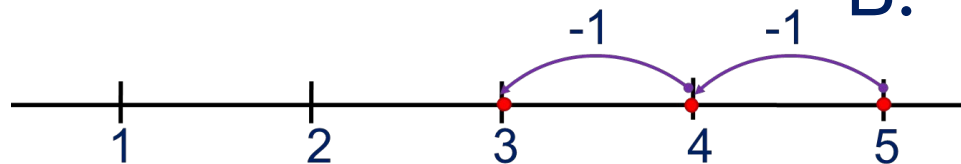
К.



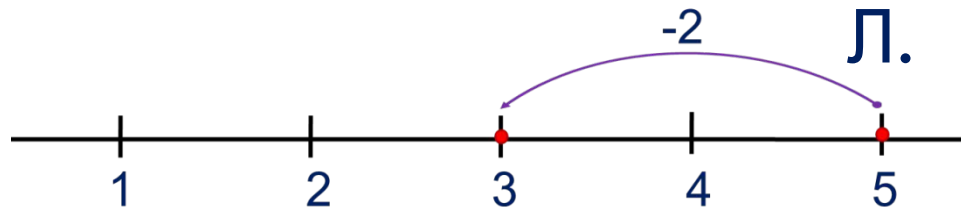
П.



В.



Л.



$$4 - 2$$

$$5 - 1 - 1$$

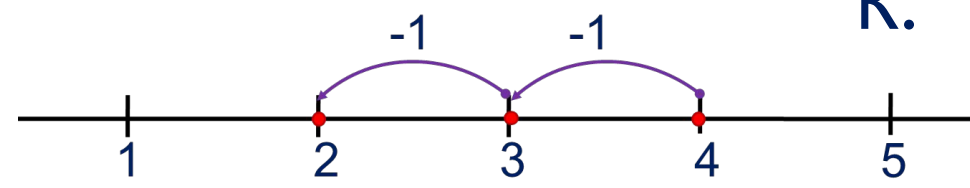
$$4 - 1 - 1$$

$$5 - 2$$

# Числа 1-5

6. Ребята перепутали свои рисунки и записи к ним.  
Помоги им навести порядок.

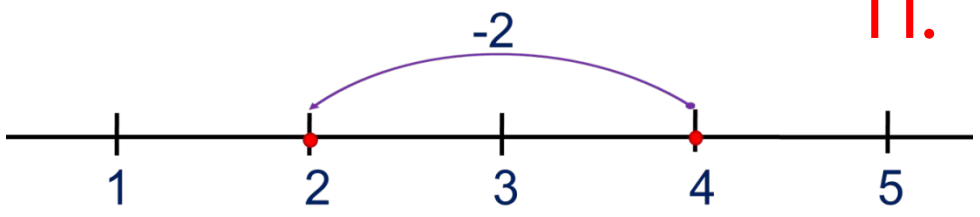
К.



$$4 - 1 - 1$$

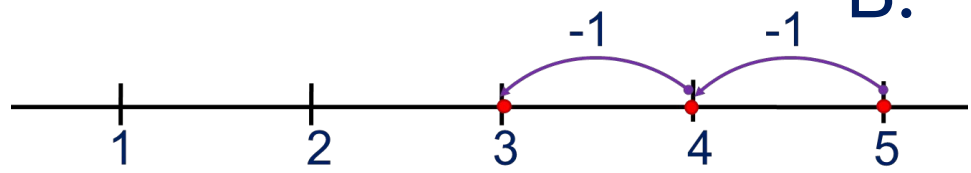
$$4 - 2$$

П.



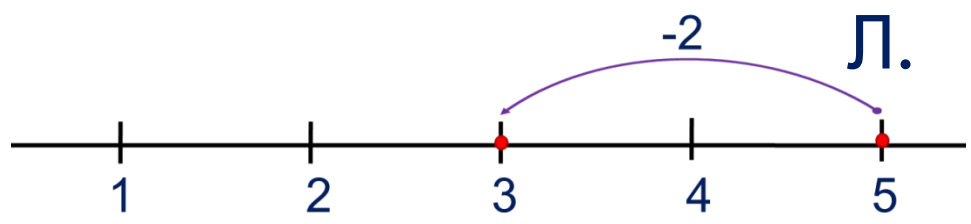
$$5 - 1 - 1$$

В.



$$5 - 2$$

Л.

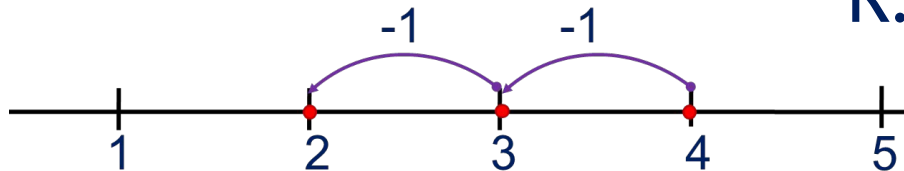


# Числа 1-5

6. Ребята перепутали свои рисунки и записи к ним.

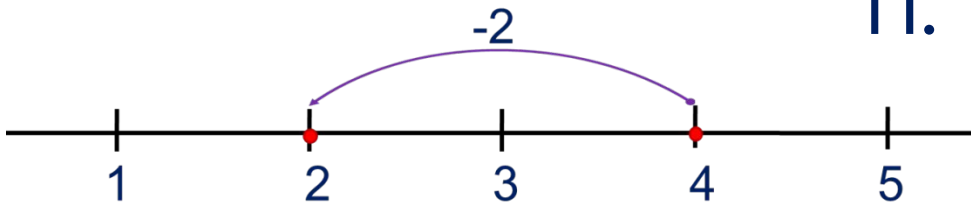
Помоги им навести порядок.

К.



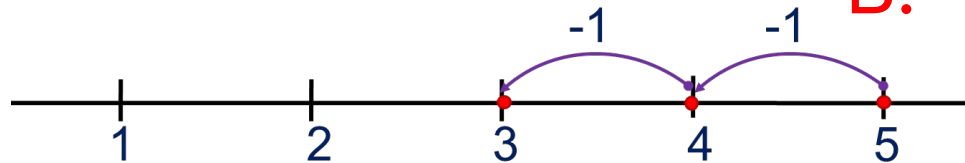
$$4 - 1 - 1$$

П.



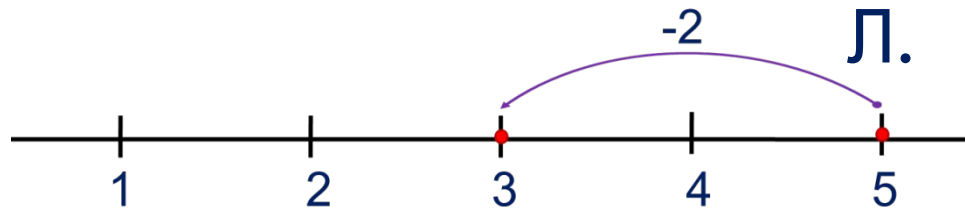
$$4 - 2$$

В.



$$5 - 1 - 1$$

Л.



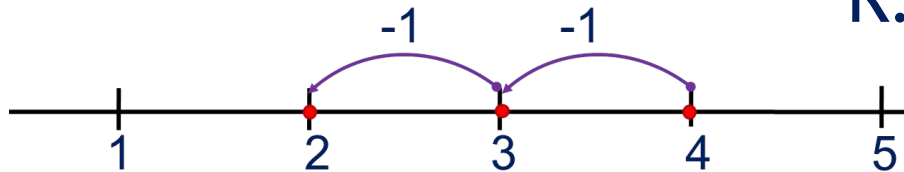
$$5 - 2$$

# Числа 1-5

6. Ребята перепутали свои рисунки и записи к ним.

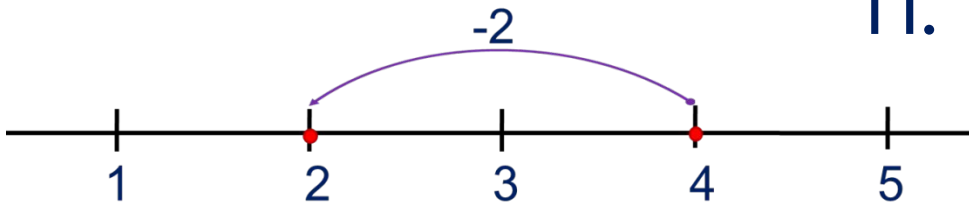
Помоги им навести порядок.

К.



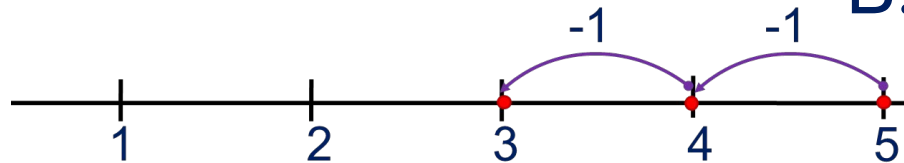
$$4 - 1 - 1$$

П.



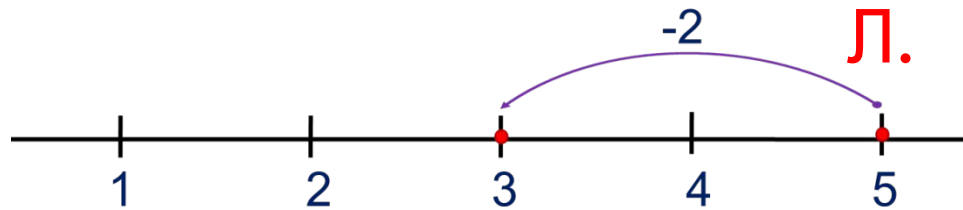
$$4 - 2$$

В.



$$5 - 1 - 1$$

Л.



$$5 - 2$$

*Спасибо!*