




«Умники и умницы»

Игра-викторина




Подготовила: Кравченко Н.А.
Учитель начальных классов.



Я веселый Почемучка,
хочу предложить вам
интересную игру, которая
сможет проверить и
закрепить ваши знания по
окружающему миру,
полученные за год.


Ну что, начнем?



Вопрос №1

Какие листья имеют узорную форму с острыми углами?

- А) дубовые,
- Б) липовые
- В) еловые
- Г) кленовые



Вопрос №2



С	Н	А	Л	К	О	Д	У	В	А	Н	Ч
Г	У	К	Я	О	Б	А	Б	О	Ч	К	И
Р	Э	Ш	П	Л	Н	Ч	Е	Л	А	А	К
Е	Н	А	У	О	Г	У	С	Е	Н	И	Ж
К	В	М	Ш	К	М	У	Х	А	А	Ц	А
О	Ч	О	К	О	К	О	Н	О	Р	О	В
В	И	Р	А	Ц	Ь	Ц	И	К	Ж	У	К
А	Н	Н	О	Д	О	Р	О	Ж	Н	И	К




Вопрос №3

Узнай по описанию:

Эта равнина - величайшая в мире. Её поверхность не совсем ровная. Здесь есть низменности, возвышенности, холмы.

- А) Восточно-Европейская равнина
- Б) Западно-Сибирская равнина
- В) Среднесибирское плоскогорье



Вопрос №3

Самые высокие горы России:

А) Кавказские горы



Б) Уральские горы



В) вулканы Камчатки



Задание №4



К экологическим проблемам относится:

- А) Спасение тропических лесов;
- Б) Борьба с международным терроризмом;
- В) Борьба с ростом цен;
- Г) Проблема переработки мусора



Вопрос №5

Изображение какого животного является эмблемой Всемирного фонда дикой природы?



Вопрос №6

Как переводится название «Гринпис»?

- А) «Зеленый двор»
- Б) «Зеленый мир»
- В) «Зеленый дом»



Задание №7

Разгадай ребусы:

СЗЖ

40а





1




1, 2, 3



1, 2



1





Вопрос №8

Какое звено в цепи питания пропущено?



Вопрос №9

Найди флаг России:



Вопрос №10

Среди предложенных гербов, найди герб Кемеровской области и герб города Прокопьевска:





Вот и подошла к концу наша игра.
Ребята, я был очень рад провести
это время с вами. Вы большие
молодцы! Желаю вам
дальнейших успехов в изучении
окружающего мира.
Продолжайте в том же духе!

До встречи!
Ваш друг Почемучка.

