

Путешествие по стране «Математика»

ВИКТОРИН

А

07.02.14

**Сценарий викторины «Занимательная математика»
проводимой в рамках школьной «Недели математики».**

МБСКОУ СКОШИ. Выполнила:

учитель математики Афолина Надежда Викторовна

Разминка.

- 1) Варит отлично твоя голова:
Пять плюс один получается...
- 2) Вышел зайчик погулять,
Лап у зайца ровно...
- 3) Пакет молока на весах если взвесить,
То стрелка весов нам укажет на...
- 4) Ты на птичку посмотри:
Ног у птицы ровно...

Разминка.

- 5) У меня собачка есть,
У нее хвостов аж...
- 6) Ходит в народе такая молва:
Шесть минус три получается...
- 7) Мышь считает дырки в сыре:
Три плюс две - всего...
- 8) Для математики, дружочек,
Нужна тетрабочка в...

«Веселые задачи»

- Три пушистых кошечки улеглись в лукошечке.
 - Тут одна к ним прибежала.
 - Сколько вместе кошек стало?
-
- Пять щенят плюс мама-лайка.
 - Сколько будет? Сосчитай-ка!
-
- У меня и галочки десять счетных палочек.
 - Две случайно потерялось. Сколько палочек осталось?

«Веселые задачки»

- Пять ворон на крышу сели.
 - Две еще к ним прилетели.
 - Отвечайте быстро, смело.
 - Сколько всех их прилетело?
-
- В кружку набрала Марина
 - Девять ягодок малины.
 - Четыре дала своей подружке.
 - Сколько ягод стало в кружке?

«Веселые задачки»

- Пять снегирей и пять синиц.
- Ребята, сколько вместе стало птиц?

- Семь листьев Вася сам собрал, А два еще Алеша дал.
- Скажите, сколько у него осенних листиков всего?

- Повела гусыня-мать шесть гусят своих гулять.
- Вот шагают на лужочек три сынка. А сколько дочек?

«Перемешки».

▣ Л Д А И Н

▣ И Р Ш И А Н

▣ М Р Т Е И П Е Р

▣ Л П А Щ О Ъ Д

Какие числа пропущены?

□ 1, 2, ..., 4, ..., 6, 7, ..., 9,

□ 0, 2, 4, 6, ..., 10, ..., 14, 16, ..., 20.

Какие числа пропущены?

□ 3, 6, ..., 12, ..., 18, 21,
..., ..., 30.

□ 5, 10, ..., 20, ..., 30, ...,
..., 45,

Переведите из одной величины в другую:

□ 5 м = ... см

□ 1000 см = ... дм

□ 25 см = ... мм

□ 300 дм = ... м


□ 5 дм = ... см

□ 1000 мм = ... м

□ 2 км = ... м


□ 50 см = ... дм

«Найди отличия»



«Четвертый лишний»


1




2






3






4



«Четвертый лишний»



«Четвертый лишний»



«Запоминалка»

Цифра

Умножение

Деление

Величина

Квадрат

Дробь

Математика

Сумма

Число

Круг

«Запоминалка»

«Запоминалка»

Цифра

Умножение

Деление

Величина

Квадрат

Дробь

Математика

Сумма

Число

Круг

«Знатоки русского языка»

- Назовите слова, внутри которых есть число 100.

«Загадка на внимание»

□ Я села в автобус на начальной станции и пересчитала пассажиров. Их было 17. Автобус тронулся, затем остановился.

На первой остановке вошло 6 человек, вышло 2 человека.

На следующей остановке вошло 10 человек, никто не вышел.

Потом на остановке вошло 4 человека и вышло 7.

А потом на остановке вошёл один гражданин, с целой кучею обновок ...

Сколько было остановок ?

Конкурс капитанов.

□ $3+4-2+8-1+4+2 = \dots$



□ $8-6+4-2+9+5-8+10 = \dots$

□ $5+8-4+3-6+9-1+8 = \dots$





«Кто больше?»

- Назовите слова, связанные с математикой.

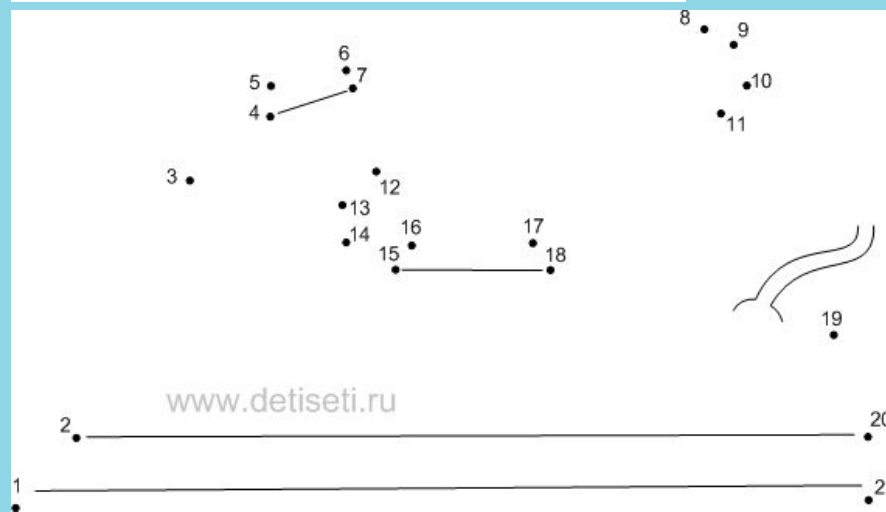
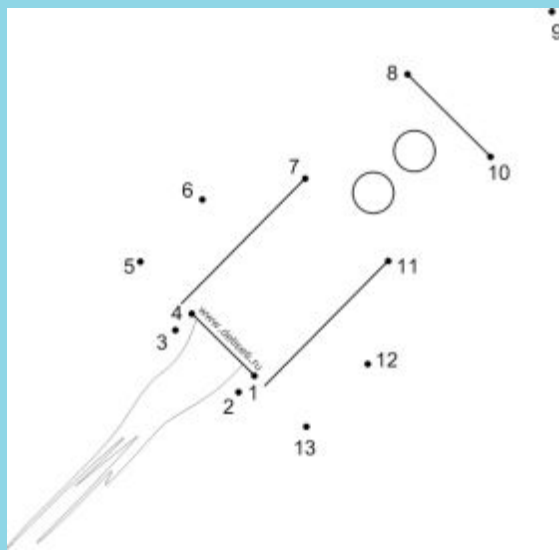
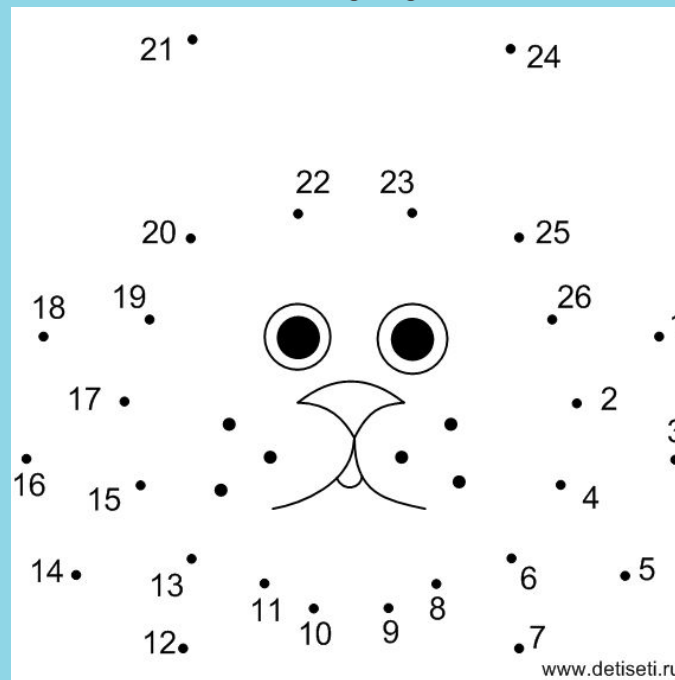
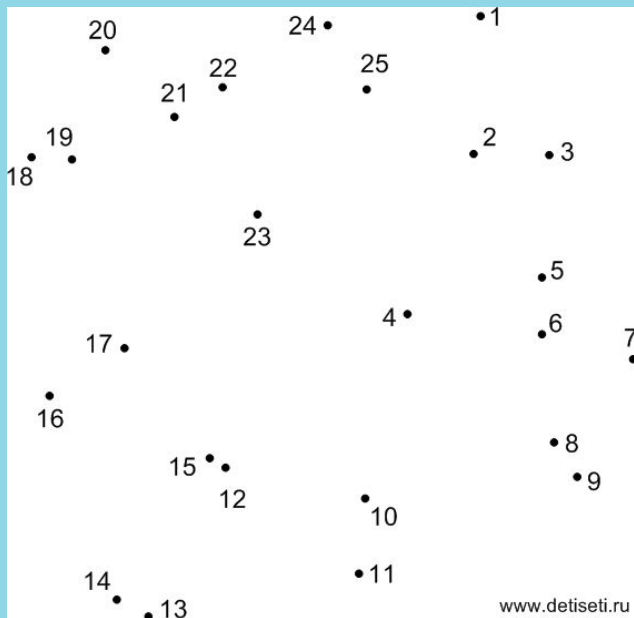
«Продолжи ряд»



«Продолжи ряд»



«Соедини по цифрам»



«Напряги внимание».

- ▣ 1) Кто окажется тяжелее первый людоед , который весил 48 кг и на ужин съел второго или второй , который весил 52 кг и съел первого?
- ▣ 2) Какое число надо увеличить в 15 раз, чтобы получить 15?
- ▣ 3) Две монашки пошли в церковь , и прошли 60 вёрст .Сколько вёрст прошла каждая , если они шли с одинаковой скоростью ?


«Напряги внимание».

- 4) Вот вам три пилюли - сказал доктор - принимайте по одной через каждые полчаса. Вы покорно согласились .На сколько времени хватит вам этих пилюль ?

- 5) Яйцо в всмятку варится 3 минуты.
- Сколько времени потребуется , чтобы сварить 3 яйца всмятку ?

- 6) У отца 6 сыновей , каждый сын имеет сестру . Сколько детей у этого отца ?

Сколько здесь геометрических фигур? Какие это фигуры?



Спасибо за внимание!

