

*МАОУ СОШ с. Среднебелая
Ивановского района
Амурской области*

Интеллектуальна

Я

«Крестигра- НОЛИКИ»

Математика, 3класс, УМК любой

Автор-составитель:

*Наконечная Наталья Владимировна,
учитель начальных классов*

2014





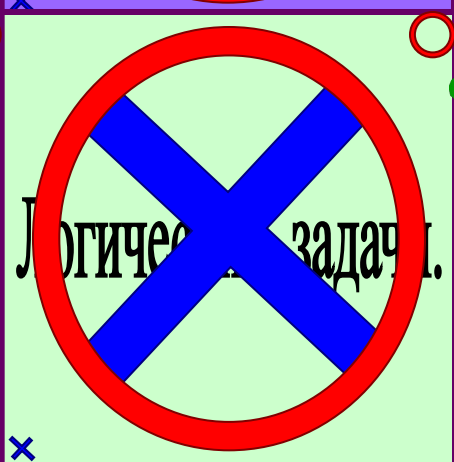
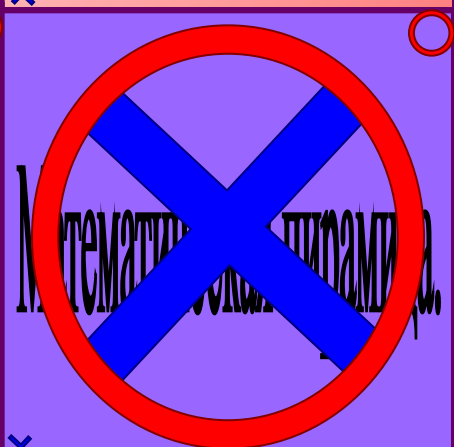



Правила игры:





- Игра проходит по правилам игры «Крестики – нолики».
- Участвуют 2 команды: Крестики, Нолики.
- Выбор первого игрока осуществляется по жребию.
- Игроки ходят по очереди, выполняя задания той или иной клетки – конкурса.
- Побеждает команда, расположившая первой 3 своих знака в линию.



И
Г
Р
О
В
О
Е



П
О
Л
Е



Занимательные задачи.

1. Три человека ждали поезд 3 часа. Сколько времени ждал каждый?


Ответ


2. Отец и дети сели на велосипеды. У всех велосипедов вместе было 7 колёс. Сколько было 3-колёсных велосипедов?

Ответ

3. У семи братьев по одной сестре. Сколько всего сестёр?

Ответ





Ребусы.

Р1а


ОТВЕТ: Родина

7Я

ОТВЕТ: семья


17

ОТВЕТ: восемнадцать

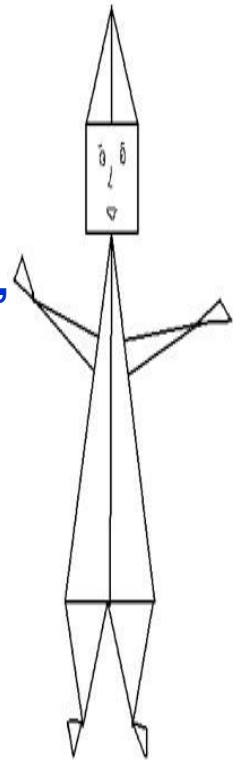


Геометрические фигуры.


Сосчитай треугольники.



Знает даже и дошкольник,
Что такое треугольник.
А уж вам-то как не знать!
Но совсем другое дело—
Быстро, точно и умело
Треугольники считать.
Например, в фигуре этой
Сколько разных? Рассмотри!
Всё внимательно исследуй
И по краю, и внутри!



Ответ



Шифровка.


Ответ



Ответ



Ответ

Ответ



Математическая пирамида.

В нижних четырёх кругах вписаны числа. Задача детей сложить 2 рядом стоящих числа и сумму записать в верхнем кружочке. Если вся пирамида будет заполнена и верхнее число совпадёт, значит участники справились с математической задачей.




Магический квадрат.

13	20	●
●	16	●
17	●	●


Сумма - 48



phillipmartin.info



Горнолыжный слалом - спуск с горы по специальной трассе с серией обозначенных флажками проходов – ворот.



21



31

ФИНИШ

+ 26

- 17

-41

38

47

72

+ 12

-32

+57


26



15





СТАРТ



Логическая задача.

Лягушка встречала гостей. Лиса пришла раньше Медведя, Волк позже Зайца, Медведь раньше Зайца, Сорока позже Волка. Кто пришел раньше всех? В каком порядке приходили гости?





**Поздравляем
победителей!**