



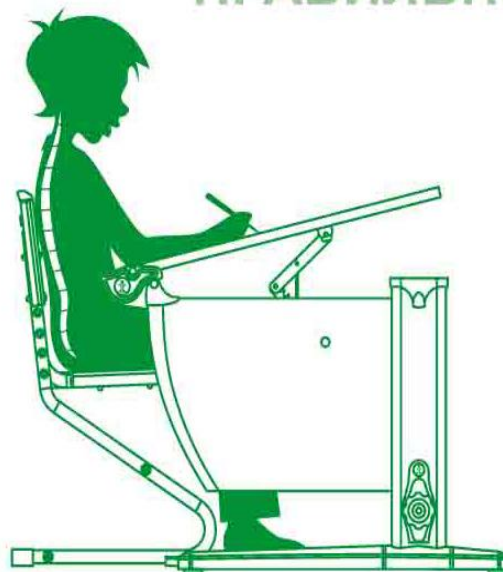


- ЭТО

НЕПРАВИЛЬНО



ПРАВИЛЬНО





**Рассмотрите ряд чисел и
назовите пропущенные числа:**

2,4,6,8,.....,

3,6,9,.....,

Какие это

Прочитайте выражение и найдите его значение

$$(36 - 26) * 2 =$$

$$9 * 3 - 2 * 5 =$$

$$16 : 8 + 7 * 3 =$$

$$(54 + 32) - (46 + 32) =$$

$$72 - 9 + 19 =$$




С.21 № 6 у доски



Решить задачу

Одна тетрадь стоит 2 рубля.
Сколько таких тетрадей можно купить
на 20 рублей?

	Цена	Количество	Стоимость
	2 р.	? шт.	20 р.

$$20 : 2 = 10 \text{ (шт.)}$$

Ответ: 10 тетрадей можно купить.



Сухомликова





**Масса пакета с мукой 2 кг.
Узнай массу 4 таких пакетов.**

2 кг.



? кг





**Масса
одного
пакета (кг)**

**Количество
пакетов (шт)**

**Масса всех
пакетов (кг)**

2 кг

4

? кг




ШТ.

$2 * 4 = 8$ (кг) – масса всех пакетов

Ответ : 8 килограммов масса всех пакетов





**Найти массу
одного
пакета**

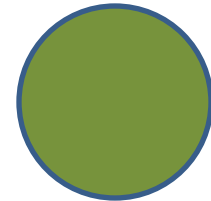
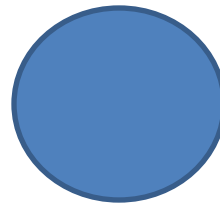

ДИЗАЙН И ГРАФИКА
WWW.OLSK.RU



**Найти кол -
во
пакетов**

ДИЗАЙН И ГРАФИКА
WWW.OLSK.RU







С.21 № 5
Таблица
умножения
на 2 и 3



Спасибо за урок!

