

## *Тема урока: «Страны Африки»*



**Слушатель курсов:  
Токарева Татьяна Ивановна  
МОУ «Медянская СОШ»  
Учитель географии  
Руководитель:  
Котельникова Галина  
Ивановна.  
Руководитель курсов  
«Актуальные вопросы  
обучения географии в  
контексте современной  
модели образования»**

# «Страны Африки»

- Цель: знакомство со странами Африки
- Задачи:
  1. Называть и показывать наиболее крупные по площади страны;
  2. Определять по карте ГП страны и ее столицы

Оборудование: политическая карта Африки, рисунки с видами стран, презентация «Алжир»

## *Ход урока*

- Проверка домашнего задания: Опрос на тему «Население Африки»
- Изучение нового материала:
  1. Вступительное слово учителя: По природным условиям, составу населения Африку можно разделить на 4 части: Северную, Западную и Центральную, Восточную, Южную.
  2. Работа с картой и сообщения учащихся

# *Северная Африка*

- 1) Назовите страны, входящие в состав Северной Африки
- 2) Опишите ГП Северной Африки.  
Презентация об Алжире

# ***Презентация***

***ПО ТЕМЕ:***

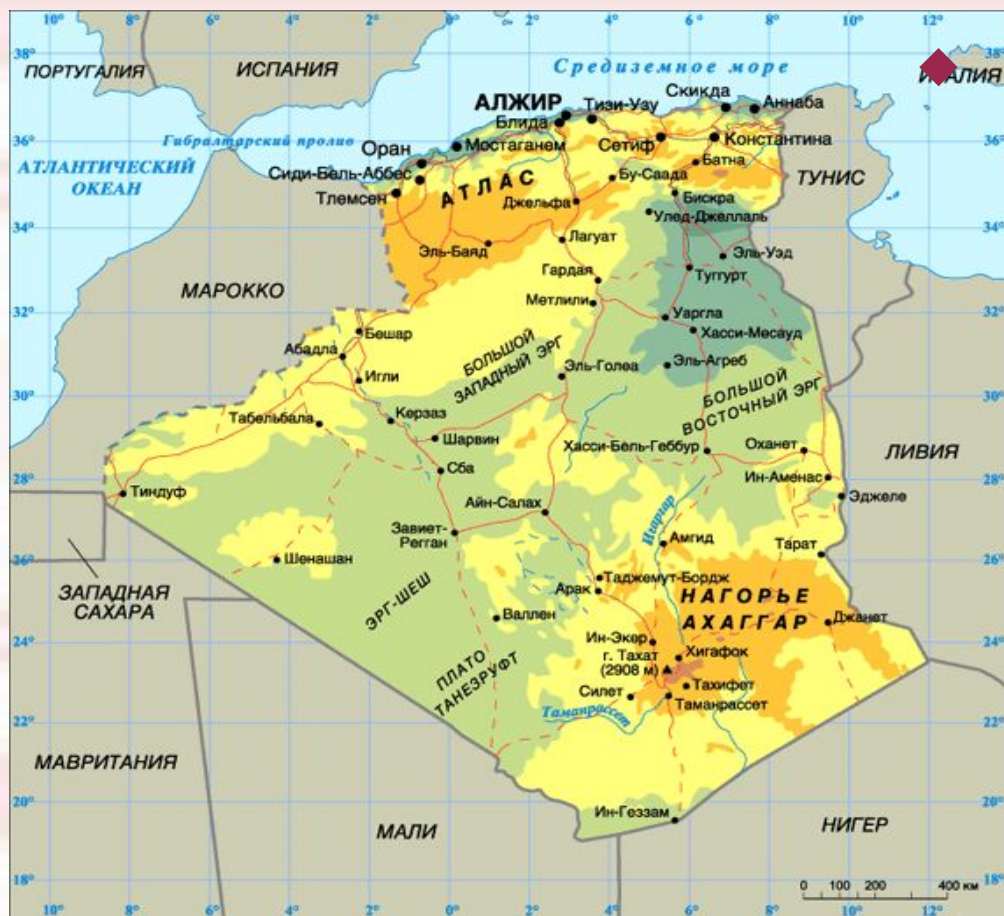
***Государство АЛЖИР***

*Подготовила ученица 7 класса.*

## *План характеристики страны:*

- 1. Географическое положение страны.
- 2. Государственные символы.
- 3. Государственное устройство.
- 4. Экономика.
- 5. Население.
- 6. Образование и здравоохранение.
- 7. Природа.
- 8. Сельское хозяйство.

# Географическое положение



Находится Алжир на северо-западе Африки. Одно из крупнейших государств континента. Общая площадь страны 2 381 740 км<sup>2</sup>.

# *Государственный флаг*

Состоит из двух вертикальных полос одинаковой ширины зелёного и белого цвета. В центре расположены красная звезда и полумесяц. Флаг принят 3 июля 1962 года.





# Герб



В Алжире выделяют  
Северный Алжир и  
Алжирскую Сахару.

# *Государственное устройство:*



Официальное название  
— Алжирская Народная  
Демократическая  
Республика.

Глава государства —  
Президент. С апреля 1999  
президент —  
Абдельазиз Бутефлика.



## *Экономика*

Основа экономики Алжира - газ и нефть. По запасам газа Алжир занимает 8-е место в мире и 4-е место в мире по экспорту газа. Основная отрасль промышленности - горнодобывающая.

Алжир богат полезными ископаемыми: свинцовые, цинковые, железные руды, фосфориты и т.д.

# Валюта



Алжирский ДИНАР

## *Население*

Численность населения — 34,2 млн  
Годовой прирост — 1,2 % (1,8 рождений на  
женщину).

Этнический состав — арабы 83 %, берберы  
16 %, прочие менее 1 %.

Языки — арабский официальный,  
берберские диалекты, распространён  
французский.

Религия — ислам.

Грамотность — 79 % мужчин, 60 % женщин

# ***Образование и здравоохранение***

Алжир добился заметных достижений в области образования. В стране функционируют 8 университетов , 170 других высших учебных заведений, 700 центров профессионально-технического образования.

С 1974 года введено бесплатное медицинское обслуживание.

## ***Климат***

Климат Северного Алжира — субтропический средиземноморский. Климат Алжирской Сахары — тропический пустынный, осадков менее 50 мм в год. Речная сеть развита слабо. Растительный покров и почвы Северного Алжира типично средиземноморские. Среди лесов и кустарников выделяются массивы пробкового дуба, в полупустыне — трава альфа.



# *Сельское хозяйство.*

- Возделываются следующие сельскохозяйственные культуры: зерновые, виноград, овощи, фрукты и финиковая пальма.
- В животноводстве разводят овец, коз, верблюдов.





A person wearing a blue robe and a white head covering is walking away from the camera across a vast, sandy desert landscape. The person is carrying a long, thin staff or stick. The sand dunes are smooth and undulating, and the sky is a clear, bright blue. The person's shadow is cast long and dark on the sand to their left. A trail of footprints is visible in the sand leading away from the person.

**Спасибо за внимание**

# *Страны Западной и Центральной Африки*


- Перечислите страны Западной и Центральной Африки
- Опишите ГП

Сообщение о Нигерии( ученик)

Гана

Государство Гана, расположенное в Западной Африке, имеет второе имя «Золотой берег». Достаточно пройти сильному дождю, чтобы то там, то здесь засветились бликами обнажившиеся крупницы золота. Их порой находят даже на грунтовых улицах поселков и городов. Для получения золота старатели применяют метод ртутной амальгамации. Что ведет к заражению почвы.


Здесь можно встретить львов, леопардов, пятнистых гиен, африканских цивет, слонов, бонго, африканских буйволов, бородавочников, водяных козлов, дукеров, генетт, бубалов, мангустов, павианов и другие виды обезьян, лошадиных антилоп, дикобразов, крокодилов и змей, в том числе питонов. Кроме того, в парке обитает более 300 видов птиц.



Детёныш африканской циветы



"Зеленый питон"



бородавочник



бубал



ПИТОН



детеныш бонго

Среди изобилия растений в национальном парке Моле(Гана) встречаются красивые акации и деревья ши, или масляные деревья.

# Восточная Африка

- Назовите страны, входящие в состав Восточной Африки
- Опишите ГП

Сообщение об Эфиопии( ученик)

Руанда

Эту восточно-африканскую страну, Руанду, называют краем тысячи холмов и семи вулканов. В Руанде трудолюбие впитывается с молоком матери. Страда длится круглый год, и земледельцу расслабляться нельзя, - иначе не собрать два урожая в год. Вот почему подражать ящерице, греющейся днем на солнце, - значит покрыть себя позором, прослыть лентяем.



**Здесь живут редчайшие черные горные гориллы, которых насчитывается всего 650 особей в мире и около 300 из них находятся здесь, в Руанде.**



# Южная Африка

- Назовите страны, входящие в состав Южной Африки
- Опишите ГП

Сообщение об ЮАР


Ботсвана, Зимбабве

В Ботсване распространен дорожный знак – голубой треугольник с белым символом коровы, так как после алмазов скот – это главное богатство. В современной Ботсване коров больше, чем людей.

А вот в другой стране Зимбабве существует другой дорожный знак: «Осторожно! Крокодилы!» Он предупреждает туристов и местных жителей о нападении крокодилов, живущих в реке Замбези и озере Кариба. Сейчас численность зубастых монстров – амфибий превышает два миллиона, что стало настоящей угрозой туристическому бизнесу.

# Национальный парк имени Крюгера (Южно-Африканская Республика)

Национальный имени Крюгера самый большой природный резерват в Южно-Африканском регионе. По размеру он сопоставим с территорией Израиля и Уэльса. Его площадь составляет 20000 кв.км. Парк простирается на 350 км с севера на юг и на 60 км с востока на запад.



### ***3. Работа с планом и картами атласа***


#### **Задание**

Используя план описания страны и карты атласа, дать характеристику ГП Египта





Египет



египтянин

# Итог урока: заполните кроссворд «Африка»

По горизонтали:

4. Древние горы в юго-восточной части континента. 7.

Государство на северо-востоке Африки в бассейне среднего течения Нила. 8. Государство в Северной Африке. 9. Город на берегу Нила, где построена плотина. 10. Столица Египта

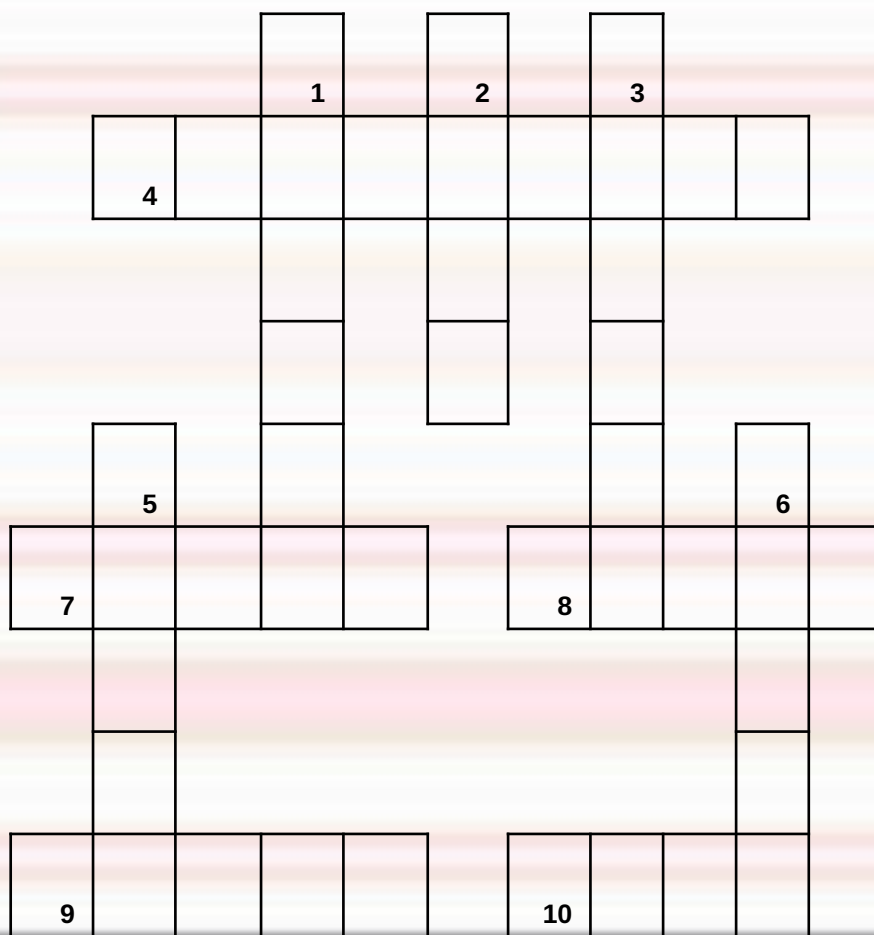
По вертикали:

1. Пустыня в Северной Африке. 9.

Небольшое государство, имеющее выход в Гвинейский залив. 3. Государство и

полуостров одноименного названия. 5. Государство в северной Африке. 6.

Государство и река одноименного названия.



## *Домашнее задание*

Повторить номенклатуру и ответить на вопросы учебника 1, 2, 3, 4, 8, 10 на странице 147

***Спасибо за внимание !***

