

Урок математики

3 класс








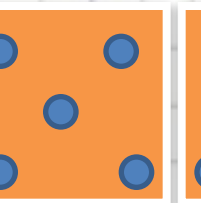

тема :

*Таблица умножения и  
деления на 5*

Учитель начальных классов  
МБОУ ООШ № 24 ст. Хамкетинская  
Братусева Наталья Николаевна



Будем составлять таблицу умножения и деления с числом 5, используя рисунок.

1	2	3	4	5	6	7	8	9
								
5	10	15	20	25	30	35	40	45



# Вычисли и запомни!

$$5 \cdot 5 = 25$$

$$5 \cdot 6 = 30 \quad 6 \cdot 5 = 30 \quad 30 : 5 = 6 \quad 30 : 6 = 5$$

$$5 \cdot 7 = 35 \quad 7 \cdot 5 = 35 \quad 35 : 5 = 7 \quad 35 : 7 = 5$$

$$5 \cdot 8 = 40 \quad 8 \cdot 5 = 40 \quad 40 : 5 = 8 \quad 40 : 8 = 5$$

$$5 \cdot 9 = 45 \quad 9 \cdot 5 = 45 \quad 45 : 5 = 9 \quad 45 : 9 = 5$$





Из чисел от 1 до 20 выпиши по порядку те, которые делятся без остатка на 5; на 4.


5,10,15,20,4,8,12,16,20





# Вычисли значения выражений.


$7 \cdot 5 =$  


$45 : 9 =$  


$24 : 8 =$  

$5 \cdot 9 =$  

$35 : 5 =$  

$27 : 9 =$  

$3 \cdot 9 + (21 - 4) =$  

$18 : (16 - 7) \cdot 2 =$  



## № 3 (с.40)

- Прочитай те задачу.
- Сколько метров ткани было?
- Вся ли ткань пошла на пальто?
- Сколько метров ткани израсходовали на пальто?
- Заполните таблицу.

Расход ткани на одно пальто	Количество пальто	Общий расход ткани
?	7 шт.	24м-10м

- Запишите решение и ответ задачи.



# Закончи предложения

1. Мне было интересно . .
2. Я научился . . .
3. Я смогу научить . . .
4. Мне было трудно . . .
5. Мне еще нужно . . .



# Молодцы!

!





## Литература

- *1. Учебник Математика Моро М. И. 3 класс 1 ч. 3-е издание М., «Просвещение» 2013г.*
- *2. Ситникова Т. Н., Яценко И. Ф. Поурочные разработки по математике к УМК М.И. Моро и др. (М.: Просвещение) 3 кл. М.: ВАКО, 2013г.*
- *3. urok\_matematiki\_Tablica\_umnozheniya\_na5.pptx*
- *4. umnoqenie\_i\_delenie\_na\_5.pptx*