




РАЗМИНКА УМА



Материал презентации предназначен для уроков математики на этапе устного счёта.



Тройка лошадей пробежала 3 км. Сколько пробежала каждая вторая?

3 км




*За исключением одного, каждый
месяц оканчивается либо 30-м,
либо 31-м числом. Какой месяц
имеет 28-е число?*

каждый



РАЗМИНКА УМА




М.А.Краснова
МОУ СОШ № 3 р.п. Хор

**Летели три страуса, охотник
убил одного. Сколько страусов
продолжили полёт?**




**0, страусы не
летают**




Когда козе исполнится семь лет, что с ней будет дальше?



Восьмой год пойдёт



РАЗМИНКА УМА




М.А.Краснова
МОУ СОШ № 3 р.п. Хор

**Одно яйцо варят четыре
минуты. Сколько времени
потребуется, чтобы сварить**

четыре яйца?




4 минуты




*На руках десять пальцев.
Сколько пальцев на 10 руках?*



50



РАЗМИНКА УМА




М.А.Краснова
МОУ СОШ № 3 р.п. Хор

Черепаша Тортилла поселилась на третьем этаже нового дома. Когда она идёт на улицу, то с этажа на этаж спускается по лестнице за полчаса. Сколько времени тратит бедное животное, чтобы спуститься




1 час




**В мышеловке 4 мыши и 7 крыс.
Сколько всего мышей в
мышеловке?**



4



РАЗМИНКА УМА



М.А.Краснова
МОУ СОШ № 3 р.п. Хор

**На столе лежало четыре
яблока. Одно разрезали
пополам. Сколько на столе
яблок?**



4

