




# Именованные числа

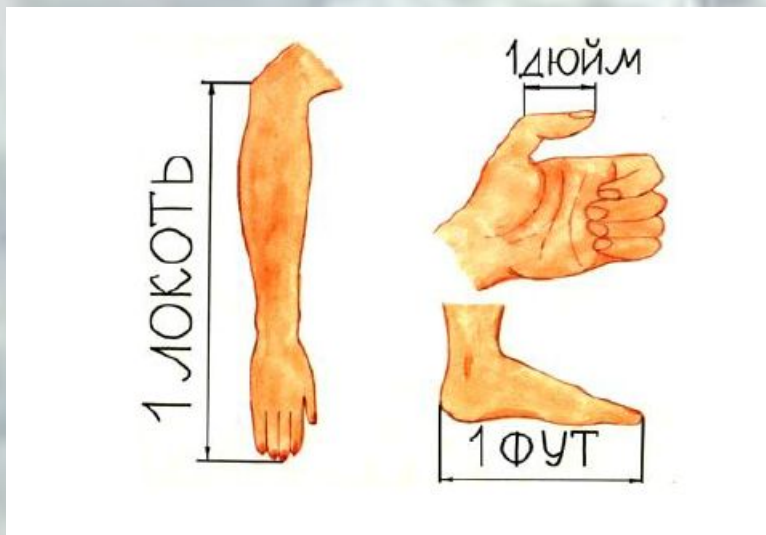


Математика

Числа , полученные при измерении.

4 класс 1 четверть

# Меры длины



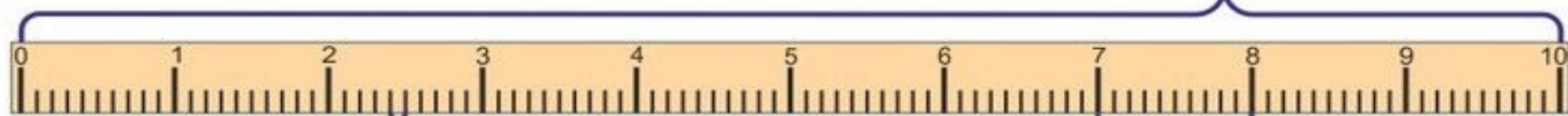
# ТАБЛИЦА МЕР ДЛИНЫ



$$1 \text{ км} = 1\,000 \text{ м}$$

1 км

1 м



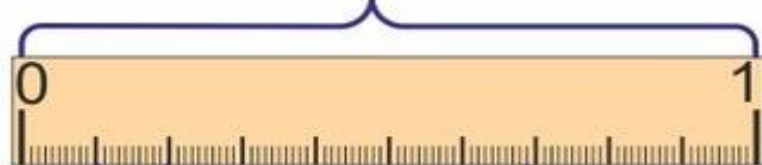
1 см

1 дм

$$1 \text{ м} = 10 \text{ дм} = 100 \text{ см}$$

$$1 \text{ дм} = 10 \text{ см} = 100 \text{ мм}$$

$$1 \text{ см} = 10 \text{ мм}$$



1 см

1 мм

# Меры длины



СМ=



ММ



ДМ=



СМ



ДМ =



ММ



М=



СМ



КМ=



М

СМ-сантиметр  
ММ-миллиметр  
М-метр  
ДМ-дециметр  
КМ-километр  
обозначения мер  
длины

## Ход урока.

Вспомним известные меры длины.



---

### Задание.

**Сравнение единиц измерения длины.**

**1м \* 1см**

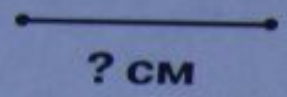
**1дм \* 1см**

**2м50см \* 2м05см**

**3м02см \* 3м2дм**



Измерь, какой длины верёвочка у мальчика.



У кого письмо длиннее? Сравни.



Мышка хочет побыстрее добежать до сыра. Какая дорожка короче? Измерь их и сравни.

