


ПОДГОТОВКА К ГИА ПО МАТЕМАТИКЕ ЗАДАНИЯ 10

ГИА

2012
mathgia.ru

Открытый банк заданий по математике 

Тренировочные
работы

Документы

Каталог по
заданиям

Каталог по
содержанию

Каталог по
умениям

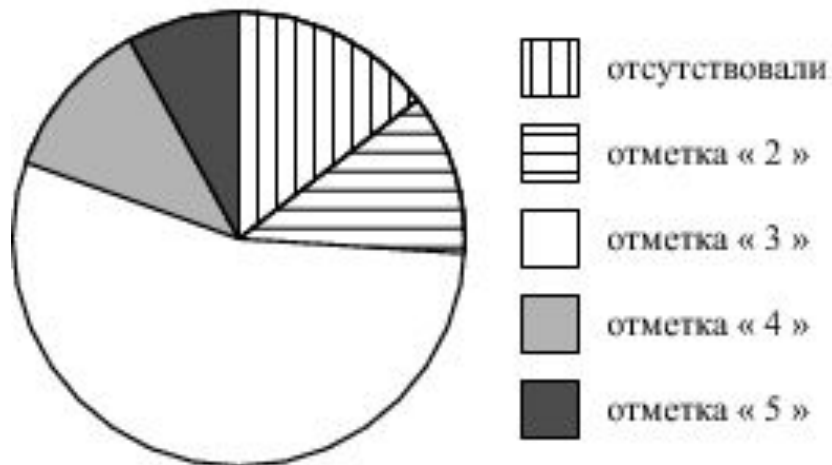
О проекте

Контакты

УЧИТЕЛЬ: Чернышова А.В.

ДЕМОВЕРСИЯ

Завуч школы подвёл итоги контрольной работы по математике в 9-х классах. Результаты представлены на круговой диаграмме.



Сколько примерно учащихся получили положительную отметку «3», «4» или «5», если всего в школе 120 девятиклассников?

Варианты ответа

1.

более 100
учащихся

2.

около 70
учащихся

3.

около 90
учащихся

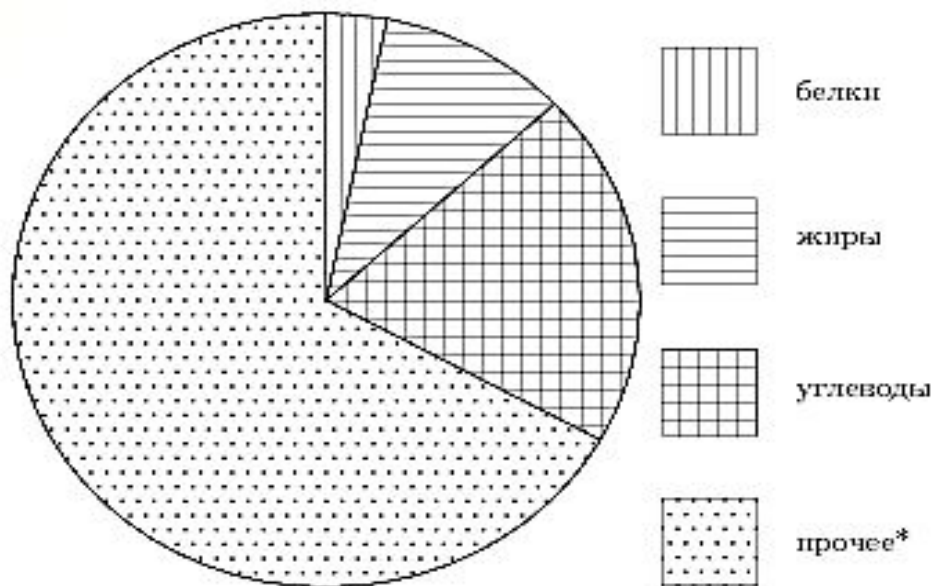
4.

менее 60
учащихся

№ 206046

На диаграмме показано содержание питательных веществ в сливочном мороженом. Определите по диаграмме, содержание каких веществ преобладает.

мороженое



*-к прочему относятся вода, витамины и минеральные вещества.

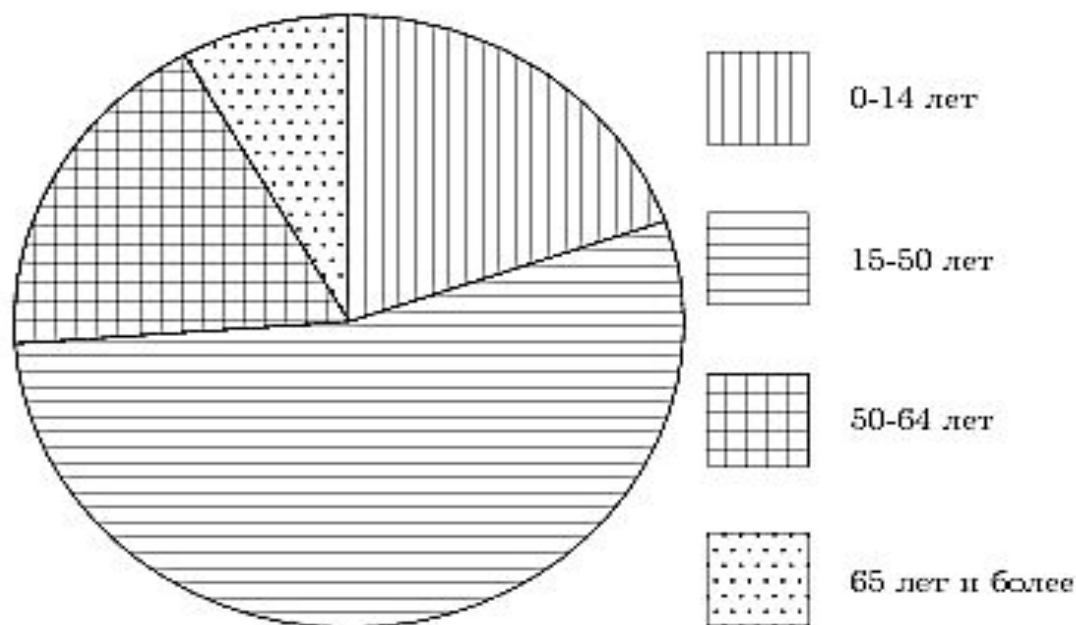
Варианты ответа

1. жиры
2. белки
3. углеводы
4. прочее

№ 206048

На диаграмме показан возрастной состав населения Китая. Определите по диаграмме, население какого возраста составляет более 50% от всего.

Китай



Варианты ответа

1.

0-14 лет

2.

15-50 лет

3.

51-64 лет

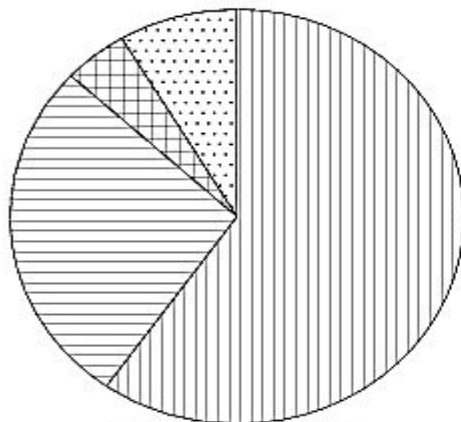
4.

65 и более

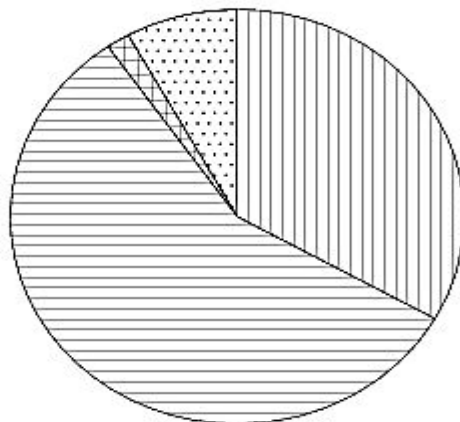
№ 206050

На диаграмме показано распределение земель Уральского, Приволжского, Южного и Дальневосточного Федеральных округов по категориям. Определите по диаграмме, в каком округе доля земель сельскохозяйственного назначения наименьшая.

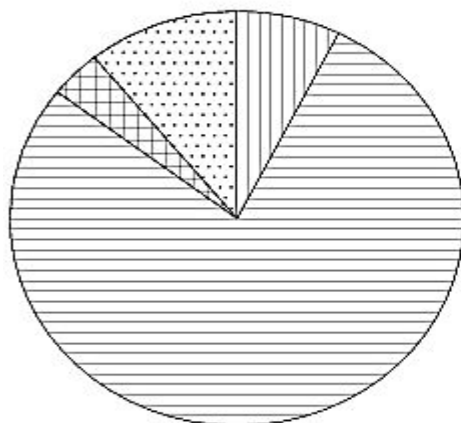
Уральский ФО



Приволжский ФО



Южный ФО



Д.-В. ФО



Земли лесного фонда



Земли сельскохозяйственного назначения



Земли запаса



Прочее*

*прочее — это земли поселений; земли промышленности и иного специального назначения; земли особо охраняемых территорий и объектов.

Варианты ответа

1.

Уральский
ФО

2.

Приволжский
ФО

3.

Южный ФО

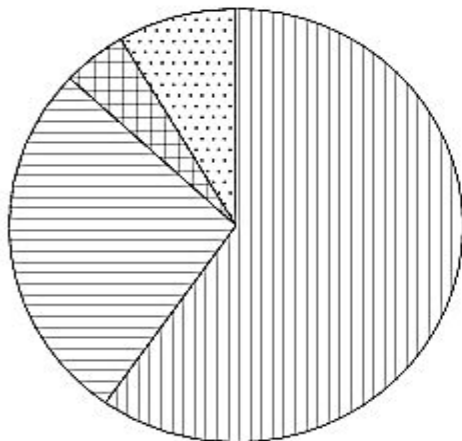
4.

Дальневосточный
ФО

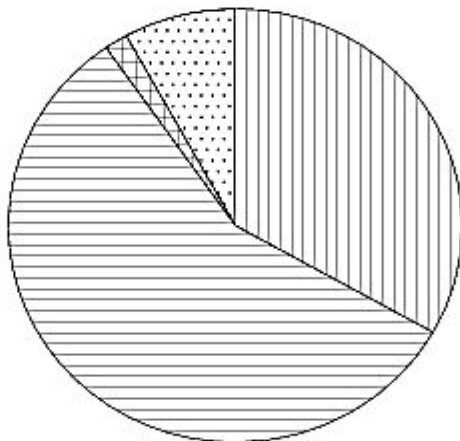
№ 206051

На диаграмме показано распределения земель Уральского, Приволжского, Южного и Дальневосточного Федеральных округов по категориям. Определите по диаграмме, в каком округе доля земель лесного фонда превышает 70%.

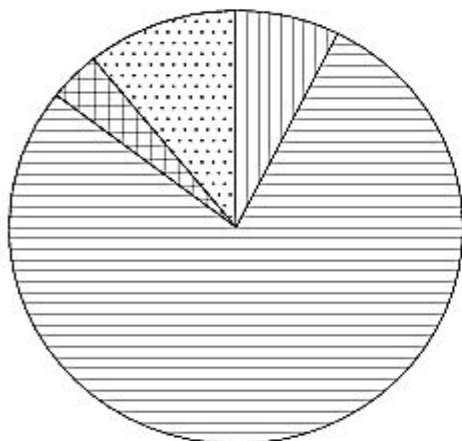
Уральский ФО



Приволжский ФО



Южный ФО



Д.-В. ФО



Земли лесного фонда



Земли сельскохозяйственного назначения



Земли запаса



Прочее*

*прочее — это земли поселений; земли промышленности и иного специального назначения; и земли особо охраняемых территорий и объектов.

Варианты ответа

1.

Уральский
ФО

2.

Приволжский
ФО

3.

Южный ФО

4.

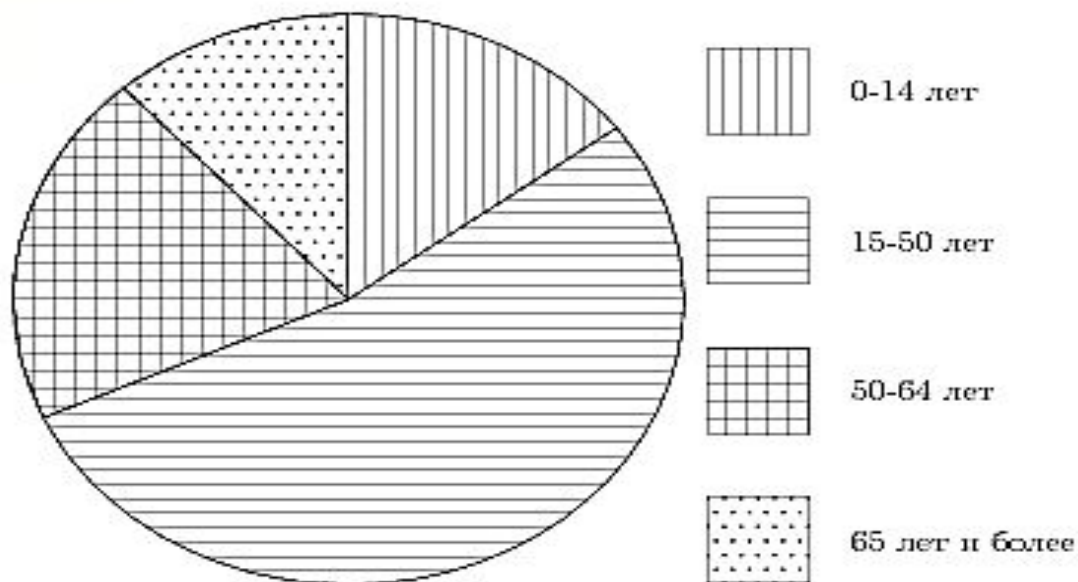
Дальневосточный
ФО

АНАЛОГИЧНЫЕ ЗАДАНИЯ

№ 206063

На диаграмме показан возрастной состав населения России. Определите по диаграмме, население какого возраста преобладает.

Россия



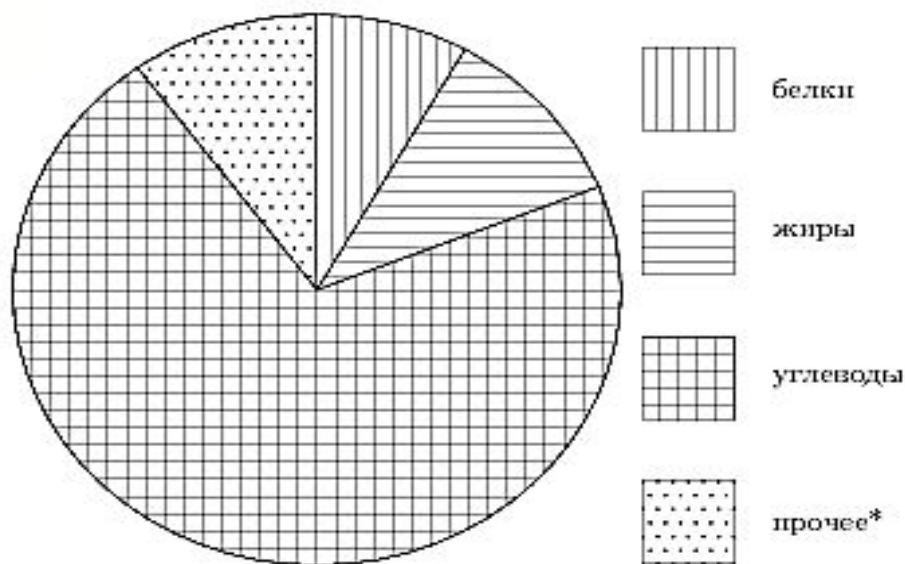
Варианты ответа

1. 0-14 лет
2. 15-50 лет
3. 51-64 лет
4. 65 лет и более

№ 206055

На диаграмме показано содержание питательных веществ в сливочных сухарях. Определите по диаграмме, содержание каких веществ преобладает.

сухари



*-к прочему относятся вода, витамины и минеральные вещества.

Варианты ответа

1.

жиры

2.

белки

3.

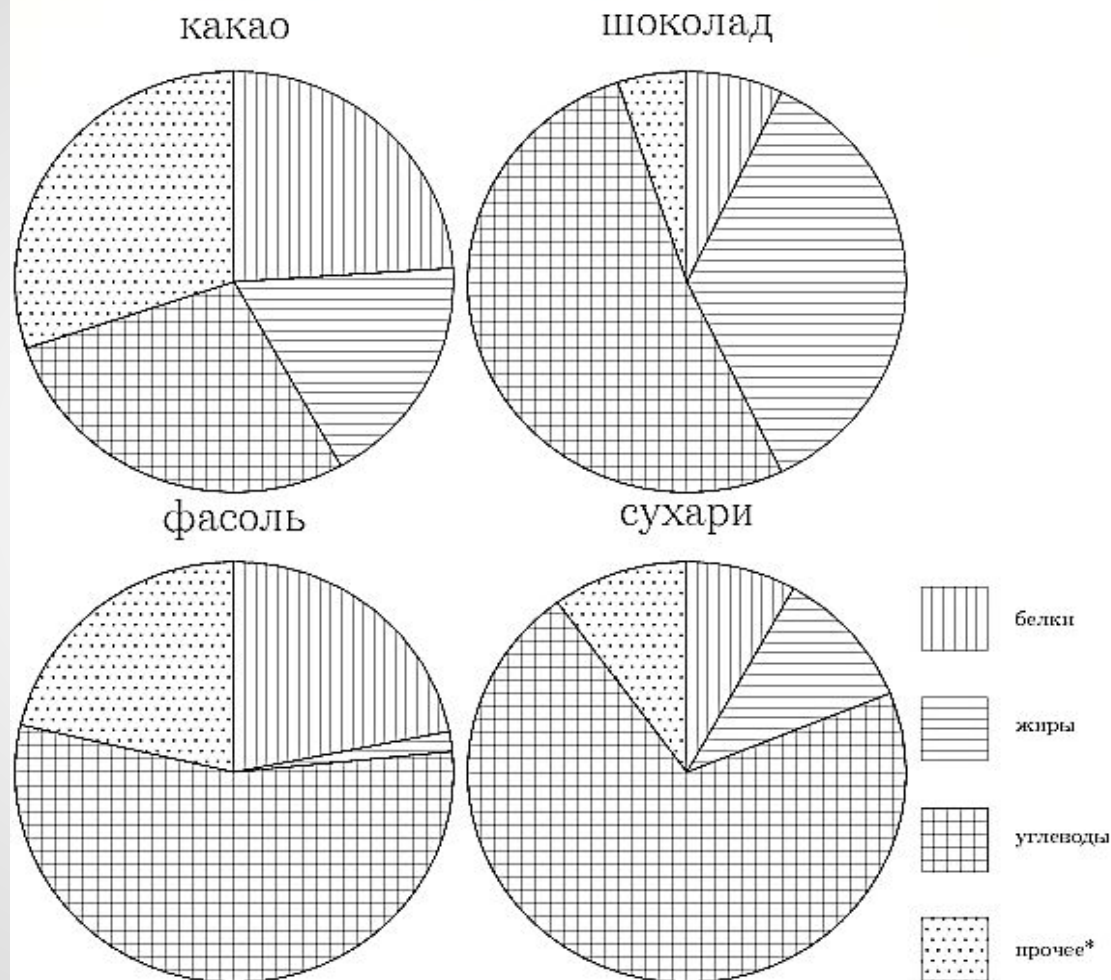
углеводы

4.

прочее

№ 206137

На диаграмме показано содержание питательных веществ в какао, молочном шоколаде, фасоли и сливочных сухарях. Определите по диаграмме, в каком продукте содержание углеводов наименьшее.



Варианты ответа

*-к прочему относятся вода, витамины и минеральные вещества.

1.

какао

2.

шоколад

3.

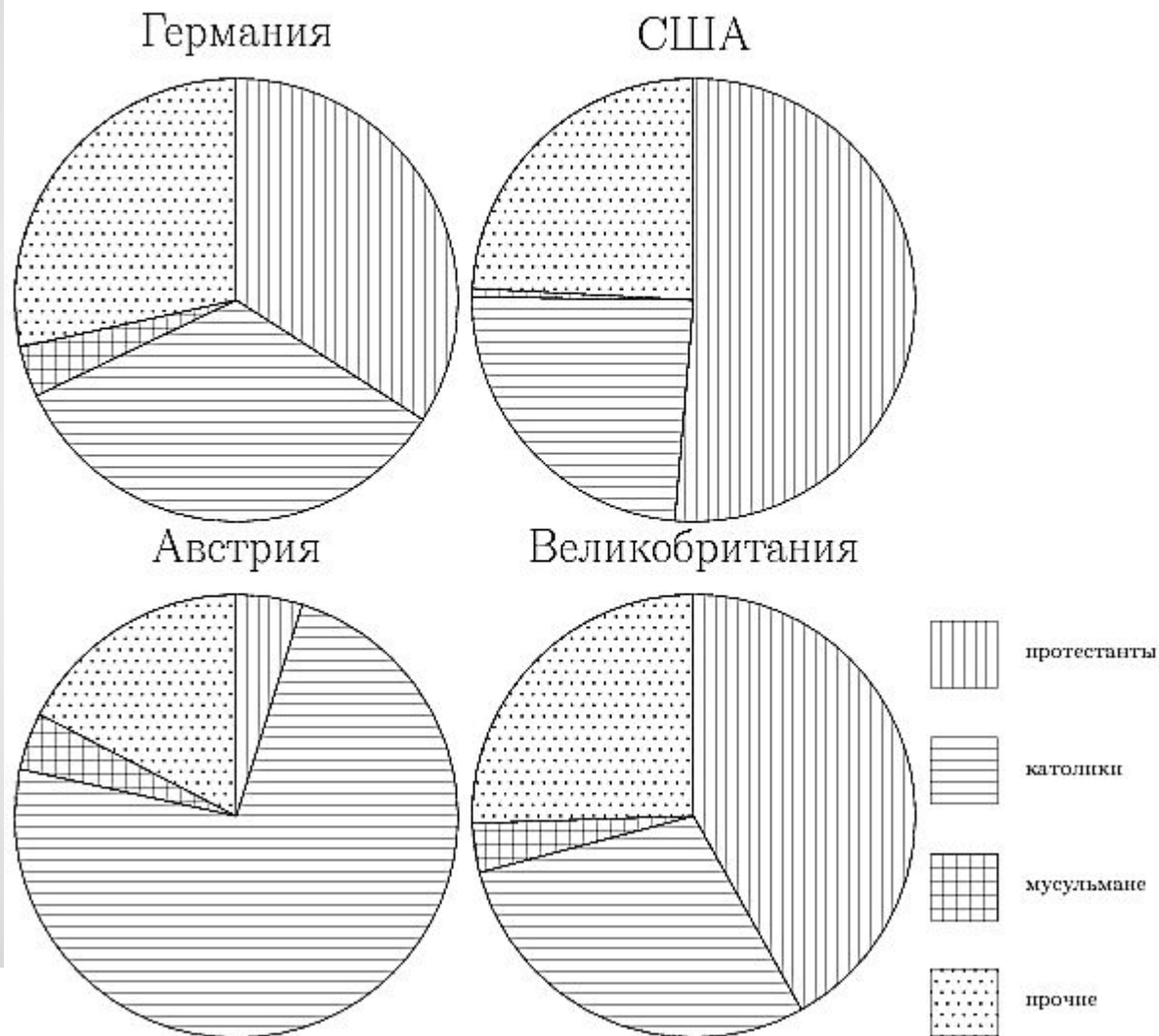
фасоль

4.

сухари

№ 206145

На диаграмме показаны религиозные составы населения Германии, США, Австрии и Великобритании. Определите по диаграмме, в какой стране доля протестантов наименьшая.



Варианты ответа

1.

Германия

2.

США

3.

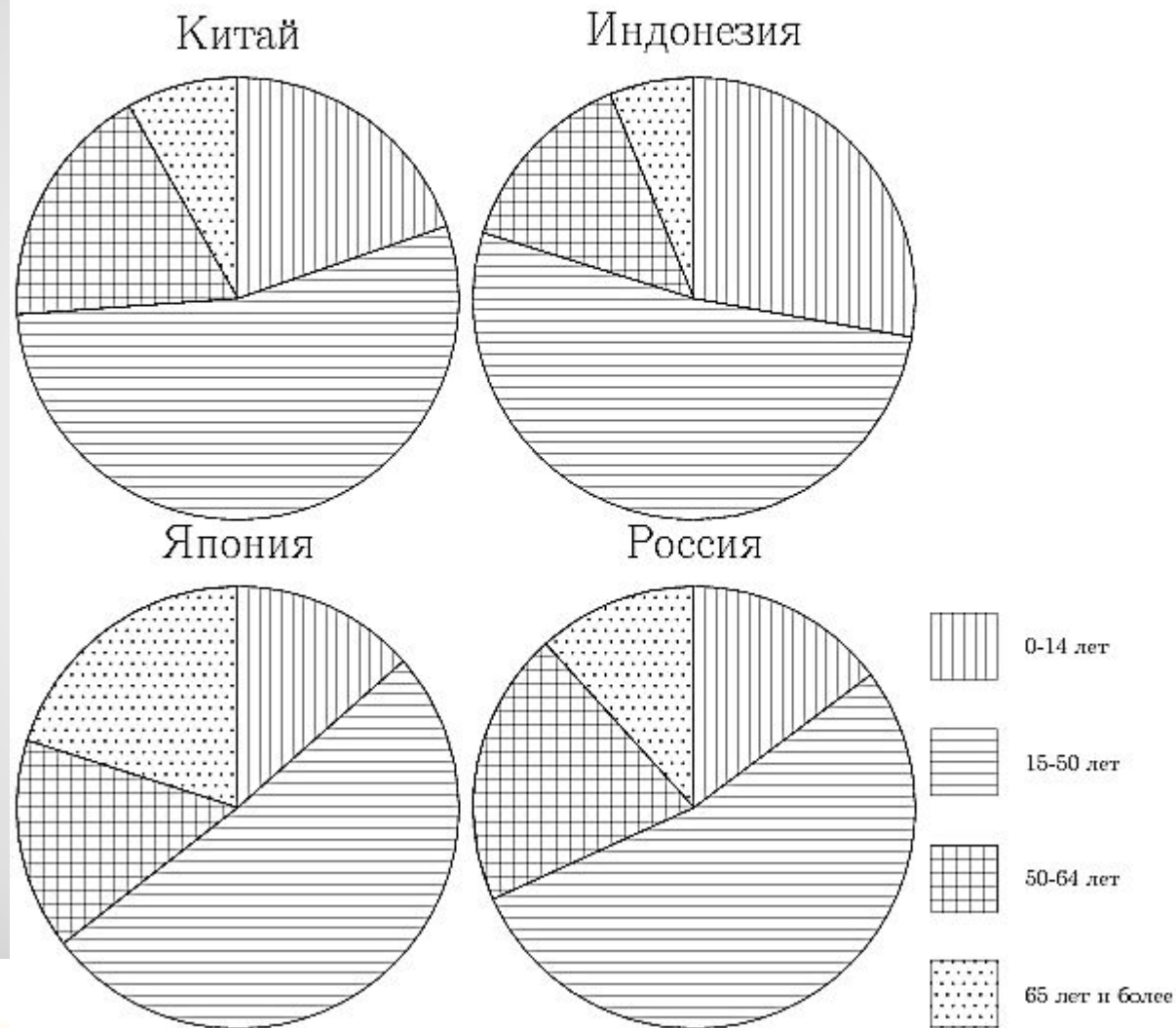
Австрия

4.

Великобритания

№ 206155

На диаграммах показаны возрастные составы населения Китая, Индонезии, Японии и России. Определите по диаграмме, в какой из стран доля населения 15-50 лет наименьшая.



Варианты ответа

1. Китай
2. Индонезия
3. Япония
4. Россия