




Сложение и вычитание многозначных чисел

Чек математики, 4 класс,
УМК "Школа России"

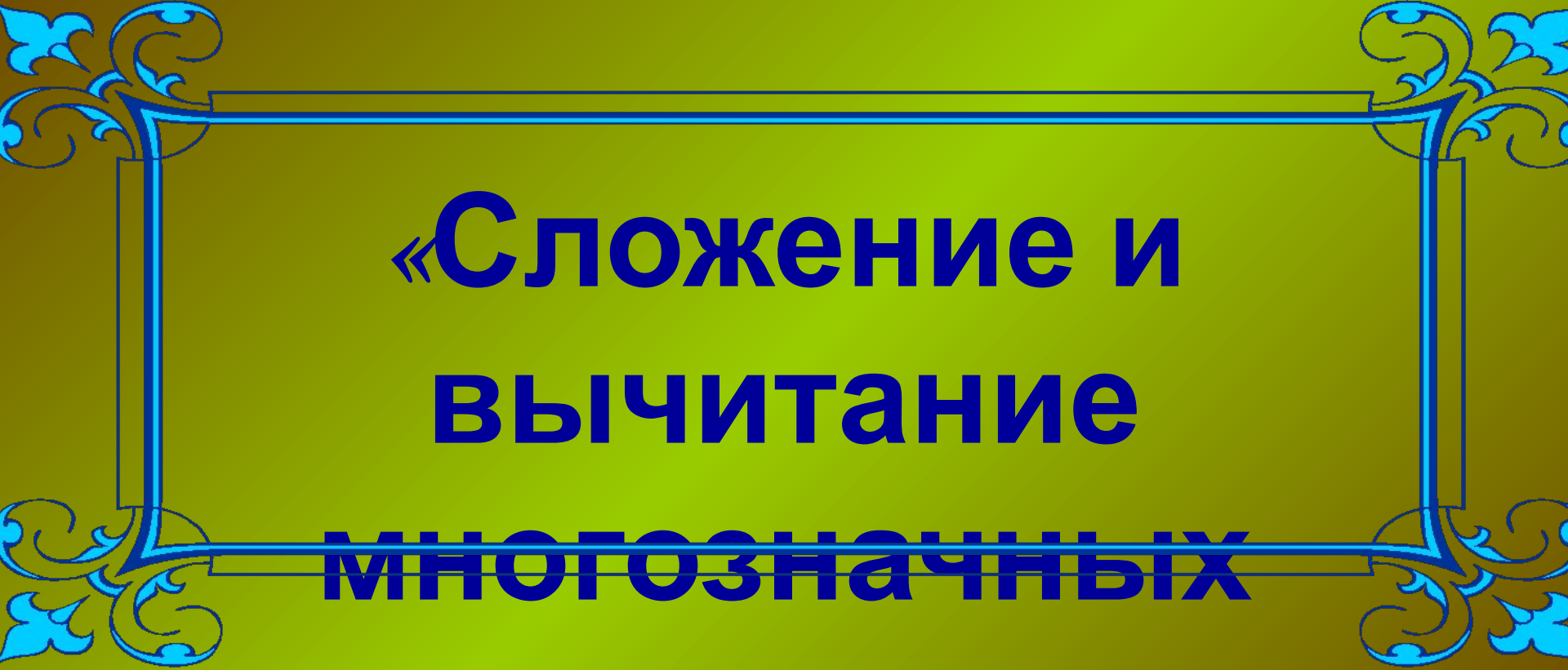


Автор: Горбачева Елена Афанасьевна
учитель МКОУ СОШ №7
г. Киров Калужской обл.




Путешествие в сказку





**«Сложение и
вычитание
многозначных
чисел»**










На платье маме потребуется 3000 см ткани,
младшей дочери в 3 раза меньше, чем
матери,
а старшей дочери на 1000 см больше,
чем младшей дочери. Сколько всего метров
ткани потребуется на все платья?



Физкультминутка





Сравните величины:

7 м 20 см

<

840 см



60 дм

>

5 м 6 дм



ВЫРАЗИТЕ ВЕЛИЧИНЫ В КИЛОГРАММАХ И ГРАММАХ:

РИС 3004 г = 3 кг 4 г

ПШЕНО 5200 г = 5 кг 200 г

ГРЕЧКУ 4050 г = 4 кг 50 г









Страница 69, №5









РЕШИТЕ УРАВНЕНИЯ:

I ВАРИАНТ


$$X + 150 = 450$$

$$X - 200 = 900$$

II ВАРИАНТ

$$X - 150 = 620$$

$$X + 25 = 200$$





ДО НОВЫХ

ВСТРЕЧ!



Список используемых источников

Литература

1. Моро М.И. и др. Математика. Учебник для 4 класса начальной школы, в двух частях. М. Просвещение 2009

Источники иллюстраций

Золушка и фея - http://i39.piczo.com/view/1/5/q/p/s/d/x/c/m/h/t/5/img/i118558926_88288.gif?redirsrc=img

Золушка - http://img0.liveinternet.ru/images/attach/c/0/48/299/48299788_zolushka.jpg

Золушка и Принц - <http://dl2.glitter-graphics.net/pub/427/427362nmapjtvf4p.gif>;

<http://i.current.com/images/asset/907/883/92/4nKzEd.jpg>

Бал - <http://mic.granit.ru/getfile.aspx?DocID=6770>

Туфелька - <http://file.mobilmusic.ru/69/e2/b5/741310.gif>