

В ЦАРСТВЕ МАТЕМАТИКИ




6 В КЛАСС

УЧИТЕЛЬ ИСАЕВА О.А.



- 1. Треугольник** - символизирует лидерство. Самой характерной особенностью человека, выбравшего этот символ, является способность концентрироваться на главной цели. Это сильная, энергичная, неудержимая личность. «Треугольник» ставит ясные цели и старается, по возможности, достичь их.
- 2. Квадрат.** Основное качество личности, отдавшей предпочтение квадрату, - трудолюбие, усердие, потребность доводить начатое дело до конца, упорство в достижении цели. «Квадрат» предпочитает раз и навсегда заведенный порядок: все должно находиться на своем месте и происходить в свое время.
- 3. Круг** - самая доброжелательная фигура. Владелец этого символа счастлив, когда все ладят друг с другом; круг ощущает чужую радость и боль, как свою собственную. Это очень чувствительная и эмоциональная натура.






МАТЕМАТИЧЕСКИЙ АЛФАВИТ



ВЕСЁЛЫЕ ЗАДАЧКИ



1. Мы только с парохода,
Мы только из похода
Одиннадцать недель
Гостили на воде.
А сколько это дней?




2. Пара лошадей пробежала 40 км. Сколько пробежала каждая лошадь?



3. Летела стая гусей: один гусь впереди и два позади; один позади и два впереди; один гусь между двумя и три в ряд. Сколько было всего гусей?



ВЕСЁЛЫЕ ЗАДАЧКИ



4. Слушайте внимательно! Я вошел в автобус и пересчитал пассажиров. Их было 17. Автобус тронулся. Затем остановился. На первой остановке пошло 6 человек, вышло 2. На следующей вошло 10 человек. На следующей вошло 3, вышло 8 человек. На следующей вошло 4, никто не вышел. Затем на остановке один гражданин вошел с целой кучей обновок. Сколько же было остановок?




5. Если дождь идет в двенадцать часов ночи, то будет ли ровно через 72 часа солнечная погода?

6. На лесопилке каждую минуту разделочная машина отрезает от бревна кусок длиной в 1 метр. За какое время окажется распилено на подобные части дерево длиной 10 метров?



ВЕСЁЛЫЕ ЗАДАЧКИ



7. «Вот Вам 3 таблетки, - сказал доктор. –
Принимайте по одной через каждые два часа».
Через сколько времени будет принята
последняя таблетка?



8. Шел муж с женой, брат с сестрой да
шурин с зятем, много ль всех?



9. У одного старика спросили, сколько ему лет. Он
ответил, что ему сто лет и несколько месяцев, но дней
рождения у него было всего 25. Как это могло быть?

ЗАДАЧИ ИЗ КНИГ XVIII ВЕКА

"Смекалистый слуга»

Постоялец гостиницы обвинил слугу в краже всех его денег. Смекалистый слуга сказал так: «Это правда, я украл все, что он имел». Тогда слугу спросили о сумме украденных денег, и он ответил: «Если к украденной мною сумме прибавить еще 1 рубль, то получится мое годовое жалованье, а если к сумме его денег прибавить 20 рублей, получится вдвое больше моего жалованья».



Сколько денег было у постояльца и сколько рублей в год получал слуга?

ЗАДАЧИ ИЗ КНИГ XVIII ВЕКА

"Сколько лет сыну?"



"Сколько лет твоему сыну?"
спросил один человек у своего
приятеля. Приятель ответил:
"Если к возрасту моего сына
прибавить столько же да еще
половину, то будет 10 лет".
Сколько лет сыну?"

ЗАДАЧИ ИЗ КНИГ XVIII ВЕКА


«Сколько у кого денег?»

Двое крестьян поделили между собой 7 рублей, причем один получил на 3 рубля больше другого. Сколько денег осталось каждому из них?





ДОМАШНЕЕ ЗАДАНИЕ



КОНКУРС «А ЧТО ЭТО ТАКОЕ?»





УДИВИТЕЛЬНЫЕ СВОЙСТВА ЛИСТА МЁББИУСА





**НАГРАЖДЕНИЕ
КОМАНДЫ –
ПОБЕДИТЕЛЬНИЦЫ!**

**СПАСИБО ЗА
ВНИМАНИЕ!**

