

# МАССА

УРОК МАТЕМАТИКИ В 1 КЛАССЕ



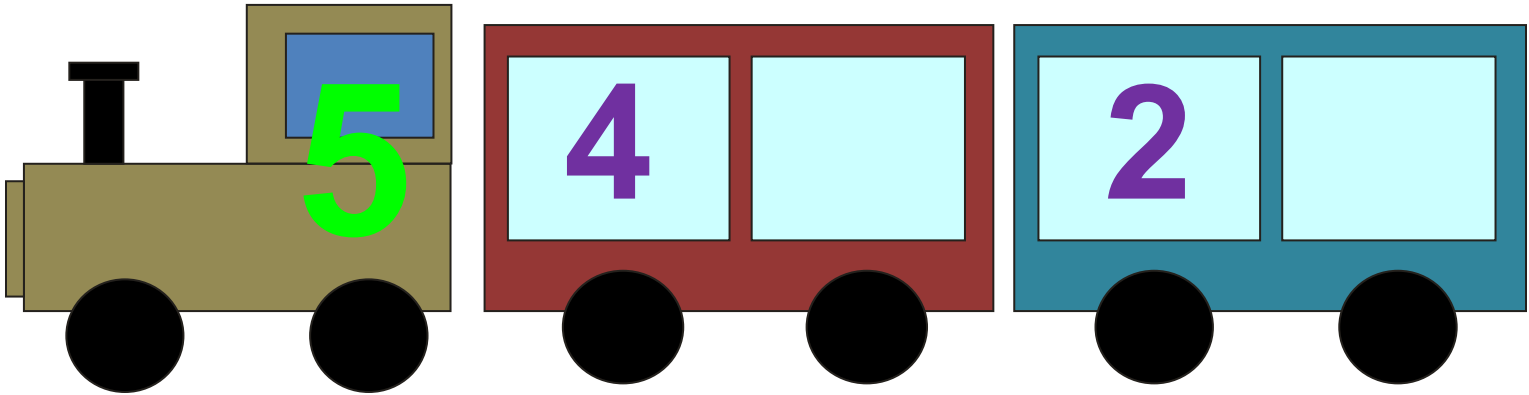
МБОУ «СТАРОИБРАЙКИНСКАЯ  
ОБЩЕОБРАЗОВАТЕЛЬНАЯ СРЕДНЯЯ  
ШКОЛА АКСУБАЕВСКОГО  
МУНИЦИПАЛЬНОГО РАЙОНА РТ»

ХУСНУЛГАТИНА ЛЕЙСАН МИНАХМЕТОВНА

4



5



1




2



3





**Я > Г**



**О = Л**



**А < Б**



# Древние единицы массы

Карат- 0,2 г

Талант

Гривна (409,5 г)- фунт

Пуд – 16,38 кг

Золотник – 12, 8 г



1 килограмм — 1 кг

# Единицы массы

Грамм

**Килограмм**

Центнер

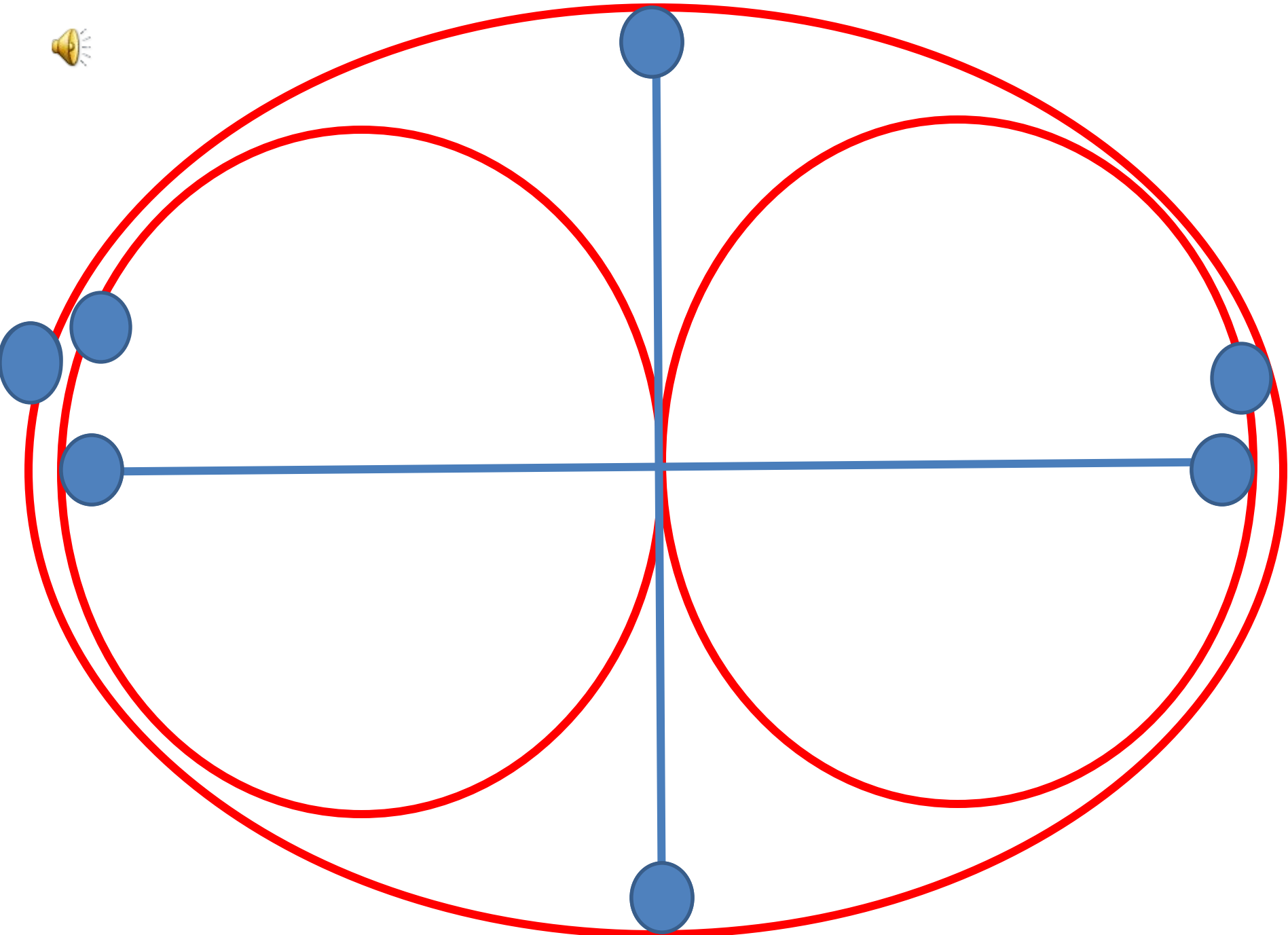
Тонна



Для взвешивания предмета надо сделать следующие шаги:

- Положить предмет на одну чашку весов.
- Устанавливая гири – эталоны на другую чашку, добиться равновесия.
- Найти сумму масс всех гирь на второй чашке.
- Полученное число килограммов – искомое.





# ПОДУМАЙ!

Индюк весит 10 кг. Сколько он будет весить, если встанет на одну ногу?



# ПОДУМАЙ!

В большом ящике лежало 9 кг муки, а в маленьком ящике 9 кг гвоздей. Какой ящик тяжелее?





**Молодцы!**