

**ТЕСТОВАЯ РАБОТА
ПО МАТЕМАТИКЕ
ДЛЯ УЧАЩИХСЯ
2 КЛАССА**

**ВЫПОЛНИЛ: МАТУСЕВИЧ СВЕТЛАНА
АЛЕКСАНДРОВНА**

**МБОУ «СОШ №1 ИМ. Б.Н.КУЛИКОВА
Г.СЕМИКАРАКОРСКА»**

ИНТЕРНЕТ – РЕСУРСЫ: [HTTP://WWW.PROSHKOLU.RU/CLUB/REBYS/FILE2/3520396](http://www.proshkolu.ru/club/rebys/file2/3520396)

Начать тест

Результат теста

Верно: 8

Ошибки: 0



Отметка: 5

Время: 0 мин. 27 сек.


ещё



Выбери лучи




Сколько на чертеже отрезков ?



3

4

6



Сколько на чертеже лучей ?



3

5

4



Сколько на чертеже прямых ?






1

2

3



У каких фигур есть хотя бы один прямой угол?



исправить

ответ готов!



У каких фигур все углы могут быть прямыми ?

прямоугольник

ромб

треугольник

квадрат

пятиугольник

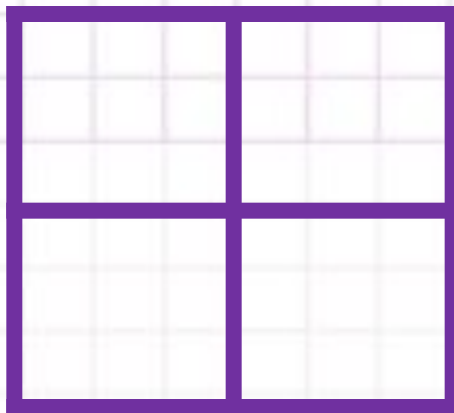
трапеция

исправить

ответ готов!



Сколько на чертеже прямоугольников?



4

9

5



ИСПРАВЬ ОШИБКИ!

