

УСТНЫЙ


СЧЁТ





Вычисли.

Проверь себя, нажав на

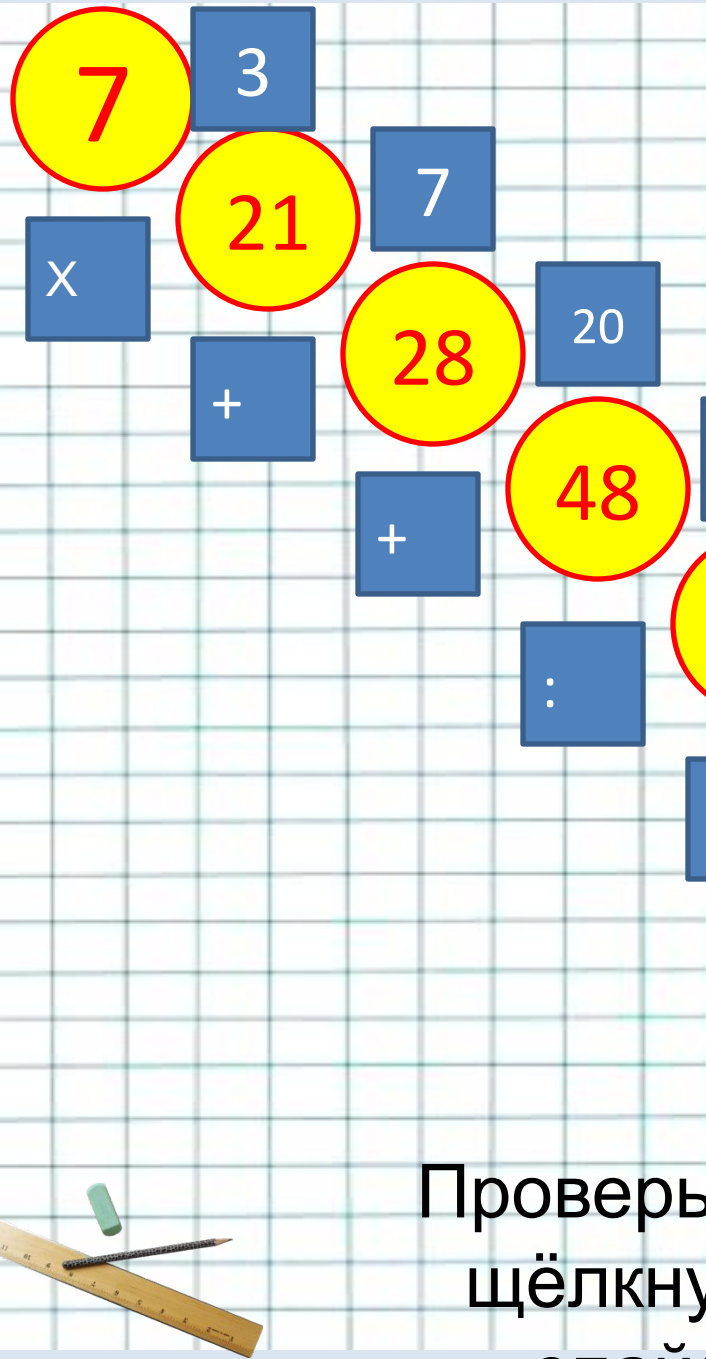
$220 \times 3 + 340 =$  звёздочку.  $1000$

$3000 + (6400 : 8) =$    $3800$

$6000 - (2000 - 60 \times 3) =$    $4180$

$1000 - (200 + 210 : 3) =$    $730$





В нижнем левом углу  
экрана  
выбери фломастер.

Запиши

нужную цифру в синих  
квадратах.

Проверь себя,  
щёлкнув по  
спайду.



Вычисли:

$$96:4$$

а) 2



б) 92



г) 26



в) 34



4

Вычисли:

$$72:4$$

а)

68



б) 28



г) 16



в) 18



Верный ответ





Если  $c=54$ , то

$c:6=9$   
Если  $C=6$ , то

$5 \times C=35$   
Если  $c=9$ , то 18:

Если  $c=12$ , то

$c+10=22$   
Если  $c=15$ , то 18-  
 $c=2$



+



-



+



+



-

Если утверждение верно, поставь в синем овале фломастером +, если неверно -

-



Если  $A=15$ ,  $C=3$ , то

+



$A \times C=48$   
Если  $a=19$ ,  $c=31$ , то

+



$a+c=50$   
Если  $a=65$ ,  $c=26$ , то  $a-$

+



$c=39$   
Если  $a=72$ ,  $c=8$ , то  $a:$

-



$c=9$   
Если  $a=54$ ,  $c=28$ , то  $a-$


$c=20$



Какое из этих чисел  
наименьшее?

а) 12345

6



б) 102345



в) 123450



Щёлкни по цифре, верный  
ответ -



Масса свёклы в каждом ящике 18 кг, а масса каждого ящика 2 кг. Чему равна масса 5 ящиков со свёклой?

1) 90 кг



2) 10 кг



3) 100 кг



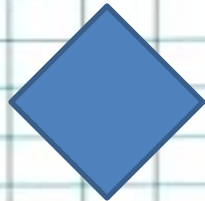
4) 96 кг



Ребята смотрели спектакль в школьном зале. В трёх рядах сидели по 15 человек и ещё в одном ряду 12 человек. Сколько ребят смотрело спектакль?

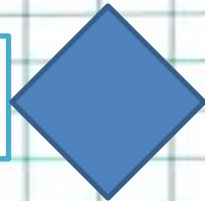
1)

45 человек




2) 27

человек



3) 60

человек



4) 57

человек





Молодцы!!!

!

